



## Wydział Test

Pytanie 1

Punkty maks.:  
1,00

Z państwowego zasobu geodezyjnego i kartograficznego udostępnia się:

Wybierz wszystkie poprawne:

- a. oryginały materiału zasobu poza miejsce jego przechowywania, jeżeli jest to niezbędne do wykonania zadań publicznych określonych przez ustawy
- b. kopie materiałów zasobu
- c. wyłącznie kopie materiałów zasobu
- d. oryginał materiału zasobu, w miejscu jego przechowywania w obecności pracownika wyznaczonego przez organ prowadzący zasób, w przypadku materiałów zasobu w postaci nielektronicznej

Pytanie 2

Punkty maks.:  
1,00

W zakresie prac geodezyjnych mających znaczenie dla obronności i bezpieczeństwa państwa Główny Geodeta Kraju współdziała z:

Wybierz wszystkie poprawne:

- a. Służbą Kontrwywiadu Wojskowego
- b. Ministrem Obrony Narodowej
- c. Prezesem Rady Ministrów
- d. Agencją Bezpieczeństwa Wewnętrznego

Pytanie 3

Punkty maks.:  
1,00

O dokonanych zmianach w danych ewidencyjnych starosta, w terminie 14 dni od dokonania zmiany w ewidencji, zawiadamia:

Wybierz wszystkie poprawne:

- a. wydział ksiąg wieczystych właściwego miejscowo sądu rejonowego - w przypadku zmian danych objętych działem IV ksiąg wieczystych
- b. wydział ksiąg wieczystych właściwego miejscowo sądu rejonowego - w przypadku zmian danych objętych działem I ksiąg wieczystych
- c. organy ścigania
- d. organy podatkowe

Pytanie 4

Punkty maks.:  
1,00

Podaj kolejność ustalania granicy w rozgraniczeniowym postępowaniu administracyjnym:

Wybierz wszystkie poprawne:

- a. wg stanu prawnego- wg zgodnego oświadczenia stron - wg znaków i śladów granicznych i innych dokumentów
- b. wg stanu prawnego- wg znaków i śladów granicznych i innych dokumentów – wg zgodnego oświadczenia stron
- c. w dowolnej kolejności
- d. wg znaków i śladów granicznych i innych dokumentów - wg stanu prawnego– wg zgodnego oświadczenia stron

Pytanie 5

Punkty maks.:  
1,00

Podziału na obręby ewidencyjne i określenia ich granic dokonuje:

Wybierz wszystkie poprawne:

- a. starosta w uzgodnieniu z Głównym Geodetą Kraju
- b. starosta w uzgodnieniu z właściwą radą gminy
- c. wójt
- d. wójt w uzgodnieniu z właściwą jednostką statystyki publicznej

Pytanie 6

Punkty maks.:  
1,00

Do zadań marszałka województwa, jako organu administracji geodezyjnej i kartograficznej, należy między innymi:

Wybierz wszystkie poprawne:

- a. wykonywanie i udostępnianie kartograficznych opracowań tematycznych dla obszaru kraju

- b. prowadzenie wojewódzkiej bazy GESUT
- c. analiza zmian w strukturze agrarnej oraz programowanie i koordynacja prac urzędniowo-rolnych
- d. prowadzenie powiatowego zasobu geodezyjnego i kartograficznego

Pytanie **7**

Punkty maks.:  
1,00

Uchwały podejmowane przez Radę Ministrów :

Wybierz wszystkie poprawne:

- a. obowiązują tylko jednostki organizacyjnie podległe organowi wydającemu te akty
- b. mają charakter wewnętrzny
- c. mają charakter zewnętrzny
- d. obowiązują na terenie całego kraju

Pytanie **8**

Punkty maks.:  
1,00

Operat techniczny zaewidencjonowany w roku 2018 pod numerem 2 w wojewódzkim zasobie geodezyjnym i kartograficznym (lubelskim-kod TERYT 06) ma nadany numer ewidencyjny:

Wybierz wszystkie poprawne:

- a. 2018.W.LUB.2
- b. W.LUB.2018.2
- c. W.06.2018.2
- d. LUB.W.2018.2

Pytanie **9**

Punkty maks.:  
1,00

Wzory klauzul urzędowych, którymi opatruje się dokumenty i materiały przeznaczone dla podmiotu, na rzecz którego wykonawca prac geodezyjnych wykonał prace geodezyjne:

Wybierz wszystkie poprawne:

- a. określone są w załączniku do rozporządzenia w sprawie organizacji i trybu prowadzenia państwowego zasobu geodezyjnego i kartograficznego
- b. nie są określone przepisem prawa
- c. określone są przez Głównego Geodetę Kraju
- d. określone są przez właściwy organ obsługujący zgłoszenie prac geodezyjnych

Pytanie **10**

Punkty maks.:  
1,00

Powiatową bazę GESUT tworzy i prowadzi się w systemie teleinformatycznym na podstawie:

Wybierz wszystkie poprawne:

- a. materiałów przyjętych do państwowego zasobu geodezyjnego i kartograficznego
- b. dokumentów, które były wynikiem narad koordynacyjnych
- c. danych i informacji pozyskanych od podmiotów władających sieciami uzbrojenia terenu
- d. danych i informacji pozyskanych z innych rejestrów publicznych

Pytanie **11**

Punkty maks.:  
1,00

Termin uważa się za zachowany, jeżeli przed jego upływem pismo zostało:

Wybierz wszystkie poprawne:

- a. złożone w polskim urzędzie konsularnym
- b. złożone przez osobę pozbawioną wolności w administracji zakładu karnego
- c. wysłane w formie dokumentu elektronicznego do organu administracji publicznej, a nadawca otrzymał urzędowe poświadczenie odbioru
- d. nadane w polskiej placówce pocztowej operatora wyznaczonego w rozumieniu ustawy z dnia 23 listopada 2012 r. – Prawo pocztowe albo placówce pocztowej operatora świadczącego pocztowe usługi powszechne w innym państwie członkowskim Unii Europejskiej, Konfederacji Szwajcarskiej albo państwie członkowskim Europejskiego Porozumienia o Wolnym Handlu (EFTA) – stronie umowy o Europejskim Obszarze Gospodarczym

Starosta wyznaczając sposób, termin i miejsce przeprowadzenia narady koordynacyjnej zawiadamia o tym między innymi:

Wybierz wszystkie poprawne:

Pytanie **12**Punkty maks.:  
1,00

- a. zarządzających terenami zamkniętymi, w przypadku sytuowania części projektowanych sieci na tych terenach
- b. wnioskodawców koordynacji
- c. wójtów (odpowiednio burmistrzów, prezydentów miast), na obszarze właściwości których mają być sytuowane projektowane sieci uzbrojenia terenu
- d. podmioty władające sieciami uzbrojenia terenu

Pytanie **13**Punkty maks.:  
1,00

Szkic tyczenia zawiera m.in.  
Wybierz wszystkie poprawne:

- a. rysunek obiektów podlegających wytyczeniu
- b. wyniki pomiaru kontrolnego wytyczonych elementów obiektów
- c. podpis inwestora
- d. podpis kierownika budowy

Pytanie **14**Punkty maks.:  
1,00

Ulice leżące w ciągu dróg krajowych należą:  
Wybierz wszystkie poprawne:

- a. do dróg krajowych
- b. do dróg powiatowych
- c. do dróg wojewódzkich
- d. do dróg alternatywnych

Pytanie **15**Punkty maks.:  
1,00

Projekt osnowy grawimetrycznej jest zatwierdzany przez:  
Wybierz wszystkie poprawne:

- a. starostę
- b. wojewódzkiego inspektora nadzoru geodezyjnego i kartograficznego
- c. Głównego Geodetę Kraju w porozumieniu z Ministrem Obrony Narodowej
- d. geodetę województwa

Pytanie **16**Punkty maks.:  
1,00

Pomiarową osnowę wysokościową realizuje się:  
Wybierz wszystkie poprawne:

- a. metodą niwelacji siatkowej
- b. metodą niwelacji geometrycznej
- c. metodą profili podłużnych
- d. techniką kinematyczną GNSS

Pytanie **17**Punkty maks.:  
1,00

Stroną postępowania administracyjnego jest:  
Wybierz wszystkie poprawne:

- a. organ nadzoru administracji publicznej
- b. ten, kto żąda czynności organu ze względu na swój interes prawny lub obowiązek
- c. organ administracji prowadzący postępowanie
- d. każdy, czyjego interesu lub obowiązku dotyczy postępowanie

Pytanie **18**Punkty maks.:  
1,00

Protokół ze wznowienia znaków granicznych lub wyznaczenia punktów granicznych zawiera m.in.:  
Wybierz wszystkie poprawne:

- a. opis sposobu stabilizacji lub markowania punktów osnowy pomiarowej
- b. numery działek ewidencyjnych
- c. identyfikator obrębu ewidencyjnego
- d. omówienie skreśleń i poprawek

Pytanie **19**Punkty maks.:  
1,00

Infrastruktura informacji przestrzennej obejmuje zbiory danych przestrzennych:

Wybierz wszystkie poprawne:

- a. utrzymywane przez organ administracji lub w jego imieniu
- b. występujące w postaci analogowej
- c. utrzymywane przez osobę trzecią, której umożliwiono włączenie się do infrastruktury
- d. odnoszące się do terytorium Rzeczypospolitej Polskiej

Pytanie **20**Punkty maks.:  
1,00

Zawiadomienie o czynnościach podjętych w celu ustalenia przebiegu granic działek ewidencyjnych oprócz danych adresowych podmiotu, zawiera następujące informacje:

Wybierz wszystkie poprawne:

- a. pouczenie o konieczności posiadania dokumentu umożliwiającego stwierdzenie prawa nabycia nieruchomości
- b. dzień, godzinę i miejsce rozpoczęcia tych czynności
- c. oznaczenie działek ewidencyjnych, których czynności będą dotyczyć
- d. pouczenie o konieczności posiadania dokumentu umożliwiającego ustalenie tożsamości osoby biorącej udział w tych czynnościach

Pytanie **21**Punkty maks.:  
1,00

Użytki gruntowe wykazywane w ewidencji dzielą się na następujące grupy:

Wybierz wszystkie poprawne:

- a. użytki ekologiczne
- b. użytki rolne
- c. grunty rolne
- d. nieużytki

Pytanie **22**Punkty maks.:  
1,00

Które z wymienionych obiektów należą do kategorii obiektów topograficznych (BDOT500) "wody":

Wybierz wszystkie poprawne:

- a. jaz
- b. przepust
- c. molo
- d. most

Pytanie **23**Punkty maks.:  
1,00

Informacje publikowane w repozytorium interoperacyjności oznaczone są w szczególności:

Wybierz wszystkie poprawne:

- a. statusem obowiązywania
- b. nazwą
- c. wersją
- d. opisem

Pytanie **24**Punkty maks.:  
1,00

Wrys z mapy ewidencyjnej jest fragmentem mapy ewidencyjnej zawierającym również:

Wybierz wszystkie poprawne:

- a. oznaczenie kierunku północy
- b. informację o skali mapy
- c. imię i nazwisko wykonawcy prac geodezyjnych
- d. projektowane budynki

Jeżeli biegły, który bez należytego usprawiedliwienia nie stawił się na wezwanie organu prowadzącego postępowanie, organ ten może między innymi:

Wybierz wszystkie poprawne:

Pytanie **25**Punkty maks.:  
1,00

- a. ponownie wezwać biegłego
- b. nałożyć karę pieniężną w wysokości 5000 zł
- c. wyjątkowo zarządzić zatrzymanie i przymusowe doprowadzenie biegłego
- d. nałożyć karę pieniężną w wysokości do 3000 zł

Pytanie **26**Punkty maks.:  
1,00

Wyniki oceny przydatności materiałów zasobu komisja utrwała w formie protokołu, który zawiera:  
Wybierz wszystkie poprawne:

- a. podpisy członków komisji
- b. skład komisji
- c. wykaz materiałów zasobu, które w ocenie komisji utraciły przydatność użytkową
- d. uzasadnienie utraty przydatności użytkowej

Pytanie **27**Punkty maks.:  
1,00

Aktualizacji danych ewidencji miejscowości, ulic i adresów, ich uzupełnienia lub zmiany dokonuje się z urzędu w trybie czynności materialno-technicznej, w przypadku gdy:

Wybierz wszystkie poprawne:

- a. nadano nazwę ulicy w drodze decyzji wójta
- b. został nadany nowy numer porządkowy
- c. istniejąca numeracja porządkowa zawiera wady utrudniające jej wykorzystywanie
- d. obiekty przestrzenne ujawniane w ewidencji zakończyły swój cykl istnienia

Pytanie **28**Punkty maks.:  
1,00

Wyniki pomiarów długości oraz współrzędne prostokątne płaskie przy wykonywaniu geodezyjnych pomiarów sytuacyjnych:

Wybierz wszystkie poprawne:

- a. wyraża się w metrach z precyzją zapisu do 0,01 m
- b. wyraża się w metrach z precyzją zapisu do 0,001 m - dla pomiarów wymagających wyższej dokładności
- c. wyraża się w milimetrach z precyzją zapisu do 0,001 m - dla pomiarów wymagających wyższej dokładności
- d. wyraża się w milimetrach z precyzją zapisu do 0,01 m

Pytanie **29**Punkty maks.:  
1,00

Znak kartograficzny "teren zalesiony" stosuje się na mapie zasadniczej do obszaru porośniętego roślinnością leśną o powierzchni:

Wybierz wszystkie poprawne:

- a. co najmniej 1 ha
- b. co najmniej 0,01 ha
- c. co najmniej 0,10 ha
- d. co najmniej 0,10 a

Pytanie **30**Punkty maks.:  
1,00

Mapa zasadnicza to wielkoskalowe opracowanie kartograficzne, zawierające informacje o przestrzennym usytuowaniu:

Wybierz wszystkie poprawne:

- a. konturów użytków gruntowych
- b. punktów osnowy pomiarowej
- c. sieci uzbrojenia terenu
- d. urządzeń budowlanych

Pytanie **31**Punkty maks.:  
1,00

Wyróżnia się następujące metody pozyskiwania informacji o obiekcie bazy BDOT500:

Wybierz wszystkie poprawne:

- a. dane branżowe - G
- b. wektoryzacja - D

- c. dokumentacja z narady koordynacyjnej - K
- d. pomiar bezpośredni w nawiązaniu do szczegółów terenowych - M

Pytanie **32**

Punkty maks.:  
1,00

Dokumenty i materiały przeznaczone dla podmiotu, na rzecz którego wykonawca prac geodezyjnych wykonał prace geodezyjne, sporządzane w postaci nieelektronicznej opatruje się klauzulą urzędową zawierającą:

Wybierz wszystkie poprawne:

- a. podpis osoby reprezentującej organ prowadzący zasób
- b. sumę kontrolną dokumentu elektronicznego według algorytmu SHA-2 (SHA-256)
- c. identyfikator ewidencyjny operatu technicznego
- d. datę przyjęcia operatu technicznego do zasobu

Pytanie **33**

Punkty maks.:  
1,00

Księgi wieczyste :

Wybierz wszystkie poprawne:

- a. prowadzi się w celu ustalenia stanu faktycznego nieruchomości
- b. prowadzi się w celu zabezpieczenia hipoteki
- c. prowadzi się w celu ustalenia stanu prawnego nieruchomości
- d. są zastrzeżone

Pytanie **34**

Punkty maks.:  
1,00

Właściwość miejscową organu administracji publicznej w sprawach dotyczących nieruchomości ustala się według:

Wybierz wszystkie poprawne:

- a. miejsca zamieszkania właściciela nieruchomości
- b. miejsca położenia nieruchomości
- c. zgodnego ustalenia stron
- d. miejsca pobytu strony zainteresowanej

Pytanie **35**

Punkty maks.:  
1,00

Pierwszy i drugi człon identyfikatora ewidencyjnego materiału przyjętego do centralnego zasobu geodezyjnego i kartograficznego to:

Wybierz wszystkie poprawne:

- a. Litera C i litery PL
- b. Litera P i identyfikator TERYT
- c. Litera C i identyfikator TERYT
- d. Litera P i litery PL

Pytanie **36**

Punkty maks.:  
1,00

Czy zaliczenie drogi do kategorii dróg gminnych wymaga podjęcia uchwały?

Wybierz wszystkie poprawne:

- a. Tak, wymaga uchwały zarządu gminy
- b. Nie, kategoria jest zależna od treści wniosku zarządcy drogi
- c. Tak, wymaga uchwały rady gminy
- d. Nie, kategoria jest nadawana w pozwoleniu na użytkowanie

Pytanie **37**

Punkty maks.:  
1,00

Wykonawca prac geodezyjnych po wykonaniu zgłoszonych prac jest obowiązany złożyć do organu Służby Geodezyjnej i Kartograficznej:

Wybierz wszystkie poprawne:

- a. licencję na udostępnione materiały z zasobu
- b. zawiadomienie o przekazaniu wyników zgłoszonych prac
- c. protokół weryfikacji
- d. wyniki prac geodezyjnych

Pytanie **38**Punkty maks.:  
1,00

Danymi ewidencyjnymi dotyczącymi punktu granicznego są:

Wybierz wszystkie poprawne:

- a. oznaczenie punktu granicznego w materiale źródłowym
- b. identyfikator punktu granicznego
- c. rodzaj stabilizacji
- d. informacja dotycząca spełnienia standardów dokładnościowych

Pytanie **39**Punkty maks.:  
1,00

Pomiar geodezyjny w toku budowy obejmuje:

Wybierz wszystkie poprawne:

- a. sporządzenie mapy z projektem podziału nieruchomości
- b. pomiar przemieszczeń i odkształceń obiektów budowlanych lub ich podłoża
- c. geodezyjną inwentaryzację powykonawczą obiektów lub ich elementów
- d. geodezyjną obsługę budowy i montażu

Pytanie **40**Punkty maks.:  
1,00

Przegląd szczegółowej osnowy geodezyjnej przeprowadza się:

Wybierz wszystkie poprawne:

- a. raz na kwartał
- b. w miarę potrzeb wynikających z lokalnego rozwoju gospodarczego
- c. raz na rok
- d. raz na pół roku

Pytanie **41**Punkty maks.:  
1,00

W strukturze Służby Geodezyjnej i Kartograficznej marszałek województwa jest:

Wybierz wszystkie poprawne:

- a. w rozumieniu Kodeksu postępowania administracyjnego – organem wyższego stopnia w stosunku do prezydenta miasta na prawach powiatu, jako organu administracji geodezyjnej i kartograficznej
- b. organem administracji geodezyjnej i kartograficznej
- c. w rozumieniu Kodeksu postępowania administracyjnego – organem wyższego stopnia w stosunku do starosty, jako organu administracji geodezyjnej i kartograficznej
- d. organem nadzoru geodezyjnego i kartograficznego

Pytanie **42**Punkty maks.:  
1,00

Ewidencja zbiorów danych przestrzennych infrastruktury informacji przestrzennej, prowadzona przez Głównego Geodetę Kraju, obejmuje między innymi następujące informacje:

Wybierz wszystkie poprawne:

- a. datę otrzymania zgłoszenia przez Głównego Geodetę Kraju
- b. obszar, do którego odnosi się zbiór danych przestrzennych
- c. numer porządkowy zbioru danych przestrzennych
- d. datę wysłania zgłoszenia przez podmiot, który zgłosił zbiór danych przestrzennych do ewidencji

Pytanie **43**Punkty maks.:  
1,00

Jeżeli organ Służby Geodezyjnej i Kartograficznej nie uwzględni stanowiska wykonawcy prac geodezyjnych w odniesieniu do stwierdzonych w protokole weryfikacji uchybień i nieprawidłowości wówczas:

Wybierz wszystkie poprawne:

- a. wydaje postanowienie o odmowie przyjęcia do państwowego zasobu geodezyjnego i kartograficznego wyników zgłoszonych prac geodezyjnych
- b. wydaje decyzję administracyjną o odmowie przyjęcia do państwowego zasobu geodezyjnego i kartograficznego wyników zgłoszonych prac geodezyjnych
- c. w terminie 14 dni od dnia otrzymania ustosunkowania informuje na piśmie wykonawcę prac o fakcie nieuwzględnienia jego stanowiska i zwraca mu przekazane wyniki zgłoszonych prac geodezyjnych
- d. w terminie 30 dni od dnia otrzymania ustosunkowania informuje na piśmie wykonawcę prac o fakcie nieuwzględnienia jego stanowiska i zwraca mu przekazane wyniki zgłoszonych prac geodezyjnych

Pytanie **44**

Punkty maks.:  
1,00

Przy zakładaniu poziomych osnów pomiarowych z wykorzystaniem pomiarów kątowno-liniowych należy zapewnić :

Wybierz wszystkie poprawne:

- a. jednopunktowe nawiązanie do punktów poziomej osnowy geodezyjnej
- b. wyrównanie danych obserwacyjnych metodą najmniejszych kwadratów w układzie sieci wielorzędowej przy założeniu bezbłędności zakładanych punktów
- c. wyrównanie danych obserwacyjnych metodą najmniejszych kwadratów w układzie sieci jednorzędowej przy założeniu bezbłędności punktów nawiązania
- d. wielopunktowe nawiązanie do punktów poziomej osnowy geodezyjnej

Pytanie **45**

Punkty maks.:  
1,00

Dla przewodów sieci kanalizacyjnej wyróżnia się następujące typy przewodów:

Wybierz wszystkie poprawne:

- a. ogólny
- b. przemysłowy
- c. lokalny
- d. sanitarny

Pytanie **46**

Punkty maks.:  
1,00

Sprawy związane z ochroną informacji niejawnych w działalności geodezyjnej i kartograficznej prowadzi:

Wybierz wszystkie poprawne:

- a. Minister Inwestycji i Rozwoju
- b. Minister Cyfryzacji
- c. Główny Geodeta Kraju
- d. Minister Spraw Wewnętrznych i Administracji

Pytanie **47**

Punkty maks.:  
1,00

Nieruchomość uznaje się za zbędną na cel określony w decyzji o wywłaszczeniu, jeżeli:

Wybierz wszystkie poprawne:

- a. pomimo upływu 3 lat od dnia, w którym decyzja o wywłaszczeniu stała się ostateczna, nie rozpoczęto prac związanych z realizacją tego celu
- b. pomimo upływu 5 lat od dnia, w którym decyzja o wywłaszczeniu stała się ostateczna, nie rozpoczęto prac związanych z realizacją tego celu
- c. pomimo upływu 7 lat od dnia, w którym decyzja o wywłaszczeniu stała się ostateczna, nie rozpoczęto prac związanych z realizacją tego celu
- d. pomimo upływu 10 lat od dnia, w którym decyzja o wywłaszczeniu stała się ostateczna, cel ten nie został zrealizowany

Pytanie **48**

Punkty maks.:  
1,00

Obiekt mostowy to:

Wybierz wszystkie poprawne:

- a. budowla przeznaczona do przeprowadzenia szlaku wędrówek zwierząt dziko żyjących
- b. kładka
- c. budowla przeznaczona do przeprowadzenia samodzielnego ciągu pieszego
- d. budowla przeznaczona do przeprowadzenia drogi

Pytanie **49**

Punkty maks.:  
1,00

Odległość granicy pasa drogowego od zewnętrznej krawędzi nasypu dla dróg ekspresowych powinna wynosić:

Wybierz wszystkie poprawne:

- a. co najmniej 2 m
- b. co najmniej 0,75m
- c. co najmniej 4 m
- d. co najmniej 3 m

Wypisy i wyrisy:

Wybierz wszystkie poprawne:



Pytanie **50**Punkty maks.:  
1,00

- a. udostępnia się w postaci dokumentu elektronicznego lub w postaci papierowej
- b. udostępnia się wyłącznie w postaci papierowej
- c. nie podlegają udostępnieniu
- d. udostępnia się wyłącznie w postaci dokumentu elektronicznego

Pytanie **51**Punkty maks.:  
1,00

Wydanie przez Radę Ministrów rozporządzenia o podziale gminy poprzedza:

Wybierz wszystkie poprawne:

- a. uzyskanie opinii marszałka województwa
- b. zasięgnięcie przez właściwego ministra do spraw administracji publicznej opinii zainteresowanych rad gmin
- c. uzyskanie opinii wojewody
- d. przeprowadzenie przez zainteresowane rady gmin konsultacji z mieszkańcami

Pytanie **52**Punkty maks.:  
1,00

Do wykonywania geodezyjnych pomiarów sytuacyjnych i wysokościowych z wykorzystaniem technik satelitarnych GNSS wykorzystuje się:

Wybierz wszystkie poprawne:

- a. tylko system stacji referencyjnych ASG-EUPOS
- b. dowolny system stacji referencyjnych
- c. systemy stacji referencyjnych, jeżeli dane określające położenie tych stacji włączone zostały do zasobu, a serwisy tych systemów zapewniają osiągnięcie określonych przepisami dokładności określenia położenia szczegółów terenowych
- d. system stacji referencyjnych ASG-EUPOS

Pytanie **53**Punkty maks.:  
1,00

Międzynarodowy Układ Jednostek Miar (SI) to:

Wybierz wszystkie poprawne:

- a. spójny układ jednostek miar, przyjęty i zalecany przez Unię Europejską
- b. spójny układ jednostek miar, przyjęty i zalecany przez Parlament Unii Europejskiej
- c. spójny układ jednostek miar, przyjęty i zalecany przez Prezesa Głównego Urzędu Miar
- d. spójny układ jednostek miar, przyjęty i zalecany przez Generalną Konferencję Miar

Pytanie **54**Punkty maks.:  
1,00

Wysokość należnej opłaty za udostępnione materiały państwowego zasobu geodezyjnego i kartograficznego utrwała się w:

Wybierz wszystkie poprawne:

- a. Rachunku
- b. Fakturze VAT
- c. Kosztorysie
- d. Dokumencie Obliczenia Opłaty

Pytanie **55**Punkty maks.:  
1,00

Prezydent Rzeczypospolitej Polskiej:

Wybierz wszystkie poprawne:

- a. kieruje administracją rządową
- b. jest najwyższym zwierzchnikiem Sił Zbrojnych Rzeczypospolitej Polskiej
- c. jest najwyższym przedstawicielem Rzeczypospolitej Polskiej
- d. jest wybierany na 4-letnią kadencję

Pytanie **56**Punkty maks.:  
1,00

Na dokumentacji projektowej będącej przedmiotem narady koordynacyjnej zamieszcza się adnotację zawierającą informacje, iż:

Wybierz wszystkie poprawne:

- a. o uzgodnieniu lub braku uzgodnienia dokumentacji

- b. o zastrzeżeniach zgłoszonych przez uczestników narady
- c. dokumentacja była przedmiotem narady koordynacyjnej
- d. o zatwierdzeniu lub braku zatwierdzenia dokumentacji

Pytanie **57**

Punkty maks.:  
1,00

Uprawnienia podmiotu w zakresie wykorzystania udostępnionych materiałów z państwowego zasobu geodezyjnego i kartograficznego określone w licencji dotyczą między innymi:

Wybierz wszystkie poprawne:

- a. możliwości ich przekształcania do postaci elektronicznej - w przypadku materiałów zasobu w postaci nieelektronicznej
- b. możliwości ich udostępniania w systemach teleinformatycznych – w przypadku materiałów zasobu w postaci elektronicznej
- c. możliwości ich powielania - w przypadku materiałów zasobu w postaci nieelektronicznej
- d. możliwości wykonywania jakichkolwiek operacji na tych danych i materiałach – w przypadku materiałów zasobu w postaci elektronicznej

Pytanie **58**

Punkty maks.:  
1,00

Udostępnienie materiałów zasobu odbywa się na podstawie:

Wybierz wszystkie poprawne:






- a. decyzji administracyjnej
- b. zgłoszenia prac geodezyjnych
- c. postanowienia o udostępnieniu materiałów zasobu
- d. wniosku

Pytanie **59**

Punkty maks.:  
1,00

Które znaki kartograficzne stanowią obiekty bazy geodezyjnej ewidencji sieci uzbrojenia terenu (GESUT):

Wybierz wszystkie poprawne:

- a.  
- b. 
- c. 
- d. 

Pytanie **60**

Punkty maks.:  
1,00

Przez umowę o dzieło strony zobowiązują się do:

Wybierz wszystkie poprawne:

- a. oszczędnego gospodarowania materiałami zakupionymi do realizacji dzieła
- b. terminowego wykonania dzieła
- c. zapewnienia odpowiedniej jakości dzieła
- d. przyjmujący zamówienie zobowiązuje się do wykonania oznaczonego dzieła, a zamawiający do zapłaty wynagrodzenia