



## Wydział Test

Pytanie 1

Punkty maks.:  
1,00

Termin uważa się za zachowany, jeżeli przed jego upływem pismo zostało:

Wybierz wszystkie poprawne:

- a. nadane w polskiej placówce pocztowej operatora wyznaczonego w rozumieniu ustawy z dnia 23 listopada 2012 r. – Prawo pocztowe albo placówce pocztowej operatora świadczącego pocztowe usługi powszechne w innym państwie członkowskim Unii Europejskiej, Konfederacji Szwajcarskiej albo państwie członkowskim Europejskiego Porozumienia o Wolnym Handlu (EFTA) – stronie umowy o Europejskim Obszarze Gospodarczym
- b. wysłane w formie dokumentu elektronicznego do organu administracji publicznej, a nadawca otrzymał urzędowe poświadczenie odbioru
- c. złożone w polskim urzędzie konsularnym
- d. złożone przez osobę pozbawioną wolności w administracji zakładu karnego

Pytanie 2

Punkty maks.:  
1,00

Wojewódzka komisja dyscyplinarna w sprawie odpowiedzialności zawodowej w dziedzinie geodezji i kartografii orzeka w składach:

Wybierz wszystkie poprawne:

- a. czteroosobowych
- b. sześćoosobowych
- c. pięcioosobowych
- d. trzyosobowych

Pytanie 3

Punkty maks.:  
1,00

Wywłaszczenie jest dopuszczalne, gdy jest dokonywane:

Wybierz wszystkie poprawne:

- a. na cele publiczne i za słusznym odszkodowaniem
- b. na cele organizacji pożytku publicznego
- c. pod budowę sklepów wielkopowierzchniowych
- d. dla powiększenia nieruchomości sąsiedniej, gdy jest to niezbędne, aby stała się działką budowlaną

Pytanie 4

Punkty maks.:  
1,00

W skalach 1:500 i 1:1000 na mapie zasadniczej w opisie budynku są zawarte:

Wybierz wszystkie poprawne:

- a. adres budynku
- b. numer najwyższej kondygnacji nadziemnej budynku
- c. oznaczenie rodzaju budynku
- d. oznaczenie kodu obiektu

Pytanie 5

Punkty maks.:  
1,00

Centralny rejestr osób posiadających uprawnienia zawodowe prowadzi:

Wybierz wszystkie poprawne:

- a. Główny Geodeta Kraju
- b. Główny Urząd Geodezji i Kartografii
- c. wojewódzki inspektor nadzoru geodezyjnego i kartograficznego,
- d. wojewoda

Pytanie 6

Punkty maks.:  
1,00

Udostępnienie materiałów zasobu odbywa się na podstawie:

Wybierz wszystkie poprawne:

- a. postanowienia o udostępnieniu materiałów zasobu
- b. zgłoszenia prac geodezyjnych
- c. decyzji administracyjnej

- d. wniosku

Pytanie **7**

Punkty maks.:  
1,00

Identyfikator zbioru danych przestrzennych ujawniony w ewidencji zbioru i usług danych przestrzennych:

Wybierz wszystkie poprawne:

- a. jest niezmienny w okresie istnienia tego zbioru danych
- b. składa się wyłącznie z numeru porządkowego, pod którym został ujawniony w ewidencji
- c. składa się z przestrzenie nazw oraz numeru porządkowego, pod którym został ujawniony ten zbiór w ewidencji
- d. składa się wyłącznie z przestrzenie nazw

Pytanie **8**

Punkty maks.:  
1,00

W przypadku łączenia gmin, pełnomocnika do spraw połączenia gmin wyznacza:

Wybierz wszystkie poprawne:

- a. Prezes Rady Ministrów
- b. wójt (burmistrz, prezydent) gminy o największej powierzchni
- c. wojewoda
- d. minister właściwy do spraw administracji publicznej

Pytanie **9**

Punkty maks.:  
1,00

Starosta:

Wybierz wszystkie poprawne:

- a. może zarządzić przeprowadzenie modernizacji ewidencji gruntów i budynków na poszczególnych obrębach ewidencyjnych
- b. może zarządzić przeprowadzenie modernizacji ewidencji gruntów i budynków wyłącznie na obszarze całej jednostki ewidencyjnej
- c. nie może zarządzić przeprowadzenie modernizacji ewidencji gruntów i budynków na poszczególnych obrębach ewidencyjnych
- d. może zarządzić przeprowadzenie modernizacji ewidencji gruntów i budynków na obszarze obejmującym część zurbanizowaną w danym obrębie ewidencyjnym

Pytanie **10**

Punkty maks.:  
1,00

Przewodniczący komisji kwalifikacyjnej wyznacza termin i miejsce przeprowadzenia części sprawdzającej postępowania kwalifikacyjnego w terminie do:

Wybierz wszystkie poprawne:

- a. 6 tygodni od dnia wszczęcia postępowania kwalifikacyjnego
- b. 30 dni od dnia wszczęcia postępowania kwalifikacyjnego
- c. 1 miesiąca od dnia wszczęcia postępowania kwalifikacyjnego
- d. 4 tygodni od dnia wszczęcia postępowania kwalifikacyjnego

Pytanie **11**

Punkty maks.:  
1,00

Wyróżnia się następujące metody pozyskiwania informacji o obiekcie bazy BDOT500:

Wybierz wszystkie poprawne:

- a. dokumentacja z narady koordynacyjnej - K
- b. wektoryzacja - D
- c. dane branżowe - G
- d. pomiar bezpośredni w nawiązaniu do szczegółów terenowych - M

Pytanie **12**

Punkty maks.:  
1,00

Sytuowanie projektowanych sieci uzbrojenia terenu na obszarach miast oraz w pasach drogowych na terenie istniejącej lub projektowanej zwartej zabudowy obszarów wiejskich koordynuje się na naradach koordynacyjnych organizowanych przez:

Wybierz wszystkie poprawne:

- a. wójtów (burmistrzów i prezydentów miast) na obszarze właściwości których mają być sytuowane projektowane sieci uzbrojenia terenu
- b. podmioty władające sieciami uzbrojenia terenu

- c. starostę
- d. nie organizuje się narad koordynacyjnych

Pytanie **13**

Punkty maks.:  
1,00

Uchwalenie aktu prawa miejscowego (np. miejscowy plan zagospodarowania przestrzennego) przez radę gminy następuje:

Wybierz wszystkie poprawne:

- a. w formie obwieszczenia
- b. w formie uchwały
- c. w formie zarządzenia rady gminy
- d. w formie zarządzenia wójta (burmistrza, prezydenta miasta)

Pytanie **14**

Punkty maks.:  
1,00

Podjęcie przez radę gminy uchwały w sprawie nadania nazwy drodze wewnętrznej wymaga zgody :

Wybierz wszystkie poprawne:

- a. właścicieli terenów, na której jest zlokalizowana
- b. rady gminy, po zasięgnięciu opinii właściwego zarządu powiatu
- c. rady gminy
- d. rady gminy, po zasięgnięciu opinii właściwego starosty

Pytanie **15**

Punkty maks.:  
1,00

Sprawy związane z ochroną informacji niejawnych w działalności geodezyjnej i kartograficznej prowadzi:

Wybierz wszystkie poprawne:

- a. Główny Geodeta Kraju
- b. Minister Cyfryzacji
- c. Minister Spraw Wewnętrznych i Administracji
- d. Minister Inwestycji i Rozwoju

Pytanie **16**

Punkty maks.:  
1,00

Wykonawca prac geodezyjnych zgłasza prace geodezyjne właściwemu miejscowo starostom:

Wybierz wszystkie poprawne:

- a. po ich rozpoczęciu, jednak nie później niż w terminie 5 dni roboczych od dniach rozpoczęcia tych prac
- b. przed ich rozpoczęciem
- c. po ich rozpoczęciu, jednak nie później niż w terminie 7 dni roboczych od dniach rozpoczęcia tych prac
- d. po ich rozpoczęciu, jednak nie później niż w terminie 10 dni roboczych od dniach rozpoczęcia tych prac

Pytanie **17**

Punkty maks.:  
1,00

Decyzji, od której przysługuje odwołanie:

Wybierz wszystkie poprawne:

- a. nie może być nadany rygor natychmiastowej wykonalności – i jest to zasada generalna
- b. może być nadany rygor natychmiastowej wykonalności, gdy jest to niezbędne ze względu na ochronę życia ludzkiego
- c. może być nadany rygor natychmiastowej wykonalności dla zabezpieczenia gospodarstwa narodowego przed ciężkimi stratami
- d. może być nadany rygor natychmiastowej wykonalności ze względu na ważny interes strony

Pytanie **18**

Punkty maks.:  
1,00

Operat techniczny zaewidencjonowany w roku 1982 pod numerem 113 w powiatowym zasobie geodezyjnym i kartograficznym (lubartowskim-kod TERYT 0608) ma nadany numer ewidencyjny:

Wybierz wszystkie poprawne:

- a. P.0608.1982.113
- b. P.0608.113.1982
- c. P.LUBART.1982.113
- d. 1982.P.0608.113

Pytanie **19**Punkty maks.:  
1,00

Pola powierzchni użytków gruntowych i konturów klasyfikacyjnych obliczone na podstawie wyników geodezyjnych pomiarów sytuacyjnych w granicach działki ewidencyjnej:

Wybierz wszystkie poprawne:

- a. wyrównuje się do pola powierzchni konturu klasyfikacyjnego
- b. wykazuje się z precyzją zapisu większą niż pole powierzchni działki ewidencyjnej
- c. wykazuje się z taką samą precyzją zapisu jak pole powierzchni działki ewidencyjnej
- d. wyrównuje się do pola powierzchni tej działki

Pytanie **20**Punkty maks.:  
1,00

Państwowy system odniesień przestrzennych tworzą:

Wybierz wszystkie poprawne:

- a. układ współrzędnych płaskich prostokątnych oznaczony symbolem PL-LAEA
- b. układ wysokościowy oznaczony symbolem PL-EVRF2007-NH
- c. układ współrzędnych płaskich prostokątnych oznaczony symbolem PL-LCC
- d. geodezyjny układ odniesienia oznaczony symbolem PL-ETRF89

Pytanie **21**Punkty maks.:  
1,00

Rejestr cen nieruchomości zawiera informacje dotyczące:

Wybierz wszystkie poprawne:

- a. strony kupującej
- b. rodzaju rynku
- c. ceny transakcji netto
- d. wykazu nieruchomości będących przedmiotem transakcji

Pytanie **22**Punkty maks.:  
1,00

Dla przewodów sieci elektroenergetycznej wyróżnia się następujące typy przewodów:

Wybierz wszystkie poprawne:

- a. najniższego napięcia
- b. podwyższonego średniego napięcia
- c. wysokiego napięcia
- d. najwyższego napięcia

Pytanie **23**Punkty maks.:  
1,00

Pod pojęciem „interoperacyjność” rozumie się:

Wybierz wszystkie poprawne:

- a. udostępnianie danych przez platformę ePUAP
- b. zdolność różnych podmiotów oraz używanych przez nie systemów teleinformatycznych i rejestrów publicznych do współdziałania na rzecz osiągnięcia wzajemnie korzystnych i uzgodnionych celów
- c. wzajemne przesyłanie danych między różnymi podmiotami publicznymi
- d. szybkość pozyskania danych z rejestrów publicznych

Pytanie **24**Punkty maks.:  
1,00

Prawomocne orzeczenia o rozgraniczeniu nieruchomości sąd przesyła do sądów rejonowych właściwych do prowadzenia ksiąg wieczystych w celu ujawnienia ich w księgach wieczystych:

Wybierz wszystkie poprawne:

- a. na wniosek sądu rejonowego właściwego do prowadzenia ksiąg wieczystych w terminie 30 dni
- b. z urzędu w terminie jednego miesiąca
- c. z urzędu w terminie 30 dni
- d. z urzędu w terminie dwóch miesięcy

Pytanie **25**Punkty maks.:  
1,00

Krajową bazę geodezyjnej ewidencji sieci uzbrojenia terenu (GESUT) prowadzi:

Wybierz wszystkie poprawne:

- a. wszystkie wymienione odpowiedzi są poprawne

- b. minister do spraw budownictwa i gospodarki przestrzennej i mieszkaniowej
- c. starosta
- d. Główny Geodeta Kraju

Pytanie **26**Punkty maks.:  
1,00

Do podstawowych obowiązków kierownika budowy należy:

Wybierz wszystkie poprawne:

- a. kontrolowanie rozliczeń budowy na żądanie inwestora
- b. prowadzenie dokumentacji budowy
- c. zapewnienie geodezyjnego wytyczenia obiektu
- d. potwierdzanie faktycznie wykonanych robót budowlanych

Pytanie **27**Punkty maks.:  
1,00

Wyniki pomiarów długości oraz współrzędne prostokątne płaskie przy wykonywaniu geodezyjnych pomiarów sytuacyjnych:

Wybierz wszystkie poprawne:

- a. wyraża się w metrach z precyzją zapisu do 0,001 m - dla pomiarów wymagających wyższej dokładności
- b. wyraża się w metrach z precyzją zapisu do 0,01 m
- c. wyraża się w milimetrach z precyzją zapisu do 0,01 m
- d. wyraża się w milimetrach z precyzją zapisu do 0,001 m - dla pomiarów wymagających wyższej dokładności

Pytanie **28**Punkty maks.:  
1,00

Organy administracji geodezyjnej i kartograficznej projektując zmiany przebiegu granic obrębów ewidencyjnych obowiązane są uwzględniać podział na:

Wybierz wszystkie poprawne:

- a. obwody spisowe
- b. rejony statystyczne
- c. obwody urbanistyczne
- d. rejony urbanistyczne

Pytanie **29**Punkty maks.:  
1,00

Jeżeli organ Służby Geodezyjnej i Kartograficznej nie uwzględni stanowiska wykonawcy prac geodezyjnych:

Wybierz wszystkie poprawne:

- a. wzywa wykonawcę prac geodezyjnych do usunięcia nieprawidłowości i uchybień
- b. wydaje decyzję administracyjną o odmowie przyjęcia do państwowego zasobu geodezyjnego i kartograficznego wyników zgłoszonych prac
- c. wydaje postanowienie o odmowie przyjęcia do państwowego zasobu geodezyjnego i kartograficznego wyników zgłoszonych prac
- d. wydaje decyzję o przyjęciu wyników zgłoszonych prac do państwowego zasobu geodezyjnego i kartograficznego

Pytanie **30**Punkty maks.:  
1,00

Pracownik organu administracji publicznej podlega wyłączeniu od udziału w postępowaniu w sprawie:

Wybierz wszystkie poprawne:

- a. w której był przedstawicielem jednej ze stron
- b. powinowatych do drugiego stopnia
- c. w której był biegłym
- d. osoby związanej z nim z tytułu kurateli

Pytanie **31**Punkty maks.:  
1,00

Powiatową bazę GESUT starosta zakłada i prowadzi w drodze przetworzenia materiałów źródłowych, będących danymi i informacjami:

Wybierz wszystkie poprawne:

- a. pozyskanymi od podmiotów władających sieciami uzbrojenia terenu

- b. zgromadzonymi w państwowym zasobie geodezyjnym i kartograficznym, w szczególności będącymi treścią mapy zasadniczej oraz innych map wielkoskalowych
- c. zgromadzonymi w państwowym zasobie geodezyjnym i kartograficznym, w szczególności będącymi treścią geodezyjnej ewidencji sieci uzbrojenia terenu
- d. pozyskanymi z innych rejestrów publicznych

Pytanie **32**Punkty maks.:  
1,00

Rękojmia wiary publicznej ksiąg wieczystych nie działa przeciwko:

Wybierz wszystkie poprawne:

- a. służebnościom przesyłu
- b. prawu dzierżawy nieruchomości
- c. służebnościom ustanowionym na podstawie decyzji właściwego organu administracji państwowej
- d. prawu dożywocia

Pytanie **33**Punkty maks.:  
1,00Ze względu na wymaganą dokładność określenia położenia punktów szczegółów terenowych wyróżnia się I, II i III grupę szczegółów terenowych, do grupy I nie są zaliczone szczegóły:

Wybierz wszystkie poprawne:

- a. naziemne obiekty budowlane i urządzenia budowlane, w tym elementy sieci uzbrojenia terenu
- b. znaki geodezyjne
- c. znaki i punkty graniczne
- d. kontury użytków gruntowych oraz odkrywki glebowe na potrzeby gleboznawczej klasyfikacji gruntów

Pytanie **34**Punkty maks.:  
1,00

Kto niszczy, uszkadza, czyni bezużytecznym, ukrywa lub usuwa dokument, którym nie ma prawa wyłącznie rozporządzać:

Wybierz wszystkie poprawne:

- a. podlega grzywnie, karze ograniczenia wolności albo pozbawienia wolności do lat 5
- b. podlega grzywnie, karze ograniczenia wolności albo pozbawienia wolności do lat 2
- c. podlega karze pozbawienia wolności do lat 2
- d. podlega grzywnie

Pytanie **35**Punkty maks.:  
1,00

Materiały przyjęte do zasobu w postaci elektronicznej przetwarzają się niezwłocznie do dokumentu elektronicznego zapisanego w formacie:

Wybierz wszystkie poprawne:

- a. pdf
- b. gml
- c. shp
- d. uzgodnionym z wykonawcą prac geodezyjnych

Pytanie **36**Punkty maks.:  
1,00

Ocenę przydatności użytkowej materiałów zasobu przeprowadza:

Wybierz wszystkie poprawne:

- a. geodeta powiatowy
- b. powołana przez organ prowadzący zasób komisja
- c. starosta
- d. powiatowy ośrodek dokumentacji geodezyjnej i kartograficznej w uzgodnieniu z wojewódzkim inspektorem nadzoru geodezyjnego i kartograficznego

Pytanie **37**Punkty maks.:  
1,00

Organ prowadzący zasób:

Wybierz wszystkie poprawne:

- a. przechowuje materiały zasobu w sposób chroniący je przed pożarem
- b. przechowuje co najmniej dwie ostatnie kopie bezpieczeństwa materiałów zasobu

- c. wykonuje na nośnikach zewnętrznych, nie rzadziej niż raz na rok, kopie bezpieczeństwa materiałów zasobu w postaci elektronicznej
- d. przechowuje materiały zasobu w sposób chroniący je przed zniszczeniem

Pytanie **38**Punkty maks.:  
1,00

Przeprowadzenie czynności klasyfikacyjnych w terenie obejmuje:

Wybierz wszystkie poprawne:

- a. ustalenie gęstości zadrzewień w lasach
- b. ustalenie zasięgów konturów typów gleb oraz klas bonitacyjnych
- c. ustalenie zbiorowisk roślinnych na łąkach trwałych i pastwiskach trwałych
- d. sporządzenie opisu fizjograficznego

Pytanie **39**Punkty maks.:  
1,00

Wobec osoby która stara się o dostęp do informacji niejawnych o klauzuli „poufne” zwykłe postępowanie sprawdzające przeprowadza:





Wybierz wszystkie poprawne:

- a. Minister właściwy do spraw wewnętrznych na wniosek zainteresowanej osoby
- b. Agencja Bezpieczeństwa Wewnętrznego na pisemny wspólny wniosek kierownika jednostki organizacyjnej i pełnomocnika ochrony
- c. pełnomocnik ochrony na pisemne polecenie kierownika jednostki organizacyjnej
- d. Agencja Bezpieczeństwa Wewnętrznego na pisemny wniosek pełnomocnika ochrony

Pytanie **40**Punkty maks.:  
1,00

Który znak kartograficzny przedstawia zasuwę lub zawór:

Wybierz wszystkie poprawne:

- a. 
- b. 
- c. 
- d. 

Pytanie **41**Punkty maks.:  
1,00

Mapa do celów projektowych jest:

Wybierz wszystkie poprawne:

- a. wykonana z wykorzystaniem wyników pomiarów geodezyjnych
- b. wykonana z wykorzystaniem materiałów archiwalnych
- c. podstawą do sporządzenia projektu zagospodarowania działki lub terenu
- d. opracowaniem kartograficznym

Pytanie **42**Punkty maks.:  
1,00

Dla lokali wchodzących w skład nieruchomości lokalowych w rejestrze cen nieruchomości przechowuje się następujące informacje:

Wybierz wszystkie poprawne:

- a. powierzchnię pomieszczeń przynależnych do lokalu
- b. liczbę izb
- c. adres lokalu
- d. kwotę podatku CIT

Pytanie **43**Punkty maks.:  
1,00

Rzeczpospolita Polska:

Wybierz wszystkie poprawne:

- a. chroni własność i prawo dziedziczenia
- b. zapewnia wolność prasy i innych środków społecznego przekazu

- c. strzeże niepodległości i nienaruszalności swojego terytorium, zapewnia wolności i prawa człowieka i obywatela oraz bezpieczeństwo obywateli, strzeże dziedzictwa narodowego oraz zapewnia ochronę środowiska, kierując się zasadą zrównoważonego rozwoju
- d. przestrzega wiążącego ją prawa międzynarodowego

Pytanie **44**Punkty maks.:  
1,00

W bazie danych ewidencyjnych oprócz konturu budynku ujawnia się obiekty budowlane trwale związane z budynkiem, takie jak:

Wybierz wszystkie poprawne:

- a. weranda
- b. podjazd dla osób niepełnosprawnych
- c. przejazd
- d. schody

Pytanie **45**Punkty maks.:  
1,00

Z państwowego zasobu geodezyjnego i kartograficznego udostępnia się:

Wybierz wszystkie poprawne:

- a. oryginał materiału zasobu, w miejscu jego przechowywania w obecności pracownika wyznaczonego przez organ prowadzący zasób, w przypadku materiałów zasobu w postaci niefizycznej
- b. kopie materiałów zasobu
- c. oryginały materiału zasobu poza miejsce jego przechowywania, jeżeli jest to niezbędne do wykonania zadań publicznych określonych przez ustawy
- d. wyłącznie kopie materiałów zasobu

Pytanie **46**Punkty maks.:  
1,00

Do obiektów małej architektury można zaliczyć:

Wybierz wszystkie poprawne:

- a. wodociągi
- b. wodotryski
- c. śmietniki
- d. krzyże przydrożne

Pytanie **47**Punkty maks.:  
1,00

Wykonawca prac geodezyjnych po wykonaniu zgłoszonych prac jest obowiązany złożyć do organu Służby Geodezyjnej i Kartograficznej:

Wybierz wszystkie poprawne:

- a. licencję na udostępnione materiały z zasobu
- b. wyniki prac geodezyjnych
- c. zawiadomienie o przekazaniu wyników zgłoszonych prac
- d. protokół weryfikacji

Pytanie **48**Punkty maks.:  
1,00

Zawiadomienie o czynnościach podjętych w celu ustalenia przebiegu granic działek ewidencyjnych oprócz danych adresowych podmiotu, zawiera następujące informacje:

Wybierz wszystkie poprawne:

- a. dzień, godzinę i miejsce rozpoczęcia tych czynności
- b. pouczenie o konieczności posiadania dokumentu umożliwiającego ustalenie tożsamości osoby biorącej udział w tych czynnościach
- c. pouczenie o konieczności posiadania dokumentu umożliwiającego stwierdzenie prawa nabycia nieruchomości
- d. oznaczenie działek ewidencyjnych, których czynności będą dotyczyć

Pytanie **49**Punkty maks.:  
1,00

Do gruntów zabudowanych i zurbanizowanych nie należą:

Wybierz wszystkie poprawne:

- a. tereny mieszkaniowe, oznaczone symbolem - B



- b. użytki kopalne, oznaczone symbolem - K
- c. nieużytki, oznaczone symbolem - N
- d. grunty przeznaczone pod budowę linii kolejowych, oznaczone symbolem - Tp

Pytanie **50**Punkty maks.:  
1,00

Głównego Geodetę Kraju powołuje:

Wybierz wszystkie poprawne:

- a. Prezes Rady Ministrów
- b. minister właściwy w sprawach budownictwa, planowania i gospodarowania przestrzennego oraz mieszkalnictwa w drodze rozporządzenia
- c. Rada Ministrów, w drodze zarządzenia
- d. Prezydent Rzeczypospolitej Polskiej

Pytanie **51**Punkty maks.:  
1,00

Pikietą według rozporządzenia w sprawie standardów mogą być:

Wybierz wszystkie poprawne:

- a. charakterystyczne punkty sztucznych form terenu
- b. punkty powierzchni terenu charakteryzujące jego rzeźbę
- c. wszystkie punkty powierzchni terenu
- d. charakterystyczne punkty naturalnych form terenu

Pytanie **52**Punkty maks.:  
1,00

Jednostkami powierzchniowymi podziału kraju dla celów ewidencji są:

Wybierz wszystkie poprawne:

- a. obręb ewidencyjny
- b. jednostka ewidencyjna
- c. działka ewidencyjna
- d. użytek gruntowy

Pytanie **53**Punkty maks.:  
1,00

Ewidencja materiałów zasobu zawiera:

Wybierz wszystkie poprawne:

- a. położenie przestrzenne obszaru, którego dotyczy materiał zasobu
- b. datę przyjęcia materiału do zasobu
- c. określenie formatu danych materiału zasobu
- d. informację o dostępie do materiału zasobu

Pytanie **54**Punkty maks.:  
1,00

Identyfikator 'zbioru danych przestrzennych':

Wybierz wszystkie poprawne:

- a. odpowiada numerowi porządkowemu pod którym ujawniony został ten zbiór w ewidencji zbiorów i danych przestrzennych
- b. składa się z przestrzeni nazw oraz numeru porządkowego, pod którym ujawniony został ten zbiór w ewidencji zbiorów i danych przestrzennych
- c. nadawany jest w momencie ujawniania tego zbioru w ewidencji zbiorów i usług danych przestrzennych objętych infrastrukturą informacji przestrzennej
- d. odpowiada kodowi przestrzeni nazw

Pytanie **55**Punkty maks.:  
1,00

Wykonanie tyczenia geodeta uprawniony potwierdza:

Wybierz wszystkie poprawne:

- a. organowi administracji architektoniczno-budowlanej
- b. dokonaniem odpowiedniego wpisu w dzienniku budowy
- c. poprzez złożenie odpowiedniego oświadczenia na szkicu tyczenia
- d. poprzez zamieszczenie odpowiedniej wzmianki na mapie z geodezyjną inwentaryzacją powykonawczą

Pytanie **56**Punkty maks.:  
1,00

Do sporządzania mapy do celów projektowych wykonawca prac geodezyjnych wykorzystuje:

Wybierz wszystkie poprawne:

- a. inne dokumenty lub informacje dotyczące obszaru projektowanego zamierzenia budowlanego lub terenów sąsiednich, jeżeli mają znaczenie dla zamierzenia budowlanego
- b. materiały udostępnione z zasobu
- c. opracowania planistyczne
- d. wyniki wykonanych pomiarów

Pytanie **57**Punkty maks.:  
1,00

Wyniki pomiaru kontrolnego, przy wykonywaniu pomiarów z wykorzystaniem technik satelitarnych GNSS, muszą spełniać warunki:

Wybierz wszystkie poprawne:

- a.  $dx \leq 0,12$  m i  $dy \leq 0,12$  m oraz  $dh \leq 0,09$  m jeżeli punkt kontrolny posiada określoną wysokość
- b.  $dx \leq 0,09$  m i  $dy \leq 0,09$  m oraz  $dh \leq 0,12$  m jeżeli punkt kontrolny posiada określoną wysokość
- c.  $dx \leq 0,09$  m i  $dy \leq 0,12$  m oraz  $dh \leq 0,09$  m jeżeli punkt kontrolny posiada określoną wysokość
- d.  $dx \leq 0,12$  m i  $dy \leq 0,12$  m oraz  $dh \leq 0,12$  m jeżeli punkt kontrolny posiada określoną wysokość

Pytanie **58**Punkty maks.:  
1,00

Jeżeli osoba prawna nie może prowadzić swoich spraw ze względu na brak organu, sąd ustanawia dla niej:

Wybierz wszystkie poprawne:

- a. kuratora
- b. opiekuna
- c. przedstawiciela
- d. pełnomocnika

Pytanie **59**Punkty maks.:  
1,00

O dokonanych zmianach w danych ewidencyjnych starosta, w terminie 14 dni od dokonania zmiany w ewidencji, zawiadamia:

Wybierz wszystkie poprawne:

- a. organy podatkowe
- b. wydział ksiąg wieczystych właściwego miejscowo sądu rejonowego - w przypadku zmian danych objętych działem I ksiąg wieczystych
- c. organy ścigania
- d. wydział ksiąg wieczystych właściwego miejscowo sądu rejonowego - w przypadku zmian danych objętych działem IV ksiąg wieczystych

Pytanie **60**Punkty maks.:  
1,00

Który znak kartograficzny przedstawia szczegółową osnowę geodezyjną poziomą:

Wybierz wszystkie poprawne:

- a.  M34001Aa1-SP10010
- b.  M34001A-GF0010
- c.  M34001A-GB0010
- d.  M34001Aa1-SH10010