



## Wydział Test

Pytanie 1

Punkty maks.:  
1,00

Starosta podaje do publicznej wiadomości informację o rozpoczęciu prac geodezyjnych związanych z modernizacją ewidencji gruntów i budynków, poprzez jej wywieszenie na tablicy ogłoszeń w siedzibie starostwa powiatowego na okres:

Wybierz wszystkie poprawne:

- a. 21 dni kalendarzowych
- b. 15 dni kalendarzowych
- c. 14 dni roboczych
- d. 14 dni

Pytanie 2

Punkty maks.:  
1,00

Plan zagospodarowania przestrzennego województwa uchwała:

Wybierz wszystkie poprawne:

- a. z uwagi że nie jest to akt prawa miejscowego, nie podlega uchwaleniu
- b. sejmik województwa
- c. rada ministrów
- d. zarząd województwa

Pytanie 3

Punkty maks.:  
1,00

Postępowanie administracyjne może być wszczęte:

Wybierz wszystkie poprawne:

- a. z urzędu
- b. na żądanie strony
- c. na żądanie sądu
- d. na żądanie organu odwoławczego

Pytanie 4

Punkty maks.:  
1,00

Średni błąd położenia i wysokości punktów pomiarowej osnowy poziomej i wysokościowej odpowiednio:

Wybierz wszystkie poprawne:

- a. nie może być mniejszy niż 0,10m względem punktów poziomej osnowy geodezyjnej i 0,05m względem punktów wysokościowej osnowy geodezyjnej
- b. nie może być większy niż 0,10m względem punktów poziomej osnowy geodezyjnej i 0,05m względem punktów wysokościowej osnowy geodezyjnej
- c. nie może być większy niż 0,05 m względem punktów poziomej osnowy geodezyjnej i 0,05m względem punktów wysokościowej osnowy geodezyjnej
- d. nie może być większy niż 0,10m względem punktów poziomej osnowy geodezyjnej i 0,10m względem punktów wysokościowej osnowy geodezyjnej

Pytanie 5

Punkty maks.:  
1,00

Na dokumentacji projektowej będącej przedmiotem narady koordynacyjnej zamieszcza się adnotację zawierającą informacje, iż:

Wybierz wszystkie poprawne:

- a. o zatwierdzeniu lub braku zatwierdzenia dokumentacji
- b. o zastrzeżeniach zgłoszonych przez uczestników narady
- c. o uzgodnieniu lub braku uzgodnienia dokumentacji
- d. dokumentacja była przedmiotem narady koordynacyjnej

Pytanie 6

Punkty maks.:  
1,00

Podstawową skalą mapy zasadniczej jest skala:

Wybierz wszystkie poprawne:

- a. 1:10 000
- b. 1:250

- c. 1:1000
- d. 1:500

Pytanie **7**Punkty maks.:  
1,00

Działki ewidencyjne położone w granicach jednego obrębu ewidencyjnego i będące przedmiotem identycznych praw i odpowiadających im udziałów tworzą:

Wybierz wszystkie poprawne:

- a. jednostkę ewidencyjną
- b. jednostkę rejestrową gruntów
- c. jedno gospodarstwo rolne
- d. obręb ewidencyjny

Pytanie **8**Punkty maks.:  
1,00

Jakim symbolem oznaczamy w ewidencji gruntów i budynków grunty zajęte pod cmentarze?:

Wybierz wszystkie poprawne:

- a. Tr
- b. Bz
- c. Cm
- d. Bi

Pytanie **9**Punkty maks.:  
1,00

Odmowa przyjęcia do zasobu geodezyjnego kartograficznego materiałów sporządzonych w ramach wykonanej pracy geodezyjnej przyjmuje postać:

Wybierz wszystkie poprawne:

- a. informacji o odmowie oraz o przekazaniu dokumentacji do weryfikacji do wojewódzkiego inspektora nadzoru geodezyjnego i kartograficznego
- b. zarządzenia o odmowie
- c. decyzji administracyjnej o odmowie
- d. informacji na piśmie o odmowie oraz o możliwości odwołania do wojewódzkiego inspektora nadzoru geodezyjnego i kartograficznego

Pytanie **10**Punkty maks.:  
1,00

Geodetą województwa może być osoba, która spełnia między innymi następujące wymagania:

Wybierz wszystkie poprawne:

- a. legitymuje się 4-letnim pracy w organach jednostek samorządu terytorialnego
- b. posiada uprawnienia zawodowe do wykonywania samodzielnych funkcji w dziedzinie geodezji i kartografii w zakresie 1, 2 i 3
- c. korzysta z pełni praw cywilnych i obywatelskich
- d. posiada dyplom ukończenia studiów wyższych

Pytanie **11**Punkty maks.:  
1,00

W przypadku wzajemnego przecinania się gruntów zajętych pod linie kolejowe, drogi publiczne lub kanały przy ustalaniu granic działek ewidencyjnych stosuje się następujące zasady:

Wybierz wszystkie poprawne:

- a. kryte kanały i rurociągi dzielą linie kolejowe oraz drogi publiczne na odrębne działki ewidencyjne
- b. drogi wyższej kategorii wybudowane na powierzchni gruntu dzielą drogi niższej kategorii wybudowane na powierzchni gruntu na odrębne działki ewidencyjne
- c. linie kolejowe wybudowane nad powierzchnią gruntu dzielą drogi publiczne wybudowane nad powierzchnią gruntu na odrębne działki ewidencyjne
- d. drogi wewnętrzne dzielą drogi publiczne na odrębne działki ewidencyjne

Pytanie **12**Punkty maks.:  
1,00

Dla każdego nowo zakładanego punktu osnowy geodezyjnej sporządza się opis topograficzny zawierający co najmniej:

Wybierz wszystkie poprawne:

- a. dane dotyczące stabilizacji

- b. numer kancelaryjny
- c. współrzędne geodezyjne punktu z dokładnością do 0,001"
- d. szkic lokalizacyjny

Pytanie **13**Punkty maks.:  
1,00

Oświadczenie woli złożone przez osobę jest nieważne:

Wybierz wszystkie poprawne:

- a. gdy zostanie złożone drugiej stronie za jej zgodą dla pozoru
- b. gdy zostało złożone przez osobę, która z jakichkolwiek powodów znajdowała się w stanie wyłączającym świadome albo swobodne powzięcie decyzji i wyrażenie woli. Dotyczy to w szczególności choroby psychicznej, niedorozwoju umysłowego albo innego, chociażby nawet przemijającego, zaburzenia czynności psychicznych.
- c. gdy zostanie wycofane przez tą osobę do 14 dni od jego złożenia
- d. gdy zostanie złożone ustnie bez świadków

Pytanie **14**Punkty maks.:  
1,00

Jeżeli biegły, który bez należytego usprawiedliwienia nie stawił się na wezwanie organu prowadzącego postępowanie, organ ten może między innymi:

Wybierz wszystkie poprawne:

- a. nałożyć karę pieniężną w wysokości do 3000 zł
- b. ponownie wezwać biegłego
- c. wyjątkowo zarządzić zatrzymanie i przymusowe doprowadzenie biegłego
- d. nałożyć karę pieniężną w wysokości 5000 zł

Pytanie **15**Punkty maks.:  
1,00

Wyłączenie jest dopuszczalne, gdy jest dokonywane:

Wybierz wszystkie poprawne:

- a. na cele organizacji pożytku publicznego
- b. na cele publiczne i za słusznym odszkodowaniem
- c. pod budowę sklepów wielkopowierzchniowych
- d. dla powiększenia nieruchomości sąsiedniej, gdy jest to niezbędne, aby stała się działką budowlaną

Pytanie **16**Punkty maks.:  
1,00

Odmowa aktualizacji informacji zawartych w ewidencji gruntów i budynków następuje w drodze:

Wybierz wszystkie poprawne:

- a. postanowienia
- b. rozprawy administracyjnej
- c. zawiadomienia
- d. decyzji administracyjnej

Pytanie **17**Punkty maks.:  
1,00

Wynikiem części wstępnej postępowania kwalifikacyjnego dotyczącego nabycia uprawnień zawodowych w dziedzinie geodezji i kartografii, z pominięciem osób zainteresowanych, o których mowa w art. 44 ust. 3 oraz art. 44a ust. 1 i 3 ustawy Prawo geodezyjne i kartograficzne, jest rozstrzygnięcie o:

Wybierz wszystkie poprawne:

- a. odroczonym dopuszczeniu osoby zainteresowanej do części sprawdzającej postępowania kwalifikacyjnego
- b. dopuszczeniu osoby zainteresowanej do części sprawdzającej postępowania kwalifikacyjnego
- c. dopuszczeniu warunkowym osoby zainteresowanej do części sprawdzającej postępowania kwalifikacyjnego
- d. niedopuszczeniu osoby zainteresowanej do części sprawdzającej postępowania kwalifikacyjnego

Pytanie **18**Punkty maks.:  
1,00

Kopie materiałów zasobu udostępniane w formie dokumentów elektronicznych opatruje się klauzulą urzędową zawierającą:

Wybierz wszystkie poprawne:

- a. datę wykonania kopii materiału zasobu

- b. identyfikator ewidencyjny materiału zasobu
- c. nazwę materiału zasobu
- d. nazwę wykonawcy prac, któremu udostępniane są kopie materiałów

Pytanie **19**Punkty maks.:  
1,00

Ze względu na wymaganą dokładność określenia położenia punktów szczegółów terenowych wyróżnia się I, II i III grupę szczegółów terenowych, do grupy I nie są zaliczone szczegóły:

Wybierz wszystkie poprawne:

- a. znaki geodezyjne
- b. znaki i punkty graniczne
- c. naziemne obiekty budowlane i urządzenia budowlane, w tym elementy sieci uzbrojenia terenu
- d. kontury użytków gruntowych oraz odkrywki glebowe na potrzeby gleboznawczej klasyfikacji gruntów

Pytanie **20**Punkty maks.:  
1,00

Obowiązek stosowania legalnych jednostek miar dotyczy między innymi:

Wybierz wszystkie poprawne:

- a. wykonywania pomiarów
- b. przyrządów pomiarowych
- c. innych przyrządów niż pomiarowe
- d. wyrażania wartości wielkości fizycznych

Pytanie **21**Punkty maks.:  
1,00

Do zadań gminy należy:

Wybierz wszystkie poprawne:

- a. umieszczanie i utrzymywanie w należyłym stanie tabliczek z nazwami ulic i palaców w miastach oraz innych miejscowościach na obszarze gminy
- b. ustalanie numerów porządkowych
- c. prowadzenie rejestru podziału terytorialnego kraju
- d. prowadzenie ewidencji nazw geograficznych

Pytanie **22**Punkty maks.:  
1,00

Identyfikator 'zbioru danych przestrzennych':

Wybierz wszystkie poprawne:

- a. odpowiada numerowi porządkowemu pod którym ujawniony został ten zbiór w ewidencji zbiorów i danych przestrzennych
- b. nadawany jest w momencie ujawniania tego zbioru w ewidencji zbiorów i usług danych przestrzennych objętych infrastrukturą informacji przestrzennej
- c. odpowiada kodowi przestrzeni nazw
- d. składa się z przestrzeni nazw oraz numeru porządkowego, pod którym ujawniony został ten zbiór w ewidencji zbiorów i danych przestrzennych

Pytanie **23**Punkty maks.:  
1,00

Kształtowanie i prowadzenie polityki przestrzennej w województwie należy do zadań:

Wybierz wszystkie poprawne:

- a. ministra właściwego do spraw budownictwa, planowania i zagospodarowania przestrzennego oraz mieszkalnictwa
- b. Rady Ministrów
- c. samorządu województwa
- d. wojewody

Pytanie **24**Punkty maks.:  
1,00

Przedmiotem geodezyjnego pomiaru wysokościowego w przypadku podziemnych szczegółów terenowych są dostępne do pomiaru:

Wybierz wszystkie poprawne:

- a. załamania poziome osi przewodów sieci uzbrojenia terenu
- b. przekroje poprzeczne ulic urządzonych

- c. dna studzienek kanalizacyjnych
- d. dolne krawędzie rur ochronnych kabli

Pytanie **25**Punkty maks.:  
1,00

Jakim kolorem uwidacznia się na mapie porównania z terenem elementy do usunięcia:

Wybierz wszystkie poprawne:

- a. niebieskim
- b. zielonym
- c. czerwonym
- d. żółtym

Pytanie **26**Punkty maks.:  
1,00

Zezwolenie zarządcy drogi, wydane w drodze decyzji administracyjnej, wymagane jest w przypadku:

Wybierz wszystkie poprawne:

- a. zajęcia pasa drogowego na cele związane z ochroną dróg
- b. zajęcia pasa drogowego na cele niezwiązane z budową drogi
- c. zajęcia pasa drogowego na cele niezwiązane z remontem drogi
- d. zajęcia pasa drogowego na cele związane z przebudową drogi

Pytanie **27**Punkty maks.:  
1,00

Pomiar geodezyjny w toku budowy obejmuje:

Wybierz wszystkie poprawne:

- a. geodezyjną inwentaryzację powykonawczą obiektów lub ich elementów
- b. pomiar przemieszczeń i odkształceń obiektów budowlanych lub ich podłoża
- c. sporządzenie mapy z projektem podziału nieruchomości
- d. geodezyjną obsługę budowy i montażu

Pytanie **28**Punkty maks.:  
1,00

Protokół ze wznowienia znaków granicznych lub wyznaczenia punktów granicznych zawiera m.in.:

Wybierz wszystkie poprawne:

- a. numery działek ewidencyjnych
- b. omówienie skreśleń i poprawek
- c. opis sposobu stabilizacji lub markowania punktów osnowy pomiarowej
- d. identyfikator obrębu ewidencyjnego

Pytanie **29**Punkty maks.:  
1,00

Jaki obiekt przedstawia poniższy znak kartograficzny:



Wybierz wszystkie poprawne:

- a. stacja ładowania pojazdów elektrycznych
- b. słup energetyczny
- c. szafa elektroenergetyczna
- d. włącz do komory

Pytanie **30**Punkty maks.:  
1,00

Usytuowanie obiektu inżynierskiego w terenie:

Wybierz wszystkie poprawne:

- a. powinno być dostosowane do przebiegu drogi
- b. powinno uwzględniać warunki miejscowego planu zagospodarowania przestrzennego
- c. powinno uwzględniać warunki decyzji o warunkach zabudowy i zagospodarowania terenu
- d. powinno uwzględniać warunki decyzji o ustaleniu lokalizacji autostrad płatnych

Organ prowadzący zasób prowadzi w postaci elektronicznej w systemie teleinformatycznym:

Wybierz wszystkie poprawne:

Pytanie **31**Punkty maks.:  
1,00

- a. rejestr zawiadomień o zakończeniu prac geodezyjnych
- b. ewidencję wykonawców prac geodezyjnych
- c. rejestr prac geodezyjnych
- d. ewidencję materiałów zasobu

Pytanie **32**Punkty maks.:  
1,00

W przypadku obiektów liniowych prezentowanych na mapie zasadniczej za pomocą znaku niesymetrycznego element znaku umieszcza się:

Wybierz wszystkie poprawne:

- a. po lewej stronie linii
- b. w dowolnym miejscu linii
- c. na środku linii
- d. po prawej stronie linii

Pytanie **33**Punkty maks.:  
1,00

Zażalenia mogą być wnoszone:

Wybierz wszystkie poprawne:

- a. pisemnie
- b. ustnie do protokołu
- c. za pomocą telefaksu
- d. telegraficznie

Pytanie **34**Punkty maks.:  
1,00

Zasady użytkowania infrastruktury informacji przestrzennej dotyczą :

Wybierz wszystkie poprawne:

- a. wspólnego korzystania z danych przestrzennych
- b. interoperacyjności zbiorów danych przestrzennych i usług danych przestrzennych
- c. danych przestrzennych i metadanych infrastruktury informacji przestrzennej
- d. usług danych przestrzennych

Pytanie **35**Punkty maks.:  
1,00

Wybierz oznaczenia stosowane do oznaczenia rodzaju nawierzchni jezdni na mapie zasadniczej:

Wybierz wszystkie poprawne:

- a. gr - grząska
- b. mb - masa bitumiczna
- c. bt - bardzo twarda
- d. zw - zwarta

Pytanie **36**Punkty maks.:  
1,00

Materiały zasobu pozyskuje się do państwowego zasobu geodezyjnego i kartograficznego w wyniku:

Wybierz wszystkie poprawne:

- a. działań organu prowadzącego zasób
- b. przyjęcia darowizny
- c. realizacji prac geodezyjnych lub prac kartograficznych
- d. archiwizacji materiałów zasobu

Pytanie **37**Punkty maks.:  
1,00

Na naradach koordynacyjnych organizowanych przez starostę koordynuje się:

Wybierz wszystkie poprawne:

- a. sytuowanie projektowanych sieci uzbrojenia terenu w pasach drogowych na terenie projektowanej zwartej zabudowy obszarów wiejskich
- b. sytuowanie projektowanych sieci uzbrojenia terenu na obszarach miast
- c. sytuowanie projektowanych sieci uzbrojenia terenu tylko na obszarach miast
- d. sytuowanie projektowanych sieci uzbrojenia terenu w pasach drogowych na terenie projektowanej luźnej



## zabudowy obszarów wiejskich

Pytanie **38**Punkty maks.:  
1,00

Rejestr prac geodezyjnych i kartograficznych zawiera dane określające:

Wybierz wszystkie poprawne:

- a. daty doręczenia wykonawcy prac geodezyjnych protokołów weryfikacji
- b. wysokość opłaty za udostępnione materiały zasobu
- c. identyfikator wykonawcy wskazany w zgłoszeniu prac geodezyjnych
- d. cel zgłoszonych prac geodezyjnych

Pytanie **39**Punkty maks.:  
1,00Które z wymienionych obiektów nie należą do kategorii obiektów topograficznych (BDOT500) "rzeźba terenu":

Wybierz wszystkie poprawne:

- a. skarpa umocniona
- b. ostroga
- c. rów melioracyjny
- d. pikieta naturalna

Pytanie **40**Punkty maks.:  
1,00

Krajową bazę geodezyjnej ewidencji sieci uzbrojenia terenu (GESUT) prowadzi:

Wybierz wszystkie poprawne:

- a. wszystkie wymienione odpowiedzi są poprawne
- b. Główny Geodeta Kraju
- c. starosta
- d. minister do spraw budownictwa i gospodarki przestrzennej i mieszkaniowej

Pytanie **41**Punkty maks.:  
1,00

Władzę ustawodawczą w Rzeczypospolitej Polskiej sprawują:

Wybierz wszystkie poprawne:

- a. Sądy
- b. Senat
- c. Sejm
- d. Rada Ministrów

Pytanie **42**Punkty maks.:  
1,00

Do podstawowych obowiązków kierownika budowy należy:

Wybierz wszystkie poprawne:

- a. prowadzenie dokumentacji budowy
- b. potwierdzanie faktycznie wykonanych robót budowlanych
- c. zapewnienie geodezyjnego wytyczenia obiektu
- d. kontrolowanie rozliczeń budowy na żądanie inwestora

Pytanie **43**Punkty maks.:  
1,00

Postępowanie bezpieczeństwa przemysłowego, dotyczące sprawdzenia przedsiębiorcy, obejmuje między innymi:

Wybierz wszystkie poprawne:

- a. źródła pochodzenia środków finansowych
- b. system ochrony informacji niejawnych
- c. strukturę kapitału oraz powiązania kapitałowe przedsiębiorcy
- d. strukturę organizacyjną

Pytanie **44**Punkty maks.:  
1,00

Wniesienie wkładu gruntowego przez posiadacza zależnego wymaga zgody:

Wybierz wszystkie poprawne:

- a. wszystkich członków spółdzielni,
- b. Krajowej Rady Spółdzielczej.

- c. członków będących założycielami spółdzielni,
- d. właściciela,

Pytanie **45**Punkty maks.:  
1,00

Podziału na obręby ewidencyjne i określenia ich granic dokonuje:

Wybierz wszystkie poprawne:

- a. wójt w uzgodnieniu z właściwą jednostką statystyki publicznej
- b. wójt
- c. starosta w uzgodnieniu z Głównym Geodetą Kraju
- d. starosta w uzgodnieniu z właściwą radą gminy

Pytanie **46**Punkty maks.:  
1,00

Pomiar kontrolny przy wykonywaniu pomiarów z wykorzystaniem kinematycznych technik satelitarnych GNSS wykonuje się:

Wybierz wszystkie poprawne:

- a. na punkcie o znanych współrzędnych
- b. na dwóch punktach osnowy wysokościowej w odległości nie większej niż 5 km od punktów będących przedmiotem pomiaru
- c. przynajmniej raz dziennie
- d. przed rozpoczęciem pomiarów

Pytanie **47**Punkty maks.:  
1,00

Drogi krajowe stanowią własność:

Wybierz wszystkie poprawne:

- a. Generalnej Dyrekcji Dróg Krajowych i Autostrad
- b. Skarbu Państwa
- c. ministra właściwego do spraw transportu
- d. właściwego samorządu województwa

Pytanie **48**Punkty maks.:  
1,00

Ewidencja gruntów i budynków obejmuje dane podmiotowe dotyczące:

Wybierz wszystkie poprawne:

- a. lokali
- b. daty nabycia prawa własności
- c. adresów zameldowania na pobyt stały albo siedziby podmiotów
- d. gruntów

Pytanie **49**Punkty maks.:  
1,00

Osoba wykonująca prace geodezyjne i kartograficzne ma prawo:

Wybierz wszystkie poprawne:

- a. wstępu na grunt i do obiektów budowlanych
- b. nieodpłatnego umieszczania znaków geodezyjnych na budynkach
- c. dokonywania przecinek drzew i krzewów, niezbędnych do wykonania prac geodezyjnych
- d. umieszczania na gruntach i obiektach budowlanych budowli triangulacyjnych

Pytanie **50**Punkty maks.:  
1,00

Organ administracji publicznej sporządza zwięzły protokół z każdej czynności postępowania. W szczególności sporządza się protokół:

Wybierz wszystkie poprawne:

- a. przesłuchania strony, świadka i biegłego
- b. przyjęcia wniesionego ustnie podania
- c. ustnego ogłoszenia decyzji i postanowienia
- d. z każdej czynności postępowania, mającej istotne znaczenie dla rozstrzygnięcia sprawy, chyba że czynność została w inny sposób utrwalona na piśmie



Pytanie **51**Punkty maks.:  
1,00

Informacje zawarte w operacie ewidencyjnym udostępniane są w formie:

Wybierz wszystkie poprawne:

- a. tylko wypisów i wyrysów, kopii dokumentów
- b. tylko wypisów, wyrysów, kopii dokumentów, plików komputerowych
- c. tylko wypisów i wyrysów
- d. wypisów, wyrysów, kopii dokumentów, plików komputerowych, usług sieciowych

Pytanie **52**Punkty maks.:  
1,00

Przez "punkt adresowy" należy rozumieć:

Wybierz wszystkie poprawne:

- a. unikalny numer
- b. adres
- c. jednoznaczny opis obiektu, realizowany przez wskazanie miejscowości, kodu pocztowego oraz ulicy lub placu i numeru porządkowego przy tej ulicy lub tym placu
- d. lokalizację przestrzenną adresu wyrażoną przez współrzędne płaskie prostokątne x, y

Pytanie **53**Punkty maks.:  
1,00

Dokumenty i materiały przeznaczone dla podmiotu, na rzecz którego wykonawca prac geodezyjnych wykonał prace geodezyjne, sporządzane w postaci nieelektronicznej opatruje się klauzulą urzędową zawierającą:

Wybierz wszystkie poprawne:

- a. identyfikator ewidencyjny operatu technicznego
- b. sumę kontrolną dokumentu elektronicznego według algorytmu SHA-2 (SHA-256)
- c. datę przyjęcia operatu technicznego do zasobu
- d. podpis osoby reprezentującej organ prowadzący zasób

Pytanie **54**Punkty maks.:  
1,00

Wójt prowadzi sprawy z zakresu geodezji i kartografii - powierzone mu przez starostę na wniosek gminy - przy pomocy:

Wybierz wszystkie poprawne:

- a. naczelnika referatu geodezji i kartografii
- b. geodety powiatowego
- c. naczelnika wydziału geodezji i kartografii
- d. geodety gminnego wchodzącego w skład urzędu gminy

Pytanie **55**Punkty maks.:  
1,00

Operat techniczny zaewidencjonowany w roku 1982 pod numerem 113 w powiatowym zasobie geodezyjnym i kartograficznym (lubartowskim-kod TERYT 0608) ma nadany numer ewidencyjny:






Wybierz wszystkie poprawne:

- a. P.LUBART.1982.113
- b. 1982.P.0608.113
- c. P.0608.1982.113
- d. P.0608.113.1982

Pytanie **56**Punkty maks.:  
1,00

Które znaki kartograficzne stanowią obiekty bazy geodezyjnej ewidencji sieci uzbrojenia terenu (GESUT):

Wybierz wszystkie poprawne:

- a. 
- b. 
- c. 
- d.  

Pytanie **57**

Punkty maks.:  
1,00

Wrys z mapy ewidencyjnej jest fragmentem mapy ewidencyjnej zawierającym również:

Wybierz wszystkie poprawne:

- a. informację o skali mapy
- b. projektowane budynki
- c. imię i nazwisko wykonawcy prac geodezyjnych
- d. oznaczenie kierunku północy

Pytanie **58**

Punkty maks.:  
1,00

Informację o tym, że dane objęte modernizacją zawarte w projekcie operatu opisowo-kartograficznego stają się danymi ewidencji gruntów i budynków, starosta ogłasza między innymi:

Wybierz wszystkie poprawne:

- a. w dzienniku urzędowym województwa
- b. na tablicy ogłoszeń w siedzibie właściwego urzędu gminy
- c. w Biuletynie Informacji Publicznej na stronie podmiotowej starostwa
- d. na tablicy ogłoszeń w siedzibie starostwa powiatowego

Pytanie **59**

Punkty maks.:  
1,00

Grunt zajęty przez ciek naturalny:

Wybierz wszystkie poprawne:

- a. stanowi odrębną działkę ewidencyjną jeśli wody w tym cieku płyną korytem naturalnym
- b. stanowi odrębną działkę ewidencyjną jeśli wody w tym cieku płyną korytem uregulowanym odkrytym
- c. stanowi odrębną działkę ewidencyjną niezależnie od tego, czy wody w tym cieku płyną korytem naturalnym, czy korytem uregulowanym odkrytym lub zakrytym
- d. nie stanowi odrębnej działki ewidencyjnej niezależnie od tego, czy wody w tym cieku płyną korytem naturalnym, czy korytem uregulowanym odkrytym lub zakrytym

Pytanie **60**

Punkty maks.:  
1,00

O uwzględnieniu lub odrzuceniu zarzutów składanych przez podmioty w postępowaniu dotyczącym modernizacji ewidencji gruntów i budynków rozstrzyga:

Wybierz wszystkie poprawne:

- a. wojewódzki inspektor nadzoru geodezyjnego i kartograficznego
- b. marszałek województwa
- c. wojewoda
- d. starosta