



## Wydział Test

Pytanie 1

Punkty maks.:  
1,00

Klauzula urzędowa, którą opatruje się materiały w postaci nieelektronicznej przyjęte do powiatowego zasobu geodezyjnego i kartograficznego, zawiera:

Wybierz wszystkie poprawne:

- a. identyfikator ewidencyjny materiału zasobu
- b. datę udostępnienia materiału zasobu
- c. imię i nazwisko wykonawcy prac geodezyjnych
- d. nazwę organu prowadzącego zasób

Pytanie 2

Punkty maks.:  
1,00

Jednostki miar inne niż legalne jednostki miar mogą być stosowane na mocy porozumień międzynarodowych:

Wybierz wszystkie poprawne:

- a. w transporcie kolejowym
- b. w transporcie morskim
- c. w transporcie lotniczym
- d. w geodezji

Pytanie 3

Punkty maks.:  
1,00

Prace geodezyjne obejmują:

Wybierz wszystkie poprawne:

- a. wykonywanie map topograficznych
- b. przetwarzanie wyników pomiarów grawimetrycznych
- c. projektowanie i wykonywanie pomiarów astronomicznych
- d. wykonywanie zobrażeń lotniczych oraz zobrażeń satelitarnych

Pytanie 4

Punkty maks.:  
1,00

Właściciel nieruchomości, na której znajdują się znaki geodezyjne jest obowiązany:

Wybierz wszystkie poprawne:

- a. niezwłocznie zawiadomić właściwego marszałka o uszkodzeniu tych znaków
- b. niezwłocznie zawiadomić właściwego marszałka o przemieszczeniu tych znaków
- c. niezwłocznie zawiadomić właściwego starostę o zagrożeniu przez nie bezpieczeństwem życia
- d. nie dokonywać czynności powodujących zniszczenie tych znaków

Pytanie 5

Punkty maks.:  
1,00

Jaki obiekt przedstawia poniższy znak kartograficzny:



Wybierz wszystkie poprawne:

- a. wieża telekomunikacyjna
- b. kontur budynku podziemnego
- c. słup przewodów napowietrznych
- d. inny obiekt zagospodarowania terenu

Pytanie 6

Punkty maks.:  
1,00

Jaki organ jest organem wyższego stopnia w stosunku do organów jednostek samorządu terytorialnego?

Wybierz wszystkie poprawne:

- a. Samorządowe kolegia odwoławcze, chyba że ustawy szczególne stanowią inaczej
- b. Marszałkowie Województw
- c. Wojewodowie, chyba że ustawy szczególne stanowią inaczej
- d. Właściwi w sprawie ministrowie, chyba że ustawy szczególne stanowią inaczej

Pytanie **7**Punkty maks.:  
1,00

Geodezyjne pomiary sytuacyjne, mające na celu wznowienie znaków granicznych lub wyznaczenie punktów granicznych, wykonuje się z wykorzystaniem:

Wybierz wszystkie poprawne:

- a. opracowań na potrzeby ewidencji gruntów
- b. założonej w tym celu, pomiarowej osnowy sytuacyjnej
- c. materiałów zasobu umożliwiających odtworzenie położenia tych punktów w terenie
- d. współrzędnych punktów granicznych pozyskanych w ramach modernizacji ewidencji gruntów i budynków

Pytanie **8**Punkty maks.:  
1,00

Z państwowego zasobu geodezyjnego i kartograficznego udostępnia się:

Wybierz wszystkie poprawne:

- a. wyłącznie kopie materiałów zasobu
- b. oryginał materiału zasobu, w miejscu jego przechowywania w obecności pracownika wyznaczonego przez organ prowadzący zasób, w przypadku materiałów zasobu w postaci niefizycznej
- c. oryginały materiału zasobu poza miejsce jego przechowywania, jeżeli jest to niezbędne do wykonania zadań publicznych określonych przez ustawy
- d. kopie materiałów zasobu

Pytanie **9**Punkty maks.:  
1,00

Podstawę przyjęcia wyników zgłoszonych prac geodezyjnych do państwowego zasobu geodezyjnego i kartograficznego stanowi:

Wybierz wszystkie poprawne:

- a. dokument potwierdzający odbiór zbiorów danych lub innych materiałów jako przedmiotu zamówienia publicznego realizowanego w związku z wykonywaniem zadań organów administracji geodezyjnej i kartograficznej
- b. zawiadomienie organu Służby Geodezyjnej i Kartograficznej o zakończeniu prac geodezyjnych
- c. dokument potwierdzający odbiór zbiorów danych lub innych materiałów jako przedmiotu zamówienia publicznego realizowanego w związku z wykonywaniem zadań Głównego Geodety Kraju
- d. pozytywny wynik weryfikacji

Pytanie **10**Punkty maks.:  
1,00

Modyfikacji współrzędnych punktów granicznych dokonuje się, jeżeli odchyłka wyrażona przez pierwiastek z sumy kwadratów różnic między dotychczasowymi współrzędnymi punktu granicznego i współrzędnymi tego punktu jest:

Wybierz wszystkie poprawne:

- a. mniejsza niż 0,15 m
- b. większa niż 0,15 m
- c. większa niż 0,10 m
- d. równa 0,15 m

Pytanie **11**Punkty maks.:  
1,00

Danymi ewidencyjnymi dotyczącymi punktu granicznego są:

Wybierz wszystkie poprawne:

- a. identyfikator punktu granicznego
- b. informacja dotycząca spełnienia standardów dokładnościowych
- c. rodzaj stabilizacji
- d. oznaczenie punktu granicznego w materiale źródłowym

Pytanie **12**Punkty maks.:  
1,00

Podstawową skalą mapy zasadniczej jest skala:

Wybierz wszystkie poprawne:

- a. 1:10 000
- b. 1:1000
- c. 1:500
- d. 1:250

Pytanie **13**

Punkty maks.:  
1,00

Decyzja wydana na podstawie Kodeksu postępowania administracyjnego powinna zawierać uzasadnienie:  
Wybierz wszystkie poprawne:

- a. faktyczne
- b. wyjaśniające
- c. prawne
- d. merytoryczne

Pytanie **14**

Punkty maks.:  
1,00

Zakres wyłączenia z projektu budowlanego zawierającego obiekty budowlane, służące obronności i bezpieczeństwu państwa, części projektu zawierające układy funkcjonalne mogące ujawnić charakter, przeznaczenie i nazwę obiektu określa:

Wybierz wszystkie poprawne:

- a. kierownik budowy
- b. organ wydający pozwolenie na budowę
- c. inspektor nadzoru inwestorskiego
- d. inwestor

Pytanie **15**

Punkty maks.:  
1,00

Nadanie miejscowości statusu miasta dokonywane jest :

Wybierz wszystkie poprawne:

- a. w sposób uwzględniający układ urbanistyczny
- b. w sposób uwzględniający charakter zabudowy
- c. w sposób uwzględniający infrastrukturę techniczną
- d. w sposób uwzględniający infrastrukturę społeczną

Pytanie **16**

Punkty maks.:  
1,00

Jeżeli biegły, który bez należytego usprawiedliwienia nie stawił się na wezwanie organu prowadzącego postępowanie, organ ten może między innymi:

Wybierz wszystkie poprawne:

- a. nałożyć karę pieniężną w wysokości do 3000 zł
- b. ponownie wezwać biegłego
- c. nałożyć karę pieniężną w wysokości 5000 zł
- d. wyjątkowo zarządzić zatrzymanie i przymusowe doprowadzenie biegłego

Pytanie **17**

Punkty maks.:  
1,00

Starosta podaje do publicznej wiadomości informację o rozpoczęciu prac geodezyjnych związanych z modernizacją ewidencji gruntów i budynków, poprzez jej wywieszenie na tablicy ogłoszeń w siedzibie starostwa powiatowego na okres:

Wybierz wszystkie poprawne:

- a. 14 dni
- b. 21 dni kalendarzowych
- c. 15 dni kalendarzowych
- d. 14 dni roboczych

Pytanie **18**

Punkty maks.:  
1,00

Prezydent Rzeczypospolitej Polskiej:

Wybierz wszystkie poprawne:

- a. jest najwyższym zwierzchnikiem Sił Zbrojnych Rzeczypospolitej Polskiej
- b. jest najwyższym przedstawicielem Rzeczypospolitej Polskiej
- c. jest wybierany na 4-letnią kadencję
- d. kieruje administracją rządową

Pytanie **19**Punkty maks.:  
1,00

Rezultaty narady koordynacyjnej, zarządzanej przez starostę w celu uzgodnienia przebiegu projektowanych sieci uzbrojenia terenu, utrwała się w formie:

Wybierz wszystkie poprawne:

- a. postanowienia
- b. oświadczenia
- c. opinii
- d. protokołu

Pytanie **20**Punkty maks.:  
1,00

Przez umowę o dzieło strony zobowiązują się do:

Wybierz wszystkie poprawne:

- a. oszczędnego gospodarowania materiałami zakupionymi do realizacji dzieła
- b. terminowego wykonania dzieła
- c. przyjmujący zamówienie zobowiązuje się do wykonania oznaczonego dzieła, a zamawiający do zapłaty wynagrodzenia
- d. zapewnienia odpowiedniej jakości dzieła

Pytanie **21**Punkty maks.:  
1,00

Sieć niezidentyfikowaną oznacza się w GESUT literą:

Wybierz wszystkie poprawne:

- a. i
- b. y
- c. x
- d. n

Pytanie **22**Punkty maks.:  
1,00

Wyniki pomiaru kontrolnego, przy wykonywaniu pomiarów z wykorzystaniem technik satelitarnych GNSS, muszą spełniać warunki:

Wybierz wszystkie poprawne:

- a.  $dx \leq 0,09$  m i  $dy \leq 0,12$  m oraz  $dh \leq 0,09$  m jeżeli punkt kontrolny posiada określoną wysokość
- b.  $dx \leq 0,12$  m i  $dy \leq 0,12$  m oraz  $dh \leq 0,09$  m jeżeli punkt kontrolny posiada określoną wysokość
- c.  $dx \leq 0,09$  m i  $dy \leq 0,09$  m oraz  $dh \leq 0,12$  m jeżeli punkt kontrolny posiada określoną wysokość
- d.  $dx \leq 0,12$  m i  $dy \leq 0,12$  m oraz  $dh \leq 0,12$  m jeżeli punkt kontrolny posiada określoną wysokość

Pytanie **23**Punkty maks.:  
1,00

Jaki obiekt przedstawia poniższy znak kartograficzny:



Wybierz wszystkie poprawne:

- a. włącz do komory
- b. stacja ładowania pojazdów elektrycznych
- c. szafa elektroenergetyczna
- d. słup energetyczny

Pytanie **24**Punkty maks.:  
1,00

Informacjom niejawnym nadaje się klauzule :

Wybierz wszystkie poprawne:

- a. bezpieczne
- b. zastrzeżone
- c. ściśle poufne
- d. tajne

Pytanie **25**Punkty maks.:  
1,00

Księgi wieczyste :

Wybierz wszystkie poprawne:

- a. prowadzi się w celu ustalenia stanu prawnego nieruchomości

- b. są zastrzeżone
- c. prowadzi się w celu ustalenia stanu faktycznego nieruchomości
- d. prowadzi się w celu zabezpieczenia hipoteki

Pytanie **26**Punkty maks.:  
1,00

Geodezyjny pomiar sytuacyjny wykonuje się w sposób zapewniający określenie położenia szczegółu terenowego względem punktów poziomej osnowy geodezyjnej lub pomiarowej, z dokładnością nie mniejszą niż:

Wybierz wszystkie poprawne:

- a. 0,20 m – w przypadku szczegółów terenowych II grupy
- b. 0,30 m – w przypadku szczegółów terenowych III grupy
- c. 0,15 m – w przypadku szczegółów terenowych II grupy
- d. 0,10 m – w przypadku szczegółów terenowych I grupy

Pytanie **27**Punkty maks.:  
1,00

Władzę ustawodawczą w Rzeczypospolitej Polskiej sprawują:

Wybierz wszystkie poprawne:

- a. Rada Ministrów
- b. Sądy
- c. Sejm
- d. Senat

Pytanie **28**Punkty maks.:  
1,00

Wzory klauzul urzędowych, którymi opatruje się dokumenty i materiały przeznaczone dla podmiotu, na rzecz którego wykonawca prac geodezyjnych wykonał prace geodezyjne:

Wybierz wszystkie poprawne:

- a. określone są przez Głównego Geodetę Kraju
- b. określone są przez właściwy organ obsługujący zgłoszenie prac geodezyjnych
- c. określone są w załączniku do rozporządzenia w sprawie organizacji i trybu prowadzenia państwowego zasobu geodezyjnego i kartograficznego
- d. nie są określone przepisem prawa

Pytanie **29**Punkty maks.:  
1,00

Centralnym organem administracji rządowej właściwym w sprawach geodezji i kartografii jest:

Wybierz wszystkie poprawne:

- a. Główny Geodeta Kraju
- b. Minister właściwy do spraw budownictwa, planowania i zagospodarowania przestrzennego oraz mieszkalnictwa
- c. Główny Urząd Geodezji i Kartografii
- d. Prezes Rady Ministrów

Pytanie **30**Punkty maks.:  
1,00

Materiałom gromadzonym w państwowym zasobie geodezyjnym i kartograficznym nadawany jest identyfikator składający się z:

Wybierz wszystkie poprawne:

- a. dwóch członów oddzielonych kropkami
- b. pięciu członów oddzielonych kropkami
- c. czterech członów oddzielonych kropkami
- d. trzech członów oddzielonych kropkami

Pytanie **31**Punkty maks.:  
1,00

Obowiązek stosowania legalnych jednostek miar dotyczy między innymi:

Wybierz wszystkie poprawne:

- a. wyrażania wartości wielkości fizycznych
- b. przyrządów pomiarowych
- c. innych przyrządów niż pomiarowe

- d. wykonywania pomiarów

Pytanie **32**

Punkty maks.:  
1,00

Numery działek ewidencyjnych, które w wyniku zmiany granic obrębów znalazły się w granicach innego obrębu ewidencyjnego oznacza się:

Wybierz wszystkie poprawne:

- a. ułamków zwykłych, utworzonych w wyniku dodania do liczników ułamków zwykłych, którymi dotychczas były oznaczone te działki, stałej wartości, stanowiącej krotność liczby 1000
- b. w postaci ułamków zwykłych, utworzonych w wyniku dodania do mianowników ułamków zwykłych, którymi dotychczas były oznaczone te działki, stałej wartości, stanowiącej krotność liczby 1000, niewykorzystanej dotychczas do numeracji działek ewidencyjnych w tym obrębie
- c. kolejnymi liczbami naturalnymi po dowolnym wykorzystanym numerze działki ewidencyjnej w obrębie ewidencyjnym
- d. kolejnymi liczbami naturalnymi po najwyższym wykorzystanym numerze działki ewidencyjnej w obrębie ewidencyjnym

Pytanie **33**

Punkty maks.:  
1,00

Rada Infrastruktury Informacji Przestrzennej działa przy:

Wybierz wszystkie poprawne:

- a. Prezesie Rady Ministrów
- b. Głównym Urzędzie Geodezji i Kartografii
- c. Głównym Geodecie Kraju
- d. Ministrze właściwym do spraw budownictwa, planowania i zagospodarowania przestrzennego oraz mieszkalnictwa

Pytanie **34**

Punkty maks.:  
1,00

Działki ewidencyjne położone w granicach jednego obrębu ewidencyjnego i będące przedmiotem identycznych praw i odpowiadających im udziałów tworzą:

Wybierz wszystkie poprawne:

- a. jednostkę ewidencyjną
- b. jedno gospodarstwo rolne
- c. jednostkę rejestrową gruntów
- d. obręb ewidencyjny

Pytanie **35**

Punkty maks.:  
1,00

W toku postępowania organy administracji publicznej:

Wybierz wszystkie poprawne:

- a. współdziałają ze sobą w zakresie niezbędnym do dokładnego wyjaśnienia stanu faktycznego i prawnego sprawy
- b. działają tylko na wniosek stron postępowania
- c. stoją na straży praworządności
- d. podejmują z urzędu wszelkie czynności niezbędne do załatwienia sprawy

Pytanie **36**

Punkty maks.:  
1,00

Szkice graniczne, stanowiące integralną część protokołu ustalenia przebiegu granic działek ewidencyjnych, zawierają:

Wybierz wszystkie poprawne:

- a. podpis geodety uprawnionego, który sporządził szkic graniczny
- b. informacje o spornych odcinkach granic działek ewidencyjnych
- c. podpisy osób zawiadomionych o czynnościach ustalenia granic działek ewidencyjnych
- d. numer księgi wieczystej

Pytanie **37**

Punkty maks.:  
1,00

Szkic tyczenia zawiera m.in.

Wybierz wszystkie poprawne:

- a. podpis inwestora



- b. podpis kierownika budowy
- c. rysunek obiektów podlegających wytyczeniu
- d. wyniki pomiaru kontrolnego wytyczonych elementów obiektów

Pytanie **38**Punkty maks.:  
1,00

Pomiarową osnowę wysokościową realizuje się:

Wybierz wszystkie poprawne:

- a. metodą niwelacji geometrycznej
- b. metodą profili podłużnych
- c. metodą niwelacji siatkowej
- d. techniką kinematyczną GNSS

Pytanie **39**Punkty maks.:  
1,00

Za wydanie dziennika praktyki zawodowej osoba zainteresowana ponosi opłatę w wysokości:

Wybierz wszystkie poprawne:

- a. nieprzekraczające 1,5 % kwoty przeciętnego wynagrodzenia w gospodarce narodowej w roku poprzedzającym wydanie dziennika, ogłaszanego przez Prezesa Głównego Urzędu Statystycznego
- b. 75 zł
- c. 50 zł
- d. nieprzekraczającej 3,5 % kwoty przeciętnego wynagrodzenia w gospodarce narodowej w roku poprzedzającym wydanie dziennika, ogłaszanego przez Prezesa Głównego Urzędu Statystycznego

Pytanie **40**Punkty maks.:  
1,00

Rozgraniczenia nieruchomości dokonują:

Wybierz wszystkie poprawne:

- a. starostowie
- b. wójtowie (burmistrzowie, prezydenci miast)
- c. sądy
- d. geodeci posiadający odpowiednie uprawnienia

Pytanie **41**Punkty maks.:  
1,00

Dokumenty i materiały przeznaczone dla podmiotu, na rzecz którego wykonawca prac geodezyjnych wykonał prace geodezyjne, sporządzane w postaci nieelektronicznej opatruje się klauzulą urzędową zawierającą:

Wybierz wszystkie poprawne:

- a. identyfikator ewidencyjny operatu technicznego
- b. podpis osoby reprezentującej organ prowadzący zasób
- c. datę przyjęcia operatu technicznego do zasobu
- d. sumę kontrolną dokumentu elektronicznego według algorytmu SHA-2 (SHA-256)

Pytanie **42**Punkty maks.:  
1,00

Obrońcą obwinionego w postępowaniu wszczętym przez rzecznika dyscyplinarnego w sprawie odpowiedzialności dyscyplinarnej osób wykonujących samodzielne funkcje w dziedzinie geodezji i kartografii może być:



Wybierz wszystkie poprawne:




- a. osoba będąca członkiem dowolnej organizacji społeczno-zawodowej
- b. adwokat
- c. osoba będąca członkiem organizacji społeczno-zawodowej działającej w dziedzinie geodezji i kartografii
- d. radca prawny

Pytanie **43**Punkty maks.:  
1,00

Które znaki kartograficzne stanowią obiekty bazy geodezyjnej ewidencji sieci uzbrojenia terenu (GESUT):

Wybierz wszystkie poprawne:

- a. 
- b. 

- c. 
- d.  

Pytanie **44**Punkty maks.:  
1,00

W przypadku, gdy dla danego obiektu bazy BDOT500 dopuszcza się reprezentację geometryczną obiektu za pomocą punktu albo poligonu, reprezentację punktową stosuje się:

Wybierz wszystkie poprawne:

- a. jeżeli średnica obiektu lub jego wymiary są mniejsze niż 0,75 m lub równe 0,75 m
- b. jeżeli średnica obiektu lub jego wymiary są mniejsze niż 0,50 m lub równe 0,50 m
- c. jeżeli średnica obiektu lub jego wymiary są mniejsze niż 0,25 m lub równe 0,25 m
- d. jeżeli średnica obiektu lub jego wymiary są mniejsze niż 0,65 m lub równe 0,65 m

Pytanie **45**Punkty maks.:  
1,00

Odmowa przyjęcia do zasobu geodezyjnego kartograficznych materiałów sporządzonych w ramach wykonanej pracy geodezyjnej przyjmuje postać:

Wybierz wszystkie poprawne:

- a. decyzji administracyjnej o odmowie
- b. informacji na piśmie o odmowie oraz o możliwości odwołania do wojewódzkiego inspektora nadzoru geodezyjnego i kartograficznego
- c. zarządzenia o odmowie
- d. informacji o odmowie oraz o przekazaniu dokumentacji do weryfikacji do wojewódzkiego inspektora nadzoru geodezyjnego i kartograficznego

Pytanie **46**Punkty maks.:  
1,00

System identyfikatorów i nazw miejscowości obejmuje:

Wybierz wszystkie poprawne:

- a. identyfikator miejscowości
- b. urzędową nazwę miejscowości
- c. powiat na terenie którego jest położona miejscowość
- d. rodzaj miejscowości

Pytanie **47**Punkty maks.:  
1,00

Ze względu na wymaganą dokładność określenia położenia punktów szczegółów terenowych wyróżnia się I, II i III grupę szczegółów terenowych, do grupy III nie są zaliczone szczegóły:

Wybierz wszystkie poprawne:

- a. oddziały leśne na obszarach lasów i parków narodowych
- b. zieleńce
- c. sztuczne zbiorniki wodne
- d. odkrywki glebowe dla potrzeb gleboznawczej klasyfikacji gruntów

Pytanie **48**Punkty maks.:  
1,00

Odwołanie od orzeczenia wojewódzkiej komisji dyscyplinarnej do Odwoławczej Komisji Dyscyplinarnej wnosi się w terminie:

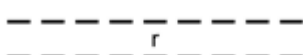
Wybierz wszystkie poprawne:

- a. 7 dni od doręczenia orzeczenia wraz z uzasadnieniem
- b. jednego miesiąca od doręczenia orzeczenia wraz z uzasadnieniem
- c. 14 dni od doręczenia orzeczenia wraz z uzasadnieniem
- d. 30 dni od doręczenia orzeczenia wraz z uzasadnieniem

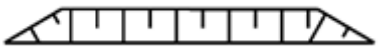
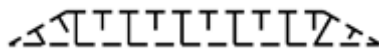

Pytanie **49**Punkty maks.:  
1,00

Który znak kartograficzny przedstawia skarpę umocnioną:

Wybierz wszystkie poprawne:

- a. 



- b. 
- c. 
- d. 

Pytanie **50**Punkty maks.:  
1,00

Do gruntów leśnych oraz zadrzewionych i zakrzewionych zaliczamy:

Wybierz wszystkie poprawne:

- a. grunty zadrzewione i zakrzewione
- b. grunty pod rowami
- c. grunty zadrzewione i zakrzewione na użytkach rolnych
- d. tereny rekreacyjno-wypoczynkowe

Pytanie **51**Punkty maks.:  
1,00

Podmioty zarządzające sieciami uzbrojenia terenu uzgadniają usunięcie kolizji przebiegu sieci z inwestycją dotyczącą linii kolejowej w terminie:

Wybierz wszystkie poprawne:

- a. 21 dni od dnia otrzymania wniosku właściwej jednostki samorządu terytorialnego
- b. 7 dni od dnia otrzymania wniosku właściwej jednostki samorządu terytorialnego
- c. niezwłocznie
- d. 14 dni od dnia otrzymania wniosku właściwej jednostki samorządu terytorialnego

Pytanie **52**Punkty maks.:  
1,00

Odległość granicy pasa drogowego od zewnętrznej krawędzi nasypu dla dróg ekspresowych powinna wynosić:

Wybierz wszystkie poprawne:

- a. co najmniej 3 m
- b. co najmniej 2 m
- c. co najmniej 4 m
- d. co najmniej 0,75m

Pytanie **53**Punkty maks.:  
1,00

Protokół graniczny powinien zawierać:

Wybierz wszystkie poprawne:

- a. opis wzajemnych ustępstw
- b. oświadczenia stron
- c. opis przebiegu granic
- d. opis utrwalenia punktów granicznych

Pytanie **54**Punkty maks.:  
1,00

Dla lokali wchodzących w skład nieruchomości lokalowych w rejestrze cen nieruchomości przechowuje się następujące informacje:

Wybierz wszystkie poprawne:

- a. powierzchnię pomieszczeń przynależnych do lokalu
- b. kwotę podatku CIT
- c. liczbę izb
- d. adres lokalu

Pytanie **55**Punkty maks.:  
1,00

Infrastruktura informacji przestrzennej obejmuje zbiory danych przestrzennych:

Wybierz wszystkie poprawne:

- a. utrzymywane przez organ administracji lub w jego imieniu
- b. odnoszące się do terytorium Rzeczypospolitej Polskiej
- c. utrzymywane przez osobę trzecią, której umożliwiono włączenie się do infrastruktury

- d. występujące w postaci analogowej

Pytanie **56**

Punkty maks.:  
1,00

O dokonanych zmianach w danych ewidencyjnych starosta, w terminie 14 dni od dokonania zmiany w ewidencji, zawiadamia:

Wybierz wszystkie poprawne:

- a. organy ścigania
- b. organy podatkowe
- c. wydział ksiąg wieczystych właściwego miejscowo sądu rejonowego - w przypadku zmian danych objętych działem IV ksiąg wieczystych
- d. wydział ksiąg wieczystych właściwego miejscowo sądu rejonowego - w przypadku zmian danych objętych działem I ksiąg wieczystych

Pytanie **57**

Punkty maks.:  
1,00

Materiały zasobu w postaci nielektronicznej przyjęte do państwowego zasobu geodezyjnego i kartograficznego przetwarzają się sukcesywnie do postaci dokumentów elektronicznych nie dłużej niż:

Wybierz wszystkie poprawne:

- a. do dnia 31 grudnia 2024 r.
- b. do dnia 31 grudnia 2021 r.
- c. do dnia 31 grudnia 2023 r.
- d. do dnia 31 grudnia 2022 r.

Pytanie **58**

Punkty maks.:  
1,00

Komu uczestnicy scalenia w terminie 14 dni od dnia okazania projektu mogą zgłaszać zastrzeżenia do projektu scalenia:

Wybierz wszystkie poprawne:

- a. staroście
- b. radzie uczestników scalenia
- c. wójtowi
- d. geodecie projektantowi

Pytanie **59**

Punkty maks.:  
1,00

Faktyczne granice pasów południkowych w układzie PL-2000 wyznacza się:

Wybierz wszystkie poprawne:

- a. żadne z powyższych
- b. wzdłuż trzech pasów południkowych o rozciągłości równej  $4^\circ$  długości geodezyjnej każdy
- c. wzdłuż granic jednostek administracyjnych szczebla wojewódzkiego
- d. wzdłuż granic jednostek administracyjnych szczebla powiatowego

Pytanie **60**

Punkty maks.:  
1,00

Obiekt mostowy to:

Wybierz wszystkie poprawne:

- a. budowla przeznaczona do przeprowadzenia samodzielnego ciągu pieszego
- b. budowla przeznaczona do przeprowadzenia szlaku wędrówek zwierząt dziko żyjących
- c. budowla przeznaczona do przeprowadzenia drogi
- d. kładka