



Wydział Test

Pytanie 1

Punkty maks.:
1,00

Źródłami danych wykorzystywanych przy zakładaniu albo modernizacji ewidencją są:

Wybierz wszystkie poprawne:

- a. dane zawarte w dokumentach udostępnionych przez zainteresowane osoby, organy i jednostki organizacyjne
- b. dane zawarte w innych ewidencjach i rejestrach
- c. wyniki pomiarów fotogrametrycznych
- d. wyniki pomiarów geodezyjnych lub oględzin

Pytanie 2

Punkty maks.:
1,00

Do samodzielnego lokalu mieszkalnego mogą przynależeć, jako jego części składowe, pomieszczenia takie jak:

Wybierz wszystkie poprawne:

- a. komórka
- b. strych
- c. piwnica
- d. garaż

Pytanie 3

Punkty maks.:
1,00Przepisów Kodeksu postępowania administracyjnego nie stosuje się do:

Wybierz wszystkie poprawne:

- a. udzielania ulg w przypadku wymierzonej administracyjnej kary pieniężnej
- b. postępowania w sprawach karnych skarbowych
- c. europejskiej współpracy administracyjnej
- d. postępowania w sprawach wydawania zaświadczeń

Pytanie 4

Punkty maks.:
1,00

Dla każdego nowo zakładanego punktu osnowy geodezyjnej sporządza się opis topograficzny zawierający co najmniej:

Wybierz wszystkie poprawne:

- a. współrzędne geodezyjne punktu z dokładnością do 0,001"
- b. szkic lokalizacyjny
- c. dane dotyczące stabilizacji
- d. numer kancelaryjny

Pytanie 5

Punkty maks.:
1,00

Organ prowadzący zasób prowadzi w postaci elektronicznej w systemie teleinformatycznym:

Wybierz wszystkie poprawne:

- a. rejestr prac geodezyjnych
- b. rejestr zawiadomień o zakończeniu prac geodezyjnych
- c. ewidencję wykonawców prac geodezyjnych
- d. ewidencję materiałów zasobu

Pytanie 6

Punkty maks.:
1,00

Do zadań starosty jako organu administracji geodezyjnej i kartograficznej należy między innymi:

Wybierz wszystkie poprawne:

- a. prowadzenie krajowej bazy GESUT dla obszaru powiatu
- b. prowadzenie rejestru numeracji porządkowej nieruchomości dla obszaru powiatu
- c. prowadzenie gleboznawczej klasyfikacji gruntów
- d. zakładanie osnów szczegółowych

Pytanie **7**Punkty maks.:
1,00

W przypadku wzajemnego przecinania się gruntów zajętych pod linie kolejowe, drogi publiczne lub kanały przy ustalaniu granic działek ewidencyjnych stosuje się następujące zasady:

Wybierz wszystkie poprawne:

- a. drogi wyższej kategorii wybudowane na powierzchni gruntu dzielą drogi niższej kategorii wybudowane na powierzchni gruntu na odrębne działki ewidencyjne
- b. linie kolejowe wybudowane nad powierzchnią gruntu dzielą drogi publiczne wybudowane nad powierzchnią gruntu na odrębne działki ewidencyjne
- c. drogi wewnętrzne dzielą drogi publiczne na odrębne działki ewidencyjne
- d. kryte kanały i rurociągi dzielą linie kolejowe oraz drogi publiczne na odrębne działki ewidencyjne

Pytanie **8**Punkty maks.:
1,00

Działki ewidencyjne położone w granicach jednego obrębu ewidencyjnego i będące przedmiotem identycznych praw i odpowiadających im udziałów tworzą:

Wybierz wszystkie poprawne:

- a. jednostkę rejestrową gruntów
- b. jednostkę ewidencyjną
- c. obręb ewidencyjny
- d. jedno gospodarstwo rolne

Pytanie **9**Punkty maks.:
1,00

Średni błąd położenia i wysokości punktów pomiarowej osnowy poziomej i wysokościowej odpowiednio:

Wybierz wszystkie poprawne:

- a. nie może być większy niż 0,10m względem punktów poziomej osnowy geodezyjnej i 0,05m względem punktów wysokościowej osnowy geodezyjnej
- b. nie może być większy niż 0,05 m względem punktów poziomej osnowy geodezyjnej i 0,05m względem punktów wysokościowej osnowy geodezyjnej
- c. nie może być mniejszy niż 0,10m względem punktów poziomej osnowy geodezyjnej i 0,05m względem punktów wysokościowej osnowy geodezyjnej
- d. nie może być większy niż 0,10m względem punktów poziomej osnowy geodezyjnej i 0,10m względem punktów wysokościowej osnowy geodezyjnej

Pytanie **10**Punkty maks.:
1,00

Podstawową skalą mapy zasadniczej jest skala:

Wybierz wszystkie poprawne:

- a. 1:500
- b. 1:1000
- c. 1:10 000
- d. 1:250

Pytanie **11**Punkty maks.:
1,00

W bazie danych ewidencyjnych oprócz konturu budynku ujawnia się obiekty budowlane trwale związane z budynkiem, takie jak:

Wybierz wszystkie poprawne:

- a. przejazd
- b. podjazd dla osób niepełnosprawnych
- c. weranda
- d. schody

Pytanie **12**Punkty maks.:
1,00

Operat techniczny zaewidencjonowany w roku 2018 pod numerem 2 w wojewódzkim zasobie geodezyjnym i kartograficznym (lubelskim-kod TERYT 06) ma nadany numer ewidencyjny:

Wybierz wszystkie poprawne:

- a. W.LUB.2018.2
- b. LUB.W.2018.2
- c. W.06.2018.2

- d. 2018.W.LUB.2

Pytanie **13**

Punkty maks.:
1,00

Pola powierzchni zabudowy budynków przewidzianych do ujawnienia w ewidencji gruntów i budynków:

Wybierz wszystkie poprawne:

- a. oblicza się na podstawie danych archiwalnych
- b. podaje się w arach z precyzją zapisu do 1 m²
- c. podaje się w metrach kwadratowych z precyzją zapisu do 1 m²
- d. oblicza się na podstawie numerycznego opisu konturu tych budynków

Pytanie **14**

Punkty maks.:
1,00

Przy wykonywaniu geodezyjnych pomiarów sytuacyjnych pomija się punkty szczegółu terenowego, których odchylenie od linii prostej konturu tego szczegółu sytuacyjnego, ustalonej przez dwa sąsiednie pomierzone punkty:

Wybierz wszystkie poprawne:

- a. nie przekracza 0,10 m w przypadku I grupy szczegółów terenowych,
- b. nie przekracza 1,5 m w przypadku I grupy szczegółów terenowych,
- c. nie przekracza 0,30 m w przypadku II grupy szczegółów terenowych,
- d. nie przekracza 0,70 m w przypadku III grupy szczegółów terenowych.

Pytanie **15**

Punkty maks.:
1,00

Organami administracji geodezyjnej i kartograficznej są :

Wybierz wszystkie poprawne:

- a. wojewoda wykonujący zadania przy pomocy wojewódzkiego inspektora nadzoru geodezyjnego i kartograficznego
- b. Główny Geodeta Kraju
- c. marszałek województwa wykonujący zadania przy pomocy geodety województwa
- d. starosta wykonujący zadania przy pomocy geodety powiatowego

Pytanie **16**

Punkty maks.:
1,00

Stroną postępowania administracyjnego jest:

Wybierz wszystkie poprawne:

- a. organ nadzoru administracji publicznej
- b. ten, kto żąda czynności organu ze względu na swój interes prawny lub obowiązek
- c. każdy, czyjego interesu lub obowiązku dotyczy postępowanie
- d. organ administracji prowadzący postępowanie

Pytanie **17**

Punkty maks.:
1,00

Pomiar kontrolny przy wykonywaniu pomiarów z wykorzystaniem kinematycznych technik satelitarnych GNSS wykonuje się:

Wybierz wszystkie poprawne:

- a. przynajmniej raz dziennie
- b. przed rozpoczęciem pomiarów
- c. na punkcie o znanych współrzędnych
- d. na dwóch punktach osnowy wysokościowej w odległości nie większej niż 5 km od punktów będących przedmiotem pomiaru

Pytanie **18**

Punkty maks.:
1,00

Danymi ewidencyjnymi dotyczącymi działki ewidencyjnej są między innymi:

Wybierz wszystkie poprawne:

- a. numer księgi wieczystej
- b. oznaczenie dokumentów potwierdzających własność
- c. pole powierzchni części działki oddanej w dzierżawę
- d. oznaczenie jednostki rejestrowej gruntów, do której należy działka ewidencyjna

Pytanie **19**Punkty maks.:
1,00

Dla przewodów sieci elektroenergetycznej wyróżnia się następujące typy przewodów:

Wybierz wszystkie poprawne:

- a. najniższego napięcia
- b. najwyższego napięcia
- c. wysokiego napięcia
- d. podwyższonego średniego napięcia

Pytanie **20**Punkty maks.:
1,00

Dla przewodów sieci niezidentyfikowanej GESUT wyróżnia się następujące typy przewodów:

Wybierz wszystkie poprawne:

- a. wysokiego parametru
- b. niskiego parametru
- c. inne
- d. nie wyróżnia się typów przewodów

Pytanie **21**Punkty maks.:
1,00

Nadzór nad pracami geodezyjnymi i kartograficznymi na terenach zamkniętych polega między innymi na ocenie:

Wybierz wszystkie poprawne:

- a. przestrzegania przy ich wykonywaniu przepisów o ochronie informacji niejawnych
- b. posiadania przez wykonawców prac geodezyjnych i kartograficznych zezwoleń na wykonywanie tych prac, określonych w przepisach odrębnych
- c. zgodności wykonywania pomiarów i opracowań geodezyjnych terenu zamkniętego z wymogami dotyczącymi pomiarów i opracowań geodezyjnych, określonych w odrębnych przepisach
- d. zgodności wykonywania map terenu zamkniętego zawierających w swojej treści położenie sieci uzbrojenia terenu i innych elementów zagospodarowania terenu z wymogami dotyczącymi opracowania mapy zasadniczej, określonymi w odrębnych przepisach

Pytanie **22**Punkty maks.:
1,00

Droga gminna (w rozumieniu ustawy o drogach publicznych) powinna spełniać wymagania techniczne i użytkowe określone dla następujących klas:

Wybierz wszystkie poprawne:

- a. Z
- b. L
- c. GP
- d. G

Pytanie **23**Punkty maks.:
1,00

Projektant, w trakcie realizacji budowy, ma prawo:

Wybierz wszystkie poprawne:

- a. sporządzić, przed rozpoczęciem budowy plan bezpieczeństwa i ochrony zdrowia
- b. wstępu na teren budowy i dokonywania zapisów w dzienniku budowy dotyczących ich realizacji
- c. prowadzenia dokumentacji budowy
- d. żądania wpisem do dziennika budowy wstrzymania robót budowlanych w razie stwierdzenia możliwości powstania zagrożenia

Pytanie **24**Punkty maks.:
1,00

Mapa zasadnicza udostępniana jest z państwowego zasobu geodezyjnego i kartograficznego w postaci:

Wybierz wszystkie poprawne:

- a. dowolnej
- b. wektorowej
- c. drukowanej
- d. rastrowej

Geodetą powiatowym może być osoba, która:

Wybierz wszystkie poprawne:

Pytanie **25**Punkty maks.:
1,00

- a. posiada dyplom ukończenia studiów wyższych na kierunku geodezyjnym
- b. korzysta w pełni z praw cywilnych i obywatelskich
- c. posiada pełne uprawnienia zawodowe do wykonywania samodzielnych funkcji w dziedzinie geodezji i kartografii
- d. posiada 2-letni staż pracy w urzędach administracji rządowej

Pytanie **26**Punkty maks.:
1,00

Zawiadomienia o czynnościach podjętych w celu ustalenia przebiegu granic działek ewidencyjnych wykonawca prac geodezyjnych doręcza podmiotom nie później niż ... przed wyznaczonym terminem:

Wybierz wszystkie poprawne:

- a. 7 dni
- b. 14 dni
- c. 7 dni roboczych
- d. 2 tygodnie

Pytanie **27**Punkty maks.:
1,00

Podjęcie przez radę gminy uchwały w sprawie nadania nazwy drodze wewnętrznej wymaga zgody :

Wybierz wszystkie poprawne:

- a. właścicieli terenów, na której jest zlokalizowana
- b. rady gminy, po zasięgnięciu opinii właściwego zarządu powiatu
- c. rady gminy, po zasięgnięciu opinii właściwego starosty
- d. rady gminy

Pytanie **28**Punkty maks.:
1,00

Ewidencja gruntów i budynków obejmuje między innymi informacje:

Wybierz wszystkie poprawne:

- a. o objęcia gruntu formą ochrony przyrody
- b. dotyczące właścicieli nieruchomości
- c. o wartości katastralnej nieruchomości
- d. o położeniu gruntów

Pytanie **29**Punkty maks.:
1,00

Wyniki pomiarów długości oraz współrzędne prostokątne płaskie przy wykonywaniu geodezyjnych pomiarów sytuacyjnych:

Wybierz wszystkie poprawne:

- a. wyraża się w milimetrach z precyzją zapisu do 0,001 m - dla pomiarów wymagających wyższej dokładności
- b. wyraża się w metrach z precyzją zapisu do 0,001 m - dla pomiarów wymagających wyższej dokładności
- c. wyraża się w metrach z precyzją zapisu do 0,01 m
- d. wyraża się w milimetrach z precyzją zapisu do 0,01 m

Pytanie **30**Punkty maks.:
1,00

Znak kartograficzny "zadrzewienie, zakrzewienie" stosuje się na mapie zasadniczej do obszaru porośniętego grupą drzew lub krzewów o powierzchni:

Wybierz wszystkie poprawne:

- a. mniejszej niż 0,10 ha
- b. co najmniej 10 ha
- c. większej niż 1 ha
- d. co najmniej 0,10 ha

Pytanie **31**Punkty maks.:
1,00

Kopie materiałów zasobu udostępniane w formie dokumentów elektronicznych opatruje się klauzulą urzędową zawierającą:

Wybierz wszystkie poprawne:

- a. nazwę wykonawcy prac, któremu udostępniane są kopie materiałów

- b. identyfikator ewidencyjny materiału zasobu
- c. datę wykonania kopii materiału zasobu
- d. nazwę materiału zasobu

Pytanie **32**Punkty maks.:
1,00

Do zadań marszałka należy:

Wybierz wszystkie poprawne:

- a. programowanie prac urzędniowo - rolnych
- b. zakładanie osnów szczegółowych
- c. udostępnianie kartograficznych opracowań tematycznych dla obszaru województwa
- d. tworzenie standardowych opracowań kartograficznych w skali 1:1000

Pytanie **33**Punkty maks.:
1,00

Obiekt mostowy to:

Wybierz wszystkie poprawne:

- a. budowla przeznaczona do przeprowadzenia samodzielnego ciągu pieszego
- b. budowla przeznaczona do przeprowadzenia szlaku wędrówek zwierząt dziko żyjących
- c. budowla przeznaczona do przeprowadzenia drogi
- d. kładka

Pytanie **34**Punkty maks.:
1,00

Odmowa włączenia do infrastruktury zbiorów i usług danych przestrzennych należących do osób trzecich następuje :

Wybierz wszystkie poprawne:

- a. w drodze decyzji właściwego organu wiodącego
- b. w drodze decyzji Głównego Geodety Kraju
- c. w drodze decyzji właściwego wojewody
- d. w drodze decyzji Prezesa Rady Ministrów

Pytanie **35**Punkty maks.:
1,00

Wyniki pomiaru kontrolnego, przy wykonywaniu pomiarów z wykorzystaniem technik satelitarnych GNSS, muszą spełniać warunki:

Wybierz wszystkie poprawne:

- a. $dx \leq 0,12$ m i $dy \leq 0,12$ m oraz $dh \leq 0,12$ m jeżeli punkt kontrolny posiada określoną wysokość
- b. $dx \leq 0,09$ m i $dy \leq 0,09$ m oraz $dh \leq 0,12$ m jeżeli punkt kontrolny posiada określoną wysokość
- c. $dx \leq 0,09$ m i $dy \leq 0,12$ m oraz $dh \leq 0,09$ m jeżeli punkt kontrolny posiada określoną wysokość
- d. $dx \leq 0,12$ m i $dy \leq 0,12$ m oraz $dh \leq 0,09$ m jeżeli punkt kontrolny posiada określoną wysokość

Pytanie **36**Punkty maks.:
1,00

Krajową bazę geodezyjnej ewidencji sieci uzbrojenia terenu (GESUT) prowadzi:

Wybierz wszystkie poprawne:

- a. wszystkie wymienione odpowiedzi są poprawne
- b. minister do spraw budownictwa i gospodarki przestrzennej i mieszkaniowej
- c. Główny Geodeta Kraju
- d. starosta

Pytanie **37**Punkty maks.:
1,00

Legalnymi jednostkami miar są:

Wybierz wszystkie poprawne:

- a. jednostki miar, przyjęte i zalecane przez Prezesa Głównego Urzędu Miar
- b. jednostki miar, przyjęte i zalecane przez Parlament Unii Europejskiej
- c. jednostki nienależące do międzynarodowego Układu jednostek Miar (SI), dopuszczone do stosowania na terytorium Rzeczypospolitej Polskiej
- d. jednostki Międzynarodowego Układu Jednostek Miar (SI)

Pytanie **38**Punkty maks.:
1,00

Ewidencję miejscowości, ulic i adresów zakłada się na podstawie:

Wybierz wszystkie poprawne:

- a. ewidencji gruntów i budynków
- b. danych państwowego rejestru nazw geograficznych
- c. ewidencji numeracji porządkowej nieruchomości
- d. miejscowego planu zagospodarowania przestrzennego

Pytanie **39**Punkty maks.:
1,00

Ustawa Prawo geodezyjne i kartograficzne reguluje sprawy:

Wybierz wszystkie poprawne:

- a. rozgraniczania nieruchomości
- b. ewidencji miejscowości ulic i adresów
- c. zintegrowanego systemu informacji o nieruchomościach
- d. podziałów nieruchomości

Pytanie **40**Punkty maks.:
1,00

Nadawanie numerów porządkowych związanych z określoną ulicą odbywa się w następujący sposób:

Wybierz wszystkie poprawne:

- a. numery porządkowe wzdłuż ulic głównych wznoszą się w kierunku od centrum miejscowości ku jej granicom
- b. numery porządkowe wzdłuż ulic głównych wznoszą się z północy na południe
- c. numery porządkowe po prawej stronie ulicy, w kierunku zwiększających się numerów, oznaczają się liczbami nieparzystymi
- d. numery porządkowe obiektów przylegających do placu wznoszą się, poczynając od naroża placu przy głównej ulicy, zgodnie z kierunkiem ruchu wskazówek zegara

Pytanie **41**Punkty maks.:
1,00

Odmowa przyjęcia do zasobu geodezyjnego kartograficznych materiałów sporządzonych w ramach wykonanej pracy geodezyjnej przyjmuje postać:

Wybierz wszystkie poprawne:

- a. informacji na piśmie o odmowie oraz o możliwości odwołania do wojewódzkiego inspektora nadzoru geodezyjnego i kartograficznego
- b. zarządzenia o odmowie
- c. decyzji administracyjnej o odmowie
- d. informacji o odmowie oraz o przekazaniu dokumentacji do weryfikacji do wojewódzkiego inspektora nadzoru geodezyjnego i kartograficznego

Pytanie **42**Punkty maks.:
1,00

Organ prowadzący zasób:

Wybierz wszystkie poprawne:

- a. przechowuje materiały zasobu w sposób chroniący je przed pożarem
- b. przechowuje co najmniej dwie ostatnie kopie bezpieczeństwa materiałów zasobu
- c. wykonuje na nośnikach zewnętrznych, nie rzadziej niż raz na rok, kopie bezpieczeństwa materiałów zasobu w postaci elektronicznej
- d. przechowuje materiały zasobu w sposób chroniący je przed zniszczeniem

Pytanie **43**Punkty maks.:
1,00

Przewodniczący komisji kwalifikacyjnej wyznacza termin i miejsce przeprowadzenia części sprawdzającej postępowania kwalifikacyjnego w terminie do:

Wybierz wszystkie poprawne:

- a. 30 dni od dnia wszczęcia postępowania kwalifikacyjnego
- b. 6 tygodni od dnia wszczęcia postępowania kwalifikacyjnego
- c. 1 miesiąca od dnia wszczęcia postępowania kwalifikacyjnego
- d. 4 tygodni od dnia wszczęcia postępowania kwalifikacyjnego

Pytanie **44**Punkty maks.:
1,00

Zgodnie z przepisami ustawy – Kodeks cywilny uznanie za zmarłego nie może nastąpić przed końcem roku kalendarzowego, w którym zaginiony ukończyłby lat:

Wybierz wszystkie poprawne:

- a. dwadzieścia
- b. dwadzieścia trzy
- c. dwadzieścia pięć
- d. trzydzieści

Pytanie **45**Punkty maks.:
1,00

Treść mapy ewidencyjnej stanowią:


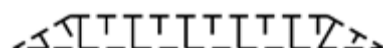


Wybierz wszystkie poprawne:

- a. nazwy ulic i placów
- b. kontury budynków
- c. punkty osnowy geodezyjnej
- d. punkty graniczne

Pytanie **46**Punkty maks.:
1,00

Który znak kartograficzny przedstawia skarpę umocnioną:

Wybierz wszystkie poprawne:

- a. 
- b. 
- c. 
- d. 

Pytanie **47**Punkty maks.:
1,00

Starosta prowadzący powiatowy zasób geodezyjny i kartograficzny może upoważnić pracowników do załatwiania spraw, do których nie stosuje się przepisów ustawy Kodeks postępowania administracyjnego, w jego imieniu w ustalonym zakresie na wniosek:

Wybierz wszystkie poprawne:

- a. geodety województwa
- b. pracownika, który będzie załatwiał sprawy w imieniu starosty
- c. geodety powiatowego
- d. kierownika Ośrodka Dokumentacji Geodezyjnej i Kartograficznej

Pytanie **48**Punkty maks.:
1,00

Projekt szczegółowej osnowy geodezyjnej jest zatwierdzany przez:

Wybierz wszystkie poprawne:

- a. wojewódzkiego inspektora nadzoru geodezyjnego i kartograficznego
- b. starostę
- c. geodetę powiatowego
- d. marszałka województwa w porozumieniu z właściwym starostą

Pytanie **49**Punkty maks.:
1,00

Studium uwarunkowań i kierunków zagospodarowania przestrzennego gminy jest wiążące przy sporządzaniu:

Wybierz wszystkie poprawne:

- a. decyzji o ustaleniu lokalizacji inwestycji celu publicznego (ulicp)
- b. zezwolenia na realizację inwestycji drogowej (zrid)
- c. decyzji o warunkach zabudowy (wz)
- d. miejscowych planów zagospodarowania przestrzennego (mpzp)

Władzę ustawodawczą w Rzeczypospolitej Polskiej sprawują:

Pytanie **50**Punkty maks.:
1,00

Wybierz wszystkie poprawne:

- a. Rada Ministrów
- b. Sądy
- c. Senat
- d. Sejm

Pytanie **51**Punkty maks.:
1,00Wymiaru sprawiedliwości w Rzeczypospolitej Polskiej nie sprawują:

Wybierz wszystkie poprawne:

- a. zgromadzenie narodowe
- b. samorządowe kolegia odwoławcze
- c. sądy administracyjne
- d. sądy powszechne

Pytanie **52**Punkty maks.:
1,00

Protokół graniczny powinien zawierać:

Wybierz wszystkie poprawne:

- a. opis utrwalenia punktów granicznych
- b. oświadczenia stron
- c. opis wzajemnych ustępstw
- d. opis przebiegu granic

Pytanie **53**Punkty maks.:
1,00

Właściwość miejscową organu administracji publicznej w sprawach dotyczących nieruchomości ustala się według:

Wybierz wszystkie poprawne:

- a. zgodnego ustalenia stron
- b. miejsca zamieszkania właściciela nieruchomości
- c. miejsca pobytu strony zainteresowanej
- d. miejsca położenia nieruchomości

Pytanie **54**Punkty maks.:
1,00

Materiał gromadzony w państwowym zasobie geodezyjnym i kartograficznym nadawany jest identyfikator składający się z:

Wybierz wszystkie poprawne:

- a. pięciu członów oddzielonych kropkami
- b. trzech członów oddzielonych kropkami
- c. czterech członów oddzielonych kropkami
- d. dwóch członów oddzielonych kropkami

Pytanie **55**Punkty maks.:
1,00

Notariusze przekazują właściwemu staroście odpisy aktów notarialnych, które zawierają przeniesienie, zmianę, zrzeczenie się albo ustanowienie praw do nieruchomości w terminie :

Wybierz wszystkie poprawne:

- a. 21 dni od dnia, w którym dokumenty te wywołują skutki prawne
- b. niezwłocznie, jednak nie później niż 30 dni od dnia, w którym dokumenty te wywołują skutki prawne
- c. 14 dni od dnia, w którym dokumenty te wywołują skutki prawne
- d. 30 dni od dnia, w którym dokumenty te wywołują skutki prawne

Pytanie **56**Punkty maks.:
1,00

Rada Infrastruktury Informacji Przestrzennej działa przy:

Wybierz wszystkie poprawne:

- a. Ministrem właściwym do spraw budownictwa, planowania i zagospodarowania przestrzennego oraz mieszkalnictwa
- b. Głównym Urzędzie Geodezji i Kartografii
- c. Głównym Geodeci Kraju

- d. Prezesie Rady Ministrów

Pytanie **57**

Punkty maks.:
1,00

Ocenę przydatności użytkowej materiałów zasobu przeprowadza:

Wybierz wszystkie poprawne:

- a. powiatowy ośrodek dokumentacji geodezyjnej i kartograficznej w uzgodnieniu z wojewódzkim inspektorem nadzoru geodezyjnego i kartograficznego
- b. powołana przez organ prowadzący zasób komisja
- c. geodeta powiatowy
- d. starosta

Pytanie **58**

Punkty maks.:
1,00

Kto znaki graniczne niszczy, uszkadza, usuwa, przesuwa lub czyni niewidocznymi albo fałszywie wystawia:

Wybierz wszystkie poprawne:

- a. podlega grzywnie, podlega karze ograniczenia wolności albo pozbawienia wolności do lat 2
- b. nie podlega grzywnie
- c. podlega karze ograniczenia wolności albo pozbawienia wolności do lat 5
- d. podlega karze pozbawienia wolności do 3 lat

Pytanie **59**

Punkty maks.:
1,00

Przedmiotem geodezyjnego pomiaru wysokościowego w przypadku podziemnych szczegółów terenowych są dostępne do pomiaru:

Wybierz wszystkie poprawne:

- a. dna studzienek kanalizacyjnych
- b. załamania poziome osi przewodów sieci uzbrojenia terenu
- c. przekroje poprzeczne ulic urządzonych
- d. dolne krawędzie rur ochronnych kabli

Pytanie **60**

Punkty maks.:
1,00

Starosta udostępnia informacje zawarte w operacie ewidencyjnym między innymi w formie:

Wybierz wszystkie poprawne:

- a. plików komputerowych sformatowanych w standardzie wymiany danych ewidencyjnych SWDE
- b. wypisów z rejestrów operatu ewidencyjnego
- c. usług zdefiniowanych w ustawie o infrastrukturze informacji przestrzennej
- d. kopii dokumentów uzasadniających wpisy do bazy danych operatu ewidencyjnego