



Wydział Test

Pytanie 1

Punkty: 1,00

Operat techniczny zawiera:

Wybierz wszystkie poprawne:

- a. dokumentację osnowy pomiarowej, jeżeli taka osnowa była założona
- b. zawiadomienie o zakończeniu prac geodezyjnych
- c. sprawozdanie techniczne
- d. dokument obliczenia opłaty

Pytanie 2

Punkty: 1,00

Co rozumie się pod pojęciem interoperacyjności zbiorów i usług danych przestrzennych?

Wybierz wszystkie poprawne:

- a. możliwość łączenia zbiorów danych przestrzennych
- b. współdziałanie usług danych przestrzennych bez powtarzalnej interwencji manualnej
- c. opisane metadanymi zbiory danych przestrzennych
- d. współdziałanie usług danych przestrzennych z jednorazową interwencją manualną

Pytanie 3

Punkty: 1,00

Znak kartograficzny "teren zalesiony" stosuje się na mapie zasadniczej do obszaru porośniętego roślinnością leśną o powierzchni:

Wybierz wszystkie poprawne:

- a. co najmniej 1 ha
- b. co najmniej 0,10 ha
- c. co najmniej 0,10 a
- d. co najmniej 0,01 ha

Pytanie 4

Punkty: 1,00

Odmowa przyjęcia do zasobu geodezyjnego kartograficznego materiałów sporządzonych w ramach wykonanej pracy geodezyjnej przyjmuje postać:

Wybierz wszystkie poprawne:

- a. zarządzenia o odmowie
- b. informacji na piśmie o odmowie oraz o możliwości odwołania do wojewódzkiego inspektora nadzoru geodezyjnego i kartograficznego
- c. informacji o odmowie oraz o przekazaniu dokumentacji do weryfikacji do wojewódzkiego inspektora nadzoru geodezyjnego i kartograficznego
- d. decyzji administracyjnej o odmowie

Pytanie 5

Punkty: 1,00

Wyniki pomiaru kontrolnego, przy wykonywaniu pomiarów z wykorzystaniem technik satelitarnych GNSS, muszą spełniać warunki:

Wybierz wszystkie poprawne:

- a. $dx \leq 0,12$ m i $dy \leq 0,12$ m oraz $dh \leq 0,09$ m jeżeli punkt kontrolny posiada określoną wysokość
- b. $dx \leq 0,12$ m i $dy \leq 0,12$ m oraz $dh \leq 0,12$ m jeżeli punkt kontrolny posiada określoną wysokość
- c. $dx \leq 0,09$ m i $dy \leq 0,12$ m oraz $dh \leq 0,09$ m jeżeli punkt kontrolny posiada określoną wysokość
- d. $dx \leq 0,09$ m i $dy \leq 0,09$ m oraz $dh \leq 0,12$ m jeżeli punkt kontrolny posiada określoną wysokość

Pytanie 6

Punkty: 1,00

Do zadań marszałka województwa, jako organu administracji geodezyjnej i kartograficznej, należy między innymi:

Wybierz wszystkie poprawne:

- a. analiza zmian w strukturze agrarnej oraz programowanie i koordynacja prac urządzeniowo-rolnych
- b. wykonywanie i udostępnianie kartograficznych opracowań tematycznych dla obszaru kraju
- c. prowadzenie wojewódzkiej bazy GESUT
- d. prowadzenie powiatowego zasobu geodezyjnego i kartograficznego

Pytanie **7**
Punkty: 1,00

Klauzula urzędowa, którą opatruje się materiały w postaci nielektronicznej przyjęte do powiatowego zasobu geodezyjnego i kartograficznego, zawiera:

Wybierz wszystkie poprawne:

- a. nazwę organu prowadzącego zasób
- b. identyfikator ewidencyjny materiału zasobu
- c. imię i nazwisko wykonawcy prac geodezyjnych
- d. datę udostępnienia materiału zasobu

Pytanie **8**
Punkty: 1,00

Usytuowanie obiektu inżynierskiego w terenie:

Wybierz wszystkie poprawne:

- a. powinno uwzględniać warunki miejscowego planu zagospodarowania przestrzennego
- b. powinno uwzględniać warunki decyzji o ustaleniu lokalizacji autostrad płatnych
- c. powinno być dostosowane do przebiegu drogi
- d. powinno uwzględniać warunki decyzji o warunkach zabudowy i zagospodarowania terenu

Pytanie **9**
Punkty: 1,00

Plan zagospodarowania przestrzennego województwa uchwała:

Wybierz wszystkie poprawne:

- a. rada ministrów
- b. z uwagi że nie jest to akt prawa miejscowego, nie podlega uchwaleniu
- c. zarząd województwa
- d. sejmik województwa

Pytanie **10**
Punkty: 1,00

Operat techniczny zaewidencjonowany w roku 1982 pod numerem 113 w powiatowym zasobie geodezyjnym i kartograficznym (lubartowskim-kod TERYT 0608) ma nadany numer ewidencyjny:

Wybierz wszystkie poprawne:

- a. 1982.P.0608.113
- b. P.0608.1982.113
- c. P.0608.113.1982
- d. P.LUBART.1982.113

Pytanie **11**
Punkty: 1,00

Nadzór nad pracami geodezyjnymi i kartograficznymi na terenach zamkniętych sprawują:

Wybierz wszystkie poprawne:

- a. właściwy miejscowo wojewódzki inspektor nadzoru geodezyjnego i kartograficznego
- b. właściwy minister lub kierownik urzędu centralnego
- c. właściwy miejscowo wojewoda
- d. właściwy miejscowo marszałek województwa

Pytanie **12**
Punkty: 1,00

Kto znaki graniczne niszczy, uszkadza, usuwa, przesuwa lub czyni niewidocznymi albo fałszywie wystawia:

Wybierz wszystkie poprawne:

- a. podlega grzywnie, podlega karze ograniczenia wolności albo pozbawienia wolności do lat 2
- b. nie podlega grzywnie
- c. podlega karze ograniczenia wolności albo pozbawienia wolności do lat 5
- d. podlega karze pozbawienia wolności do 3 lat

Pytanie **13**
Punkty: 1,00

Danymi ewidencyjnymi dotyczącymi działki ewidencyjnej są między innymi:

Wybierz wszystkie poprawne:

- a. oznaczenie jednostki rejestrowej gruntów, do której należy działka ewidencyjna

- b. oznaczenie dokumentów potwierdzających własność
- c. pole powierzchni części działki oddanej w dzierżawę
- d. numer księgi wieczystej

Pytanie **14**

Punkty: 1,00

W toku postępowania administracyjnego organ wydaje:

Wybierz wszystkie poprawne:

- a. zaświadczenia
- b. postanowienia
- c. orzeczenia
- d. decyzje

Pytanie **15**

Punkty: 1,00

Pomiarową podstawę wysokościową realizuje się:

Wybierz wszystkie poprawne:

- a. techniką kinematyczną GNSS
- b. metodą niwelacji siatkowej
- c. metodą profili podłużnych
- d. metodą niwelacji geometrycznej

Pytanie **16**

Punkty: 1,00

Wymiary przekrojów obiektów geodezyjnej ewidencji sieci uzbrojenia terenu (średnica, wymiar poziomy i pionowy) podaje się w:

Wybierz wszystkie poprawne:

- a. μm
- b. mm
- c. w mm lub w cm w zależności od obiektu
- d. cm

Pytanie **17**

Punkty: 1,00

Pod pojęciem „interoperacyjność” rozumie się:

Wybierz wszystkie poprawne:

- a. zdolność różnych podmiotów oraz używanych przez nie systemów teleinformatycznych i rejestrów publicznych do współdziałania na rzecz osiągnięcia wzajemnie korzystnych i uzgodnionych celów
- b. szybkość pozyskania danych z rejestrów publicznych
- c. wzajemne przesyłanie danych między różnymi podmiotami publicznymi
- d. udostępnianie danych przez platformę ePUAP

Pytanie **18**

Punkty: 1,00

Ustawa Prawo geodezyjne i kartograficzne reguluje sprawy:

Wybierz wszystkie poprawne:

- a. ewidencji miejscowości ulic i adresów
- b. rozgraniczania nieruchomości
- c. zintegrowanego systemu informacji o nieruchomościach
- d. podziałów nieruchomości

Pytanie **19**

Punkty: 1,00

W zakresie prac geodezyjnych mających znaczenie dla obronności i bezpieczeństwa państwa Główny Geodeta Kraju współdziała z:

Wybierz wszystkie poprawne:

- a. Agencją Bezpieczeństwa Wewnętrznego
- b. Ministrem Obrony Narodowej
- c. Prezesem Rady Ministrów
- d. Służbą Kontrwywiadu Wojskowego

Pytanie **20**

Punkty: 1,00

Jaki obiekt przedstawia poniższy znak kartograficzny:



Wybierz wszystkie poprawne:

- a. inny obiekt zagospodarowania terenu
- b. słup przewodów napowietrznych
- c. wieża telekomunikacyjna
- d. kontur budynku podziemnego

Pytanie **21**

Punkty: 1,00

Użytki gruntowe wykazywane w ewidencji dzielą się na następujące grupy:

Wybierz wszystkie poprawne:

- a. użytki ekologiczne
- b. grunty rolne
- c. użytki rolne
- d. nieużytki

Pytanie **22**

Punkty: 1,00

Droga gminna (w rozumieniu ustawy o drogach publicznych) powinna spełniać wymagania techniczne i użytkowe określone dla następujących klas:

Wybierz wszystkie poprawne:

- a. Z
- b. GP
- c. G
- d. L

Pytanie **23**

Punkty: 1,00

W skład Rady Infrastruktury Informacji Przestrzennej wchodzi między innymi:

Wybierz wszystkie poprawne:

- a. Szef Biura Hydrograficznego Marynarki Wojennej
- b. Główny Geodeta Kraju
- c. Główny Geolog Kraju
- d. Rzecznik Praw Obywatelskich

Pytanie **24**

Punkty: 1,00

Organ administracji publicznej, który wydał decyzję w pierwszej instancji:

Wybierz wszystkie poprawne:

- a. stwierdza jej wygaśnięcie, jeżeli decyzja stała się bezprzedmiotowa, a stwierdzenie wygaśnięcia takiej decyzji nakazuje przepis prawa
- b. stwierdza wygaśnięcie lub uchyla decyzję o których mowa powyżej w ppkt a) i b) w drodze decyzji
- c. stwierdza wygaśnięcie lub uchyla decyzję o których mowa powyżej w ppkt a) i b) w drodze postanowienia
- d. stwierdza jej wygaśnięcie, jeżeli decyzja została wydana z zastrzeżeniem dopełnienia przez stronę określonego warunku, a strona nie dopełniła tego warunku

Pytanie **25**

Punkty: 1,00

Wniesienie wkładu gruntowego przez posiadacza zależnego wymaga zgody:

Wybierz wszystkie poprawne:

- a. Krajowej Rady Spółdzielczej.
- b. członków będących założycielami spółdzielni,
- c. wszystkich członków spółdzielni,
- d. właściciela,

Pytanie **26**

Punkty: 1,00

Postępowanie administracyjne jest co do zasady:

Wybierz wszystkie poprawne:





- a. dwuinstancyjne
- b. kodeks postępowania administracyjnego nie określa reguł w tym zakresie
- c. jednoinstancyjne
- d. trójinstancyjne

Pytanie **27**

Punkty: 1,00

Który znak kartograficzny przedstawia taras na mapie zasadniczej:

Wybierz wszystkie poprawne:

- a. 
- b. 
- c. 
- d. 

Pytanie **28**

Punkty: 1,00

Sieć niezidentyfikowaną oznacza się w GESUT literą:

Wybierz wszystkie poprawne:

- a. y
- b. n
- c. i
- d. x

Pytanie **29**

Punkty: 1,00

Główny Geodeta Kraju, tworzy i utrzymuje zintegrowany system informacji o nieruchomościach we współpracy z:

Wybierz wszystkie poprawne:

- a. ministrem właściwym do spraw finansów publicznych
- b. Prezesem Agencji Restrukturyzacji i Modernizacji Rolnictwa
- c. ministrem właściwym do spraw wewnętrznych
- d. ministrem właściwym do spraw rozwoju wsi

Pytanie **30**

Punkty: 1,00

Rejestr cen nieruchomości zawiera informacje dotyczące:

Wybierz wszystkie poprawne:

- a. rodzaju rynku
- b. strony kupującej
- c. ceny transakcji netto
- d. wykazu nieruchomości będących przedmiotem transakcji

Pytanie **31**

Punkty: 1,00

Materiały zasobu w postaci nieelektronicznej przyjęte do państwowego zasobu geodezyjnego i kartograficznego przetwarzają się sukcesywnie do postaci dokumentów elektronicznych nie dłużej niż:

Wybierz wszystkie poprawne:

- a. do dnia 31 grudnia 2024 r.
- b. do dnia 31 grudnia 2023 r.
- c. do dnia 31 grudnia 2022 r.
- d. do dnia 31 grudnia 2021 r.

Pytanie **32**

Punkty: 1,00

Materiały przyjęte do zasobu w postaci elektronicznej przetwarzają się niezwłocznie do dokumentu elektronicznego zapisanego w formacie:

Wybierz wszystkie poprawne:

- a. shp
- b. gml
- c. pdf
- d. uzgodnionym z wykonawcą prac geodezyjnych

Pytanie **33**

Punkty: 1,00

Szkic tyczenia zawiera m.in.
Wybierz wszystkie poprawne:

- a. rysunek obiektów podlegających wytyczeniu
- b. wyniki pomiaru kontrolnego wytyczonych elementów obiektów
- c. podpis kierownika budowy
- d. podpis inwestora

Pytanie **34**

Punkty: 1,00

Ewidencja gruntów i budynków obejmuje dane podmiotowe dotyczące:
Wybierz wszystkie poprawne:

- a. adresów zameldowania na pobyt stały albo siedziby podmiotów
- b. lokali
- c. daty nabycia prawa własności
- d. gruntów

Pytanie **35**

Punkty: 1,00

Bazę BDOT500 tworzy i aktualizuje się:
Wybierz wszystkie poprawne:

- a. nie później niż w terminie 14 dni od dnia uzyskania materiałów
- b. nie później niż w terminie 30 dni od dnia pozyskania materiałów
- c. w drodze czynności materialno-technicznej na podstawie materiałów przyjmowanych do państwowego zasobu geodezyjnego i kartograficznego
- d. w drodze decyzji administracyjnej na podstawie materiałów przyjmowanych do państwowego zasobu geodezyjnego i kartograficznego

Pytanie **36**

Punkty: 1,00

Prezydent Rzeczypospolitej Polskiej:
Wybierz wszystkie poprawne:

- a. kieruje administracją rządową
- b. jest najwyższym zwierzchnikiem Sił Zbrojnych Rzeczypospolitej Polskiej
- c. jest wybierany na 4-letnią kadencję
- d. jest najwyższym przedstawicielem Rzeczypospolitej Polskiej

Pytanie **37**

Punkty: 1,00

Uzgodnienie projektu modernizacji ewidencji gruntów i budynków z właściwym miejscowo wojewódzkim inspektorem nadzoru geodezyjnego i kartograficznego następuje w terminie:
Wybierz wszystkie poprawne:

- a. jednego miesiąca od dnia otrzymania wniosku przez wojewódzkiego inspektora nadzoru geodezyjnego i kartograficznego
- b. dwóch miesięcy od dnia otrzymania wniosku przez wojewódzkiego inspektora nadzoru geodezyjnego i kartograficznego
- c. 14 dni od dnia otrzymania wniosku przez wojewódzkiego inspektora nadzoru geodezyjnego i kartograficznego
- d. 30 dni od dnia otrzymania wniosku przez wojewódzkiego inspektora nadzoru geodezyjnego i kartograficznego

Pytanie **38**

Punkty: 1,00

Podstawę krajowego systemu informacji o terenie stanowią:
Wybierz wszystkie poprawne:

- a. metadane opisujące zbiory i usługi danych przestrzennych

- b. zbiory danych gromadzone w ewidencji gruntów i budynków
- c. zbiory danych gromadzone w bazie danych państwowego rejestru granic i powierzchni jednostek podziałów terytorialnych kraju
- d. mapy zasadnicze

Pytanie **39**

Punkty: 1,00

Podjęcie przez radę gminy uchwały w sprawie nadania nazwy drodze wewnętrznej wymaga zgody :

Wybierz wszystkie poprawne:

- a. rady gminy, po zasięgnięciu opinii właściwego zarządu powiatu
- b. właścicieli terenów, na której jest zlokalizowana
- c. rady gminy, po zasięgnięciu opinii właściwego starosty
- d. rady gminy

Pytanie **40**

Punkty: 1,00

Sprawozdanie techniczne zawiera m.in.:

Wybierz wszystkie poprawne:

- a. datę zakończenia prac geodezyjnych
- b. nazwę zlecniodawcy prac widniejącą w zawartej umowie
- c. informację dotyczącą przekazywania plików do aktualizacji baz danych zasobu
- d. dokumentację procesu wyrównania

Pytanie **41**

Punkty: 1,00

Na Krajowe Ramy Interoperacyjności składają się:

Wybierz wszystkie poprawne:

- a. repozytorium ZSIN
- b. architektura systemów teleinformatycznych podmiotów realizujących zadania publiczne
- c. sposoby osiągnięcia interoperacyjności
- d. repozytorium interoperacyjności na ePUAP

Pytanie **42**

Punkty: 1,00

Jakim symbolem oznaczamy w ewidencji gruntów i budynków grunty zajęte pod cmentarze?:

Wybierz wszystkie poprawne:

- a. Bz
- b. Tr
- c. Bi
- d. Cm

Pytanie **43**

Punkty: 1,00

Ze względu na wymaganą dokładność określenia położenia punktów szczegółów terenowych wyróżnia się I, II i III grupę szczegółów terenowych, do grupy II nie są zaliczone szczegóły:

Wybierz wszystkie poprawne:

- a. wały przeciwpowodziowe
- b. ciek i zbiorniki wodne o naturalnych liniach brzegowych
- c. znaki geodezyjne
- d. kontury użytków gruntowych

Pytanie **44**

Punkty: 1,00

Pierwszy człon identyfikatora ewidencyjnego materiału zasobu jest:

Wybierz wszystkie poprawne:

- a. skrótem PL
- b. czterocyfrową liczbą
- c. literą C, W lub P
- d. identyfikatorem TERYT

Pytanie **45**

Punkty: 1,00

Każdy człowiek ma zdolność prawną:

Wybierz wszystkie poprawne:

- a. z dniem ukończenia 13 roku życia
- b. od dnia ukończenia 16 roku życia
- c. od chwili urodzenia
- d. z chwilą uzyskania pełnoletności

Pytanie **46**

Punkty: 1,00

Komu uczestnicy scalenia w terminie 14 dni od dnia okazania projektu mogą zgłaszać zastrzeżenia do projektu scalenia:

Wybierz wszystkie poprawne:

- a. geodecie projektantowi
- b. radzie uczestników scalenia
- c. staroście
- d. wójtowi

Pytanie **47**

Punkty: 1,00

Mapa zasadnicza to wielkoskalowe opracowanie kartograficzne zawierające informacje o przestrzennym usytuowaniu:

Wybierz wszystkie poprawne:

- a. innych obiektów topograficznych
- b. sieci uzbrojenia terenu
- c. punktów osnowy geodezyjnej
- d. konturów użytków gruntowych

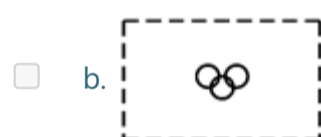
Pytanie **48**

Punkty: 1,00

Który obiekt przedstawia plac gier i zabaw:

Wybierz wszystkie poprawne:

- a. wszystkie odpowiedzi są poprawne

Pytanie **49**

Punkty: 1,00

Osoba, której odebrano uprawnienia zawodowe w dziedzinie geodezji i kartografii może ubiegać się o ponowne ich uzyskanie po upływie:

Wybierz wszystkie poprawne:

- a. 2 lat od dnia ich odebrania
- b. 5 lat od dnia ich odebrania
- c. 3 lat od dnia ich odebrania
- d. 1 roku od dnia ich odebrania

Pytanie **50**

Punkty: 1,00

Zawiadomienie o czynnościach podjętych w celu ustalenia przebiegu granic działek ewidencyjnych wykonawca prac geodezyjnych doręcza:

Wybierz wszystkie poprawne:

- a. użytkownikom wieczystym
- b. sąsiadom
- c. właścicielom
- d. użytkownikom gruntów państwowych

Pytanie **51**

Punkty: 1,00

Układ wysokościowy PL-KRON86-NH stosuje się:

Wybierz wszystkie poprawne:

- a. do czasu wdrożenia układu wysokościowego PL-EVRF2007-NH na obszarze całego kraju
- b. do czasu wdrożenia układu PL-1992 na obszarze całego kraju
- c. nie dłużej niż do dnia 31 grudnia 2023 r.
- d. nie dłużej niż do dnia 1 stycznia 2023 r.

Pytanie **52**

Punkty: 1,00

Do dróg krajowych zalicza się:

Wybierz wszystkie poprawne:

- a. drogi międzynarodowe
- b. drogi stanowiące ciągi obwodnicowe dużych aglomeracji miejskich
- c. drogi alternatywne dla autostrad płatnych
- d. drogi ekspresowe

Pytanie **53**

Punkty: 1,00

Mieniem komunalnym jest:

Wybierz wszystkie poprawne:

- a. własność i inne prawa majątkowe należące do związków gmin
- b. hipoteka
- c. własność i inne prawa majątkowe należące do poszczególnych gmin
- d. mienie innych gminnych osób prawnych, w tym przedsiębiorstw

Pytanie **54**

Punkty: 1,00

Ewidencję gruntów i budynków prowadzi:

Wybierz wszystkie poprawne:

- a. Wójt
- b. Starosta
- c. Gmina
- d. Starostwo Powiatowe

Pytanie **55**

Punkty: 1,00

Kto nie zgłasza prac geodezyjnych lub prac kartograficznych wbrew obowiązkowi, podlega karze grzywny orzekanej na podstawie przepisów:

Wybierz wszystkie poprawne:

- a. o postępowaniu w sprawach o wykroczenia
- b. Kodeksu postępowania administracyjnego
- c. Prawa geodezyjnego i kartograficznego
- d. o postępowaniu egzekucyjnym w administracji

Pytanie **56**

Punkty: 1,00

Wpływy z udostępniania map, danych z ewidencji gruntów i budynków oraz innych materiałów i informacji z zasobów powiatowych :

Wybierz wszystkie poprawne:

- a. są dochodami Centralnego Funduszu Gospodarki Zasobem Geodezyjnym i Kartograficznym
- b. są dochodami budżetu państwa
- c. są dochodami własnymi budżetu powiatu
- d. są dochodami Powiatowego Funduszu Gospodarki Zasobem Geodezyjnym i Kartograficznym

Pytanie **57**

Punkty: 1,00

Ocenę przydatności użytkowej materiałów zasobu przeprowadza:

Wybierz wszystkie poprawne:

- a. powołana przez organ prowadzący zasób komisja

- b. powiatowy ośrodek dokumentacji geodezyjnej i kartograficznej w uzgodnieniu z wojewódzkim inspektorem nadzoru geodezyjnego i kartograficznego
- c. geodeta powiatowy
- d. starosta

Pytanie **58**

Punkty: 1,00

Organy władzy publicznej działają:

Wybierz wszystkie poprawne:

- a. bezpośrednio, na podstawie stanowiących uchwał
- b. w granicach prawa
- c. na podstawie ugruntowanego orzecznictwa sądowego
- d. na podstawie prawa

Pytanie **59**

Punkty: 1,00

Krajowy rejestr urzędowy podziału terytorialnego kraju (TERYT) prowadzi:

Wybierz wszystkie poprawne:

- a. Prezes Rady Ministrów
- b. Prezes Głównego Urzędu Geodezji i Kartografii
- c. Prezes Głównego Urzędu Statystycznego
- d. Minister Spraw Wewnętrznych i Administracji

Pytanie **60**

Punkty: 1,00

Budowle i urządzenia ziemne oraz pojedyncze drzewa należą do:

Wybierz wszystkie poprawne:

- a. III grupy szczegółów terenowych
- b. I lub II grupy szczegółów terenowych
- c. II grupy szczegółów terenowych
- d. I grupy szczegółów terenowych