



Wydział Test

Pytanie 1

Punkty maks.:  
1,00

Geodezyjne pomiary sytuacyjne, mające na celu wznowienie znaków granicznych lub wyznaczenie punktów granicznych, wykonuje się z wykorzystaniem:

Wybierz wszystkie poprawne:

- a. współrzędnych punktów granicznych pozyskanych w ramach modernizacji ewidencji gruntów i budynków
- b. opracowań na potrzeby ewidencji gruntów
- c. materiałów zasobu umożliwiających odtworzenie położenia tych punktów w terenie
- d. założonej w tym celu, pomiarowej osnowy sytuacyjnej

Pytanie 2

Punkty maks.:  
1,00

Niepodpisanie skorygowanego protokołu kontroli przez przedsiębiorcę we wskazanym terminie oznacza:

Wybierz wszystkie poprawne:

- a. ponowne prowadzenie kontroli
- b. skierowanie z urzędu protokołu do wojewódzkiego inspektora nadzoru geodezyjnego i kartograficznego
- c. odmowę jego podpisania
- d. ponowne rozpatrywanie zastrzeżeń

Pytanie 3

Punkty maks.:  
1,00

Rejestr prac geodezyjnych i kartograficznych zawiera dane określające:

Wybierz wszystkie poprawne:

- a. identyfikator wykonawcy wskazany w zgłoszeniu prac geodezyjnych
- b. daty doręczenia wykonawcy prac geodezyjnych protokołów weryfikacji
- c. cel zgłoszonych prac geodezyjnych
- d. wysokość opłaty za udostępnione materiały zasobu

Pytanie 4

Punkty maks.:  
1,00

Ewidencję gruntów i budynków prowadzi:

Wybierz wszystkie poprawne:

- a. Starosta
- b. Gmina
- c. Starostwo Powiatowe
- d. Wójt

Pytanie 5

Punkty maks.:  
1,00

Przewodniczący komisji kwalifikacyjnej wyznacza termin i miejsce przeprowadzenia części sprawdzającej postępowania kwalifikacyjnego w terminie do:

Wybierz wszystkie poprawne:

- a. 1 miesiąca od dnia wszczęcia postępowania kwalifikacyjnego
- b. 4 tygodni od dnia wszczęcia postępowania kwalifikacyjnego
- c. 30 dni od dnia wszczęcia postępowania kwalifikacyjnego
- d. 6 tygodni od dnia wszczęcia postępowania kwalifikacyjnego

Pytanie 6

Punkty maks.:  
1,00

Kopie materiałów zasobu udostępniane w formie dokumentów elektronicznych opatruje się klauzulą urzędową zawierającą:

Wybierz wszystkie poprawne:

- a. nazwę materiału zasobu
- b. datę wykonania kopii materiału zasobu
- c. nazwę wykonawcy prac, któremu udostępniane są kopie materiałów
- d. identyfikator ewidencyjny materiału zasobu

Pytanie **7**Punkty maks.:  
1,00

Przy wykonywaniu geodezyjnych pomiarów sytuacyjnych pomija się punkty szczegółu terenowego, których odchylenie od linii prostej konturu tego szczegółu sytuacyjnego, ustalonej przez dwa sąsiednie pomierzone punkty:

Wybierz wszystkie poprawne:

- a. nie przekracza 0,10 m w przypadku I grupy szczegółów terenowych,
- b. nie przekracza 0,70 m w przypadku III grupy szczegółów terenowych.
- c. nie przekracza 1,5 m w przypadku I grupy szczegółów terenowych,
- d. nie przekracza 0,30 m w przypadku II grupy szczegółów terenowych,

Pytanie **8**Punkty maks.:  
1,00

Do zadań starosty jako organu administracji geodezyjnej i kartograficznej należy między innymi:





Wybierz wszystkie poprawne:

- a. prowadzenie gleboznawczej klasyfikacji gruntów
- b. zakładanie osnów szczegółowych
- c. prowadzenie krajowej bazy GESUT dla obszaru powiatu
- d. prowadzenie rejestru numeracji porządkowej nieruchomości dla obszaru powiatu

Pytanie **9**Punkty maks.:  
1,00

Który znak kartograficzny przedstawia taras na mapie zasadniczej:

Wybierz wszystkie poprawne:

- a. 
- b. 
- c. 
- d. 

Pytanie **10**Punkty maks.:  
1,00

Warunkami organizacyjnymi, jakie powinny zostać spełnione przez gminę wnioskującą o przejęcie zadań i kompetencji starosty w zakresie geodezji i kartografii, są między innymi:

Wybierz wszystkie poprawne:

- a. przejęcie prowadzenia przez gminę pełnego zakresu zadań i kompetencji starosty
- b. zakup sprzętu i programów informatycznych do prowadzenia, gromadzenia i udostępniania państwowego zasobu geodezyjnego i kartograficznego
- c. utworzenie jednostki organizacyjnej urzędu gminy pod nazwą Oddział Katastru Nieruchomości
- d. utworzenie jednostki organizacyjnej urzędu gminy pod nazwą Powiatowy Ośrodek Dokumentacji Geodezyjnej i Kartograficznej

Pytanie **11**Punkty maks.:  
1,00

Projekt uchwały rady gminy o scaleniu i podziale nieruchomości podlega zaopiniowaniu przez radę uczestników scalenia oraz wyłożeniu do wglądu uczestnikom postępowania :

Wybierz wszystkie poprawne:

- a. na okres 7 dni, w siedzibie urzędu gminy
- b. na okres 14 dni, w siedzibie urzędu gminy
- c. na okres 21 dni, w siedzibie urzędu gminy
- d. na okres 30 dni, w siedzibie urzędu gminy

Pytanie **12**Punkty maks.:  
1,00

Projektant, w trakcie realizacji budowy, ma prawo:

Wybierz wszystkie poprawne:

- a. wstępu na teren budowy i dokonywania zapisów w dzienniku budowy dotyczących ich realizacji
- b. żądania wpisem do dziennika budowy wstrzymania robót budowlanych w razie stwierdzenia możliwości powstania zagrożenia
- c. prowadzenia dokumentacji budowy

- d. sporządzić, przed rozpoczęciem budowy plan bezpieczeństwa i ochrony zdrowia

Pytanie **13**Punkty maks.:  
1,00

Średni błąd położenia i wysokości punktów pomiarowej osnowy poziomej i wysokościowej odpowiednio:

Wybierz wszystkie poprawne:

- a.  
nie może być mniejszy niż 0,10m względem punktów poziomej osnowy geodezyjnej i 0,05m względem punktów wysokościowej osnowy geodezyjnej
- b. nie może być większy niż 0,10m względem punktów poziomej osnowy geodezyjnej i 0,10m względem punktów wysokościowej osnowy geodezyjnej
- c. nie może być większy niż 0,10m względem punktów poziomej osnowy geodezyjnej i 0,05m względem punktów wysokościowej osnowy geodezyjnej
- d. nie może być większy niż 0,05 m względem punktów poziomej osnowy geodezyjnej i 0,05m względem punktów wysokościowej osnowy geodezyjnej

Pytanie **14**Punkty maks.:  
1,00

Do dóbr osobistych człowieka należą :

Wybierz wszystkie poprawne:

- a. zdrowie
- b. nazwisko lub pseudonim
- c. swoboda sumienia
- d. cześć

Pytanie **15**Punkty maks.:  
1,00

Wojewódzkie zestawienia zbiorcze danych objętych ewidencją gruntów i budynków sporządza:

Wybierz wszystkie poprawne:

- a. wojewódzki inspektor nadzoru geodezyjnego i kartograficznego
- b. wojewoda
- c. Główny Geodeta Kraju
- d. marszałek województwa

Pytanie **16**Punkty maks.:  
1,00

Trwała stabilizacja punktów granicznych może nastąpić:

Wybierz wszystkie poprawne:

- a. na koszt zainteresowanych podmiotów
- b. w każdym przypadku
- c. na wniosek kierownika prac geodezyjnych
- d. z inicjatywy zainteresowanych podmiotów

Pytanie **17**Punkty maks.:  
1,00

Kto znaki graniczne niszczy, uszkadza, usuwa, przesuwa lub czyni niewidocznymi albo fałszywie wystawia:

Wybierz wszystkie poprawne:

- a. podlega karze ograniczenia wolności albo pozbawienia wolności do lat 5
- b. nie podlega grzywnie
- c. podlega karze pozbawienia wolności do 3 lat
- d. podlega grzywnie, podlega karze ograniczenia wolności albo pozbawienia wolności do lat 2

Pytanie **18**Punkty maks.:  
1,00

Geoportal infrastruktury informacji przestrzennej tworzy i utrzymuje:

Wybierz wszystkie poprawne:

- a. Główny Geodeta Kraju
- b. Główny Geodeta Kraju w porozumieniu z ministrem właściwym do spraw budownictwa, planowania i zagospodarowania przestrzennego oraz mieszkalnictwa
- c. właściwy miejscowo starosta
- d. Minister właściwy do spraw budownictwa, planowania i zagospodarowania przestrzennego oraz mieszkalnictwa

Pytanie **19**Punkty maks.:  
1,00

Wzory klauzul urzędowych, którymi opatruje się dokumenty i materiały przeznaczone dla podmiotu, na rzecz którego wykonawca prac geodezyjnych wykonał prace geodezyjne:

Wybierz wszystkie poprawne:

- a. określone są przez właściwy organ obsługujący zgłoszenie prac geodezyjnych
- b. określone są przez Głównego Geodetę Kraju
- c. określone są w załączniku do rozporządzenia w sprawie organizacji i trybu prowadzenia państwowego zasobu geodezyjnego i kartograficznego
- d. nie są określone przepisem prawa

Pytanie **20**Punkty maks.:  
1,00

W przypadku obiektów geodezyjnej ewidencji sieci uzbrojenia terenu mających status "projektowany" prezentacja graficzna na mapie zasadniczej jest realizowana w przypadku przewodów w następujący sposób:

Wybierz wszystkie poprawne:

- a. linią ciągłą
- b. z dodatkiem etykiety "proj."
- c. linią przerywaną
- d. w kolorze przypisanym do rodzaju sieci

Pytanie **21**Punkty maks.:  
1,00

W przypadku, gdy dla danego obiektu bazy BDOT500 dopuszcza się reprezentację geometryczną obiektu za pomocą punktu albo poligonu, reprezentację punktową stosuje się:

Wybierz wszystkie poprawne:

- a. jeżeli średnica obiektu lub jego wymiary są mniejsze niż 0,65 m lub równe 0,65 m
- b. jeżeli średnica obiektu lub jego wymiary są mniejsze niż 0,25 m lub równe 0,25 m
- c. jeżeli średnica obiektu lub jego wymiary są mniejsze niż 0,75 m lub równe 0,75 m
- d. jeżeli średnica obiektu lub jego wymiary są mniejsze niż 0,50 m lub równe 0,50 m

Pytanie **22**Punkty maks.:  
1,00

Przy nadawaniu numerów porządkowych:

Wybierz wszystkie poprawne:

- a. nie uwzględnia się prognozowanej zabudowy przy nadawaniu numerów porządkowych
- b. uwzględnia się numerację porządkową w miejscowościach sąsiednich
- c. pozostawia się wolne numery pod prognozowaną zabudowę
- d. uwzględnia się ład przestrzenny w całej miejscowości

Pytanie **23**Punkty maks.:  
1,00

Do samodzielnego lokalu mieszkalnego mogą przynależeć, jako jego części składowe, pomieszczenia takie jak:

Wybierz wszystkie poprawne:

- a. piwnica
- b. komórka
- c. garaż
- d. strych

Pytanie **24**Punkty maks.:  
1,00

W rozumieniu przepisów o postępowaniach administracyjnych „milcząca załatwienie sprawy” następuje:

Wybierz wszystkie poprawne:

- a. piętnastego dnia od upływu terminu przewidzianego do wydania decyzji lub postanowienia kończącego postępowanie w sprawie albo wniesienia sprzeciwu
- b. czternastego dnia od upływu terminu przewidzianego do wydania decyzji lub postanowienia kończącego postępowanie w sprawie albo wniesienia sprzeciwu
- c. siódmego dnia od upływu terminu przewidzianego do wydania decyzji lub postanowienia kończącego postępowanie w sprawie albo wniesienia sprzeciwu
- d. w dniu następującym po dniu, w którym upływa termin przewidziany do wydania decyzji lub postanowienia kończącego postępowanie w sprawie albo wniesienia sprzeciwu

Pytanie **25**

Punkty maks.:  
1,00

Materiały zasobu w postaci nieelektronicznej przyjęte do państwowego zasobu geodezyjnego i kartograficznego przetwarza się sukcesywnie do postaci dokumentów elektronicznych nie dłużej niż:

Wybierz wszystkie poprawne:

- a. do dnia 31 grudnia 2021 r.
- b. do dnia 31 grudnia 2022 r.
- c. do dnia 31 grudnia 2023 r.
- d. do dnia 31 grudnia 2024 r.

Pytanie **26**

Punkty maks.:  
1,00

Jakim symbolem oznaczamy w ewidencji gruntów i budynków grunty zajęte pod cmentarze?:

Wybierz wszystkie poprawne:

- a. Bi
- b. Cm
- c. Bz
- d. Tr

Pytanie **27**

Punkty maks.:  
1,00

Wypisy i wyrisy:

Wybierz wszystkie poprawne:

- a. nie podlegają udostępnieniu
- b. udostępnia się w postaci dokumentu elektronicznego lub w postaci papierowej
- c. udostępnia się wyłącznie w postaci papierowej
- d. udostępnia się wyłącznie w postaci dokumentu elektronicznego

Pytanie **28**

Punkty maks.:  
1,00

Klasę bazową podstawowej osnowy geodezyjnej wysokościowej tworzą:

Wybierz wszystkie poprawne:

- a. punkty wyznaczone techniką precyzyjnej niwelacji geometrycznej
- b. punkty wyznaczone metodą niwelacji trygonometrycznej
- c. punkty wyznaczone metodą niwelacji satelitarnej
- d. punkty krajowej części sieci niwelacyjnej Europy niewłączone do klasy fundamentalnej

Pytanie **29**

Punkty maks.:  
1,00

Przez rejestr publiczny rozumie się między innymi:

Wybierz wszystkie poprawne:

- a. wykaz służący do realizacji zadań publicznych, prowadzony przez podmiot publiczny
- b. spis służący do realizacji zadań publicznych, prowadzony przez podmiot publiczny
- c. ewidencję służącą do realizacji zadań publicznych, prowadzoną przez podmiot publiczny
- d. rejestr służący do realizacji zadań publicznych, prowadzony przez podmiot publiczny

Pytanie **30**

Punkty maks.:  
1,00

Do dróg krajowych zalicza się:

Wybierz wszystkie poprawne:

- a. drogi międzynarodowe
- b. drogi alternatywne dla autostrad płatnych
- c. drogi stanowiące ciągi obwodnicowe dużych aglomeracji miejskich
- d. drogi ekspresowe

Pytanie **31**

Punkty maks.:  
1,00

Dla przewodów sieci kanalizacyjnej wyróżnia się następujące typy przewodów:

Wybierz wszystkie poprawne:

- a. lokalny
- b. ogólny

- c. sanitarny
- d. przemysłowy

Pytanie **32**Punkty maks.:  
1,00Przepisów Kodeksu postępowania administracyjnego nie stosuje się do:

Wybierz wszystkie poprawne:

- a. postępowania w sprawach karnych skarbowych
- b. udzielania ulg w przypadku wymierzonej administracyjnej kary pieniężnej
- c. postępowania w sprawach wydawania zaświadczeń
- d. europejskiej współpracy administracyjnej

Pytanie **33**Punkty maks.:  
1,00

Jeżeli organ Służby Geodezyjnej i Kartograficznej nie uwzględni stanowiska wykonawcy prac geodezyjnych:

Wybierz wszystkie poprawne:

- a. wydaje postanowienie o odmowie przyjęcia do państwowego zasobu geodezyjnego i kartograficznego wyników zgłoszonych prac
- b. wzywa wykonawcę prac geodezyjnych do usunięcia nieprawidłowości i uchybień
- c. wydaje decyzję o przyjęciu wyników zgłoszonych prac do państwowego zasobu geodezyjnego i kartograficznego
- d. wydaje decyzję administracyjną o odmowie przyjęcia do państwowego zasobu geodezyjnego i kartograficznego wyników zgłoszonych prac

Pytanie **34**Punkty maks.:  
1,00

Z zastrzeżeniem wyjątków wynikających z przepisów ustawy o gospodarce nieruchomościami oraz odrębnych ustaw, organem reprezentującym Skarb Państwa w sprawach gospodarowania nieruchomościami jest:

Wybierz wszystkie poprawne:

- a. marszałek województwa
- b. Prezes Rady Ministrów
- c. starosta, wykonujący zadanie z zakresu administracji rządowej
- d. wojewoda

Pytanie **35**Punkty maks.:  
1,00

Numery działek ewidencyjnych, które w wyniku zmiany granic obrębów znalazły się w granicach innego obrębu ewidencyjnego oznacza się:

Wybierz wszystkie poprawne:

- a. kolejnymi liczbami naturalnymi po dowolnym wykorzystanym numerze działki ewidencyjnej w obrębie ewidencyjnym
- b. ułamków zwykłych, utworzonych w wyniku dodania do liczników ułamków zwykłych, którymi dotychczas były oznaczone te działki, stałej wartości, stanowiącej krotność liczby 1000
- c. w postaci ułamków zwykłych, utworzonych w wyniku dodania do mianowników ułamków zwykłych, którymi dotychczas były oznaczone te działki, stałej wartości, stanowiącej krotność liczby 1000, niewykorzystanej dotychczas do numeracji działek ewidencyjnych w tym obrębie
- d. kolejnymi liczbami naturalnymi po najwyższym wykorzystanym numerze działki ewidencyjnej w obrębie ewidencyjnym

Pytanie **36**Punkty maks.:  
1,00

Prezydent Rzeczypospolitej Polskiej:

Wybierz wszystkie poprawne:

- a. jest najwyższym zwierzchnikiem Sił Zbrojnych Rzeczypospolitej Polskiej
- b. jest najwyższym przedstawicielem Rzeczypospolitej Polskiej
- c. kieruje administracją rządową
- d. jest wybierany na 4-letnią kadencję

Materiały przyjęte do zasobu w postaci elektronicznej przetwarza się niezwłocznie do dokumentu elektronicznego zapisanego w formacie:

Wybierz wszystkie poprawne:



Pytanie **37**Punkty maks.:  
1,00

- a. shp
- b. gml
- c. pdf
- d. uzgodnionym z wykonawcą prac geodezyjnych

Pytanie **38**Punkty maks.:  
1,00

Wpływy z udostępniania map, danych z ewidencji gruntów i budynków oraz innych materiałów i informacji z zasobów powiatowych :

Wybierz wszystkie poprawne:

- a. są dochodami Centralnego Funduszu Gospodarki Zasobem Geodezyjnym i Kartograficznym
- b. są dochodami budżetu państwa
- c. są dochodami własnymi budżetu powiatu
- d. są dochodami Powiatowego Funduszu Gospodarki Zasobem Geodezyjnym i Kartograficznym

Pytanie **39**Punkty maks.:  
1,00

Kontrola działalności jednostki organizacyjnej, w zakresie wykonywania prac geodezyjnych, może dotyczyć:

Wybierz wszystkie poprawne:

- a. rzetelności wykonywania prac geodezyjnych
- b. przekazywania do państwowego zasobu geodezyjnego i kartograficznego wyników prac geodezyjnych
- c. zgłaszania prac geodezyjnych
- d. przestrzegania przepisów dotyczących wykonywania samodzielnych funkcji w zakresie geodezji i kartografii

Pytanie **40**Punkty maks.:  
1,00

Które z wymienionych obiektów należą do kategorii obiektów topograficznych (BDOT500) "wody":

Wybierz wszystkie poprawne:

- a. jaz
- b. przepust
- c. most
- d. molo

Pytanie **41**Punkty maks.:  
1,00

Do gruntów leśnych oraz zadrzewionych i zakrzewionych zaliczamy:

Wybierz wszystkie poprawne:

- a. grunty pod rowami
- b. tereny rekreacyjno-wypoczynkowe
- c. grunty zadrzewione i zakrzewione na użytkach rolnych
- d. grunty zadrzewione i zakrzewione

Pytanie **42**Punkty maks.:  
1,00

Zaliczenie do kategorii dróg wojewódzkich następuje :

Wybierz wszystkie poprawne:

- a. w drodze postanowienia Prezesa Rady Ministrów, po zasięgnięciu opinii właściwego wojewody
- b. w drodze uchwały sejmiku województwa
- c. w drodze uchwały zarządu województwa, po zasięgnięciu opinii zarządu powiatu
- d. w drodze uchwały zarządu województwa

Pytanie **43**Punkty maks.:  
1,00

Zasady użytkowania infrastruktury informacji przestrzennej dotyczą :

Wybierz wszystkie poprawne:

- a. danych przestrzennych i metadanych infrastruktury informacji przestrzennej
- b. interoperacyjności zbiorów danych przestrzennych i usług danych przestrzennych
- c. usług danych przestrzennych
- d. wspólnego korzystania z danych przestrzennych

Pytanie **44**Punkty maks.:  
1,00

Podstawową skalą mapy zasadniczej jest skala:

Wybierz wszystkie poprawne:

- a. 1:10 000
- b. 1:500
- c. 1:250
- d. 1:1000

Pytanie **45**Punkty maks.:  
1,00

Do pomiaru kontrolnego z wykorzystaniem technik satelitarnych GNSS można wykorzystać:

Wybierz wszystkie poprawne:

- a. punkty opisujące zapory wodne
- b. punkty opisujące użytki gruntowe
- c. punkt osnowy geodezyjnej
- d. punkt osnowy pomiarowej

Pytanie **46**Punkty maks.:  
1,00

Wrys z mapy ewidencyjnej jest fragmentem mapy ewidencyjnej zawierającym również:

Wybierz wszystkie poprawne:

- a. imię i nazwisko wykonawcy prac geodezyjnych
- b. projektowane budynki
- c. oznaczenie kierunku północy
- d. informację o skali mapy

Pytanie **47**Punkty maks.:  
1,00

Powiatową bazę GESUT aktualizuje się:

Wybierz wszystkie poprawne:

- a. raz w miesiącu, na podstawie danych dostępnych w usługach sieciowych z powiatowych baz GESUT
- b. na bieżąco, na podstawie danych dostępnych w usługach sieciowych z krajowych baz GESUT
- c. niezwłocznie, ale nie później niż 30 dni od uzyskania materiałów, wyników, danych lub informacji
- d. niezwłocznie, ale nie później niż w ciągu miesiąca od uzyskania materiałów, wyników, danych lub informacji

Pytanie **48**Punkty maks.:  
1,00

Państwowy rejestr podstawowych osnów geodezyjnych, grawimetrycznych i magnetycznych prowadzi:

Wybierz wszystkie poprawne:

- a. Główny Geodeta Kraju
- b. Wojewódzki Inspektor Nadzoru Geodezyjnego i Kartograficznego
- c. Starosta
- d. Minister ds. Obrony Narodowej

Pytanie **49**Punkty maks.:  
1,00

Ulice leżące w ciągu dróg krajowych należą:

Wybierz wszystkie poprawne:

- a. do dróg powiatowych
- b. do dróg wojewódzkich
- c. do dróg krajowych
- d. do dróg alternatywnych

Pytanie **50**Punkty maks.:  
1,00

Informacjom niejawnym nadaje się klauzulę „ściśle tajne” jeżeli ich nieuprawnione ujawnienie:

Wybierz wszystkie poprawne:

- a. zagrazi lub może zagrazić życiu pracownikom, którzy wykonują czynności operacyjno-rozpoznawcze
- b. zagrazi lub może zagrazić życiu lub zdrowiu świadków koronnych



- c. w istotny sposób zakłóci funkcjonowanie organów ścigania
- d. osłabi gotowość obronną Rzeczypospolitej Polskiej

Pytanie **51**Punkty maks.:  
1,00

Organ administracji publicznej może z urzędu lub na żądanie strony prostować błędy pisarskie i rachunkowe oraz inne oczywiste omyłki w wydanych przez ten organ decyzjach, w drodze:

Wybierz wszystkie poprawne:

- a. postanowienia
- b. decyzji prostującej
- c. zarządzenia
- d. zaświadczenia

Pytanie **52**Punkty maks.:  
1,00

Organ, który otrzymał zgłoszenie prac geodezyjnych, udostępnia kopie zbiorów danych lub innych materiałów państwowego zasobu geodezyjnego i kartograficznego:

Wybierz wszystkie poprawne:

- a. niezwłocznie, nie później niż w terminie 3 dni roboczych od dnia otrzymania opłaty
- b. niezwłocznie, nie później niż w terminie 10 dni roboczych od dnia otrzymania opłaty
- c. niezwłocznie, nie później niż w terminie 7 dni roboczych od dnia otrzymania opłaty
- d. niezwłocznie, nie później niż w terminie 5 dni roboczych od dnia otrzymania opłaty

Pytanie **53**Punkty maks.:  
1,00

Protokół ze wznowienia znaków granicznych lub wyznaczenia punktów granicznych zawiera m.in.:

Wybierz wszystkie poprawne:

- a. numery działek ewidencyjnych
- b. opis sposobu stabilizacji lub markowania punktów osnowy pomiarowej
- c. omówienie skreśleń i poprawek
- d. identyfikator obrębu ewidencyjnego

Pytanie **54**Punkty maks.:  
1,00

Pikietą według rozporządzenia w sprawie standardów mogą być:

Wybierz wszystkie poprawne:

- a. charakterystyczne punkty naturalnych form terenu
- b. punkty powierzchni terenu charakteryzujące jego rzeźbę
- c. wszystkie punkty powierzchni terenu
- d. charakterystyczne punkty sztucznych form terenu

Pytanie **55**Punkty maks.:  
1,00

Z państwowego zasobu geodezyjnego i kartograficznego udostępnia się:

Wybierz wszystkie poprawne:

- a. oryginały materiału zasobu poza miejsce jego przechowywania, jeżeli jest to niezbędne do wykonania zadań publicznych określonych przez ustawy
- b. wyłącznie kopie materiałów zasobu
- c. oryginał materiału zasobu, w miejscu jego przechowywania w obecności pracownika wyznaczonego przez organ prowadzący zasób, w przypadku materiałów zasobu w postaci nonelektronicznej
- d. kopie materiałów zasobu

Pytanie **56**Punkty maks.:  
1,00

Organ prowadzący zasób:

Wybierz wszystkie poprawne:

- a. przechowuje co najmniej dwie ostatnie kopie bezpieczeństwa materiałów zasobu
- b. wykonuje na nośnikach zewnętrznych, nie rzadziej niż raz na rok, kopie bezpieczeństwa materiałów zasobu w postaci elektronicznej
- c. przechowuje materiały zasobu w sposób chroniący je przed zniszczeniem
- d. przechowuje materiały zasobu w sposób chroniący je przed pożarem

Pytanie **57**

Punkty maks.:  
1,00

Podziału na obręby ewidencyjne i określenia ich granic dokonuje:

Wybierz wszystkie poprawne:

- a. starosta w uzgodnieniu z Głównym Geodetą Kraju
- b. wójt w uzgodnieniu z właściwą jednostką statystyki publicznej
- c. wójt
- d. starosta w uzgodnieniu z właściwą radą gminy

Pytanie **58**

Punkty maks.:  
1,00

Wywłaszczenie jest dopuszczalne, gdy jest dokonywane:

Wybierz wszystkie poprawne:

- a. dla powiększenia nieruchomości sąsiedniej, gdy jest to niezbędne, aby stała się działką budowlaną
- b. pod budowę sklepów wielkopowierzchniowych
- c. na cele organizacji pożytku publicznego
- d. na cele publiczne i za słusznym odszkodowaniem

Pytanie **59**

Punkty maks.:  
1,00

Pola powierzchni użytków gruntowych i konturów klasyfikacyjnych obliczone na podstawie wyników geodezyjnych pomiarów sytuacyjnych w granicach działki ewidencyjnej:

Wybierz wszystkie poprawne:

- a. wykazuje się z taką samą precyzją zapisu jak pole powierzchni działki ewidencyjnej
- b. wykazuje się z precyzją zapisu większą niż pole powierzchni działki ewidencyjnej
- c. wyrównuje się do pola powierzchni konturu klasyfikacyjnego
- d. wyrównuje się do pola powierzchni tej działki

Pytanie **60**

Punkty maks.:  
1,00

Uzgodnieniu usytuowania projektowanych sieci uzbrojenia terenu – na naradzie koordynacyjnej zwoływanej przez starostę – podlegają sieci sytuowane między innymi:

Wybierz wszystkie poprawne:

- a. na obszarach miast
- b. w pasach drogowych na terenie projektowanej zwartej zabudowy obszarów wiejskich
- c. w pasach drogowych na terenie istniejącej zwartej zabudowy obszarów wiejskich
- d. na obszarze luźnej zabudowy wiejskiej