



Wydział Test

Pytanie 1

Punkty: 1,00

W przypadku wzajemnego przecinania się gruntów zajętych pod linie kolejowe, drogi publiczne lub kanały przy ustalaniu granic działek ewidencyjnych stosuje się następujące zasady:

Wybierz wszystkie poprawne:

- a. kryte kanały i rurociągi dzielą linie kolejowe oraz drogi publiczne na odrębne działki ewidencyjne
- b. drogi wyższej kategorii wybudowane na powierzchni gruntu dzielą drogi niższej kategorii wybudowane na powierzchni gruntu na odrębne działki ewidencyjne
- c. linie kolejowe wybudowane nad powierzchnią gruntu dzielą drogi publiczne wybudowane nad powierzchnią gruntu na odrębne działki ewidencyjne
- d. drogi wewnętrzne dzielą drogi publiczne na odrębne działki ewidencyjne

Pytanie 2

Punkty: 1,00

Sprawozdanie techniczne zawiera m.in.:

Wybierz wszystkie poprawne:

- a. dokumentację procesu wyrównania
- b. nazwę zleceniodawcy prac widniejącą w zawartej umowie
- c. datę zakończenia prac geodezyjnych
- d. informację dotyczącą przekazywania plików do aktualizacji baz danych zasobu

Pytanie 3

Punkty: 1,00

Wykreślenie z centralnego rejestru osób posiadających uprawnienia zawodowe następuje w przypadku:

Wybierz wszystkie poprawne:

- a. utraty pełnej zdolności do czynności prawnych
- b. śmierci
- c. sądowego zakazu wykonywania zawodu geodety lub kartografa
- d. zawieszenia uprawnień zawodowych

Pytanie 4

Punkty: 1,00

Rada Infrastruktury Informacji Przestrzennej działa przy:

Wybierz wszystkie poprawne:

- a. Głównym Urzędzie Geodezji i Kartografii
- b. Głównym Geodecie Kraju
- c. Ministrze właściwym do spraw budownictwa, planowania i zagospodarowania przestrzennego oraz mieszkalnictwa
- d. Prezesie Rady Ministrów

Pytanie 5

Punkty: 1,00

Do sporządzania mapy do celów projektowych wykonawca prac geodezyjnych wykorzystuje:

Wybierz wszystkie poprawne:

- a. materiały udostępnione z zasobu
- b. inne dokumenty lub informacje dotyczące obszaru projektowanego zamierzenia budowlanego lub terenów sąsiednich, jeżeli mają znaczenie dla zamierzenia budowlanego
- c. opracowania planistyczne
- d. wyniki wykonanych pomiarów

Pytanie 6

Punkty: 1,00

W przypadku udostępniania materiałów zasobu w związku ze zgłoszeniem prac geodezyjnych klauzula urzędowa jest równoważna z:

Wybierz wszystkie poprawne:

- a. podpisem odręcznym osoby reprezentującej organ prowadzący zasób
- b. kwalifikowanym podpisem elektronicznym osoby reprezentującej organ prowadzącym zasób
- c. kwalifikowaną pieczęcią elektroniczną organu prowadzącego zasób
- d. decyzją administracyjną o przyjęciu materiału do zasobu

Pytanie **7**

Punkty: 1,00

Osoba upoważniona przez starostę zwana klasyfikatorem przeprowadza:

Wybierz wszystkie poprawne:

- a. analizę niezbędnych materiałów stanowiących państwowy zasób geodezyjny i kartograficzny
- b. badanie ksiąg wieczystych
- c. sporządza wypisy z ewidencji gruntów przedmiotowych działek
- d. czynności klasyfikacyjne w terenie

Pytanie **8**

Punkty: 1,00

Organ orzekający w sprawach odpowiedzialności dyscyplinarnej osób wykonujących samodzielne funkcje w dziedzinie geodezji i kartografii wymierza karę:

Wybierz wszystkie poprawne:

- a. uwzględniając cele zapobiegawcze, które ma osiągnąć w stosunku do ukaranego
- b. uwzględniając stopień szkodliwości czynu
- c. uwzględniając stopień winy
- d. uwzględniając cele dyscyplinujące, które ma osiągnąć w stosunku do ukaranego

Pytanie **9**

Punkty: 1,00

Zawiadomienie o czynnościach podjętych w celu ustalenia przebiegu granic działek ewidencyjnych wykonawca prac geodezyjnych doręcza:

Wybierz wszystkie poprawne:

- a. użytkownikom wieczystym
- b. sąsiadom
- c. użytkownikom gruntów państwowych
- d. właścicielom

Pytanie **10**

Punkty: 1,00

Dane zgromadzone w powiatowej bazie geodezyjnej ewidencji sieci uzbrojenia terenu (GESUT) aktualizuje się między innymi:

Wybierz wszystkie poprawne:

- a. niezwłocznie po uzyskaniu danych lub informacji niezbędnych do tej aktualizacji, jednak nie później niż w terminie 30 dni od dnia, w którym zakończyła się narada koordynacyjna
- b. niezwłocznie po uzyskaniu danych lub informacji niezbędnych do tej aktualizacji, jednak nie później niż w terminie 14 dni od pozyskania ich z innego rejestru publicznego
- c. w cyklach miesięcznych
- d. niezwłocznie po uzyskaniu danych lub informacji niezbędnych do tej aktualizacji, jednak nie później niż w terminie 30 dni od dnia przekazania ich przez podmiot władający siecią uzbrojenia terenu

Pytanie **11**

Punkty: 1,00

Danymi ewidencyjnymi dotyczącymi punktu granicznego są:

Wybierz wszystkie poprawne:

- a. informacja dotycząca spełnienia standardów dokładnościowych
- b. oznaczenie punktu granicznego w materiale źródłowym
- c. identyfikator punktu granicznego
- d. rodzaj stabilizacji

Pytanie **12**

Punkty: 1,00

Przewodniczący komisji kwalifikacyjnej wyznacza termin i miejsce przeprowadzenia części sprawdzającej postępowania kwalifikacyjnego w terminie do:

Wybierz wszystkie poprawne:

- a. 4 tygodni od dnia wszczęcia postępowania kwalifikacyjnego
- b. 1 miesiąca od dnia wszczęcia postępowania kwalifikacyjnego
- c. 30 dni od dnia wszczęcia postępowania kwalifikacyjnego
- d. 6 tygodni od dnia wszczęcia postępowania kwalifikacyjnego

Pytanie **13**

Punkty: 1,00

Sąd ustanawia kuratora do reprezentowania osoby prawnej między innymi w następujących sytuacjach:

Wybierz wszystkie poprawne:

- a. tylko wtedy, kiedy tego zażąda od sądu organ uprawniony do jego reprezentowania i jest to zasada generalna
- b. jeżeli nie może prowadzić swoich spraw ze względu na brak organu
- c. jeżeli osoba nie może być reprezentowana ze względu na brak organu albo brak w składzie organu uprawnionego do jej reprezentowania
- d. jeżeli w składzie organu brak osoby uprawnionej do jej reprezentowania

Pytanie **14**

Punkty: 1,00

Droga gminna (w rozumieniu ustawy o drogach publicznych) powinna spełniać wymagania techniczne i użytkowe określone dla następujących klas:

Wybierz wszystkie poprawne:

- a. Z
- b. G
- c. GP
- d. L

Pytanie **15**

Punkty: 1,00

Nieżłożenie zawiadomienia o przekazaniu wyników zgłoszonych prac geodezyjnych i nieprzekazanie tych wyników przed upływem przewidywanego terminu:

Wybierz wszystkie poprawne:

- a. jest równoznaczne z anulowaniem zgłoszenia prac
- b. jest równoznaczne z przedłużeniem terminu przekazania
- c. jest równoznaczne z zaniechaniem wykonywania tych prac
- d. skutkuje negatywnym protokołem weryfikacji

Pytanie **16**

Punkty: 1,00

Drogowy obiekt inżynierski oznacza:

Wybierz wszystkie poprawne:

- a. przepust
- b. obiekt mostowy
- c. konstrukcję oporową
- d. tunel

Pytanie **17**

Punkty: 1,00

Geodezyjną dokumentację techniczną sporządzoną w związku z zakładaniem lub utrzymywaniem podstawowych osnów geodezyjnych, grawimetrycznych i magnetycznych oraz szczegółowych osnów geodezyjnych:

Wybierz wszystkie poprawne:

- a. publikuje się w Biuletynie Urzędu
- b. wykonawca przechowuje przez okres 5 lat
- c. przekazuje się do właściwego organu Służby Geodezyjnej i Kartograficznej
- d. przekazuje się do wykorzystania wszystkim wykonawcom prac geodezyjnych

Pytanie **18**

Punkty: 1,00

Obrońcą obwinionego w postępowaniu wszczętym przez rzecznika dyscyplinarnego w sprawie odpowiedzialności dyscyplinarnej osób wykonujących samodzielne funkcje w dziedzinie geodezji i kartografii może być:

Wybierz wszystkie poprawne:

- a. osoba będąca członkiem organizacji społeczno-zawodowej działającej w dziedzinie geodezji i kartografii
- b. osoba będąca członkiem dowolnej organizacji społeczno-zawodowej
- c. adwokat
- d. radca prawny

Pytanie **19**

Punkty: 1,00

Materiały przyjęte do zasobu w postaci elektronicznej przetwarzają się niezwłocznie do dokumentu elektronicznego zapisanego w formacie:

Wybierz wszystkie poprawne:

- a. shp
- b. uzgodnionym z wykonawcą prac geodezyjnych
- c. gml
- d. pdf

Pytanie **20**

Punkty: 1,00

Wywłaszczenie jest dopuszczalne, gdy jest dokonywane:

Wybierz wszystkie poprawne:

- a. pod budowę sklepów wielkopowierzchniowych
- b. na cele organizacji pożytku publicznego
- c. na cele publiczne i za słusznym odszkodowaniem
- d. dla powiększenia nieruchomości sąsiedniej, gdy jest to niezbędne, aby stała się działką budowlaną

Pytanie **21**

Punkty: 1,00

Jednostkami powierzchniowymi podziału kraju dla celów ewidencji są:

Wybierz wszystkie poprawne:

- a. jednostka ewidencyjna
- b. działka ewidencyjna
- c. obręb ewidencyjny
- d. użytek gruntowy

Pytanie **22**

Punkty: 1,00

Oświadczenie woli w imieniu gminy w zakresie zarządu mieniem składa:

Wybierz wszystkie poprawne:

- a. jednoosobowo wójt
- b. przewodniczący Rady Gminy po zasięgnięciu opinii regionalnej izby obrachunkowej
- c. upoważniony przez wójta zarząd gminy
- d. Rada Gminy

Pytanie **23**

Punkty: 1,00

Organem nadzoru geodezyjnego i kartograficznego nie jest:

Wybierz wszystkie poprawne:

- a. wojewódzki inspektor nadzoru geodezyjnego i kartograficznego
- b. marszałek województwa
- c. geodeta powiatowy
- d. Główny Geodeta Kraju

Pytanie **24**

Punkty: 1,00

Przy nadawaniu numerów porządkowych:

Wybierz wszystkie poprawne:

- a. uwzględnia się numerację porządkową w miejscowościach sąsiednich
- b. pozostawia się wolne numery pod prognozowaną zabudowę
- c. uwzględnia się ład przestrzenny w całej miejscowości
- d. nie uwzględnia się prognozowanej zabudowy przy nadawaniu numerów porządkowych

Pytanie **25**

Punkty: 1,00

Kto niszczy, uszkadza, czyni bezużytecznym, ukrywa lub usuwa dokument, którym nie ma prawa wyłącznie rozporządzać:

Wybierz wszystkie poprawne:

- a. podlega grzywnie, karze ograniczenia wolności albo pozbawienia wolności do lat 5
- b. podlega grzywnie, karze ograniczenia wolności albo pozbawienia wolności do lat 2
- c. podlega grzywnie

- d. podlega karze pozbawienia wolności do lat 2

Pytanie **26**

Punkty: 1,00

Podjęcie przez radę gminy uchwały w sprawie nadania nazwy drodze wewnętrznej wymaga zgody :

Wybierz wszystkie poprawne:

- a. właścicieli terenów, na której jest zlokalizowana
- b. rady gminy
- c. rady gminy, po zasięgnięciu opinii właściwego starosty
- d. rady gminy, po zasięgnięciu opinii właściwego zarządu powiatu

Pytanie **27**

Punkty: 1,00

Ewidencję gruntów i budynków prowadzi:

Wybierz wszystkie poprawne:

- a. Starosta
- b. Starostwo Powiatowe
- c. Gmina
- d. Wójt

Pytanie **28**

Punkty: 1,00

Operat techniczny zaewidencjonowany w roku 1982 pod numerem 113 w powiatowym zasobie geodezyjnym i kartograficznym (lubartowskim-kod TERYT 0608) ma nadany numer ewidencyjny:

Wybierz wszystkie poprawne:

- a. P.0608.113.1982
- b. P.LUBART.1982.113
- c. P.0608.1982.113
- d. 1982.P.0608.113

Pytanie **29**

Punkty: 1,00

Pomiar kontrolny przy wykonywaniu pomiarów z wykorzystaniem kinematycznych technik satelitarnych GNSS wykonuje się:

Wybierz wszystkie poprawne:

- a. przynajmniej raz dziennie
- b. na punkcie o znanych współrzędnych
- c. przed rozpoczęciem pomiarów
- d. na dwóch punktach osnowy wysokościowej w odległości nie większej niż 5 km od punktów będących przedmiotem pomiaru

Pytanie **30**

Punkty: 1,00

Powiatową bazę GESUT starosta zakłada i prowadzi w drodze przetworzenia materiałów źródłowych, będących danymi i informacjami:

Wybierz wszystkie poprawne:

- a. pozyskanymi od podmiotów władających sieciami uzbrojenia terenu
- b. pozyskanymi z innych rejestrów publicznych
- c. zgromadzonymi w państwowym zasobie geodezyjnym i kartograficznym, w szczególności będącymi treścią geodezyjnej ewidencji sieci uzbrojenia terenu
- d. zgromadzonymi w państwowym zasobie geodezyjnym i kartograficznym, w szczególności będącymi treścią mapy zasadniczej oraz innych map wielkoskalowych

Pytanie **31**

Punkty: 1,00

W toku postępowania organy administracji publicznej:

Wybierz wszystkie poprawne:

- a. stoją na straży praworządności
- b. działają tylko na wniosek stron postępowania
- c. współdziałają ze sobą w zakresie niezbędnym do dokładnego wyjaśnienia stanu faktycznego i prawnego sprawy
- d. podejmują z urzędu wszelkie czynności niezbędne do załatwienia sprawy

Pytanie **32**

Punkty: 1,00

Do gruntów rolnych zalicza się:

Wybierz wszystkie poprawne:

- a. grunty utrzymywane w postaci ugoru lub odłogowane
- b. nieużytki
- c. grunty pod rowami
- d. grunty pod wodami powierzchniowymi stojącymi

Pytanie **33**

Punkty: 1,00

Trwała stabilizacja punktów granicznych może nastąpić:

Wybierz wszystkie poprawne:

- a. w każdym przypadku
- b. z inicjatywy zainteresowanych podmiotów
- c. na koszt zainteresowanych podmiotów
- d. na wniosek kierownika prac geodezyjnych

Pytanie **34**

Punkty: 1,00

Pierwszy człon identyfikatora ewidencyjnego materiału zasobu jest:

Wybierz wszystkie poprawne:

- a. czterocyfrową liczbą
- b. literą C, W lub P
- c. identyfikatorem TERYT
- d. skrótem PL

Pytanie **35**

Punkty: 1,00

Informacjom niejawnym nadaje się klauzulę „ściśle tajne” jeżeli ich nieuprawnione ujawnienie:

Wybierz wszystkie poprawne:

- a. osłabi gotowość obronną Rzeczypospolitej Polskiej
- b. w istotny sposób zakłóci funkcjonowanie organów ścigania
- c. zagrazi lub może zagrazić życiu pracownikom, którzy wykonują czynności operacyjno-rozpoznawcze
- d. zagrazi lub może zagrazić życiu lub zdrowiu świadków koronnych

Pytanie **36**

Punkty: 1,00

Do samodzielnego lokalu mieszkalnego mogą przynależeć, jako jego części składowe, pomieszczenia takie jak:

Wybierz wszystkie poprawne:

- a. komórka
- b. garaż
- c. strych
- d. piwnica

Pytanie **37**

Punkty: 1,00

Nieobecność na naradzie koordynacyjnej, zarządzanej przez starostę celem koordynacji sytuowania projektowanych sieci uzbrojenia terenu, podmiotu należy zawiadomionego:

Wybierz wszystkie poprawne:

- a. stanowi przeszkodę do jej przeprowadzenia
- b. nie stanowi przeszkody do jej przeprowadzenia, jednakże zobowiązuje starostę do wyznaczenia terminu dodatkowej narady koordynacyjnej dla podmiotu nieobecnego
- c. nie stanowi przeszkody do jej przeprowadzenia
- d. stanowi przeszkodę do jej przeprowadzenia i oznacza konieczność powtórzenia zawiadomienia wszystkich podmiotów i wyznaczenia nowego terminu narady

Pytanie **38**

Punkty: 1,00

W skład komisji kwalifikacyjnej do spraw uprawnień zawodowych w dziedzinie geodezji i kartografii wchodzi:

Wybierz wszystkie poprawne:

- a. wiceprzewodniczący

- b. dwaj sekretarze komisji kwalifikacyjnej
- c. przedstawiciel organizacji zawodowej
- d. Główny Geodeta Kraju

Pytanie **39**

Punkty: 1,00

Materiałom gromadzonym w państwowym zasobie geodezyjnym i kartograficznym nadawany jest identyfikator składający się z:

Wybierz wszystkie poprawne:

- a. czterech członów oddzielonych kropkami
- b. trzech członów oddzielonych kropkami
- c. pięciu członów oddzielonych kropkami
- d. dwóch członów oddzielonych kropkami

Pytanie **40**

Punkty: 1,00

Wyróżnia się następujące metody pozyskiwania informacji o obiekcie bazy BDOT500:

Wybierz wszystkie poprawne:

- a. wektoryzacja - D
- b. dokumentacja z narady koordynacyjnej - K
- c. dane branżowe - G
- d. pomiar bezpośredni w nawiązaniu do szczegółów terenowych - M

Pytanie **41**

Punkty: 1,00

Mapa zasadnicza:

Wybierz wszystkie poprawne:

- a. nie zawiera danych z ewidencji gruntów i budynków (np. granice i numery działek)
- b. zawiera informacje o właścicielu nieruchomości
- c. nie zawiera danych o zagospodarowaniu terenu (np. ulicach, drzewach, obiektach rzeźbie terenu)
- d. zawiera dane o podziemnym, naziemnym i nadziemnym uzbrojeniu terenu

Pytanie **42**

Punkty: 1,00

Zawieszenie postępowania administracyjnego następuje w formie:

Wybierz wszystkie poprawne:

- a. decyzji
- b. zarządzenia
- c. postanowienia
- d. uchwały

Pytanie **43**

Punkty: 1,00

Podmioty zarządzające sieciami uzbrojenia terenu uzgadniają usunięcie kolizji przebiegu sieci z inwestycją dotyczącą linii kolejowej w terminie:

Wybierz wszystkie poprawne:

- a. 21 dni od dnia otrzymania wniosku właściwej jednostki samorządu terytorialnego
- b. 7 dni od dnia otrzymania wniosku właściwej jednostki samorządu terytorialnego
- c. niezwłocznie
- d. 14 dni od dnia otrzymania wniosku właściwej jednostki samorządu terytorialnego

Pytanie **44**

Punkty: 1,00

Projekt założenia ewidencji gruntów i budynków określa w szczególności:

Wybierz wszystkie poprawne:

- a. system, w którym prowadzona będzie ewidencja
- b. wykaz budynków
- c. charakterystykę obiektu
- d. przewidywane terminy wykonania poszczególnych etapów prac

Pytanie **45**

Punkty: 1,00

Budowle i urządzenia ziemne oraz pojedyncze drzewa należą do:

Wybierz wszystkie poprawne:

- a. I grupy szczegółów terenowych
- b. I lub II grupy szczegółów terenowych
- c. II grupy szczegółów terenowych
- d. III grupy szczegółów terenowych

Pytanie **46**

Punkty: 1,00

Geodezyjne pomiary sytuacyjne, mające na celu wznowienie znaków granicznych lub wyznaczenie punktów granicznych, wykonuje się z wykorzystaniem:

Wybierz wszystkie poprawne:

- a. założonej w tym celu, pomiarowej osnowy sytuacyjnej
- b. opracowań na potrzeby ewidencji gruntów
- c. materiałów zasobu umożliwiających odtworzenie położenia tych punktów w terenie
- d. współrzędnych punktów granicznych pozyskanych w ramach modernizacji ewidencji gruntów i budynków

Pytanie **47**

Punkty: 1,00

Krajową bazę geodezyjnej ewidencji sieci uzbrojenia terenu (GESUT) prowadzi:

Wybierz wszystkie poprawne:

- a. wszystkie wymienione odpowiedzi są poprawne
- b. Główny Geodeta Kraju
- c. minister do spraw budownictwa i gospodarki przestrzennej i mieszkaniowej
- d. starosta

Pytanie **48**

Punkty: 1,00

Wyniki pomiarów długości oraz współrzędne prostokątne płaskie przy wykonywaniu geodezyjnych pomiarów sytuacyjnych:

Wybierz wszystkie poprawne:

- a. wyraża się w milimetrach z precyzją zapisu do 0,001 m - dla pomiarów wymagających wyższej dokładności
- b. wyraża się w milimetrach z precyzją zapisu do 0,01 m
- c. wyraża się w metrach z precyzją zapisu do 0,001 m - dla pomiarów wymagających wyższej dokładności
- d. wyraża się w metrach z precyzją zapisu do 0,01 m

Pytanie **49**

Punkty: 1,00

Odmowa przyjęcia do zasobu geodezyjnego kartograficznego materiałów sporządzonych w ramach wykonanej pracy geodezyjnej przyjmuje postać:

Wybierz wszystkie poprawne:

- a. decyzji administracyjnej o odmowie
- b. zarządzenia o odmowie
- c. informacji na piśmie o odmowie oraz o możliwości odwołania do wojewódzkiego inspektora nadzoru geodezyjnego i kartograficznego
- d. informacji o odmowie oraz o przekazaniu dokumentacji do weryfikacji do wojewódzkiego inspektora nadzoru geodezyjnego i kartograficznego

Pytanie **50**

Punkty: 1,00

Objęte infrastrukturą informacji przestrzennej zbiory oraz usługi danych przestrzennych, prowadzone przez organy administracji publicznej, są udostępniane:

Wybierz wszystkie poprawne:

- a. odpłatnie – instytucjom i organom Unii Europejskiej do celów sprawozdawczych w zakresie środowiska
- b. nieodpłatnie – instytucjom i organom Unii Europejskiej do celów sprawozdawczych w zakresie środowiska
- c. nieodpłatnie – innym organom administracji w zakresie niezbędnym do realizacji przez nie zadań publicznych
- d. odpłatnie – innym organom administracji w zakresie niezbędnym do realizacji przez nie zadań publicznych

Pytanie **51**

Punkty: 1,00

Organ, który otrzymał zgłoszenie prac geodezyjnych udostępnia kopie zbiorów danych lub innych materiałów państwowego zasobu geodezyjnego i kartograficznego:

Wybierz wszystkie poprawne:

- a. niezwłocznie, nie później niż w terminie 10 dni roboczych od dnia otrzymania opłaty
- b. niezwłocznie, nie później niż w terminie 5 dni roboczych od dnia otrzymania opłaty
- c. niezwłocznie, nie później niż w terminie 5 dni od dnia otrzymania opłaty
- d. niezwłocznie, nie później niż w terminie 30 dni od otrzymania opłaty

Pytanie **52**

Punkty: 1,00

Umorzenie postępowania administracyjnego następuje w formie:

Wybierz wszystkie poprawne:

- a. zarządzenia
- b. uchwały
- c. postanowienia
- d. decyzji

Pytanie **53**

Punkty: 1,00

Jeśli nazwa własna wody stojącej jest nieokreślona:

Wybierz wszystkie poprawne:

- a. używa się skrótu "n/z"
- b. używa się skrótu "ws"
- c. używa się skrótu "w"
- d. nie zamieszcza się opisu

Pytanie **54**

Punkty: 1,00

Władzę wykonawczą w Rzeczypospolitej Polskiej sprawują:

Wybierz wszystkie poprawne:

- a. Prezydent Rzeczypospolitej Polskiej
- b. Rada Ministrów
- c. sądy
- d. Sejm

Pytanie **55**

Punkty: 1,00

Dotychczasowy atrybut określający błąd położenia punktu granicznego (BPP) staje się:

Wybierz wszystkie poprawne:

- a. atrybutem określającym spełnienie przez punkt wymaganych standardów dokładnościowych
- b. atrybutem określającym źródło danych o położeniu punktu granicznego
- c. pozostaje bez zmian
- d. atrybutem określającym sposób pozyskania danych o punkcie granicznym

Pytanie **56**

Punkty: 1,00

Informację o tym, że dane objęte modernizacją zawarte w projekcie operatu opisowo-kartograficznego stają się danymi ewidencji gruntów i budynków, starosta ogłasza między innymi:

Wybierz wszystkie poprawne:

- a. w dzienniku urzędowym województwa
- b. na tablicy ogłoszeń w siedzibie starostwa powiatowego
- c. w Biuletynie Informacji Publicznej na stronie podmiotowej starostwa
- d. na tablicy ogłoszeń w siedzibie właściwego urzędu gminy

Pytanie **57**

Punkty: 1,00

Modyfikacji współrzędnych punktów granicznych dokonuje się, jeżeli odchyłka wyrażona przez pierwiastek z sumy kwadratów różnic między dotychczasowymi współrzędnymi punktu granicznego i współrzędnymi tego punktu jest:

Wybierz wszystkie poprawne:

- a. większa niż 0,15 m
- b. mniejsza niż 0,15 m
- c. większa niż 0,10 m
- d. równa 0,15 m

Pytanie **58**

Punkty: 1,00

Materiały przyjęte do zasobu w postaci nieelektronicznej przetwarzają się do dokumentu elektronicznego zapisanego w formacie PDF:

Wybierz wszystkie poprawne:

- a. niezwłocznie
- b. w terminie 14 dni od uzyskania pozytywnego protokołu weryfikacji
- c. w terminie 7 dni od uzyskania pozytywnego protokołu weryfikacji
- d. w terminie 30 dni od uzyskania pozytywnego protokołu weryfikacji

Pytanie **59**

Punkty: 1,00

Na naradach koordynacyjnych organizowanych przez starostę koordynuje się:

Wybierz wszystkie poprawne:




- a. sytuowanie projektowanych sieci uzbrojenia terenu w pasach drogowych na terenie projektowanej zwartej zabudowy obszarów wiejskich
- b. sytuowanie projektowanych sieci uzbrojenia terenu na obszarach miast
- c. sytuowanie projektowanych sieci uzbrojenia terenu tylko na obszarach miast
- d. sytuowanie projektowanych sieci uzbrojenia terenu w pasach drogowych na terenie projektowanej luźnej zabudowy obszarów wiejskich

Pytanie **60**

Punkty: 1,00

Który znak kartograficzny przedstawia zasuwę lub zawór:

Wybierz wszystkie poprawne:

- a. 
- b. 
- c. 
- d. 