



Wydział Test

Pytanie 1

Punkty: 1,00

Organ administracji publicznej wydaje zaświadczenie jeżeli:

Wybierz wszystkie poprawne:

- a. osoba ubiega się o zaświadczenie ze względu na swój interes prawny w urzędowym potwierdzeniu stanu prawnego
- b. urzędowego potwierdzenia określonych faktów wymaga przepis prawa
- c. urzędowego potwierdzenia określonego stanu prawnego wymaga przepis prawa
- d. osoba ubiega się o zaświadczenie ze względu na swój interes prawny w urzędowym potwierdzeniu określonych faktów

Pytanie 2

Punkty: 1,00

Organ administracji publicznej może z urzędu lub na żądanie strony prostować błędy pisarskie i rachunkowe oraz inne oczywiste omyłki w wydanych przez ten organ decyzjach, w drodze:

Wybierz wszystkie poprawne:

- a. decyzji prostującej
- b. zarządzenia
- c. postanowienia
- d. zaświadczenia

Pytanie 3

Punkty: 1,00

Za tereny zamknięte niezbędne dla obronności państwa, na których Minister Obrony Narodowej nadzoruje prace geodezyjne i kartograficzne, uznaje się:

Wybierz wszystkie poprawne:

- a. lotniska cywilne
- b. porty wojenne i urządzenia Marynarki Wojennej
- c. lotniska wojskowe
- d. składy i magazyny amunicji, uzbrojenia oraz materiałów pędnych i smarów

Pytanie 4

Punkty: 1,00

Droga powiatowa (w rozumieniu ustawy o drogach publicznych) powinna spełniać wymagania techniczne i użytkowe określone dla następujących klas:

Wybierz wszystkie poprawne:

- a. GP
- b. L
- c. G
- d. Z

Pytanie 5

Punkty: 1,00

Władzę wykonawczą w Rzeczypospolitej Polskiej sprawują:

Wybierz wszystkie poprawne:

- a. sądy
- b. Prezydent Rzeczypospolitej Polskiej
- c. Rada Ministrów
- d. Sejm

Pytanie 6

Punkty: 1,00

Dokumenty i materiały przeznaczone dla podmiotu, na rzecz którego wykonawca prac geodezyjnych wykonał prace geodezyjne, sporządzane w postaci nieelektronicznej opatruje się klauzulą urzędową zawierającą:

Wybierz wszystkie poprawne:

- a. identyfikator ewidencyjny operatu technicznego
- b. podpis osoby reprezentującej organ prowadzący zasób
- c. sumę kontrolną dokumentu elektronicznego według algorytmu SHA-2 (SHA-256)
- d. datę przyjęcia operatu technicznego do zasobu

Pytanie **7**
Punkty: 1,00

Sprawozdanie techniczne zawiera m.in.:

Wybierz wszystkie poprawne:

- a. dokumentację procesu wyrównania
- b. datę zakończenia prac geodezyjnych
- c. informację dotyczącą przekazywania plików do aktualizacji baz danych zasobu
- d. nazwę zleceniodawcy prac widniejącą w zawartej umowie

Pytanie **8**
Punkty: 1,00

Poprzez pojęcie tyczenia rozumiemy:

Wybierz wszystkie poprawne:

- a. postawienie pikiet z wbiciem palika drewnianego
- b. wskazanie w terenie punktów mające na celu pokazanie usytuowania obiektu /ów
- c. czynności zmierzające do opracowania współrzędnych punktów geodezyjnych
- d. zespół czynności polegających na wyznaczeniu i oznaczeniu położenia w terenie elementów niezbędnych do realizacji projektu obiektu budowlanego

Pytanie **9**
Punkty: 1,00

Organy Służby Geodezyjnej i Kartograficznej prowadzą między innymi następujące rejestry publiczne:

Wybierz wszystkie poprawne:

- a. krajowy rejestr urzędowy podziału terytorialnego kraju
- b. rejestr cen i wartości nieruchomości
- c. ewidencja miejscowości, ulic i adresów
- d. państwowy rejestr granic i powierzchni jednostek podziałów terytorialnych kraju

Pytanie **10**
Punkty: 1,00

Obowiązek stosowania legalnych jednostek miar dotyczy między innymi:

Wybierz wszystkie poprawne:

- a. przyrządów pomiarowych
- b. wykonywania pomiarów
- c. wyrażania wartości wielkości fizycznych
- d. innych przyrządów niż pomiarowe

Pytanie **11**
Punkty: 1,00

Do Rady Infrastruktury Informacji Przestrzennej należy między innymi:

Wybierz wszystkie poprawne:

- a. występowanie z inicjatywami dotyczącymi usprawnienia infrastruktury pod względem organizacyjnym i technicznym oraz rozszerzenia jej zakresu tematycznego
- b. opiniowanie powołania wiceprzewodniczącego Rady
- c. opiniowanie powołania przewodniczącego Rady
- d. opiniowanie projektów aktów prawnych na wniosek ministra właściwego w sprawach budownictwa, planowania i zagospodarowania przestrzennego oraz mieszkalnictwa

Pytanie **12**
Punkty: 1,00

Stanowisko Głównego Geodety Kraju może zajmować osoba, która:

Wybierz wszystkie poprawne:

- a. posiada kompetencje kierownicze
- b. posiada uprawnienia zawodowe co najmniej w zakresie 1 i 2
- c. korzysta w pełni z praw publicznych
- d. jest obywatelem polskim

Pytanie **13**
Punkty: 1,00

Wykonawca prac geodezyjnych lub prac kartograficznych zgłasza prace geodezyjne, których celem jest wznowienie znaków granicznych, wyznaczenie punktów granicznych lub ustalenie przebiegu granic działek ewidencyjnych:

Wybierz wszystkie poprawne:

- a. nie zgłasza pracy geodezyjnej
- b. Staroście
- c. Głównemu Geodecie Kraju
- d. w Centralnym Ośrodku Dokumentacji Geodezyjnej i Kartograficznej

Pytanie **14**

Punkty: 1,00

Powiatową bazę GESUT aktualizuje się:

Wybierz wszystkie poprawne:





- a. na bieżąco, na podstawie danych dostępnych w usługach sieciowych z krajowych baz GESUT
- b. niezwłocznie, ale nie później niż w ciągu miesiąca od uzyskania materiałów, wyników, danych lub informacji
- c. niezwłocznie, ale nie później niż 30 dni od uzyskania materiałów, wyników, danych lub informacji
- d. raz w miesiącu, na podstawie danych dostępnych w usługach sieciowych z powiatowych baz GESUT

Pytanie **15**

Punkty: 1,00

Który znak kartograficzny przedstawia taras na mapie zasadniczej:

Wybierz wszystkie poprawne:

- a. 
- b. 
- c. 
- d. 

Pytanie **16**

Punkty: 1,00

Wojewódzka komisja dyscyplinarna w sprawie odpowiedzialności zawodowej w dziedzinie geodezji i kartografii orzeka w składach:

Wybierz wszystkie poprawne:

- a. sześciuosobowych
- b. czterosobowych
- c. pięciosobowych
- d. trzyosobowych

Pytanie **17**

Punkty: 1,00

W skład komisji kwalifikacyjnej do spraw uprawnień zawodowych w dziedzinie geodezji i kartografii wchodzi:

Wybierz wszystkie poprawne:

- a. Główny Geodeta Kraju
- b. przedstawiciel organizacji zawodowej
- c. wiceprzewodniczący
- d. dwaj sekretarze komisji kwalifikacyjnej

Pytanie **18**

Punkty: 1,00

Organ prowadzący zasób:

Wybierz wszystkie poprawne:

- a. wykonuje na nośnikach zewnętrznych, nie rzadziej niż raz na rok, kopie bezpieczeństwa materiałów zasobu w postaci elektronicznej
- b. przechowuje materiały zasobu w sposób chroniący je przed pożarem
- c. przechowuje materiały zasobu w sposób chroniący je przed zniszczeniem
- d. przechowuje co najmniej dwie ostatnie kopie bezpieczeństwa materiałów zasobu

Które z wymienionych obiektów nie należą do kategorii obiektów topograficznych (BDOT500) "rzeźba terenu":

Wybierz wszystkie poprawne:

Pytanie **19**
Punkty: 1,00

- a. pikieta naturalna
- b. ostroga
- c. rów melioracyjny
- d. skarpa umocniona

Pytanie **20**
Punkty: 1,00

Ze względu na wymaganą dokładność określenia położenia punktów szczegółów terenowych wyróżnia się I, II i III grupę szczegółów terenowych, do grupy III nie są zaliczone szczegóły:

Wybierz wszystkie poprawne:

- a. oddziały leśne na obszarach lasów i parków narodowych
- b. odkrywki glebowe dla potrzeb gleboznawczej klasyfikacji gruntów
- c. sztuczne zbiorniki wodne
- d. zieleńce

Pytanie **21**
Punkty: 1,00

Odmowa aktualizacji informacji zawartych w ewidencji gruntów i budynków następuje w drodze:

Wybierz wszystkie poprawne:

- a. postanowienia
- b. zawiadomienia
- c. decyzji administracyjnej
- d. rozprawy administracyjnej

Pytanie **22**
Punkty: 1,00

Wyróżnia się następujące metody pozyskiwania informacji o obiekcie bazy BDOT500:

Wybierz wszystkie poprawne:

- a. wektoryzacja - D
- b. dane branżowe - G
- c. pomiar bezpośredni w nawiązaniu do szczegółów terenowych - M
- d. dokumentacja z narady koordynacyjnej - K

Pytanie **23**
Punkty: 1,00

Rejestr cen nieruchomości zawiera informacje dotyczące:

Wybierz wszystkie poprawne:

- a. strony kupującej
- b. wykazu nieruchomości będących przedmiotem transakcji
- c. rodzaju rynku
- d. ceny transakcji netto

Pytanie **24**
Punkty: 1,00

Materiały zasobu pozyskuje się do państwowego zasobu geodezyjnego i kartograficznego w wyniku:

Wybierz wszystkie poprawne:

- a. realizacji prac geodezyjnych lub prac kartograficznych
- b. przyjęcia darowizny
- c. działań organu prowadzącego zasób
- d. archiwizacji materiałów zasobu

Pytanie **25**
Punkty: 1,00

Trwała stabilizacja punktów granicznych może nastąpić:

Wybierz wszystkie poprawne:

- a. na wniosek kierownika prac geodezyjnych
- b. w każdym przypadku
- c. na koszt zainteresowanych podmiotów
- d. z inicjatywy zainteresowanych podmiotów

Pytanie **26**

Punkty: 1,00

Zarządzenia Prezesa Rady Ministrów:

Wybierz wszystkie poprawne:

- a. mogą stanowić podstawy decyzji wobec osób prawnych
- b. są wydawane tylko na podstawie ustawy
- c. nie mogą stanowić podstawy decyzji wobec obywateli
- d. mają charakter wewnętrzny

Pytanie **27**

Punkty: 1,00

Zgodnie z art. 107 § 1 Kodeksu postępowania administracyjnego do elementów decyzji zaliczamy:

Wybierz wszystkie poprawne:

- a. podpisy stron
- b. rozstrzygnięcie
- c. datę wydania
- d. oznaczenie organu administracji publicznej

Pytanie **28**

Punkty: 1,00

Danymi ewidencyjnymi dotyczącymi punktu granicznego są:

Wybierz wszystkie poprawne:

- a. identyfikator punktu granicznego
- b. informacja dotycząca spełnienia standardów dokładnościowych
- c. rodzaj stabilizacji
- d. oznaczenie punktu granicznego w materiale źródłowym

Pytanie **29**

Punkty: 1,00

Obiektem trwale związanym z budynkiem jest:

Wybierz wszystkie poprawne:

- a. podpora
- b. piwnica
- c. garaż
- d. schody

Pytanie **30**

Punkty: 1,00

Nieobecność na naradzie koordynacyjnej, zarządzanej przez starostę celem koordynacji sytuowania projektowanych sieci uzbrojenia terenu, podmiotu należycie zawiadomionego:

Wybierz wszystkie poprawne:

- a. stanowi przeszkodę do jej przeprowadzenia
- b. nie stanowi przeszkody do jej przeprowadzenia
- c. nie stanowi przeszkody do jej przeprowadzenia, jednakże zobowiązuje starostę do wyznaczenia terminu dodatkowej narady koordynacyjnej dla podmiotu nieobecnego
- d. stanowi przeszkodę do jej przeprowadzenia i oznacza konieczność powtórzenia zawiadomienia wszystkich podmiotów i wyznaczenia nowego terminu narady

Pytanie **31**

Punkty: 1,00

Odległość silosów na zboże i pasze o pojemności do 100 ton powinna wynosić co najmniej:

Wybierz wszystkie poprawne:

- a. 8 m od innych budynków, z wyłączeniem budynków inwentarskich i gospodarczych
- b. 8 m od pomieszczeń przeznaczonych na pobyt ludzi
- c. 4 m od granicy działki sąsiedniej
- d. 15 m od składu węgla i koksu

Pytanie **32**

Punkty: 1,00

Wójt prowadzi sprawy z zakresu geodezji i kartografii - powierzone mu przez starostę na wniosek gminy - przy pomocy:

Wybierz wszystkie poprawne:

- a. naczelnika referatu geodezji i kartografii

- b. naczelnika wydziału geodezji i kartografii
- c. geodety powiatowego
- d. geodety gminnego wchodzącego w skład urzędu gminy

Pytanie **33**

Punkty: 1,00

Identyfikator 'zbioru danych przestrzennych':

Wybierz wszystkie poprawne:

- a. składa się z przestrzeni nazw oraz numeru porządkowego, pod którym ujawniony został ten zbiór w ewidencji zbiorów i danych przestrzennych
- b. nadawany jest w momencie ujawniania tego zbioru w ewidencji zbiorów i usług danych przestrzennych objętych infrastrukturą informacji przestrzennej
- c. odpowiada numerowi porządkowemu pod którym ujawniony został ten zbiór w ewidencji zbiorów i danych przestrzennych
- d. odpowiada kodowi przestrzeni nazw

Pytanie **34**

Punkty: 1,00

Do wykonywania geodezyjnych pomiarów sytuacyjnych i wysokościowych z wykorzystaniem technik satelitarnych GNSS wykorzystuje się:

Wybierz wszystkie poprawne:

- a. system stacji referencyjnych ASG-EUPOS
- b. systemy stacji referencyjnych, jeżeli dane określające położenie tych stacji włączone zostały do zasobu, a serwisy tych systemów zapewniają osiągnięcie określonych przepisami dokładności określenia położenia szczegółów terenowych
- c. tylko system stacji referencyjnych ASG-EUPOS
- d. dowolny system stacji referencyjnych

Pytanie **35**

Punkty: 1,00

Zawiadomienie o czynnościach podjętych w celu ustalenia przebiegu granic działek ewidencyjnych oprócz danych adresowych podmiotu, zawiera następujące informacje:

Wybierz wszystkie poprawne:

- a. oznaczenie działek ewidencyjnych, których czynności będą dotyczyć
- b. dzień, godzinę i miejsce rozpoczęcia tych czynności
- c. pouczenie o konieczności posiadania dokumentu umożliwiającego stwierdzenie prawa nabycia nieruchomości
- d. pouczenie o konieczności posiadania dokumentu umożliwiającego ustalenie tożsamości osoby biorącej udział w tych czynnościach

Pytanie **36**

Punkty: 1,00

Na kim spoczywa odpowiedzialność m.in. za wybór stosowanych w pomiarach metod i zapewnienie wymaganej dokładności:

Wybierz wszystkie poprawne:

- a. na osobie wykonującej pomiary geodezyjne
- b. na wykonawcy prac geodezyjnych
- c. na geodecie uprawnionym
- d. na kierowniku prac geodezyjnych

Pytanie **37**

Punkty: 1,00

Kiedy zakłada się osnowę realizacyjną:

Wybierz wszystkie poprawne:

- a. dla potrzeb wykonania prac inwestycyjnych
- b. bezpośrednio z istniejącej poziomej osnowy geodezyjnej i osnowy pomiarowej nie można przeprowadzić badania osiadania obiektów budowlanych
- c. istniejąca pozioma osnowa geodezyjna i osnowa pomiarowa podczas realizacji inwestycji może zostać zniszczona
- d. dokładność istniejącej poziomej osnowy geodezyjnej i osnowy pomiarowej jest zbyt niska do potrzeb inwestycji

Pytanie **38**

Punkty: 1,00

Krajowy Ośrodek Wsparcia Rolnictwa gospodaruje Zasobem Własności Rolnej Skarbu Państwa w drodze:

Wybierz wszystkie poprawne:

- a. oddania mienia na czas oznaczony do odpłatnego korzystania osobom prawnym
- b. przekazania w zarząd
- c. sprzedaży nieruchomości rolnych na powiększenie gospodarstw rodzinnych
- d. zamiany nieruchomości

Pytanie **39**

Punkty: 1,00

Jaki obiekt przedstawia poniższy znak kartograficzny:



Wybierz wszystkie poprawne:

- a. słup energetyczny
- b. włącz do komory
- c. stacja ładowania pojazdów elektrycznych
- d. szafa elektroenergetyczna

Pytanie **40**

Punkty: 1,00

Do samodzielnego lokalu mieszkalnego mogą przynależeć, jako jego części składowe, pomieszczenia takie jak:

Wybierz wszystkie poprawne:

- a. garaż
- b. komórka
- c. piwnica
- d. strych

Pytanie **41**

Punkty: 1,00

Działkę ewidencyjną stanowi ciągły obszar gruntu:

Wybierz wszystkie poprawne:

- a. wydzielony z otoczenia za pomocą granic działek ewidencyjnych
- b. jednorodny pod względem prawnym
- c. wydzielony z otoczenia za pomocą ogrodzenia trwałego
- d. położony w granicach jednego obrębu ewidencyjnego

Pytanie **42**

Punkty: 1,00

Kto znaki graniczne niszczy, uszkadza, usuwa, przesuwa lub czyni niewidocznymi albo fałszywie wystawia:

Wybierz wszystkie poprawne:

- a. podlega karze ograniczenia wolności albo pozbawienia wolności do lat 5
- b. podlega karze pozbawienia wolności do 3 lat
- c. nie podlega grzywnie
- d. podlega grzywnie, podlega karze ograniczenia wolności albo pozbawienia wolności do lat 2

Pytanie **43**

Punkty: 1,00

Jednostkami powierzchniowymi podziału kraju dla celów ewidencji są:

Wybierz wszystkie poprawne:

- a. obręb ewidencyjny
- b. działka ewidencyjna
- c. użytek gruntowy
- d. jednostka ewidencyjna

Pytanie **44**

Punkty: 1,00

Organem stanowiącym i kontrolnym w gminie jest:

Wybierz wszystkie poprawne:

- a. Wójt/Burmistrz/Prezydent Miasta
- b. żadna z powyższych

- c. Przewodniczący rady gminy
- d. Rada gminy

Pytanie **45**

Punkty: 1,00

Obiekt mostowy to:

Wybierz wszystkie poprawne:

- a. budowla przeznaczona do przeprowadzenia szlaku wędrówek zwierząt dziko żyjących
- b. kładka
- c. budowla przeznaczona do przeprowadzenia samodzielnego ciągu pieszego
- d. budowla przeznaczona do przeprowadzenia drogi

Pytanie **46**

Punkty: 1,00

Wymiana danych między organami Służby Geodezyjnej i Kartograficznej odbywa się w postaci elektronicznej:

Wybierz wszystkie poprawne:

- a. raz w miesiącu
- b. niezwłocznie po otrzymaniu zgłoszenia prac geodezyjnych
- c. po wskazaniu zakresu niezbędnych danych
- d. na pisemną prośbę zainteresowanego organu

Pytanie **47**

Punkty: 1,00

Rejestr prac geodezyjnych i kartograficznych zawiera dane określające:

Wybierz wszystkie poprawne:

- a. wysokość opłaty za udostępnione materiały zasobu
- b. cel zgłoszonych prac geodezyjnych
- c. daty doręczenia wykonawcy prac geodezyjnych protokołów weryfikacji
- d. identyfikator wykonawcy wskazany w zgłoszeniu prac geodezyjnych

Pytanie **48**

Punkty: 1,00

Do dóbr osobistych człowieka należą :

Wybierz wszystkie poprawne:

- a. nazwisko lub pseudonim
- b. swoboda sumienia
- c. cześć
- d. zdrowie

Pytanie **49**

Punkty: 1,00

Przy nadawaniu numerów porządkowych:

Wybierz wszystkie poprawne:

- a. nie uwzględnia się prognozowanej zabudowy przy nadawaniu numerów porządkowych
- b. pozostawia się wolne numery pod prognozowaną zabudowę
- c. uwzględnia się numerację porządkową w miejscowościach sąsiednich
- d. uwzględnia się ład przestrzenny w całej miejscowości

Pytanie **50**

Punkty: 1,00

Ocenę przydatności użytkowej materiałów zasobu przeprowadza:

Wybierz wszystkie poprawne:

- a. starosta
- b. powołana przez organ prowadzący zasób komisja
- c. powiatowy ośrodek dokumentacji geodezyjnej i kartograficznej w uzgodnieniu z wojewódzkim inspektorem nadzoru geodezyjnego i kartograficznego
- d. geodeta powiatowy

W przypadku uznania przez wykonawcę prac geodezyjnych uchybień i nieprawidłowości stwierdzonych przez organ SGIK w protokole weryfikacji wykonawca:

Pytanie **51**

Punkty: 1,00

Wybierz wszystkie poprawne:

- a. przekazuje poprawione wyniki w terminie 3 miesięcy od dnia otrzymania protokołu
- b. przekazuje poprawione wyniki w terminie 1 roku od dnia otrzymania protokołu
- c. przekazuje odwołanie od uchybień i nieprawidłowości stwierdzonych w protokole weryfikacji
- d. przekazuje poprawione wyniki w terminie 6 miesięcy od dnia otrzymania protokołu

Pytanie **52**

Punkty: 1,00

W przypadku obiektów geodezyjnej ewidencji sieci uzbrojenia terenu mających status "projektowany" prezentacja graficzna na mapie zasadniczej jest realizowana w przypadku przewodów w następujący sposób:

Wybierz wszystkie poprawne:

- a. linią ciągłą
- b. w kolorze przypisanym do rodzaju sieci
- c. linią przerywaną
- d. z dodatkiem etykiety "proj."

Pytanie **53**

Punkty: 1,00

Ochrona znaków geodezyjnych polega na:

Wybierz wszystkie poprawne:

- a. doręczeniu właścicielowi nieruchomości zawiadomienia o umieszczeniu znaku na nieruchomości
- b. wykonywaniu przeglądu znaków
- c. wykonywaniu konserwacji znaków
- d. ustawieniu urządzeń zabezpieczających

Pytanie **54**

Punkty: 1,00

Plan urządzenia lasu zawiera:

Wybierz wszystkie poprawne:

- a. opis stanu lasu
- b. ocenę stanu lasu
- c. cele prowadzenia gospodarki leśnej
- d. sposoby prowadzenia gospodarki leśnej

Pytanie **55**

Punkty: 1,00

Odmowa przyjęcia do zasobu geodezyjnego kartograficznych materiałów sporządzonych w ramach wykonanej pracy geodezyjnej przyjmuje postać:

Wybierz wszystkie poprawne:

- a. zarządzenia o odmowie
- b. informacji na piśmie o odmowie oraz o możliwości odwołania do wojewódzkiego inspektora nadzoru geodezyjnego i kartograficznego
- c. informacji o odmowie oraz o przekazaniu dokumentacji do weryfikacji do wojewódzkiego inspektora nadzoru geodezyjnego i kartograficznego
- d. decyzji administracyjnej o odmowie

Pytanie **56**

Punkty: 1,00

W rozumieniu Kodeksu postępowania administracyjnego organem wyższego stopnia w stosunku do organów administracji geodezyjnej i kartograficznej jest:

Wybierz wszystkie poprawne:

- a. wojewoda
- b. Główny Geodeta Kraju
- c. samorządowe kolegium odwoławcze
- d. wojewódzki inspektor nadzoru geodezyjnego i kartograficznego

Pytanie **57**

Punkty: 1,00

Zakres wyłączenia z projektu budowlanego zawierającego obiekty budowlane, służące obronności i bezpieczeństwu państwa, części projektu zawierające układy funkcjonalne mogące ujawnić charakter, przeznaczenie i nazwę obiektu określa:

Wybierz wszystkie poprawne:

- a. organ wydający pozwolenie na budowę
- b. inspektor nadzoru inwestorskiego
- c. inwestor
- d. kierownik budowy

Pytanie **58**

Punkty: 1,00

Budowle i urządzenia ziemne oraz pojedyncze drzewa należą do:

Wybierz wszystkie poprawne:

- a. I grupy szczegółów terenowych
- b. II grupy szczegółów terenowych
- c. I lub II grupy szczegółów terenowych
- d. III grupy szczegółów terenowych

Pytanie **59**

Punkty: 1,00

Monitorowanie zmian w sposobie użytkowania gruntów oraz ich bonitacji należy do zadań:

Wybierz wszystkie poprawne:

- a. Marszałka województwa
- b. Starosty
- c. Wojewódzkiego inspektora nadzoru geodezyjnego i kartograficznego
- d. Głównego Geodety Kraju

Pytanie **60**

Punkty: 1,00

W przypadku obiektów liniowych prezentowanych na mapie zasadniczej za pomocą znaku niesymetrycznego element znaku umieszcza się:

Wybierz wszystkie poprawne:

- a. po lewej stronie linii
- b. w dowolnym miejscu linii
- c. po prawej stronie linii
- d. na środku linii