



Wydział Test

Pytanie 1

Punkty maks.:
1,00

Wniesienie wkładu gruntowego przez posiadacza zależnego wymaga zgody:

Wybierz wszystkie poprawne:

- a. członków będących założycielami spółdzielni,
- b. Krajowej Rady Spółdzielczej.
- c. właściciela,
- d. wszystkich członków spółdzielni,

Pytanie 2

Punkty maks.:
1,00

Wyróżnia się następujące metody pozyskiwania informacji o obiekcie bazy BDOT500:

Wybierz wszystkie poprawne:

- a. wektoryzacja - D
- b. pomiar bezpośredni w nawiązaniu do szczegółów terenowych - M
- c. dokumentacja z narady koordynacyjnej - K
- d. dane branżowe - G

Pytanie 3

Punkty maks.:
1,00

Identyfikator zbioru danych przestrzennych ujawniony w ewidencji zbioru i usług danych przestrzennych:

Wybierz wszystkie poprawne:

- a. składa się wyłącznie z przestrzenie nazw
- b. składa się z przestrzenie nazw oraz numeru porządkowego, pod którym został ujawniony ten zbiór w ewidencji
- c. składa się wyłącznie z numeru porządkowego, pod którym został ujawniony w ewidencji
- d. jest niezmienny w okresie istnienia tego zbioru danych

Pytanie 4

Punkty maks.:
1,00

Do dróg krajowych zalicza się:

Wybierz wszystkie poprawne:

- a. drogi międzynarodowe
- b. drogi alternatywne dla autostrad płatnych
- c. drogi stanowiące ciągi obwodnicowe dużych aglomeracji miejskich
- d. drogi ekspresowe

Pytanie 5

Punkty maks.:
1,00

Wymiana danych między organami Służby Geodezyjnej i Kartograficznej odbywa się w postaci elektronicznej:

Wybierz wszystkie poprawne:

- a. na pisemną prośbę zainteresowanego organu
- b. niezwłocznie po otrzymaniu zgłoszenia prac geodezyjnych
- c. po wskazaniu zakresu niezbędnych danych
- d. raz w miesiącu

Pytanie 6

Punkty maks.:
1,00

Zasady i tryb wydawania aktów prawa miejscowego określa:

Wybierz wszystkie poprawne:

- a. zarządzenie
- b. postanowienie
- c. ustawa
- d. rozporządzenie

Które z wymienionych obiektów nie należą do kategorii obiektów topograficznych (BDOT500) "rzeźba terenu":

Wybierz wszystkie poprawne:

Pytanie **7**Punkty maks.:
1,00

- a. skarpa umocniona
- b. rów melioracyjny
- c. ostroga
- d. pikieta naturalna

Pytanie **8**Punkty maks.:
1,00

Na treść opisu mapy do celów prawnych składają się w szczególności:
Wybierz wszystkie poprawne:

- a. tytuł mapy wskazujący cel opracowania
- b. imię, nazwisko oraz numer uprawnień zawodowych kierownika prac geodezyjnych
- c. nazwa gminy
- d. numer księgi wieczystej, jeżeli prowadzona jest dla nieruchomości

Pytanie **9**Punkty maks.:
1,00

Objęte infrastrukturą informacji przestrzennej zbiory oraz usługi danych przestrzennych, prowadzone przez organy administracji publicznej, są udostępniane:

Wybierz wszystkie poprawne:

- a. nieodpłatnie – innym organom administracji w zakresie niezbędnym do realizacji przez nie zadań publicznych
- b. odpłatnie – innym organom administracji w zakresie niezbędnym do realizacji przez nie zadań publicznych
- c. odpłatnie – instytucjom i organom Unii Europejskiej do celów sprawozdawczych w zakresie środowiska
- d. nieodpłatnie – instytucjom i organom Unii Europejskiej do celów sprawozdawczych w zakresie środowiska

Pytanie **10**Punkty maks.:
1,00

Ze względu na wymaganą dokładność określenia położenia punktów szczegółów terenowych wyróżnia się I, II i III grupę szczegółów terenowych, do grupy II nie są zaliczone szczegóły:

Wybierz wszystkie poprawne:

- a. wały przeciwpowodziowe
- b. znaki geodezyjne
- c. kontury użytków gruntowych
- d. ciek i zbiorniki wodne o naturalnych liniach brzegowych

Pytanie **11**Punkty maks.:
1,00

Kto posługuje się dokumentem stwierdzającym tożsamość innej osoby albo jej prawa majątkowe lub dokument taki kradnie lub go przywłaszcza:

Wybierz wszystkie poprawne:

- a. podlega karze ograniczenia wolności albo pozbawienia wolności do lat 2
- b. podlega karze pozbawienia wolności od roku do 5 lat
- c. podlega grzywnie, karze pozbawienia wolności albo pozbawienia wolności do lat 5
- d. podlega grzywnie, karze ograniczenia wolności albo pozbawienia wolności do lat 2

Pytanie **12**Punkty maks.:
1,00

Karalność przewinienia dyscyplinarnego ustaje, jeżeli od czasu jego popełnienia upłynęło:

Wybierz wszystkie poprawne:

- a. pięć lat
- b. dwa lata
- c. trzy lata
- d. 8 miesięcy

Pytanie **13**Punkty maks.:
1,00

O dokonanych zmianach w danych ewidencyjnych starosta, w terminie 14 dni od dokonania zmiany w ewidencji, zawiadamia:

Wybierz wszystkie poprawne:

- a. organy podatkowe

- b. organy ścigania
- c. wydział ksiąg wieczystych właściwego miejscowo sądu rejonowego - w przypadku zmian danych objętych działem IV ksiąg wieczystych
- d. wydział ksiąg wieczystych właściwego miejscowo sądu rejonowego - w przypadku zmian danych objętych działem I ksiąg wieczystych

Pytanie **14**

Punkty maks.:
1,00

Wypisy i wyrisy:

Wybierz wszystkie poprawne:

- a. udostępnia się wyłącznie w postaci papierowej
- b. nie podlegają udostępnieniu
- c. udostępnia się w postaci dokumentu elektronicznego lub w postaci papierowej
- d. udostępnia się wyłącznie w postaci dokumentu elektronicznego

Pytanie **15**

Punkty maks.:
1,00

W ewidencji gruntów i budynków:

Wybierz wszystkie poprawne:

- a. wykazuje się najemcę lokalu mieszkalnego
- b. wykazuje się właściciela nieruchomości a w przypadku nieruchomości Skarbu Państwa lub jednostek samorządu terytorialnego także podmioty, w których władaniu lub gospodarowaniu znajdują się te nieruchomości
- c. dla gruntów, dla których ze względu na brak księgi wieczystej, zbioru dokumentów albo innych dokumentów nie można ustalić ich właścicieli – nie wykazuje się podmiotu ewidencyjnego
- d. wykazuje się tylko właściciela nieruchomości

Pytanie **16**

Punkty maks.:
1,00

Pomiarową osnowę wysokościową realizuje się:

Wybierz wszystkie poprawne:

- a. techniką kinematyczną GNSS
- b. metodą niwelacji siatkowej
- c. metodą profili podłużnych
- d. metodą niwelacji geometrycznej

Pytanie **17**

Punkty maks.:
1,00

Operat techniczny zaewidencjonowany w roku 2018 pod numerem 2 w wojewódzkim zasobie geodezyjnym i kartograficznym (lubelskim-kod TERYT 06) ma nadany numer ewidencyjny:

Wybierz wszystkie poprawne:

- a. 2018.W.LUB.2
- b. W.LUB.2018.2
- c. LUB.W.2018.2
- d. W.06.2018.2

Pytanie **18**

Punkty maks.:
1,00

Mapę do celów prawnych sporządza się w skali:

Wybierz wszystkie poprawne:

- a. dostosowanej do obszaru objętego opracowaniem
- b. wszystkie odpowiedzi są poprawne
- c. zapewniającej czytelność rysunku mapy
- d. nie większej niż 1:5000

Pytanie **19**

Punkty maks.:
1,00

Poprzez pojęcie tyczenia rozumiemy:

Wybierz wszystkie poprawne:

- a. czynności zmierzające do opracowania współrzędnych punktów geodezyjnych
- b. postawienie pikiet z wbiciem palika drewnianego

- c. zespół czynności polegających na wyznaczeniu i oznaczeniu położenia w terenie elementów niezbędnych do realizacji projektu obiektu budowlanego
- d. wskazanie w terenie punktów mające na celu pokazanie usytuowania obiektu /ów

Pytanie **20**

Punkty maks.:
1,00

Karę dyscyplinarną odebrania uprawnień zawodowych wymierza się w przypadku:

Wybierz wszystkie poprawne:

- a. naruszenia przepisów prawa
- b. gdy na skutek rażącego naruszenia przepisów nastąpiło zagrożenie dla zdrowia, życia lub mienia o dużej wartości
- c. niezgodnie z zasadami współczesnej wiedzy technicznej
- d. rażącego naruszenia przepisów obowiązujących w geodezji i kartografii

Pytanie **21**

Punkty maks.:
1,00

Uchwały podejmowane przez Radę Ministrów :

Wybierz wszystkie poprawne:

- a. obowiązują na terenie całego kraju
- b. obowiązują tylko jednostki organizacyjnie podległe organowi wydającemu te akty
- c. mają charakter zewnętrzny
- d. mają charakter wewnętrzny

Pytanie **22**

Punkty maks.:
1,00

Projekt statutu gminy powyżej 300 000 mieszkańców podlega uzgodnieniu:

Wybierz wszystkie poprawne:

- a. z Prezydentem Rzeczypospolitej Polskiej na wniosek Prezesa Rady Ministrów
- b. z Prezesem Rady Ministrów na wniosek ministra właściwego do spraw administracji publicznej
- c. z Wojewodą
- d. z Prezydentem Rzeczypospolitej Polskiej

Pytanie **23**

Punkty maks.:
1,00

Odmowa przyjęcia do zasobu geodezyjnego kartograficznego materiałów sporządzonych w ramach wykonanej pracy geodezyjnej przyjmuje postać:

Wybierz wszystkie poprawne:

- a. informacji na piśmie o odmowie oraz o możliwości odwołania do wojewódzkiego inspektora nadzoru geodezyjnego i kartograficznego
- b. decyzji administracyjnej o odmowie
- c. zarządzenia o odmowie
- d. informacji o odmowie oraz o przekazaniu dokumentacji do weryfikacji do wojewódzkiego inspektora nadzoru geodezyjnego i kartograficznego

Pytanie **24**

Punkty maks.:
1,00

Obiekt mostowy to:

Wybierz wszystkie poprawne:

- a. budowla przeznaczona do przeprowadzenia szlaku wędrówek zwierząt dziko żyjących
- b. budowla przeznaczona do przeprowadzenia samodzielnego ciągu pieszego
- c. budowla przeznaczona do przeprowadzenia drogi
- d. kładka

Pytanie **25**

Punkty maks.:
1,00

Zgodnie z ustawą – Kodeks postępowania administracyjnego, odwołanie od decyzji wydanej w pierwszej instancji i ogłoszonej stronie, wnosi się, od dnia jej ogłoszenia w terminie:

Wybierz wszystkie poprawne:

- a. 21 dni
- b. 14 dni
- c. 7 dni

- d. 30 dni

Pytanie **26**

Punkty maks.:
1,00

Organ administracji publicznej może z urzędu lub na żądanie strony prostować błędy pisarskie i rachunkowe oraz inne oczywiste omyłki w wydanych przez ten organ decyzjach, w drodze:

Wybierz wszystkie poprawne:

- a. decyzji prostującej
- b. postanowienia
- c. zaświadczenia
- d. zarządzenia

Pytanie **27**

Punkty maks.:
1,00

Numery porządkowe nowo budowanych budynków, niewykazane w 'ewidencji miejscowości, ulic i adresów' ustala się:

Wybierz wszystkie poprawne:

- a. w terminie dwóch miesięcy od uprawomocnienia się decyzji o pozwolenie na budowę
- b. przed rozpoczęciem ich użytkowania
- c. przed wydaniem decyzji o pozwolenie na budowę
- d. w terminie jednego miesiąca od uprawomocnienia się decyzji o pozwolenie na budowę

Pytanie **28**

Punkty maks.:
1,00

Średni błąd położenia i wysokości punktów pomiarowej osnowy poziomej i wysokościowej odpowiednio:

Wybierz wszystkie poprawne:

- a. nie może być większy niż 0,05 m względem punktów poziomej osnowy geodezyjnej i 0,05m względem punktów wysokościowej osnowy geodezyjnej
- b. nie może być mniejszy niż 0,10m względem punktów poziomej osnowy geodezyjnej i 0,05m względem punktów wysokościowej osnowy geodezyjnej
- c. nie może być większy niż 0,10m względem punktów poziomej osnowy geodezyjnej i 0,05m względem punktów wysokościowej osnowy geodezyjnej
- d. nie może być większy niż 0,10m względem punktów poziomej osnowy geodezyjnej i 0,10m względem punktów wysokościowej osnowy geodezyjnej

Pytanie **29**

Punkty maks.:
1,00

Organ administracji publicznej jest obowiązany wydać zaświadczenie na żądanie osoby ubiegającej się o zaświadczenie:

Wybierz wszystkie poprawne:

- a. bez zbędnej zwłoki, nie później jednak niż w terminie czternastu dni
- b. bez zbędnej zwłoki, nie później jednak niż w terminie siedmiu dni
- c. niezwłocznie
- d. bez zbędnej zwłoki, nie później jednak niż w terminie trzech dni

Pytanie **30**

Punkty maks.:
1,00

Trzeci człon identyfikatora ewidencyjnego materiału zasobu jest:

Wybierz wszystkie poprawne:

- a. literą C, W lub P
- b. skrótem PL
- c. czterocyfrową liczbą
- d. kolejną liczbą naturalną w danym roku kalendarzowym

Pytanie **31**

Punkty maks.:
1,00

Szkice graniczne, stanowiące integralną część protokołu ustalenia przebiegu granic działek ewidencyjnych, zawierają:

Wybierz wszystkie poprawne:

- a. podpis geodety uprawnionego, który sporządził szkic graniczny
- b. numer księgi wieczystej

- c. podpisy osób zawiadomionych o czynnościach ustalenia granic działek ewidencyjnych
- d. informacje o spornych odcinkach granic działek ewidencyjnych

Pytanie **32**Punkty maks.:
1,00

Podmioty zarządzające sieciami uzbrojenia terenu uzgadniają usunięcie kolizji przebiegu sieci z inwestycją dotyczącą linii kolejowej w terminie:

Wybierz wszystkie poprawne:

- a. 21 dni od dnia otrzymania wniosku właściwej jednostki samorządu terytorialnego
- b. niezwłocznie
- c. 7 dni od dnia otrzymania wniosku właściwej jednostki samorządu terytorialnego
- d. 14 dni od dnia otrzymania wniosku właściwej jednostki samorządu terytorialnego

Pytanie **33**Punkty maks.:
1,00

W przypadku wykonania przez przyjmującego zamówienie dzieła w sposób wadliwy albo sprzeczny z umową, po bezskutecznym upływie wyznaczonego przez zamawiającego terminu w celu zmiany sposobu jego wykonania, zamawiający może:

Wybierz wszystkie poprawne:

- a. od umowy odstąpić
- b. powierzyć poprawienie lub dalsze wykonanie dzieła innej osobie na koszt i niebezpieczeństwo przyjmującego zamówienie
- c. jeżeli zamawiający sam dostarczył materiału, może on w razie odstąpienia od umowy żądać zwrotu materiału i wydania rozpoczętego dzieła
- d. jeżeli zamawiający sam dostarczył materiału, może on w razie powierzenia wykonania dzieła innej osobie żądać zwrotu materiału i wydania rozpoczętego dzieła

Pytanie **34**Punkty maks.:
1,00

Znaki graniczne przesunięte lub uszkodzone mogą być wznowione:

Wybierz wszystkie poprawne:

- a. bez przeprowadzania postępowania rozgraniczeniowego, jeśli nawet nie istnieją dokumenty pozwalające na określenie pierwotnego położenia
- b. przez właściciela nieruchomości
- c. jeśli nastąpił spór co do położenia znaków
- d. bez przeprowadzania postępowania rozgraniczeniowego, jeśli istnieją dokumenty pozwalające na określenie pierwotnego położenia

Pytanie **35**Punkty maks.:
1,00

W przypadku wzajemnego przecinania się gruntów zajętych pod linie kolejowe, drogi publiczne lub kanały przy ustalaniu granic działek ewidencyjnych stosuje się następujące zasady:

Wybierz wszystkie poprawne:

- a. linie kolejowe wybudowane nad powierzchnią gruntu dzielą drogi publiczne wybudowane nad powierzchnią gruntu na odrębne działki ewidencyjne
- b. drogi wyższej kategorii wybudowane na powierzchni gruntu dzielą drogi niższej kategorii wybudowane na powierzchni gruntu na odrębne działki ewidencyjne
- c. kryte kanały i rurociągi dzielą linie kolejowe oraz drogi publiczne na odrębne działki ewidencyjne
- d. drogi wewnętrzne dzielą drogi publiczne na odrębne działki ewidencyjne

Pytanie **36**Punkty maks.:
1,00

Materiały zasobu pozyskuje się do państwowego zasobu geodezyjnego i kartograficznego w wyniku:

Wybierz wszystkie poprawne:

- a. realizacji prac geodezyjnych lub prac kartograficznych
- b. archiwizacji materiałów zasobu
- c. działań organu prowadzącego zasób
- d. przyjęcia darowizny

Pytanie **37**Punkty maks.:
1,00

Poświadczenie bezpieczeństwa warunkujące dopuszczenie do pracy lub pełnienia służby na stanowiskach albo zlecenie prac związanych z dostępem do informacji niejawnych, w przypadku informacji oznaczonych klauzulą „ściśle tajne” wydaje się na okres:

Wybierz wszystkie poprawne:

- a. 7 lat
- b. 8 lat
- c. 10 lat
- d. 5 lat

Pytanie **38**Punkty maks.:
1,00

W przypadku obiektów geodezyjnej ewidencji sieci uzbrojenia terenu mających status "projektowany" prezentacja graficzna na mapie zasadniczej jest realizowana w przypadku przewodów w następujący sposób:

Wybierz wszystkie poprawne:

- a. w kolorze przypisanym do rodzaju sieci
- b. z dodatkiem etykiety "proj."
- c. linią przerywaną
- d. linią ciągłą

Pytanie **39**Punkty maks.:
1,00

Procedurę wznowienie znaków granicznych kończy:

Wybierz wszystkie poprawne:

- a. w przypadku zgodnego podpisania protokołu decyzja o umorzeniu postępowania administracyjnego
- b. decyzja wójta (burmistrza, prezydenta miasta) o ustaleniu granicy
- c. pouczenie że strony mogą wystąpić do wójta (burmistrza, prezydenta miasta) o rozgraniczenie
- d. żadne z wymienionych

Pytanie **40**Punkty maks.:
1,00

Powiatową bazę GESUT starosta zakłada i prowadzi w drodze przetworzenia materiałów źródłowych, będących danymi i informacjami:

Wybierz wszystkie poprawne:

- a. pozyskanymi z innych rejestrów publicznych
- b. zgromadzonymi w państwowym zasobie geodezyjnym i kartograficznym, w szczególności będącymi treścią mapy zasadniczej oraz innych map wielkoskalowych
- c. pozyskanymi od podmiotów władających sieciami uzbrojenia terenu
- d. zgromadzonymi w państwowym zasobie geodezyjnym i kartograficznym, w szczególności będącymi treścią geodezyjnej ewidencji sieci uzbrojenia terenu

Pytanie **41**Punkty maks.:
1,00

Wykaz zmian danych ewidencyjnych, zgodnie z rozporządzeniem w sprawie ewidencji gruntów i budynków, zawiera:

Wybierz wszystkie poprawne:

- a. stan dotychczasowy
- b. nazwę gminy
- c. numer uprawnień zawodowych kierownika prac geodezyjnych
- d. oznaczenie księgi wieczystej

Pytanie **42**Punkty maks.:
1,00

Pracami przygotowawczymi na terenie budowy są:

Wybierz wszystkie poprawne:

- a. wykonanie niwelacji terenu
- b. wykonanie przyłączy do sieci infrastruktury technicznej na potrzeby budowy
- c. zagospodarowanie terenu budowy wraz z budową tymczasowych obiektów
- d. wytyczenie geodezyjne obiektów w terenie

Starosta:

Pytanie **43**Punkty maks.:
1,00

Wybierz wszystkie poprawne:

- a. może zarządzić przeprowadzenie modernizacji ewidencji gruntów i budynków na poszczególnych obrębach ewidencyjnych
- b. może zarządzić przeprowadzenie modernizacji ewidencji gruntów i budynków na obszarze obejmującym część zurbanizowaną w danym obrębie ewidencyjnym
- c. może zarządzić przeprowadzenie modernizacji ewidencji gruntów i budynków wyłącznie na obszarze całej jednostki ewidencyjnej
- d. nie może zarządzić przeprowadzenie modernizacji ewidencji gruntów i budynków na poszczególnych obrębach ewidencyjnych

Pytanie **44**Punkty maks.:
1,00

Organami administracji miar są:

Wybierz wszystkie poprawne:

- a. Prezes Głównego Urzędu Miar
- b. dyrektorzy wojewódzkich urzędów miar
- c. dyrektorzy okręgowych urzędów miar
- d. dyrektorzy regionalnych urzędów miar

Pytanie **45**Punkty maks.:
1,00

Rejestr prac geodezyjnych i kartograficznych zawiera dane określające:

Wybierz wszystkie poprawne:

- a. cel zgłoszonych prac geodezyjnych
- b. wysokość opłaty za udostępnione materiały zasobu
- c. identyfikator wykonawcy wskazany w zgłoszeniu prac geodezyjnych
- d. daty doręczenia wykonawcy prac geodezyjnych protokołów weryfikacji

Pytanie **46**Punkty maks.:
1,00

Stronami w postępowaniu dyscyplinarnym są:

Wybierz wszystkie poprawne:

- a. wojewódzki inspektor nadzoru geodezyjnego i kartograficznego
- b. przewodniczący wojewódzkiej komisji dyscyplinarnej
- c. rzecznik dyscyplinarny
- d. obwiniony

Pytanie **47**Punkty maks.:
1,00

Właściciele nieruchomości ukształtowanych w sposób uniemożliwiający im racjonalne zagospodarowanie mogą złożyć wniosek o połączenie i ponowny podział na działki gruntu. Do wniosku należy dołączyć:

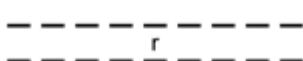



Wybierz wszystkie poprawne:

- a. zobowiązanie do dokonania zamiany w formie decyzji
- b. zobowiązanie do dokonania zamiany w formie orzeczenia sądowego
- c. zobowiązanie do dokonania zamiany w formie aktu notarialnego
- d. zobowiązanie do dokonania zamiany w formie postanowienia

Pytanie **48**Punkty maks.:
1,00

Który znak kartograficzny przedstawia skarpę umocnioną:

Wybierz wszystkie poprawne:

- a. 
- b. 
- c. 
- d. 

Dotychczasowy atrybut określający błąd położenia punktu granicznego (BPP) staje się:

Pytanie **49**Punkty maks.:
1,00

Wybierz wszystkie poprawne:

- a. atrybutem określającym spełnienie przez punkt wymaganych standardów dokładnościowych
- b. atrybutem określającym źródło danych o położeniu punktu granicznego
- c. pozostaje bez zmian
- d. atrybutem określającym sposób pozyskania danych o punkcie granicznym

Pytanie **50**Punkty maks.:
1,00

Dane zgromadzone w powiatowej bazie geodezyjnej ewidencji sieci uzbrojenia terenu (GESUT) aktualizuje się między innymi:

Wybierz wszystkie poprawne:

- a. niezwłocznie po uzyskaniu danych lub informacji niezbędnych do tej aktualizacji, jednak nie później niż w terminie 30 dni od dnia przekazania ich przez podmiot władający siecią uzbrojenia terenu
- b. w cyklach miesięcznych
- c. niezwłocznie po uzyskaniu danych lub informacji niezbędnych do tej aktualizacji, jednak nie później niż w terminie 30 dni od dnia, w którym zakończyła się narada koordynacyjna
- d. niezwłocznie po uzyskaniu danych lub informacji niezbędnych do tej aktualizacji, jednak nie później niż w terminie 14 dni od pozyskania ich z innego rejestru publicznego

Pytanie **51**Punkty maks.:
1,00

Prawnej kontroli metrologicznej podlegają przyrządy pomiarowe, które mogą być stosowane:

Wybierz wszystkie poprawne:

- a. w ochronie praw konsumenta
- b. w ochronie bezpieczeństwa
- c. w ochronie porządku publicznego
- d. w ochronie środowiska

Pytanie **52**Punkty maks.:
1,00

Wniosek o udostępnienie danych z państwowego rejestru granic i powierzchni jednostek podziałów terytorialnych kraju składa się do:

Wybierz wszystkie poprawne:

- a. marszałka województwa
- b. starosty
- c. Głównego Geodety Kraju
- d. wojewody

Pytanie **53**Punkty maks.:
1,00

Zawiadomienia o czynnościach podjętych w celu ustalenia przebiegu granic działek ewidencyjnych wykonawca prac geodezyjnych doręcza podmiotom nie później niż ... przed wyznaczonym terminem:

Wybierz wszystkie poprawne:

- a. 14 dni
- b. 7 dni roboczych
- c. 7 dni
- d. 2 tygodnie

Pytanie **54**Punkty maks.:
1,00

Operat techniczny zaewidencjonowany w roku 1982 pod numerem 113 w powiatowym zasobie geodezyjnym i kartograficznym (lubartowskim-kod TERYT 0608) ma nadany numer ewidencyjny:

Wybierz wszystkie poprawne:

- a. 1982.P.0608.113
- b. P.0608.1982.113
- c. P.0608.113.1982
- d. P.LUBART.1982.113

Identyfikator jednostek podziału terytorialnego kraju jest:

Wybierz wszystkie poprawne:

Pytanie **55**Punkty maks.:
1,00

- a. dwuczłonowy
- b. jednoczłonowy
- c. trzyczłonowy
- d. kombinacją cyfr i liter z alfabetu greckiego

Pytanie **56**Punkty maks.:
1,00

Jaki obiekt przedstawia poniższy znak kartograficzny:



Wybierz wszystkie poprawne:

- a. wieża telekomunikacyjna
- b. kontur budynku podziemnego
- c. inny obiekt zagospodarowania terenu
- d. słup przewodów napowietrznych

Pytanie **57**Punkty maks.:
1,00

Kiedy zakłada się osnowę realizacyjną:

Wybierz wszystkie poprawne:

- a. istniejąca pozioma osnowa geodezyjna i osnowa pomiarowa podczas realizacji inwestycji może zostać zniszczona
- b. dla potrzeb wykonania prac inwestycyjnych
- c. bezpośrednio z istniejącej poziomej osnowy geodezyjnej i osnowy pomiarowej nie można przeprowadzić badania osiadania obiektów budowlanych
- d. dokładność istniejącej poziomej osnowy geodezyjnej i osnowy pomiarowej jest zbyt niska do potrzeb inwestycji

Pytanie **58**Punkty maks.:
1,00

Układ wysokościowy PL-KRON86-NH stosuje się:

Wybierz wszystkie poprawne:

- a. do czasu wdrożenia układu PL-1992 na obszarze całego kraju
- b. nie dłużej niż do dnia 31 grudnia 2023 r.
- c. do czasu wdrożenia układu wysokościowego PL-EVRF2007-NH na obszarze całego kraju
- d. nie dłużej niż do dnia 1 stycznia 2023 r.

Pytanie **59**Punkty maks.:
1,00

Protokół graniczny powinien zawierać:

Wybierz wszystkie poprawne:

- a. oświadczenia stron
- b. opis wzajemnych ustępstw
- c. opis przebiegu granic
- d. opis utrwalenia punktów granicznych

Pytanie **60**Punkty maks.:
1,00

Jakie sankcje dla wykonawców prac geodezyjnych przewiduje ustawa Prawo geodezyjne i kartograficzne za brak zgłoszenia pracy geodezyjnej polegającej na wyznaczeniu punktów granicznych:

Wybierz wszystkie poprawne:

- a. karę nagany
- b. karę grzywny
- c. karę upomnienia
- d. karę ograniczenia możliwości wykonywania działalności gospodarczej