



Wydział Test

Pytanie 1

Punkty: 1,00

Pomiarową podstawę wysokościową realizuje się:

Wybierz wszystkie poprawne:

- a. metodą profili podłużnych
- b. techniką kinematyczną GNSS
- c. metodą niwelacji siatkowej
- d. metodą niwelacji geometrycznej

Pytanie 2

Punkty: 1,00

Do dróg krajowych zalicza się:

Wybierz wszystkie poprawne:

- a. drogi ekspresowe
- b. drogi międzynarodowe
- c. drogi alternatywne dla autostrad płatnych
- d. drogi stanowiące ciągi obwodnicowe dużych aglomeracji miejskich

Pytanie 3

Punkty: 1,00

Rękojmia wiary publicznej ksiąg wieczystych nie chroni:

Wybierz wszystkie poprawne:

- a. służebności drogi koniecznej
- b. prawa dożywocia
- c. dokonanych na rzecz nabywcy działającego w złej wierze
- d. rozporządzeń nieodpłatnych

Pytanie 4

Punkty: 1,00

Do zadań starosty należy :

Wybierz wszystkie poprawne:

- a. analiza zmian w strukturze agrarnej
- b. ochrona znaków geodezyjnych
- c. koordynacja usytuowania projektowanych sieci uzbrojenia terenu
- d. monitorowanie zmian w sposobie użytkowania gruntów

Pytanie 5

Punkty: 1,00

Organ Służby Geodezyjnej i Kartograficznej opatruje klauzulą urzędową:

Wybierz wszystkie poprawne:

- a. dokumenty i materiały przeznaczone dla podmiotu, na rzecz którego wykonawca prac geodezyjnych wykonał prace geodezyjne
- b. materiały z państwowego zasobu geodezyjnego i kartograficznego, które utraciły przydatność użytkową
- c. materiały i zbiory danych przyjmowane do państwowego zasobu geodezyjnego i kartograficznego
- d. materiały zasobu udostępniane na wniosek oraz w związku ze zgłoszeniem prac lub jego uzupełnieniem

Pytanie 6

Punkty: 1,00

Organy administracji publicznej prowadzące rejestry publiczne tworzą i obsługują, w zakresie swojej właściwości sieć usług, do których zalicza się między innymi usługi:

Wybierz wszystkie poprawne:

- a. umożliwiające uruchamianie usług danych przestrzennych
- b. przeglądania
- c. wyszukiwania zbiorów oraz usług danych przestrzennych
- d. pobierania kopii zbiorów lub ich części

Pytanie **7**

Punkty: 1,00

Jeżeli biegły, który bez należytego usprawiedliwienia nie stawił się na wezwanie organu prowadzącego postępowanie, organ ten może między innymi:

Wybierz wszystkie poprawne:

- a. ponownie wezwać biegłego
- b. wyjątkowo zarządzić zatrzymanie i przymusowe doprowadzenie biegłego
- c. nałożyć karę pieniężną w wysokości do 3000 zł
- d. nałożyć karę pieniężną w wysokości 5000 zł

Pytanie **8**

Punkty: 1,00

Prace geodezyjne obejmują:

Wybierz wszystkie poprawne:

- a. projektowanie i wykonywanie pomiarów astronomicznych
- b. wykonywanie map topograficznych
- c. wykonywanie zobrażeń lotniczych oraz zobrażeń satelitarnych
- d. przetwarzanie wyników pomiarów grawimetrycznych

Pytanie **9**

Punkty: 1,00

Znak kartograficzny "zadrzewienie, zakrzewienie" stosuje się na mapie zasadniczej do obszaru porośniętego grupą drzew lub krzewów o powierzchni:

Wybierz wszystkie poprawne:

- a. mniejszej niż 0,10 ha
- b. co najmniej 0,10 ha
- c. większej niż 1 ha
- d. co najmniej 10 ha

Pytanie **10**

Punkty: 1,00

Dotychczasowy atrybut określający błąd położenia punktu granicznego (BPP) staje się:

Wybierz wszystkie poprawne:

- a. atrybutem określającym źródło danych o położeniu punktu granicznego
- b. atrybutem określającym sposób pozyskania danych o punkcie granicznym
- c. atrybutem określającym spełnienie przez punkt wymaganych standardów dokładnościowych
- d. pozostaje bez zmian

Pytanie **11**

Punkty: 1,00

Do dóbr osobistych człowieka należą :

Wybierz wszystkie poprawne:

- a. swoboda sumienia
- b. cześć
- c. nazwisko lub pseudonim
- d. zdrowie

Pytanie **12**

Punkty: 1,00

Geodezyjny pomiar sytuacyjny wykonuje się w sposób zapewniający określenie położenia szczegółu terenowego względem punktów poziomej osnowy geodezyjnej lub pomiarowej, z dokładnością nie mniejszą niż:

Wybierz wszystkie poprawne:

- a. 0,10 m – w przypadku szczegółów terenowych I grupy
- b. 0,20 m – w przypadku szczegółów terenowych II grupy
- c. 0,15 m – w przypadku szczegółów terenowych II grupy
- d. 0,30 m – w przypadku szczegółów terenowych III grupy

Pytanie **13**

Punkty: 1,00

Poła powierzchni zabudowy budynków przewidzianych do ujawnienia w ewidencji gruntów i budynków:

Wybierz wszystkie poprawne:

- a. oblicza się na podstawie danych archiwalnych
- b. podaje się w metrach kwadratowych z precyzją zapisu do 1 m<sup>2</sup>

- c. podaje się w arach z precyzją zapisu do 1 m<sup>2</sup>
- d. oblicza się na podstawie numerycznego opisu konturu tych budynków

Pytanie **14**

Punkty: 1,00

Bazę BDOT500 tworzy i aktualizuje się:

Wybierz wszystkie poprawne:

- a. w drodze czynności materialno-technicznej na podstawie materiałów przyjmowanych do państwowego zasobu geodezyjnego i kartograficznego
- b. nie później niż w terminie 14 dni od dnia uzyskania materiałów
- c. nie później niż w terminie 30 dni od dnia pozyskania materiałów
- d. w drodze decyzji administracyjnej na podstawie materiałów przyjmowanych do państwowego zasobu geodezyjnego i kartograficznego

Pytanie **15**

Punkty: 1,00

Podstawą do wyłączenia materiałów zasobu z zasobu jest:

Wybierz wszystkie poprawne:

- a. wniosek wykonawcy prac geodezyjnych
- b. akceptacja protokołu weryfikacji wyników zgłoszonych prac geodezyjnych przez osobę reprezentującą organ prowadzący zasób
- c. zgoda Głównego Geodety Kraju
- d. akceptacja protokołu, zawierającego wyniki oceny przydatności materiałów zasobu, przez osobę reprezentującą organ prowadzący zasób

Pytanie **16**

Punkty: 1,00

Osoba, której odebrano uprawnienia zawodowe w dziedzinie geodezji i kartografii może ubiegać się o ponowne ich uzyskanie po upływie:

Wybierz wszystkie poprawne:

- a. 5 lat od dnia ich odebrania
- b. 3 lat od dnia ich odebrania
- c. 2 lat od dnia ich odebrania
- d. 1 roku od dnia ich odebrania

Pytanie **17**

Punkty: 1,00

Odległość silosów na zboże i pasze o pojemności do 100 ton powinna wynosić co najmniej:

Wybierz wszystkie poprawne:

- a. 4 m od granicy działki sąsiedniej
- b. 15 m od składu węgla i koksu
- c. 8 m od innych budynków, z wyłączeniem budynków inwentarskich i gospodarczych
- d. 8 m od pomieszczeń przeznaczonych na pobyt ludzi

Pytanie **18**

Punkty: 1,00

Od decyzji wydanej w pierwszej instancji przez ministra lub samorządowe kolegium odwoławcze:

Wybierz wszystkie poprawne:

- a. strona niezadowolona z decyzji może zwrócić się do tego organu z wnioskiem o ponowne rozpatrzenie sprawy
- b. strona może odwołać się do Prezesa Rady Ministrów
- c. strona może odwołać się do sądu administracyjnego
- d. nie służy odwołanie

Pytanie **19**

Punkty: 1,00

Zarządzenia Prezesa Rady Ministrów:

Wybierz wszystkie poprawne:

- a. mają charakter wewnętrzny
- b. mogą stanowić podstawy decyzji wobec osób prawnych
- c. nie mogą stanowić podstawy decyzji wobec obywateli

- d. są wydawane tylko na podstawie ustawy

Pytanie **20**

Punkty: 1,00

Materiałom gromadzonym w państwowym zasobie geodezyjnym i kartograficznym nadawany jest identyfikator składający się z:

Wybierz wszystkie poprawne:

- a. trzech członów oddzielonych kropkami
- b. dwóch członów oddzielonych kropkami
- c. czterech członów oddzielonych kropkami
- d. pięciu członów oddzielonych kropkami

Pytanie **21**

Punkty: 1,00

Miejscowy plan zagospodarowania przestrzennego ustala między innymi:

Wybierz wszystkie poprawne:

- a. tereny gdzie jest wymagane wydanie decyzji o lokalizacji inwestycji celu publicznego
- b. tereny gdzie jest wymagane wydanie decyzji o warunkach zabudowy
- c. przeznaczenie terenu
- d. rozmieszczenie inwestycji celu publicznego

Pytanie **22**

Punkty: 1,00

Obiektem trwale związanym z budynkiem jest:

Wybierz wszystkie poprawne:

- a. schody
- b. piwnica
- c. garaż
- d. podpora

Pytanie **23**

Punkty: 1,00

Organy samorządu województwa:

Wybierz wszystkie poprawne:

- a. są organami wyższego stopnia w postępowaniu administracyjnym
- b. stanowią wobec gminy organy nadzoru
- c. nie stanowią wobec powiatu organów nadzoru
- d. stanowią wobec powiatu organy kontroli

Pytanie **24**

Punkty: 1,00

W sprawie zakończonej decyzją ostateczną wznawia się postępowanie jeżeli:

Wybierz wszystkie poprawne:

- a. wyjdą na jaw istotne dla sprawy nowe okoliczności faktyczne lub nowe dowody istniejące w dniu wydania decyzji, nieznanego organowi, który wydał decyzję
- b. strona z własnej winy nie brała udziału w postępowaniu
- c. decyzja wydana została bez uzyskania wymaganego prawem stanowiska innego organu
- d. decyzja wydana została w wyniku przestępstwa

Pytanie **25**

Punkty: 1,00

W skalach 1:500 i 1:1000 na mapie zasadniczej w opisie budynku są zawarte:

Wybierz wszystkie poprawne:

- a. oznaczenie rodzaju budynku
- b. adres budynku
- c. oznaczenie kodu obiektu
- d. numer najwyższej kondygnacji nadziemnej budynku

Do zadań Służby Geodezyjnej i Kartograficznej należy w szczególności:

Wybierz wszystkie poprawne:

Pytanie **26**  
Punkty: 1,00

- a. realizacja polityki państwa w zakresie geodezji i kartografii
- b. sporządzanie map topograficznych
- c. wydawanie urzędowych map i atlasów terytorium Polski
- d. prowadzenie spraw związanych z ochroną informacji niejawnych w działalności geodezyjnej i kartograficznej

Pytanie **27**  
Punkty: 1,00

Wynikiem części wstępnej postępowania kwalifikacyjnego dotyczącego nabycia uprawnień zawodowych w dziedzinie geodezji i kartografii, z pominięciem osób zainteresowanych, o których mowa w art. 44 ust. 3 oraz art. 44a ust. 1 i 3 ustawy Prawo geodezyjne i kartograficzne, jest rozstrzygnięcie o:

Wybierz wszystkie poprawne:

- a. niedopuszczeniu osoby zainteresowanej do części sprawdzającej postępowania kwalifikacyjnego
- b. odroczonym dopuszczeniu osoby zainteresowanej do części sprawdzającej postępowania kwalifikacyjnego
- c. dopuszczeniu warunkowym osoby zainteresowanej do części sprawdzającej postępowania kwalifikacyjnego
- d. dopuszczeniu osoby zainteresowanej do części sprawdzającej postępowania kwalifikacyjnego

Pytanie **28**  
Punkty: 1,00

Przez "punkt adresowy" należy rozumieć:

Wybierz wszystkie poprawne:

- a. lokalizację przestrzenną adresu wyrażoną przez współrzędne płaskie prostokątne x, y
- b. unikalny numer
- c. jednoznaczny opis obiektu, realizowany przez wskazanie miejscowości, kodu pocztowego oraz ulicy lub placu i numeru porządkowego przy tej ulicy lub tym placu
- d. adres

Pytanie **29**  
Punkty: 1,00

Treść mapy ewidencyjnej stanowią:

Wybierz wszystkie poprawne:

- a. punkty osnowy geodezyjnej
- b. punkty graniczne
- c. kontury budynków
- d. nazwy ulic i placów

Pytanie **30**  
Punkty: 1,00

Użytki gruntowe wykazywane w ewidencji dzielą się na następujące grupy:

Wybierz wszystkie poprawne:

- a. grunty rolne
- b. nieużytki
- c. użytki ekologiczne
- d. użytki rolne

Pytanie **31**  
Punkty: 1,00

Usytuowanie obiektu inżynierskiego w terenie:

Wybierz wszystkie poprawne:

- a. powinno być dostosowane do przebiegu drogi
- b. powinno uwzględniać warunki decyzji o ustaleniu lokalizacji autostrad płatnych
- c. powinno uwzględniać warunki miejscowego planu zagospodarowania przestrzennego
- d. powinno uwzględniać warunki decyzji o warunkach zabudowy i zagospodarowania terenu

Pytanie **32**  
Punkty: 1,00

Operat techniczny zawiera:

Wybierz wszystkie poprawne:

- a. dokumentację osnowy pomiarowej, jeżeli taka osnowa była założona

- b. sprawozdanie techniczne
- c. dokument obliczenia opłaty
- d. zawiadomienie o zakończeniu prac geodezyjnych

Pytanie **33**

Punkty: 1,00

Pierwszy i drugi człon identyfikatora ewidencyjnego materiału przyjętego do centralnego zasobu geodezyjnego i kartograficznego to:

Wybierz wszystkie poprawne:

- a. Litera C i identyfikator TERYT
- b. Litera C i litery PL
- c. Litera P i litery PL
- d. Litera P i identyfikator TERYT

Pytanie **34**

Punkty: 1,00

Osnowa realizacyjna na obiektach budowlanych wymagających w trakcie użytkowania okresowego badania przemieszczeń obiektu i podłoża oraz odkształceń obiektu powinna być zaprojektowana:

Wybierz wszystkie poprawne:

- a. w sposób umożliwiający wykonanie pomiaru pierwotnego
- b. w sposób umożliwiający wykonanie pomiarów następnych
- c. w sposób określony przez kierownika budowy
- d. w dowolny sposób

Pytanie **35**

Punkty: 1,00

W jakim trybie następuje aktualizacja danych ewidencji gruntów i budynków?

Wybierz wszystkie poprawne:

- a. niezwłocznie
- b. w drodze czynności materialno-technicznej
- c. w związku z przyjęciem operatu do zasobu
- d. w drodze decyzji administracyjnej

Pytanie **36**

Punkty: 1,00

Do Rady Infrastruktury Informacji Przestrzennej należy między innymi:

Wybierz wszystkie poprawne:

- a. opiniowanie projektów aktów prawnych na wniosek ministra właściwego w sprawach budownictwa, planowania i zagospodarowania przestrzennego oraz mieszkalnictwa
- b. opiniowanie powołania przewodniczącego Rady
- c. występowanie z inicjatywami dotyczącymi usprawnienia infrastruktury pod względem organizacyjnym i technicznym oraz rozszerzenia jej zakresu tematycznego
- d. opiniowanie powołania wiceprzewodniczącego Rady

Pytanie **37**

Punkty: 1,00

Postępowanie bezpieczeństwa przemysłowego, dotyczące sprawdzenia przedsiębiorcy, obejmuje między innymi:

Wybierz wszystkie poprawne:

- a. źródła pochodzenia środków finansowych
- b. strukturę organizacyjną
- c. strukturę kapitału oraz powiązania kapitałowe przedsiębiorcy
- d. system ochrony informacji niejawnych

Pytanie **38**

Punkty: 1,00

Rejestr prac geodezyjnych i kartograficznych zawiera dane określające:

Wybierz wszystkie poprawne:

- a. wysokość opłaty za udostępnione materiały zasobu
- b. cel zgłoszonych prac geodezyjnych
- c. identyfikator wykonawcy wskazany w zgłoszeniu prac geodezyjnych
- d. daty doręczenia wykonawcy prac geodezyjnych protokołów weryfikacji

Pytanie **39**

Punkty: 1,00

Dane zgromadzone w powiatowej bazie geodezyjnej ewidencji sieci uzbrojenia terenu (GESUT) aktualizuje się między innymi:

Wybierz wszystkie poprawne:

- a. niezwłocznie po uzyskaniu danych lub informacji niezbędnych do tej aktualizacji, jednak nie później niż w terminie 30 dni od dnia, w którym zakończyła się narada koordynacyjna
- b. niezwłocznie po uzyskaniu danych lub informacji niezbędnych do tej aktualizacji, jednak nie później niż w terminie 30 dni od dnia przekazania ich przez podmiot władający siecią uzbrojenia terenu
- c. w cyklach miesięcznych
- d. niezwłocznie po uzyskaniu danych lub informacji niezbędnych do tej aktualizacji, jednak nie później niż w terminie 14 dni od pozyskania ich z innego rejestru publicznego

Pytanie **40**

Punkty: 1,00

Jakim symbolem oznaczamy w ewidencji gruntów i budynków grunty zajęte pod cmentarze?:

Wybierz wszystkie poprawne:

- a. Tr
- b. Bz
- c. Cm
- d. Bi

Pytanie **41**

Punkty: 1,00

Wypisy i wrysy:

Wybierz wszystkie poprawne:

- a. nie podlegają udostępnieniu
- b. udostępnia się wyłącznie w postaci dokumentu elektronicznego
- c. udostępnia się wyłącznie w postaci papierowej
- d. udostępnia się w postaci dokumentu elektronicznego lub w postaci papierowej

Pytanie **42**

Punkty: 1,00

Źródłami powszechnie obowiązującego prawa są:

Wybierz wszystkie poprawne:

- a. rozporządzenia
- b. ustawy
- c. udzielane przez organy pełnomocnictwa
- d. zarządzenia

Pytanie **43**

Punkty: 1,00

W przypadku wzajemnego przecinania się gruntów zajętych pod linie kolejowe, drogi publiczne lub kanały przy ustalaniu granic działek ewidencyjnych stosuje się następujące zasady:

Wybierz wszystkie poprawne:

- a. drogi wyższej kategorii wybudowane na powierzchni gruntu dzielą drogi niższej kategorii wybudowane na powierzchni gruntu na odrębne działki ewidencyjne
- b. linie kolejowe wybudowane nad powierzchnią gruntu dzielą drogi publiczne wybudowane nad powierzchnią gruntu na odrębne działki ewidencyjne
- c. drogi wewnętrzne dzielą drogi publiczne na odrębne działki ewidencyjne
- d. kryte kanały i rurociągi dzielą linie kolejowe oraz drogi publiczne na odrębne działki ewidencyjne

Pytanie **44**

Punkty: 1,00

Organ administracji publicznej, który wydał decyzję w pierwszej instancji:

Wybierz wszystkie poprawne:

- a. stwierdza wygaśnięcie lub uchyla decyzję o których mowa powyżej w ppkt a) i b) w drodze decyzji
- b. stwierdza jej wygaśnięcie, jeżeli decyzja została wydana z zastrzeżeniem dopełnienia przez stronę określonego warunku, a strona nie dopełniła tego warunku
- c. stwierdza wygaśnięcie lub uchyla decyzję o których mowa powyżej w ppkt a) i b) w drodze postanowienia

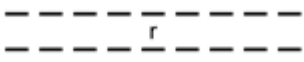

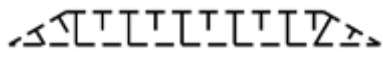
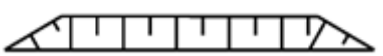
- d. stwierdza jej wygaśnięcie, jeżeli decyzja stała się bezprzedmiotowa, a stwierdzenie wygaśnięcia takiej decyzji nakazuje przepis prawa

Pytanie **45**

Punkty: 1,00

Który znak kartograficzny przedstawia skarpę umocnioną:

Wybierz wszystkie poprawne:

- a. 
- b. 
- c. 
- d. 

Pytanie **46**

Punkty: 1,00

Organ prowadzący zasób prowadzi w postaci elektronicznej w systemie teleinformatycznym:

Wybierz wszystkie poprawne:

- a. rejestr prac geodezyjnych
- b. ewidencję wykonawców prac geodezyjnych
- c. rejestr zawiadomień o zakończeniu prac geodezyjnych
- d. ewidencję materiałów zasobu

Pytanie **47**

Punkty: 1,00

Geodezyjną dokumentację techniczną sporządzoną w związku z zakładaniem lub utrzymywaniem podstawowych osnów geodezyjnych, grawimetrycznych i magnetycznych oraz szczegółowych osnów geodezyjnych:

Wybierz wszystkie poprawne:

- a. publikuje się w Biuletynie Urzędu
- b. wykonawca przechowuje przez okres 5 lat
- c. przekazuje się do wykorzystania wszystkim wykonawcom prac geodezyjnych
- d. przekazuje się do właściwego organu Służby Geodezyjnej i Kartograficznej

Pytanie **48**

Punkty: 1,00

Organ, który otrzymał zgłoszenie prac geodezyjnych udostępnia kopie zbiorów danych lub innych materiałów państwowego zasobu geodezyjnego i kartograficznego:

Wybierz wszystkie poprawne:

- a. niezwłocznie, nie później niż w terminie 5 dni roboczych od dnia otrzymania opłaty
- b. niezwłocznie, nie później niż w terminie 10 dni roboczych od dnia otrzymania opłaty
- c. niezwłocznie, nie później niż w terminie 5 dni od dnia otrzymania opłaty
- d. niezwłocznie, nie później niż w terminie 30 dni od otrzymania opłaty

Pytanie **49**

Punkty: 1,00

Statut Głównemu Urzędowi Geodezji i Kartografii nadaje:

Wybierz wszystkie poprawne:

- a. minister właściwy w sprawach budownictwa, planowania i zagospodarowania przestrzennego i mieszkalnictwa w drodze rozporządzenia
- b. Minister Inwestycji i Rozwoju w drodze rozporządzenia
- c. Prezes Rady Ministrów w drodze rozporządzenia
- d. Rada Ministrów w drodze rozporządzenia

Pytanie **50**

Punkty: 1,00

Do obiektów małej architektury można zaliczyć:

Wybierz wszystkie poprawne:

- a. wodotryski
- b. śmietniki
- c. krzyże przydrożne
- d. wodociągi



Pytanie **51**

Punkty: 1,00

Karę dyscyplinarną odebrania uprawnień zawodowych w dziedzinie geodezji i kartografii uważa się za niebyłą:

Wybierz wszystkie poprawne:

- a. po upływie 3 lat od uprawomocnienia się orzeczenia
- b. po upływie 5 lat od uprawomocnienia się orzeczenia
- c. po upływie 1 roku od uprawomocnienia się orzeczenia
- d. kara nie ulega przedawnieniu

Pytanie **52**

Punkty: 1,00

Podstawową skalą mapy zasadniczej jest skala:

Wybierz wszystkie poprawne:

- a. 1:10 000
- b. 1:1000
- c. 1:250
- d. 1:500

Pytanie **53**

Punkty: 1,00

Operat techniczny zaewidencjonowany w roku 2018 pod numerem 2 w wojewódzkim zasobie geodezyjnym i kartograficznym (lubelskim-kod TERYT 06) ma nadany numer ewidencyjny:

Wybierz wszystkie poprawne:

- a. W.06.2018.2
- b. LUB.W.2018.2
- c. W.LUB.2018.2
- d. 2018.W.LUB.2

Pytanie **54**

Punkty: 1,00

Przewodniczący komisji kwalifikacyjnej wyznacza termin i miejsce przeprowadzenia części sprawdzającej postępowania kwalifikacyjnego w terminie do:

Wybierz wszystkie poprawne:

- a. 6 tygodni od dnia wszczęcia postępowania kwalifikacyjnego
- b. 4 tygodni od dnia wszczęcia postępowania kwalifikacyjnego
- c. 1 miesiąca od dnia wszczęcia postępowania kwalifikacyjnego
- d. 30 dni od dnia wszczęcia postępowania kwalifikacyjnego

Pytanie **55**

Punkty: 1,00

Sprawozdanie techniczne zawiera m.in.:

Wybierz wszystkie poprawne:

- a. dokumentację procesu wyrównania
- b. datę zakończenia prac geodezyjnych
- c. nazwę zleceniodawcy prac widniejącą w zawartej umowie
- d. informację dotyczącą przekazywania plików do aktualizacji baz danych zasobu

Pytanie **56**

Punkty: 1,00

Materiały zasobu w postaci nieelektronicznej przyjęte do państwowego zasobu geodezyjnego i kartograficznego przetwarzają się sukcesywnie do postaci dokumentów elektronicznych nie dłużej niż:

Wybierz wszystkie poprawne:

- a. do dnia 31 grudnia 2022 r.
- b. do dnia 31 grudnia 2021 r.
- c. do dnia 31 grudnia 2023 r.
- d. do dnia 31 grudnia 2024 r.

Pytanie **57**

Punkty: 1,00

W przypadku negatywnego wyniku weryfikacji przekazanych przez wykonawcę prac geodezyjnych wyników zgłoszonych prac, właściwy organ Służby Geodezyjnej i Kartograficznej:

Wybierz wszystkie poprawne:

- a. zwraca wykonawcy prac geodezyjnych przekazane przez niego wyniki zgłoszonych prac wraz z protokołem zawierającym opis stwierdzonych uchybień i nieprawidłowości
- b. nie zwraca wykonawcy prac geodezyjnych wyników zgłoszonych prac i wydaje decyzję o odmowie przyjęcia do państwowego zasobu geodezyjnego i kartograficznego
- c. nie podejmuje żadnych czynności, dopóki wykonawca prac geodezyjnych nie wystąpi o informację dotyczącą wyniku weryfikacji
- d. nie zwraca wykonawcy prac geodezyjnych wyników zgłoszonych prac i wydaje postanowienie o odmowie przyjęcia do państwowego zasobu geodezyjnego i kartograficznego

Pytanie **58**

Punkty: 1,00

Co jest obowiązkową, integralną częścią decyzji zatwierdzającej podział nieruchomości?

Wybierz wszystkie poprawne:

- a. wykaz zmian gruntowych
- b. wykaz synchronizacyjny
- c. wykaz zmian danych ewidencyjnych
- d. mapa z projektem podziału nieruchomości

Pytanie **59**

Punkty: 1,00

Protokół ze wznowienia znaków granicznych lub wyznaczenia punktów granicznych zawiera m.in.:

Wybierz wszystkie poprawne:




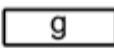
- a. opis sposobu stabilizacji lub markowania punktów osnowy pomiarowej
- b. identyfikator obrębu ewidencyjnego
- c. omówienie skreśleń i poprawek
- d. numery działek ewidencyjnych

Pytanie **60**

Punkty: 1,00

Który znak kartograficzny przedstawia zasuwę lub zawór:

Wybierz wszystkie poprawne:

- a. 
- b. 
- c.  
- d. 