



## Wydział Test

Pytanie 1

Punkty: 1,00

Materiały zasobu pozyskuje się do państwowego zasobu geodezyjnego i kartograficznego w wyniku:

Wybierz wszystkie poprawne:

- a. przyjęcia darowizny
- b. realizacji prac geodezyjnych lub prac kartograficznych
- c. archiwizacji materiałów zasobu
- d. działań organu prowadzącego zasób

Pytanie 2

Punkty: 1,00

Właściwi ministrowie i kierownicy urzędów centralnych o ustaleniu terenu zamkniętego zawiadamiają i podają klauzulę tajności informacji dotyczących obiektów znajdujących się na tym terenie:

Wybierz wszystkie poprawne:

- a. właściwych miejscowo wojewodów
- b. właściwych miejscowo marszałków województw
- c. właściwych miejscowo wojewódzkich inspektorów nadzoru geodezyjnego i kartograficznego
- d. Głównego Geodetę Kraju

Pytanie 3

Punkty: 1,00

Decyzja o pozwoleniu na budowę wygasa:

Wybierz wszystkie poprawne:

- a. jeżeli budowa nie została rozpoczęta przed upływem 5 lat od dnia, w którym decyzja ta stała się ostateczna
- b. jeżeli budowa została przerwana na czas dłuższy niż 3 lata
- c. jeżeli budowa nie została rozpoczęta przed upływem 3 lat od dnia, w którym decyzja ta stała się ostateczna
- d. jeżeli budowa została przerwana na czas dłuższy niż 5 lat

Pytanie 4

Punkty: 1,00

Działki ewidencyjne położone w granicach jednego obrębu ewidencyjnego i będące przedmiotem identycznych praw i odpowiadających im udziałów tworzą:

Wybierz wszystkie poprawne:

- a. jednostkę ewidencyjną
- b. jedno gospodarstwo rolne
- c. obręb ewidencyjny
- d. jednostkę rejestrową gruntów

Pytanie 5

Punkty: 1,00

Obowiązek dokonania zgłoszenia prac geodezyjnych oraz przekazania wyników nie obejmuje prac, jeżeli dotyczą one między innymi:

Wybierz wszystkie poprawne:

- a. tyczenia budynków lub sieci uzbrojenia terenu
- b. zobrażeń lotniczych wykonywanych na zamówienie innych podmiotów niż podmioty realizujące zadania publiczne enumeratywnie wskazane w ustawie o informatyzacji działalności podmiotów realizujących zadania publiczne
- c. map tematycznych i specjalnych wykonywanych na zamówienie innych podmiotów niż podmioty realizujące zadania publiczne enumeratywnie wskazane w ustawie o informatyzacji działalności podmiotów realizujących zadania publiczne
- d. terenów zamkniętych, jeżeli przedmiotem tych prac nie są obiekty objęte ewidencją gruntów i budynków

Pytanie 6

Punkty: 1,00

Projekt scalenia gruntów może być zatwierdzony jeżeli po jego okazaniu:

Wybierz wszystkie poprawne:

- a. 20% uczestników scalenia zgłosiło do niego zastrzeżenia

- b. wszyscy uczestnicy postępowania scaleniowego nie zgłosili do niego zastrzeżeń
- c. większość uczestników scalenia nie zgłosiła do niego zastrzeżeń
- d. 50% uczestników scalenia zgłosiło do niego zastrzeżenia

Pytanie **7**

Punkty: 1,00

Identyfikator zbioru danych przestrzennych ujawniony w ewidencji zbioru i usług danych przestrzennych:

Wybierz wszystkie poprawne:

- a. składa się wyłącznie z numeru porządkowego, pod którym został ujawniony w ewidencji
- b. składa się wyłącznie z przestrzenie nazw
- c. składa się z przestrzenie nazw oraz numeru porządkowego, pod którym został ujawniony ten zbiór w ewidencji
- d. jest niezmienny w okresie istnienia tego zbioru danych

Pytanie **8**

Punkty: 1,00

Wniosek osoby występującej o nadanie uprawnień zawodowych w dziedzinie geodezji i kartografii zawiera między innymi:

Wybierz wszystkie poprawne:

- a. adres zamieszkania
- b. zaświadczenie o ukończeniu kursu przygotowawczego
- c. aktualne badania lekarskie
- d. identyfikator NIP

Pytanie **9**

Punkty: 1,00

W zakresie prac geodezyjnych mających znaczenie dla obronności i bezpieczeństwa państwa Główny Geodeta Kraju współdziała z:

Wybierz wszystkie poprawne:

- a. Agencją Bezpieczeństwa Wewnętrznego
- b. Ministrem Obrony Narodowej
- c. Prezesem Rady Ministrów
- d. Służbą Kontrwywiadu Wojskowego

Pytanie **10**

Punkty: 1,00

Organem właściwym do wydania decyzji o warunkach zabudowy i zagospodarowania (z wyłączeniem terenów zamkniętych) jest odpowiednio:

Wybierz wszystkie poprawne:

- a. burmistrz
- b. marszałek województwa
- c. prezydent miasta
- d. wojewoda

Pytanie **11**

Punkty: 1,00

Ochronie podlegają:

Wybierz wszystkie poprawne:

- a. punkty graniczne
- b. budowle triangulacyjne
- c. znaki geodezyjne
- d. urządzenia zabezpieczające znaki geodezyjne

Pytanie **12**

Punkty: 1,00

Wzory klauzul urzędowych, którymi opatruje się dokumenty i materiały przeznaczone dla podmiotu, na rzecz którego wykonawca prac geodezyjnych wykonał prace geodezyjne:

Wybierz wszystkie poprawne:

- a. określone są w załączniku do rozporządzenia w sprawie organizacji i trybu prowadzenia państwowego zasobu geodezyjnego i kartograficznego
- b. nie są określone przepisem prawa

- c. określone są przez właściwy organ obsługujący zgłoszenie prac geodezyjnych
- d. określone są przez Głównego Geodetę Kraju

Pytanie **13**

Punkty: 1,00

Krajowy rejestr urzędowy podziału terytorialnego kraju:

Wybierz wszystkie poprawne:

- a. prowadzi Główny Geodeta Kraju
- b. jest prowadzony w systemie teleinformatycznym
- c. jest prowadzony w formie analogowej
- d. nosi skrócona nazwę TERYT

Pytanie **14**

Punkty: 1,00

Do pomiaru kontrolnego z wykorzystaniem technik satelitarnych GNSS można wykorzystać:

Wybierz wszystkie poprawne:

- a. punkty opisujące zapory wodne
- b. punkty opisujące użytki gruntowe
- c. punkt osnowy geodezyjnej
- d. punkt osnowy pomiarowej

Pytanie **15**

Punkty: 1,00

Organy władzy publicznej działają:

Wybierz wszystkie poprawne:

- a. w granicach prawa
- b. na podstawie ugruntowanego orzecznictwa sądowego
- c. na podstawie prawa
- d. bezpośrednio, na podstawie stanowionych uchwał

Pytanie **16**

Punkty: 1,00

Kto, w celu użycia za autentyczny, podrabia lub przerabia dokument lub takiego dokumentu jako autentycznego używa:

Wybierz wszystkie poprawne:

- a. podlega grzywnie
- b. podlega karze pozbawienia wolności od 3 do 5 lat
- c. podlega karze pozbawienia wolności od 3 miesięcy do lat 5
- d. podlega karze ograniczenia wolności od 1 miesiąca do lat 2

Pytanie **17**

Punkty: 1,00

Odmowa przyjęcia do zasobu geodezyjnego kartograficznych materiałów sporządzonych w ramach wykonanej pracy geodezyjnej przyjmuje postać:

Wybierz wszystkie poprawne:

- a. informacji o odmowie oraz o przekazaniu dokumentacji do weryfikacji do wojewódzkiego inspektora nadzoru geodezyjnego i kartograficznego
- b. decyzji administracyjnej o odmowie
- c. zarządzenia o odmowie
- d. informacji na piśmie o odmowie oraz o możliwości odwołania do wojewódzkiego inspektora nadzoru geodezyjnego i kartograficznego

Pytanie **18**

Punkty: 1,00

Kto prowadzi bazę danych Państwowego Rejestru Granic?

Wybierz wszystkie poprawne:

- a. Główny Geodeta Kraju
- b. starosta
- c. wójt, burmistrz, prezydent miasta
- d. prezydent miasta na prawach powiatu

Pytanie **19**

Punkty: 1,00

Pomiarową osnowę wysokościową realizuje się:

Wybierz wszystkie poprawne:

- a. metodą profili podłużnych
- b. metodą niwelacji siatkowej
- c. techniką kinematyczną GNSS
- d. metodą niwelacji geometrycznej

Pytanie **20**

Punkty: 1,00

Jaki obiekt przedstawia poniższy znak kartograficzny:



Wybierz wszystkie poprawne:

- a. słup energetyczny
- b. szafa elektroenergetyczna
- c. stacja ładowania pojazdów elektrycznych
- d. włącz do komory

Pytanie **21**

Punkty: 1,00

System teleinformatyczny, w którym prowadzi się BDOT500, nadaje każdemu obiektowi ujawnionemu w tej bazie pewien kod nazwany identyfikatorem infrastruktury informacji przestrzennej. Kod ten może ulec zmianie.

Wybierz wszystkie poprawne:

- a. nigdy
- b. tylko w przypadku negatywnej walidacji obiektu
- c. przy zmianie wersji obiektu
- d. przy eksporcie zasilającym CR ZSIN

Pytanie **22**

Punkty: 1,00

Stroną postępowania administracyjnego jest:

Wybierz wszystkie poprawne:

- a. organ administracji prowadzący postępowanie
- b. każdy, czyjego interesu lub obowiązku dotyczy postępowanie
- c. organ nadzoru administracji publicznej
- d. ten, kto żąda czynności organu ze względu na swój interes prawny lub obowiązek

Pytanie **23**

Punkty: 1,00

Organ administracji publicznej doręcza pisma między innymi:

Wybierz wszystkie poprawne:

- a. za pomocą środków komunikacji elektronicznej
- b. za pokwitowaniem przez swoich pracowników
- c. za pokwitowaniem przez inne upoważnione osoby lub organy
- d. za pokwitowaniem przez operatora pocztowego

Pytanie **24**

Punkty: 1,00

Sieć niezidentyfikowaną oznacza się w GESUT literą:

Wybierz wszystkie poprawne:

- a. i
- b. n
- c. x
- d. y

Pytanie **25**

Punkty: 1,00

Wskaż typy stabilizacji punktów podstawowej osnowy geodezyjnej:

Wybierz wszystkie poprawne:

- a. znak specjalny
- b. naziemny z częścią podziemną

- c. element budowli
- d. ścienny

Pytanie **26**  
Punkty: 1,00

W razie ukarania geodety w postępowaniu tytułem odpowiedzialności zawodowej, koszty postępowania dyscyplinarnego ponosi:

Wybierz wszystkie poprawne:

- a. obwiniony i wojewoda – po połowie
- b. wojewoda
- c. rzecznik dyscyplinarny
- d. obwiniony

Pytanie **27**  
Punkty: 1,00

Uprawnienia podmiotu dotyczące możliwości wykorzystywania udostępnionych mu materiałów zasobu w postaci elektronicznej określone są:

Wybierz wszystkie poprawne:

- a. w zgłoszeniu pracy geodezyjnej
- b. w dokumencie obliczenia opłaty
- c. w licencji wydanej przez organ udostępniający te materiały
- d. w zawiadomieniu o zakończeniu prac geodezyjnych

Pytanie **28**  
Punkty: 1,00

Do Rady Infrastruktury Informacji Przestrzennej należy między innymi:

Wybierz wszystkie poprawne:

- a. opiniowanie projektów aktów prawnych na wniosek ministra właściwego w sprawach budownictwa, planowania i zagospodarowania przestrzennego oraz mieszkalnictwa
- b. opiniowanie powołania przewodniczącego Rady
- c. występowanie z inicjatywami dotyczącymi usprawnienia infrastruktury pod względem organizacyjnym i technicznym oraz rozszerzenia jej zakresu tematycznego
- d. opiniowanie powołania wiceprzewodniczącego Rady

Pytanie **29**  
Punkty: 1,00

Materiały przyjęte do zasobu w postaci nieelektronicznej przetwarzają się do dokumentu elektronicznego zapisanego w formacie PDF:

Wybierz wszystkie poprawne:

- a. w terminie 30 dni od uzyskania pozytywnego protokołu weryfikacji
- b. w terminie 7 dni od uzyskania pozytywnego protokołu weryfikacji
- c. niezwłocznie
- d. w terminie 14 dni od uzyskania pozytywnego protokołu weryfikacji

Pytanie **30**  
Punkty: 1,00

Obiekt mostowy to:

Wybierz wszystkie poprawne:

- a. kładka
- b. budowla przeznaczona do przeprowadzenia drogi
- c. budowla przeznaczona do przeprowadzenia samodzielnego ciągu pieszego
- d. budowla przeznaczona do przeprowadzenia szlaku wędrówek zwierząt dziko żyjących

Pytanie **31**  
Punkty: 1,00

W trakcie zakładania i prowadzenia BDOT500 należy stosować hierarchię ważności atrybutu źródło według jakiej kolejności:

Wybierz wszystkie poprawne:

- a. pomiar w oparciu o elementy mapy lub dane projektowe; fotogrametria; pomiar na osnowę i obliczenia, w tym pomiary GNSS powiązane z osnową
- b. pomiar na osnowę i obliczenia, w tym pomiary GNSS powiązane z osnową; digitalizacja mapy i wektoryzacja rastra mapy; fotogrametria

- c. digitalizacja mapy i wektoryzacja rastra mapy; pomiar w oparciu o elementy mapy lub dane projektowe; inne
- d. pomiar na osnowę i obliczenia, w tym pomiary GNSS powiązane z osnową; digitalizacja mapy i wektoryzacja rastra mapy; pomiar w oparciu o elementy mapy lub dane projektowe

Pytanie **32**

Punkty: 1,00

Wykaz zmian danych ewidencyjnych, zgodnie z rozporządzeniem w sprawie ewidencji gruntów i budynków, zawiera:

Wybierz wszystkie poprawne:

- a. stan dotychczasowy
- b. nazwę gminy
- c. numer uprawnień zawodowych kierownika prac geodezyjnych
- d. oznaczenie księgi wieczystej

Pytanie **33**

Punkty: 1,00

Sytuowanie projektowanych sieci uzbrojenia terenu na obszarach miast oraz w pasach drogowych na terenie istniejącej lub projektowanej zwartej zabudowy obszarów wiejskich koordynuje się na naradach koordynacyjnych organizowanych przez:

Wybierz wszystkie poprawne:

- a. nie organizuje się narad koordynacyjnych
- b. wójtów (burmistrzów i prezydentów miast) na obszarze właściwości których mają być sytuowane projektowane sieci uzbrojenia terenu
- c. starostę
- d. podmioty władające sieciami uzbrojenia terenu

Pytanie **34**

Punkty: 1,00

Osnowa realizacyjna na obiektach budowlanych wymagających w trakcie użytkowania okresowego badania przemieszczeń obiektu i podłoża oraz odkształceń obiektu powinna być zaprojektowana:

Wybierz wszystkie poprawne:

- a. w sposób określony przez kierownika budowy
- b. w sposób umożliwiający wykonanie pomiarów następnych
- c. w dowolny sposób
- d. w sposób umożliwiający wykonanie pomiaru pierwotnego

Pytanie **35**

Punkty: 1,00

Karze grzywny podlega:

Wybierz wszystkie poprawne:

- a. kierownik prac gdy wbrew przepisom art. 12 ust. 1 nie zgłosił pracy geodezyjnej
- b. wykonawca prac geodezyjnych gdy wbrew przepisom art. 12a nie przekazał materiałów powstałych w wyniku prac geodezyjnych lub kartograficznych, lub informacji o tych materiałach do państwowego zasobu geodezyjnego i kartograficznego
- c. kierownik prac gdy wbrew przepisom art. 12a nie przekazał materiałów powstałych w wyniku prac geodezyjnych lub kartograficznych
- d. wykonawca prac geodezyjnych gdy wbrew przepisom art. 12 ust. 1 nie zgłosił pracy geodezyjnej

Pytanie **36**

Punkty: 1,00

Rejestr wydanych dzienników praktyki zawodowej prowadzi:

Wybierz wszystkie poprawne:






- a. wojewoda
- b. wojewódzki inspektor nadzoru geodezyjnego i kartograficznego
- c. Główny Geodeta Kraju
- d. Główny Urząd Geodezji i Kartografii

Pytanie **37**

Punkty: 1,00

Które znaki kartograficzne stanowią obiekty bazy geodezyjnej ewidencji sieci uzbrojenia terenu (GESUT):

Wybierz wszystkie poprawne:

- a. 
- b. 
- c. 
- d.  

Pytanie **38**  
Punkty: 1,00

Kto jest organem wyższego stopnia w rozumieniu KPA w stosunku do Starosty w postępowaniu scaleniowym?  
Wybierz wszystkie poprawne:

- a. Wojewoda
- b. SKO
- c. Główny Geodeta Kraju
- d. Marszałek województwa

Pytanie **39**  
Punkty: 1,00

Pracami przygotowawczymi na terenie budowy są:  
Wybierz wszystkie poprawne:

- a. wykonanie niwelacji terenu
- b. wykonanie przyłączy do sieci infrastruktury technicznej na potrzeby budowy
- c. wytyczenie geodezyjne obiektów w terenie
- d. zagospodarowanie terenu budowy wraz z budową tymczasowych obiektów

Pytanie **40**  
Punkty: 1,00

Ulice leżące w ciągu dróg krajowych należą:  
Wybierz wszystkie poprawne:

- a. do dróg krajowych
- b. do dróg powiatowych
- c. do dróg wojewódzkich
- d. do dróg alternatywnych

Pytanie **41**  
Punkty: 1,00

Do samodzielnego lokalu mieszkalnego mogą przynależeć, jako jego części składowe, pomieszczenia takie jak:  
Wybierz wszystkie poprawne:

- a. strych
- b. garaż
- c. komórka
- d. piwnica

Pytanie **42**  
Punkty: 1,00

Dla obszaru całego kraju zakłada się i prowadzi w systemie teleinformatycznym bazy danych, obejmujące zbiory danych przestrzennych infrastruktury informacji przestrzennej, dotyczące:  
Wybierz wszystkie poprawne:

- a. geodezyjnej ewidencji projektowanych sieci uzbrojenia terenu
- b. szczegółowych osnów geodezyjnych
- c. państwowego rejestru nazw geograficznych
- d. ewidencji miejscowości, ulic i adresów

Pytanie **43**  
Punkty: 1,00

Do wykonywania geodezyjnych pomiarów sytuacyjnych i wysokościowych z wykorzystaniem technik satelitarnych GNSS wykorzystuje się:  
Wybierz wszystkie poprawne:

- a. systemy stacji referencyjnych, jeżeli dane określające położenie tych stacji włączone zostały do zasobu, a serwisy tych systemów zapewniają osiągnięcie określonych przepisami dokładności określenia położenia szczegółów terenowych

- b. dowolny system stacji referencyjnych
- c. tylko system stacji referencyjnych ASG-EUPOS
- d. system stacji referencyjnych ASG-EUPOS

Pytanie **44**  
Punkty: 1,00

Na treść opisu mapy do celów projektowych składają się w szczególności:  
Wybierz wszystkie poprawne:

- a. nazwa zleceniodawcy prac geodezyjnych
- b. skala
- c. położenie obszaru opracowania
- d. data oraz imię i nazwisko osoby, która opracowała mapę

Pytanie **45**  
Punkty: 1,00

W bazie danych BDOT500 gromadzi się dane o obiektach topograficznych, których klasyfikacja określona jest na:  
Wybierz wszystkie poprawne:

- a. jednym poziomie
- b. czterech poziomach
- c. żadna z wymienionych
- d. trzech poziomach

Pytanie **46**  
Punkty: 1,00

Treść mapy ewidencyjnej stanowią:  
Wybierz wszystkie poprawne:

- a. kontury budynków
- b. punkty osnowy geodezyjnej
- c. nazwy ulic i placów
- d. punkty graniczne

Pytanie **47**  
Punkty: 1,00

Ewidencja gruntów i budynków obejmuje dane podmiotowe dotyczące:  
Wybierz wszystkie poprawne:

- a. gruntów
- b. daty nabycia prawa własności
- c. lokali
- d. adresów zameldowania na pobyt stały albo siedziby podmiotów





Pytanie **48**  
Punkty: 1,00

Roszczenia wynikające z umowy o dzieło przedawniają się :  
Wybierz wszystkie poprawne:

- a. z upływem 6 miesięcy od dnia oddania dzieła
- b. z upływem 12 miesięcy od dnia oddania dzieła
- c. z upływem dwóch lat od dnia oddania dzieła
- d. z upływem trzech lat od dnia oddania dzieła

Pytanie **49**  
Punkty: 1,00

Który znak kartograficzny przedstawia szczegółową osnowę geodezyjną poziomą:  
Wybierz wszystkie poprawne:

- a.  M34001Aa1-SH10010
- b.  M34001Aa1-SP10010
- c.  M34001A-GF0010
- d.  M34001A-GB0010



Pytanie **50**  
Punkty: 1,00

W skład operatu technicznego nie wchodzi:

Wybierz wszystkie poprawne:

- a. dziennik niwelacji
- b. poświadczony za zgodność z oryginałem kopie protokołu klasyfikacyjnego
- c. zawiadomienie o zakończeniu pracy geodezyjnej lub kartograficznej
- d. sprawozdanie techniczne

Pytanie **51**  
Punkty: 1,00

System teleinformatyczny wykorzystywany przez podmiot publiczny do realizacji zadań publicznych:

Wybierz wszystkie poprawne:

- a. musi spełniać minimalne wymagania dla systemów teleinformatycznych
- b. nie musi zapewniać interoperacyjności systemów na zasadach określonych w Krajowych Ramach Interoperacyjności
- c. musi zapewniać interoperacyjność systemów
- d. musi zapewniać interoperacyjność systemów na zasadach określonych w Krajowych Ramach Interoperacyjności

Pytanie **52**  
Punkty: 1,00

Ustrój Rzeczypospolitej Polskiej opiera się na podziale i równowadze władzy:

Wybierz wszystkie poprawne:

- a. sędziowskiej
- b. samorządowej
- c. wykonawczej
- d. ustawodawczej

Pytanie **53**  
Punkty: 1,00

Wymiana danych między organami Służby Geodezyjnej i Kartograficznej odbywa się w postaci elektronicznej:

Wybierz wszystkie poprawne:

- a. po wskazaniu zakresu niezbędnych danych
- b. raz w miesiącu
- c. niezwłocznie po otrzymaniu zgłoszenia prac geodezyjnych
- d. na pisemną prośbę zainteresowanego organu

Pytanie **54**  
Punkty: 1,00

Organ prowadzący zasób prowadzi w postaci elektronicznej w systemie teleinformatycznym:

Wybierz wszystkie poprawne:

- a. rejestr prac geodezyjnych
- b. rejestr zawiadomień o zakończeniu prac geodezyjnych
- c. ewidencję materiałów zasobu
- d. ewidencję wykonawców prac geodezyjnych

Pytanie **55**  
Punkty: 1,00

Organ prowadzący zasób:

Wybierz wszystkie poprawne:

- a. wykonuje na nośnikach zewnętrznych, nie rzadziej niż raz na rok, kopie bezpieczeństwa materiałów zasobu w postaci elektronicznej
- b. przechowuje materiały zasobu w sposób chroniący je przed zniszczeniem
- c. przechowuje co najmniej dwie ostatnie kopie bezpieczeństwa materiałów zasobu
- d. przechowuje materiały zasobu w sposób chroniący je przed pożarem

Pytanie **56**  
Punkty: 1,00

Budowle i urządzenia ziemne oraz pojedyncze drzewa należą do:

Wybierz wszystkie poprawne:

- a. III grupy szczegółów terenowych

- b. II grupy szczegółów terenowych
- c. I lub II grupy szczegółów terenowych
- d. I grupy szczegółów terenowych

Pytanie **57**

Punkty: 1,00

O ustroju gminy stanowi:

Wybierz wszystkie poprawne:

- a. akt prawa miejscowego
- b. zarządzenie Prezesa Rady Ministrów
- c. regulamin organizacyjny gminy
- d. jej statut

Pytanie **58**

Punkty: 1,00

Użytki gruntowe wykazywane w ewidencji dzielą się na następujące grupy:

Wybierz wszystkie poprawne:

- a. nieużytki
- b. użytki ekologiczne
- c. użytki rolne
- d. grunty rolne

Pytanie **59**

Punkty: 1,00

Działkę ewidencyjną stanowi ciągły obszar gruntu:

Wybierz wszystkie poprawne:

- a. jednorodny pod względem prawnym
- b. wydzielony z otoczenia za pomocą granic działek ewidencyjnych
- c. położony w granicach jednego obrębu ewidencyjnego
- d. wydzielony z otoczenia za pomocą ogrodzenia trwałego

Pytanie **60**

Punkty: 1,00

Projekt założenia ewidencji gruntów i budynków określa w szczególności:

Wybierz wszystkie poprawne:

- a. charakterystykę obiektu
- b. system, w którym prowadzona będzie ewidencja
- c. przewidywane terminy wykonania poszczególnych etapów prac
- d. wykaz budynków