



Wydział Test

Pytanie 1

Punkty maks.:
1,00

Które z wymienionych obiektów należą do kategorii obiektów topograficznych (BDOT500) "wody":
Wybierz wszystkie poprawne:

- a. jaz
- b. molo
- c. przepust
- d. most

Pytanie 2

Punkty maks.:
1,00

Zakres wyłączenia z projektu budowlanego zawierającego obiekty budowlane, służące obronności i bezpieczeństwu państwa, części projektu zawierające układy funkcjonalne mogące ujawnić charakter, przeznaczenie i nazwę obiektu określa:

Wybierz wszystkie poprawne:

- a. inwestor
- b. organ wydający pozwolenie na budowę
- c. inspektor nadzoru inwestorskiego
- d. kierownik budowy

Pytanie 3

Punkty maks.:
1,00

Projektant, w trakcie realizacji budowy, ma prawo:

Wybierz wszystkie poprawne:

- a. wstępu na teren budowy i dokonywania zapisów w dzienniku budowy dotyczących ich realizacji
- b. prowadzenia dokumentacji budowy
- c. żądania wpisem do dziennika budowy wstrzymania robót budowlanych w razie stwierdzenia możliwości powstania zagrożenia
- d. sporządzić, przed rozpoczęciem budowy plan bezpieczeństwa i ochrony zdrowia

Pytanie 4

Punkty maks.:
1,00

Krajowy rejestr urzędowy podziału terytorialnego kraju (TERYT) prowadzi:

Wybierz wszystkie poprawne:

- a. Minister Spraw Wewnętrznych i Administracji
- b. Prezes Rady Ministrów
- c. Prezes Głównego Urzędu Statystycznego
- d. Prezes Głównego Urzędu Geodezji i Kartografii

Pytanie 5

Punkty maks.:
1,00

Sprawy związane z ochroną informacji niejawnych w działalności geodezyjnej i kartograficznej prowadzi:

Wybierz wszystkie poprawne:

- a. Główny Geodeta Kraju
- b. Minister Cyfryzacji
- c. Minister Inwestycji i Rozwoju
- d. Minister Spraw Wewnętrznych i Administracji

Pytanie 6

Punkty maks.:
1,00

Nadzór nad pracami geodezyjnymi i kartograficznymi na terenach zamkniętych polega między innymi na ocenie:

Wybierz wszystkie poprawne:

- a. przestrzegania przy ich wykonywaniu przepisów o ochronie informacji niejawnych
- b. zgodności wykonywania pomiarów i opracowań geodezyjnych terenu zamkniętego z wymogami dotyczącymi pomiarów i opracowań geodezyjnych, określonych w odrębnych przepisach
- c. posiadania przez wykonawców prac geodezyjnych i kartograficznych zezwoleń na wykonywanie tych prac, określonych w przepisach odrębnych
- d. zgodności wykonywania map terenu zamkniętego zawierających w swojej treści położenie sieci uzbrojenia terenu i innych elementów zagospodarowania terenu z wymogami dotyczącymi opracowania

Pytanie **7**Punkty maks.:
1,00

Materiały zasobu w postaci nieelektronicznej przyjęte do państwowego zasobu geodezyjnego i kartograficznego przetwarzają się sukcesywnie do postaci dokumentów elektronicznych nie dłużej niż:

Wybierz wszystkie poprawne:

- a. do dnia 31 grudnia 2021 r.
- b. do dnia 31 grudnia 2023 r.
- c. do dnia 31 grudnia 2022 r.
- d. do dnia 31 grudnia 2024 r.

Pytanie **8**Punkty maks.:
1,00

Do dóbr osobistych człowieka należą :

Wybierz wszystkie poprawne:

- a. cześć
- b. zdrowie
- c. swoboda sumienia
- d. nazwisko lub pseudonim

Pytanie **9**Punkty maks.:
1,00

Do gruntów leśnych oraz zadrzewionych i zakrzewionych zaliczamy:

Wybierz wszystkie poprawne:

- a. grunty pod rowami
- b. grunty zadrzewione i zakrzewione
- c. tereny rekreacyjno-wypoczynkowe
- d. grunty zadrzewione i zakrzewione na użytkach rolnych

Pytanie **10**Punkty maks.:
1,00

Przy określaniu zasięgu konturów klasyfikacyjnych kontury o powierzchni:

Wybierz wszystkie poprawne:

- a. mniejszej niż 0,20 ha włącza się do konturu przyległego
- b. większej niż 0,10 ha włącza się do konturu przyległego
- c. mniejszej niż 0,10 ha pozostawia się bez zmian
- d. mniejszej niż 0,10 ha włącza się do konturu przyległego

Pytanie **11**Punkty maks.:
1,00

Znak kartograficzny "zadrzewienie, zakrzewienie" stosuje się na mapie zasadniczej do obszaru porośniętego grupą drzew lub krzewów o powierzchni:

Wybierz wszystkie poprawne:

- a. większej niż 1 ha
- b. co najmniej 10 ha
- c. mniejszej niż 0,10 ha
- d. co najmniej 0,10 ha

Pytanie **12**Punkty maks.:
1,00

Jednostkami powierzchniowymi podziału kraju dla celów ewidencji są:

Wybierz wszystkie poprawne:

- a. użytek gruntowy
- b. działka ewidencyjna
- c. obręb ewidencyjny
- d. jednostka ewidencyjna

Odległość granicy pasa drogowego od zewnętrznej krawędzi nasypu dla dróg ekspresowych powinna wynosić:

Wybierz wszystkie poprawne:

<p>Pytanie 13 Punkty maks.: 1,00</p>	<p><input type="checkbox"/> a. co najmniej 0,75m <input type="checkbox"/> b. co najmniej 4 m <input type="checkbox"/> c. co najmniej 2 m <input type="checkbox"/> d. co najmniej 3 m</p>
<p>Pytanie 14 Punkty maks.: 1,00</p>	<p>Pikietą według rozporządzenia w sprawie standardów mogą być: Wybierz wszystkie poprawne:</p> <p><input type="checkbox"/> a. charakterystyczne punkty naturalnych form terenu <input type="checkbox"/> b. charakterystyczne punkty sztucznych form terenu <input type="checkbox"/> c. wszystkie punkty powierzchni terenu <input type="checkbox"/> d. punkty powierzchni terenu charakteryzujące jego rzeźbę</p>
<p>Pytanie 15 Punkty maks.: 1,00</p>	<p>Wypis z rejestru gruntów zawiera: Wybierz wszystkie poprawne:</p> <p><input type="checkbox"/> a. oznaczenie sprawy według obowiązującego systemu kancelaryjnego <input type="checkbox"/> b. datę aktualności danych wykazanych w wypisie <input type="checkbox"/> c. numer jednostki rejestrowej gruntów <input type="checkbox"/> d. datę sporządzenia dokumentu</p>
<p>Pytanie 16 Punkty maks.: 1,00</p>	<p>Państwowy zasób geodezyjny i kartograficzny stanowią między innymi : Wybierz wszystkie poprawne:</p> <p><input type="checkbox"/> a. zobrazowania satelitarne <input type="checkbox"/> b. dokumentacje zawierające wyniki prac geodezyjnych <input type="checkbox"/> c. zobrazowania lotnicze <input type="checkbox"/> d. dokumentacje zawierające wyniki prac kartograficznych</p>
<p>Pytanie 17 Punkty maks.: 1,00</p>	<p>Studium uwarunkowań i kierunków zagospodarowania przestrzennego gminy jest wiążące przy sporządzaniu: Wybierz wszystkie poprawne:</p> <p><input type="checkbox"/> a. zezwolenia na realizację inwestycji drogowej (zrid) <input type="checkbox"/> b. decyzji o warunkach zabudowy (wz) <input type="checkbox"/> c. miejscowych planów zagospodarowania przestrzennego (mpzp) <input type="checkbox"/> d. decyzji o ustaleniu lokalizacji inwestycji celu publicznego (ulicp)</p>
<p>Pytanie 18 Punkty maks.: 1,00</p>	<p>Właściciele nieruchomości zabudowanych mają obowiązek umieszczania w widocznym miejscu na ścianie frontowej budynku tabliczki z numerem porządkowym w terminie: Wybierz wszystkie poprawne:</p> <p><input type="checkbox"/> a. niezwłocznie po otrzymaniu zawiadomienia o ustaleniu tego numeru <input type="checkbox"/> b. 7 dni od dnia otrzymania zawiadomienia o ustaleniu tego numeru <input type="checkbox"/> c. 14 dni od dnia otrzymania zawiadomienia o ustaleniu tego numeru <input type="checkbox"/> d. 30 dni od dnia otrzymania zawiadomienia o ustaleniu tego numeru</p>
<p>Pytanie 19 Punkty maks.: 1,00</p>	<p>Danymi ewidencyjnymi dotyczącymi działki ewidencyjnej są między innymi: Wybierz wszystkie poprawne:</p> <p><input type="checkbox"/> a. numer księgi wieczystej <input type="checkbox"/> b. pole powierzchni części działki oddanej w dzierżawę <input type="checkbox"/> c. oznaczenie dokumentów potwierdzających własność <input type="checkbox"/> d. oznaczenie jednostki rejestrowej gruntów, do której należy działka ewidencyjna</p>

Pytanie **20**Punkty maks.:
1,00

Zaznacz zdanie które jest prawdą:

Wybierz wszystkie poprawne:

- a. księga wieczysta może obejmować grunty niehipotekowane
- b. księga wieczysta musi obejmować wyłącznie jedną działkę gruntu
- c. księga wieczysta może obejmować kilka działek gruntu, o ile stanowią odrębny przedmiot własności
- d. każda działka gruntu posiada obecnie własną księgę wieczystą

Pytanie **21**Punkty maks.:
1,00

Na treść opisu mapy do celów prawnych składają się w szczególności:

Wybierz wszystkie poprawne:

- a. numer księgi wieczystej, jeżeli prowadzona jest dla nieruchomości
- b. imię, nazwisko oraz numer uprawnień zawodowych kierownika prac geodezyjnych
- c. tytuł mapy wskazujący cel opracowania
- d. nazwa gminy

Pytanie **22**Punkty maks.:
1,00

Dokumenty i materiały przeznaczone dla podmiotu, na rzecz którego wykonawca prac geodezyjnych wykonał prace geodezyjne, sporządzane w postaci nieelektronicznej opatruje się klauzulą urzędową zawierającą:

Wybierz wszystkie poprawne:

- a. datę przyjęcia operatu technicznego do zasobu
- b. sumę kontrolną dokumentu elektronicznego według algorytmu SHA-2 (SHA-256)
- c. podpis osoby reprezentującej organ prowadzący zasób
- d. identyfikator ewidencyjny operatu technicznego

Pytanie **23**Punkty maks.:
1,00

Przewodniczący komisji kwalifikacyjnej wyznacza termin i miejsce przeprowadzenia części sprawdzającej postępowania kwalifikacyjnego w terminie do:

Wybierz wszystkie poprawne:

- a. 6 tygodni od dnia wszczęcia postępowania kwalifikacyjnego
- b. 1 miesiąca od dnia wszczęcia postępowania kwalifikacyjnego
- c. 4 tygodni od dnia wszczęcia postępowania kwalifikacyjnego
- d. 30 dni od dnia wszczęcia postępowania kwalifikacyjnego

Pytanie **24**Punkty maks.:
1,00

Przez rejestr publiczny rozumie się między innymi:

Wybierz wszystkie poprawne:

- a. spis służący do realizacji zadań publicznych, prowadzony przez podmiot publiczny
- b. wykaz służący do realizacji zadań publicznych, prowadzony przez podmiot publiczny
- c. ewidencję służącą do realizacji zadań publicznych, prowadzoną przez podmiot publiczny
- d. rejestr służący do realizacji zadań publicznych, prowadzony przez podmiot publiczny

Pytanie **25**Punkty maks.:
1,00

Władzę ustawodawczą w Rzeczypospolitej Polskiej sprawują:

Wybierz wszystkie poprawne:

- a. Senat
- b. Rada Ministrów
- c. Sejm
- d. Sądy

Pytanie **26**Punkty maks.:
1,00

Wykonywanie samodzielnych funkcji w dziedzinie geodezji i kartografii to między innymi:

Wybierz wszystkie poprawne:

- a. wykonywanie czynności technicznych związanych z rozgraniczaniem nieruchomości
- b. wykonywanie czynności administracyjnych związanych z rozgraniczaniem nieruchomości

- c. kierowanie pracami geodezyjnymi i kartograficznymi, podlegającymi zgłoszeniu do organu SGiK
- d. pełnienie funkcji inspektora nadzoru z zakresu geodezji i kartografii

Pytanie **27**

Punkty maks.:
1,00

Modyfikacji współrzędnych punktów granicznych dokonuje się, jeżeli odchyłka wyrażona przez pierwiastek z sumy kwadratów różnic między dotychczasowymi współrzędnymi punktu granicznego i współrzędnymi tego punktu jest:

Wybierz wszystkie poprawne:

- a. większa niż 0,15 m
- b. mniejsza niż 0,15 m
- c. równa 0,15 m
- d. większa niż 0,10 m

Pytanie **28**

Punkty maks.:
1,00

Pracownik organu administracji publicznej podlega wyłączeniu od udziału w postępowaniu w sprawie:

Wybierz wszystkie poprawne:

- a. powinowatych do drugiego stopnia
- b. w której był biegłym
- c. osoby związanej z nim z tytułu kurateli
- d. w której był przedstawicielem jednej ze stron

Pytanie **29**

Punkty maks.:
1,00

Postępowanie administracyjne może być wszczęte:

Wybierz wszystkie poprawne:

- a. z urzędu
- b. na żądanie strony
- c. na żądanie sądu
- d. na żądanie organu odwoławczego

Pytanie **30**

Punkty maks.:
1,00

Przedmiotem geodezyjnego pomiaru wysokościowego w przypadku podziemnych szczegółów terenowych są dostępne do pomiaru:

Wybierz wszystkie poprawne:

- a. załamania poziome osi przewodów sieci uzbrojenia terenu
- b. dolne krawędzie rur ochronnych kabli
- c. przekroje poprzeczne ulic urządzonych
- d. dna studzienek kanalizacyjnych

Pytanie **31**

Punkty maks.:
1,00

Grunt zajęty przez ciek naturalny:

Wybierz wszystkie poprawne:

- a. stanowi odrębną działkę ewidencyjną niezależnie od tego, czy wody w tym cieku płyną korytem naturalnym, czy korytem uregulowanym odkrytym lub zakrytym
- b. stanowi odrębną działkę ewidencyjną jeśli wody w tym cieku płyną korytem uregulowanym odkrytym
- c. stanowi odrębną działkę ewidencyjną jeśli wody w tym cieku płyną korytem naturalnym
- d. nie stanowi odrębnej działki ewidencyjnej niezależnie od tego, czy wody w tym cieku płyną korytem naturalnym, czy korytem uregulowanym odkrytym lub zakrytym

Pytanie **32**

Punkty maks.:
1,00

Wykaz zmian danych ewidencyjnych, zgodnie z rozporządzeniem w sprawie ewidencji gruntów i budynków, zawiera:

Wybierz wszystkie poprawne:

- a. nazwę gminy
- b. oznaczenie księgi wieczystej
- c. numer uprawnień zawodowych kierownika prac geodezyjnych

- d. stan dotychczasowy

Pytanie **33**

Punkty maks.:
1,00

Karę dyscyplinarną „nagana” uważa się za niebyłą:

Wybierz wszystkie poprawne:

- a. po upływie 5 lat od uprawomocnienia się orzeczenia
- b. po upływie 1 roku od uprawomocnienia się orzeczenia
- c. po upływie 3 lat od uprawomocnienia się orzeczenia
- d. po upływie 2 lat od uprawomocnienia się orzeczenia

Pytanie **34**

Punkty maks.:
1,00

Wzory klauzul urzędowych, którymi opatruje się dokumenty i materiały przeznaczone dla podmiotu, na rzecz którego wykonawca prac geodezyjnych wykonał prace geodezyjne:

Wybierz wszystkie poprawne:

- a. określone są przez właściwy organ obsługujący zgłoszenie prac geodezyjnych
- b. nie są określone przepisem prawa
- c. określone są przez Głównego Geodetę Kraju
- d. określone są w załączniku do rozporządzenia w sprawie organizacji i trybu prowadzenia państwowego zasobu geodezyjnego i kartograficznego

Pytanie **35**

Punkty maks.:
1,00

Właściwość miejscową organu administracji publicznej w sprawach dotyczących nieruchomości ustala się według:

Wybierz wszystkie poprawne:

- a. miejsca zamieszkania właściciela nieruchomości
- b. miejsca pobytu strony zainteresowanej
- c. zgodnego ustalenia stron
- d. miejsca położenia nieruchomości

Pytanie **36**

Punkty maks.:
1,00

Poprzez pojęcie tyczenia rozumiemy:

Wybierz wszystkie poprawne:

- a. zespół czynności polegających na wyznaczeniu i oznaczeniu położenia w terenie elementów niezbędnych do realizacji projektu obiektu budowlanego
- b. czynności zmierzające do opracowania współrzędnych punktów geodezyjnych
- c. postawienie pikiet z wbiciem palika drewnianego
- d. wskazanie w terenie punktów mające na celu pokazanie usytuowania obiektu /ów

Pytanie **37**

Punkty maks.:
1,00

Metadane zbiorów stanowiących infrastrukturę informacji przestrzennej obejmują informacje dotyczące między innymi:

Wybierz wszystkie poprawne:

- a. organów administracji odpowiedzialnych za tworzenie, aktualizację i udostępnianie zbiorów oraz usług danych przestrzennych
- b. pełnych danych kontaktowych do administratorów zbiorów
- c. ograniczeń powszechnego dostępu do zbiorów oraz usług danych przestrzennych
- d. warunków uzyskania dostępu do zbiorów i ich wykorzystania

Pytanie **38**

Punkty maks.:
1,00

Główny Geodeta Kraju:

Wybierz wszystkie poprawne:





- a. kontroluje przebieg prac w zakresie krajowej infrastruktury informacji przestrzennej
- b. dokonuje z innymi organami wiodącymi uzgodnień mających na celu zapewnienie zgodności infrastruktury pod względem tematycznym
- c. sporządza projekty informacji dotyczące funkcjonowania infrastruktury informacji przestrzennej
- d. sporządza projekty sprawozdań dotyczące funkcjonowania infrastruktury informacji przestrzennej

Pytanie **39**

Punkty maks.:
1,00

Które znaki kartograficzne stanowią obiekty bazy geodezyjnej ewidencji sieci uzbrojenia terenu (GESUT):

Wybierz wszystkie poprawne:

- a. 
- b. 
- c. 
- d. 

Pytanie **40**

Punkty maks.:
1,00

Rzeczpospolita Polska:

Wybierz wszystkie poprawne:

- a. strzeże niepodległości i nienaruszalności swojego terytorium, zapewnia wolności i prawa człowieka i obywatela oraz bezpieczeństwo obywateli, strzeże dziedzictwa narodowego oraz zapewnia ochronę środowiska, kierując się zasadą zrównoważonego rozwoju
- b. zapewnia wolność prasy i innych środków społecznego przekazu
- c. chroni własność i prawo dziedziczenia
- d. przestrzega wiążącego ją prawa międzynarodowego

Pytanie **41**

Punkty maks.:
1,00

Podstawową skalą mapy zasadniczej jest skala:

Wybierz wszystkie poprawne:

- a. 1:500
- b. 1:1000
- c. 1:10 000
- d. 1:250

Pytanie **42**

Punkty maks.:
1,00

Które z wymienionych obiektów nie należą do kategorii obiektów topograficznych (BDOT500) "rzeźba terenu":

Wybierz wszystkie poprawne:

- a. skarpa umocniona
- b. rów melioracyjny
- c. pikieta naturalna
- d. ostroga

Pytanie **43**

Punkty maks.:
1,00

Trwała stabilizacja punktów granicznych może nastąpić:

Wybierz wszystkie poprawne:

- a. w każdym przypadku
- b. na wniosek kierownika prac geodezyjnych
- c. na koszt zainteresowanych podmiotów
- d. z inicjatywy zainteresowanych podmiotów

Pytanie **44**

Punkty maks.:
1,00

Ewidencja materiałów zasobu zawiera:

Wybierz wszystkie poprawne:

- a. datę przyjęcia materiału do zasobu
- b. określenie formatu danych materiału zasobu
- c. informację o dostępie do materiału zasobu
- d. położenie przestrzenne obszaru, którego dotyczy materiał zasobu

Organem nadzoru geodezyjnego i kartograficznego między innymi jest:

Wybierz wszystkie poprawne:

Pytanie **45**Punkty maks.:
1,00

- a. marszałek województwa
- b. wojewoda
- c. Główny Geodeta Kraju
- d. starosta

Pytanie **46**Punkty maks.:
1,00

Materiały przyjęte do zasobu w postaci nieelektronicznej przetwarzają się do dokumentu elektronicznego zapisanego w formacie PDF:

Wybierz wszystkie poprawne:

- a. w terminie 30 dni od uzyskania pozytywnego protokołu weryfikacji
- b. niezwłocznie
- c. w terminie 14 dni od uzyskania pozytywnego protokołu weryfikacji
- d. w terminie 7 dni od uzyskania pozytywnego protokołu weryfikacji

Pytanie **47**Punkty maks.:
1,00

Przedsiębiorca podpisuje skorygowany protokół kontroli w terminie :

Wybierz wszystkie poprawne:

- a. niezwłocznie
- b. 7 dni od dnia jego doręczenia
- c. 7 dni roboczych od dnia jego doręczenia
- d. 14 dni od dnia jego doręczenia

Pytanie **48**Punkty maks.:
1,00

Na kim spoczywa odpowiedzialność m.in. za wybór stosowanych w pomiarach metod i zapewnienie wymaganej dokładności:

Wybierz wszystkie poprawne:

- a. na geodecie uprawnionym
- b. na osobie wykonującej pomiary geodezyjne
- c. na kierowniku prac geodezyjnych
- d. na wykonawcy prac geodezyjnych

Pytanie **49**Punkty maks.:
1,00

Ukształtowanie niwelety podłużnej i przekrojów poprzecznych dojazdów oraz dojazdów do budowli rolniczych powinny zapewniać:

Wybierz wszystkie poprawne:

- a. odpowiednie usytuowanie wylotów wentylacyjnych
- b. odpowiednią powierzchnię strefy pożarowej
- c. spływ ścieków bytowych
- d. spływ wód opadowych

Pytanie **50**Punkty maks.:
1,00

Usytuowanie obiektu inżynierskiego w terenie:

Wybierz wszystkie poprawne:

- a. powinno uwzględniać warunki miejscowego planu zagospodarowania przestrzennego
- b. powinno uwzględniać warunki decyzji o warunkach zabudowy i zagospodarowania terenu
- c. powinno być dostosowane do przebiegu drogi
- d. powinno uwzględniać warunki decyzji o ustaleniu lokalizacji autostrad płatnych

Pytanie **51**Punkty maks.:
1,00

Ocenę przydatności użytkowej materiałów zasobu przeprowadza:

Wybierz wszystkie poprawne:

- a. powołana przez organ prowadzący zasób komisja
- b. starosta
- c. geodeta powiatowy

- d. powiatowy ośrodek dokumentacji geodezyjnej i kartograficznej w uzgodnieniu z wojewódzkim inspektorem nadzoru geodezyjnego i kartograficznego

Pytanie **52**Punkty maks.:
1,00

W przypadku tworzenia nowej gminy, pełnomocnika do spraw utworzenia nowej gminy wyznacza:




Wybierz wszystkie poprawne:

- a. Prezes Rady Ministrów
- b. wojewoda
- c. regionalna izba obrachunkowa
- d. minister właściwy do spraw administracji publicznej

Pytanie **53**Punkty maks.:
1,00

Który obiekt przedstawia plac gier i zabaw:

Wybierz wszystkie poprawne:

- a. 
- b. 
- c. 
- d. wszystkie odpowiedzi są poprawne

Pytanie **54**Punkty maks.:
1,00

Sposób i tryb przeprowadzania gleboznawczej klasyfikacji gruntów oraz urzędową tabelę klas gruntów określa:

Wybierz wszystkie poprawne:

- a. Główny Geodeta Kraju w drodze zarządzenia
- b. minister właściwy do spraw rolnictwa i rozwoju wsi w porozumieniu z ministrem do spraw budownictwa, zagospodarowania przestrzennego i mieszkalnictwa w drodze rozporządzenia
- c. minister właściwy do spraw administracji publicznej w porozumieniu z ministrem właściwy do spraw rolnictwa i rozwoju wsi w drodze rozporządzenia
- d. Rada Ministrów w drodze rozporządzenia

Pytanie **55**Punkty maks.:
1,00

Wniosek o udostępnienie danych z państwowego rejestru granic i powierzchni jednostek podziałów terytorialnych kraju składa się do:

Wybierz wszystkie poprawne:

- a. Głównego Geodety Kraju
- b. marszałka województwa
- c. wojewody
- d. starosty

Pytanie **56**Punkty maks.:
1,00

Kto posługuje się dokumentem stwierdzającym tożsamość innej osoby albo jej prawa majątkowe lub dokument taki kradnie lub go przywłaszcza:

Wybierz wszystkie poprawne:

- a. podlega grzywnie, karze pozbawienia wolności albo pozbawienia wolności do lat 5
- b. podlega karze ograniczenia wolności albo pozbawienia wolności do lat 2
- c. podlega karze pozbawienia wolności od roku do 5 lat
- d. podlega grzywnie, karze ograniczenia wolności albo pozbawienia wolności do lat 2

Pytanie **57**Punkty maks.:
1,00

W bazie BDOT500 gromadzi się informacje dotyczące:

Wybierz wszystkie poprawne:

- a. rzeźby terenu

- b. wód
- c. budynków projektowanych
- d. sieci uzbrojenia terenu

Pytanie **58**

Punkty maks.:
1,00

Wójt prowadzi sprawy z zakresu geodezji i kartografii - powierzone mu przez starostę na wniosek gminy - przy pomocy:

Wybierz wszystkie poprawne:

- a. naczelnika wydziału geodezji i kartografii
- b. geodety gminnego wchodzącego w skład urzędu gminy
- c. naczelnika referatu geodezji i kartografii
- d. geodety powiatowego

Pytanie **59**

Punkty maks.:
1,00

Ochrona znaków geodezyjnych polega na:

Wybierz wszystkie poprawne:

- a. wykonywaniu przeglądu znaków
- b. wykonywaniu konserwacji znaków
- c. doręczeniu właścicielowi nieruchomości zawiadomienia o umieszczeniu znaku na nieruchomości
- d. ustawieniu urządzeń zabezpieczających

Pytanie **60**

Punkty maks.:
1,00

Podstawą do wyłączenia materiałów zasobu z zasobu jest:

Wybierz wszystkie poprawne:

- a. akceptacja protokołu, zawierającego wyniki oceny przydatności materiałów zasobu, przez osobę reprezentującą organ prowadzący zasób
- b. wniosek wykonawcy prac geodezyjnych
- c. akceptacja protokołu weryfikacji wyników zgłoszonych prac geodezyjnych przez osobę reprezentującą organ prowadzący zasób
- d. zgoda Głównego Geodety Kraju