



Wydział Test

Pytanie 1

Punkty: 1,00

Zarządzenia Prezesa Rady Ministrów:

Wybierz wszystkie poprawne:

- a. maja charakter wewnętrzny
- b. nie mogą stanowić podstawy decyzji wobec obywateli
- c. mogą stanowić podstawy decyzji wobec osób prawnych
- d. są wydawane tylko na podstawie ustawy

Pytanie 2

Punkty: 1,00

Dotychczasowy atrybut określający błąd położenia punktu granicznego (BPP) staje się:

Wybierz wszystkie poprawne:

- a. pozostaje bez zmian
- b. atrybutem określającym sposób pozyskania danych o punkcie granicznym
- c. atrybutem określającym źródło danych o położeniu punktu granicznego
- d. atrybutem określającym spełnienie przez punkt wymaganych standardów dokładnościowych

Pytanie 3

Punkty: 1,00

Materiał gromadzony w państwowym zasobie geodezyjnym i kartograficznym nadawany jest identyfikator składający się z:

Wybierz wszystkie poprawne:

- a. czterech członów oddzielonych kropkami
- b. dwóch członów oddzielonych kropkami
- c. pięciu członów oddzielonych kropkami
- d. trzech członów oddzielonych kropkami

Pytanie 4

Punkty: 1,00

Oświadczenie woli złożone przez osobę jest nieważne:

Wybierz wszystkie poprawne:

- a. gdy zostanie wycofane przez tą osobę do 14 dni od jego złożenia
- b. gdy zostanie złożone ustnie bez świadków
- c. gdy zostało złożone przez osobę, która z jakichkolwiek powodów znajdowała się w stanie wyłączającym świadome albo swobodne powzięcie decyzji i wyrażenie woli. Dotyczy to w szczególności choroby psychicznej, niedorozwoju umysłowego albo innego, chociażby nawet przemijającego, zaburzenia czynności psychicznych.
- d. gdy zostanie złożone drugiej stronie za jej zgodą dla pozorów

Pytanie 5

Punkty: 1,00

Kogo zawiadamia wykonawca prac geodezyjnych o zakończeniu prac geodezyjnych:

Wybierz wszystkie poprawne:

- a. dyrektora wydziału geodezji i kartografii
- b. geodetę powiatowego
- c. kierownika powiatowego ośrodka dokumentacji geodezyjno-kartograficznej
- d. organ Służby Geodezyjnej i Kartograficznej, do którego zostały zgłoszone prace geodezyjne

Pytanie 6

Punkty: 1,00

Co rozumie się pod pojęciem interoperacyjności zbiorów i usług danych przestrzennych?

Wybierz wszystkie poprawne:

- a. współdziałanie usług danych przestrzennych z jednorazową interwencją manualną
- b. opisane metadanymi zbiory danych przestrzennych
- c. możliwość łączenia zbiorów danych przestrzennych
- d. współdziałanie usług danych przestrzennych bez powtarzalnej interwencji manualnej

Pytanie **7**

Punkty: 1,00

Pomiar kontrolny przy wykonywaniu pomiarów z wykorzystaniem kinematycznych technik satelitarnych GNSS wykonuje się:

Wybierz wszystkie poprawne:

- a. na dwóch punktach osnowy wysokościowej w odległości nie większej niż 5 km od punktów będących przedmiotem pomiaru
- b. przed rozpoczęciem pomiarów
- c. przynajmniej raz dziennie
- d. na punkcie o znanych współrzędnych

Pytanie **8**

Punkty: 1,00

Operat techniczny zaewidencjonowany w roku 1982 pod numerem 113 w powiatowym zasobie geodezyjnym i kartograficznym (lubartowskim-kod TERYT 0608) ma nadany numer ewidencyjny:

Wybierz wszystkie poprawne:

- a. 1982.P.0608.113
- b. P.0608.113.1982
- c. P.0608.1982.113
- d. P.LUBART.1982.113

Pytanie **9**

Punkty: 1,00

Organami administracji miar są:

Wybierz wszystkie poprawne:

- a. dyrektorzy wojewódzkich urzędów miar
- b. Prezes Głównego Urzędu Miar
- c. dyrektorzy okręgowych urzędów miar
- d. dyrektorzy regionalnych urzędów miar

Pytanie **10**

Punkty: 1,00

Mapa zasadnicza to wielkoskalowe opracowanie kartograficzne, zawierające informacje o przestrzennym usytuowaniu:

Wybierz wszystkie poprawne:

- a. urządzeń budowlanych
- b. punktów osnowy pomiarowej
- c. konturów użytków gruntowych
- d. sieci uzbrojenia terenu

Pytanie **11**

Punkty: 1,00

W skład operatu technicznego nie wchodzi:

Wybierz wszystkie poprawne:

- a. zawiadomienie o zakończeniu pracy geodezyjnej lub kartograficznej
- b. dziennik niwelacji
- c. poświadczony za zgodność z oryginałem kopie protokołu klasyfikacyjnego
- d. sprawozdanie techniczne

Pytanie **12**

Punkty: 1,00

W przypadku, gdy dla danego obiektu bazy BDOT500 dopuszcza się reprezentację geometryczną obiektu za pomocą punktu albo poligonu, reprezentację punktową stosuje się:

Wybierz wszystkie poprawne:

- a. jeżeli średnica obiektu lub jego wymiary są mniejsze niż 0,75 m lub równe 0,75 m
- b. jeżeli średnica obiektu lub jego wymiary są mniejsze niż 0,50 m lub równe 0,50 m
- c. jeżeli średnica obiektu lub jego wymiary są mniejsze niż 0,65 m lub równe 0,65 m
- d. jeżeli średnica obiektu lub jego wymiary są mniejsze niż 0,25 m lub równe 0,25 m

Pytanie **13**

Punkty: 1,00

Wzory klauzul urzędowych, którymi opatruje się dokumenty i materiały przeznaczone dla podmiotu, na rzecz którego wykonawca prac geodezyjnych wykonał prace geodezyjne:

Wybierz wszystkie poprawne:

- a. określone są przez Głównego Geodetę Kraju
- b. określone są w załączniku do rozporządzenia w sprawie organizacji i trybu prowadzenia państwowego zasobu geodezyjnego i kartograficznego
- c. nie są określone przepisem prawa
- d. określone są przez właściwy organ obsługujący zgłoszenie prac geodezyjnych

Pytanie **14**

Punkty: 1,00

Wyniki ustaleń przebiegu granic działek ewidencyjnych wykonawca utrwała:

Wybierz wszystkie poprawne:

- a. na szkicu porównania z terenem
- b. w protokole
- c. na szkicu ustalenia granic działek ewidencyjnych
- d. na aktualnej mapie ewidencyjnej

Pytanie **15**

Punkty: 1,00

Do zadań starosty należy :

Wybierz wszystkie poprawne:

- a. monitorowanie zmian w sposobie użytkowania gruntów
- b. ochrona znaków geodezyjnych
- c. koordynacja usytuowania projektowanych sieci uzbrojenia terenu
- d. analiza zmian w strukturze agrarnej

Pytanie **16**

Punkty: 1,00

Wykaz zmian danych ewidencyjnych, zgodnie z rozporządzeniem w sprawie ewidencji gruntów i budynków, zawiera:

Wybierz wszystkie poprawne:

- a. stan dotychczasowy
- b. nazwę gminy
- c. oznaczenie księgi wieczystej
- d. numer uprawnień zawodowych kierownika prac geodezyjnych

Pytanie **17**

Punkty: 1,00

Organy administracji publicznej obowiązane są załatwiać sprawy bez zbędnej zwłoki:

Wybierz wszystkie poprawne:

- a. gdy wymaga tego interes strony
- b. tak, ale tylko w ściśle określonych przypadkach
- c. zawsze
- d. nigdy

Pytanie **18**

Punkty: 1,00

Operat techniczny zaewidencjonowany w roku 2018 pod numerem 2 w wojewódzkim zasobie geodezyjnym i kartograficznym (lubelskim-kod TERYT 06) ma nadany numer ewidencyjny:

Wybierz wszystkie poprawne:

- a. W.LUB.2018.2
- b. 2018.W.LUB.2
- c. LUB.W.2018.2
- d. W.06.2018.2

Pytanie **19**

Punkty: 1,00

Wymiaru sprawiedliwości w Rzeczypospolitej Polskiej nie sprawują:

Wybierz wszystkie poprawne:

- a. samorządowe kolegia odwoławcze
- b. zgromadzenie narodowe
- c. sądy administracyjne
- d. sądy powszechne

Pytanie **20**

Punkty: 1,00

Termin uważa się za zachowany, jeżeli przed jego upływem pismo zostało:

Wybierz wszystkie poprawne:

- a. wysłane w formie dokumentu elektronicznego do organu administracji publicznej, a nadawca otrzymał urzędowe poświadczenie odbioru
- b. złożone przez osobę pozbawioną wolności w administracji zakładu karnego
- c. nadane w polskiej placówce pocztowej operatora wyznaczonego w rozumieniu ustawy z dnia 23 listopada 2012 r. – Prawo pocztowe albo placówce pocztowej operatora świadczącego pocztowe usługi powszechne w innym państwie członkowskim Unii Europejskiej, Konfederacji Szwajcarskiej albo państwie członkowskim Europejskiego Porozumienia o Wolnym Handlu (EFTA) – stronie umowy o Europejskim Obszarze Gospodarczym
- d. złożone w polskim urzędzie konsularnym

Pytanie **21**

Punkty: 1,00

Mapa zasadnicza udostępniana jest z państwowego zasobu geodezyjnego i kartograficznego w postaci:

Wybierz wszystkie poprawne:

- a. rastrowej
- b. wektorowej
- c. drukowanej
- d. dowolnej

Pytanie **22**

Punkty: 1,00

Działki ewidencyjne położone w granicach jednego obrębu ewidencyjnego i będące przedmiotem identycznych praw i odpowiadających im udziałów tworzą:

Wybierz wszystkie poprawne:

- a. obręb ewidencyjny
- b. jedno gospodarstwo rolne
- c. jednostkę rejestrową gruntów
- d. jednostkę ewidencyjną

Pytanie **23**

Punkty: 1,00

Ewidencja gruntów i budynków obejmuje między innymi informacje:

Wybierz wszystkie poprawne:

- a. o objęcia gruntu formą ochrony przyrody
- b. o wartości katastralnej nieruchomości
- c. o położeniu gruntów
- d. dotyczące właścicieli nieruchomości

Pytanie **24**

Punkty: 1,00

Jeżeli organ Służby Geodezyjnej i Kartograficznej nie uwzględni stanowiska wykonawcy prac geodezyjnych:

Wybierz wszystkie poprawne:

- a. wydaje decyzję o przyjęciu wyników zgłoszonych prac do państwowego zasobu geodezyjnego i kartograficznego
- b. wydaje postanowienie o odmowie przyjęcia do państwowego zasobu geodezyjnego i kartograficznego wyników zgłoszonych prac
- c. wydaje decyzję administracyjną o odmowie przyjęcia do państwowego zasobu geodezyjnego i kartograficznego wyników zgłoszonych prac
- d. wzywa wykonawcę prac geodezyjnych do usunięcia nieprawidłowości i uchybień

Pytanie **25**

Punkty: 1,00

Wypisy i wyrisy:

Wybierz wszystkie poprawne:

- a. udostępnia się w postaci dokumentu elektronicznego lub w postaci papierowej
- b. udostępnia się wyłącznie w postaci papierowej
- c. nie podlegają udostępnieniu

- d. udostępnia się wyłącznie w postaci dokumentu elektronicznego

Pytanie **26**

Punkty: 1,00

Danymi ewidencyjnymi dotyczącymi budynku nie są:

Wybierz wszystkie poprawne:

- a. informacja o materiale, z którego zbudowane są zewnętrzne ściany budynku
- b. numer rejestru zabytków
- c. łączne pole powierzchni użytkowej lokali niewyodrębnionych
- d. rok zakończenia budowy

Pytanie **27**

Punkty: 1,00

Do sporządzania mapy do celów projektowych wykonawca prac geodezyjnych wykorzystuje:

Wybierz wszystkie poprawne:

- a. wyniki wykonanych pomiarów
- b. opracowania planistyczne
- c. inne dokumenty lub informacje dotyczące obszaru projektowanego zamierzenia budowlanego lub terenów sąsiednich, jeżeli mają znaczenie dla zamierzenia budowlanego
- d. materiały udostępnione z zasobu

Pytanie **28**

Punkty: 1,00

Droga powiatowa (w rozumieniu ustawy o drogach publicznych) powinna spełniać wymagania techniczne i użytkowe określone dla następujących klas:

Wybierz wszystkie poprawne:


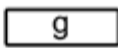



- a. GP
- b. G
- c. Z
- d. L

Pytanie **29**

Punkty: 1,00

Który znak kartograficzny przedstawia zasuwę lub zawór:

Wybierz wszystkie poprawne:

- a.  
- b. 
- c. 
- d. 

Pytanie **30**

Punkty: 1,00

Przedmiotem geodezyjnego pomiaru wysokościowego w przypadku podziemnych szczegółów terenowych są dostępne do pomiaru:

Wybierz wszystkie poprawne:

- a. przekroje poprzeczne ulic urządzonych
- b. załamania poziome osi przewodów sieci uzbrojenia terenu
- c. dolne krawędzie rur ochronnych kabli
- d. dna studzienek kanalizacyjnych

Pytanie **31**

Punkty: 1,00

Uchwalanie studium uwarunkowań i kierunków zagospodarowania przestrzennego gminy:

Wybierz wszystkie poprawne:

- a. należy do zadań gminy, realizowanych w uzgodnieniu z wojewodą
- b. należy do zadań zleconych gminie z zakresu administracji rządowej
- c. należy do zadań własnych gminy
- d. należy do zadań gminy, realizowanych w uzgodnieniu z marszałkiem województwa

Pytanie **32**

Punkty: 1,00

Przy przeprowadzaniu modernizacji ewidencji gruntów i budynków, każdy, czyjego interesu prawnego dotyczą dane ujawnione w projekcie operatu opisowo-kartograficznego może zgłaszać uwagi do projektu:

Wybierz wszystkie poprawne:

- a. po otrzymaniu decyzji
- b. w terminie 30 dni od dnia ogłoszenia w dzienniku urzędowym województwa
- c. w okresie wyłożenia projektu operatu opisowo-kartograficznego do wglądu
- d. po ogłoszeniu w Biuletynie Informacji Publicznej na stronie podmiotowej starostwa

Pytanie **33**

Punkty: 1,00

Kto posługuje się dokumentem stwierdzającym tożsamość innej osoby albo jej prawa majątkowe lub dokument taki kradnie lub go przywłaszcza:

Wybierz wszystkie poprawne:

- a. podlega grzywnie, karze ograniczenia wolności albo pozbawienia wolności do lat 2
- b. podlega grzywnie, karze pozbawienia wolności albo pozbawienia wolności do lat 5
- c. podlega karze pozbawienia wolności od roku do 5 lat
- d. podlega karze ograniczenia wolności albo pozbawienia wolności do lat 2

Pytanie **34**

Punkty: 1,00

Organy administracji geodezyjnej i kartograficznej obowiązane są przekazywać urzędom statystycznym elektroniczne wykazy oddanych do użytku budynków, sporządzone na podstawie ewidencji gruntów i budynków:

Wybierz wszystkie poprawne:

- a. w każdym półroczu – w terminie 14 dni po każdym półroczu
- b. w każdym kwartale – w terminie 21 dni po każdym kwartale
- c. w każdym kwartale – w terminie 14 dni po każdym kwartale
- d. w każdym roku kalendarzowym – w terminie do 31 stycznia następnego roku kalendarzowego

Pytanie **35**

Punkty: 1,00

Które z wymienionych obiektów należą do kategorii obiektów topograficznych (BDOT500) "wody":

Wybierz wszystkie poprawne:

- a. most
- b. przepust
- c. molo
- d. jaz

Pytanie **36**

Punkty: 1,00

Wynikiem części wstępnej postępowania kwalifikacyjnego dotyczącego nabycia uprawnień zawodowych w dziedzinie geodezji i kartografii, z pominięciem osób zainteresowanych, o których mowa w art. 44 ust. 3 oraz art. 44a ust. 1 i 3 ustawy Prawo geodezyjne i kartograficzne, jest rozstrzygnięcie o:

Wybierz wszystkie poprawne:

- a. dopuszczeniu warunkowym osoby zainteresowanej do części sprawdzającej postępowania kwalifikacyjnego
- b. odroczonym dopuszczeniu osoby zainteresowanej do części sprawdzającej postępowania kwalifikacyjnego
- c. dopuszczeniu osoby zainteresowanej do części sprawdzającej postępowania kwalifikacyjnego
- d. niedopuszczeniu osoby zainteresowanej do części sprawdzającej postępowania kwalifikacyjnego

Pytanie **37**

Punkty: 1,00

Do Rady Infrastruktury Informacji Przestrzennej należy między innymi:

Wybierz wszystkie poprawne:

- a. opiniowanie projektów aktów prawnych na wniosek ministra właściwego w sprawach budownictwa, planowania i zagospodarowania przestrzennego oraz mieszkalnictwa
- b. występowanie z inicjatywami dotyczącymi usprawnienia infrastruktury pod względem organizacyjnym i technicznym oraz rozszerzenia jej zakresu tematycznego
- c. opiniowanie powołania wiceprzewodniczącego Rady

- d. opiniowanie powołania przewodniczącego Rady

Pytanie **38**

Punkty: 1,00

Do dróg krajowych zalicza się:

Wybierz wszystkie poprawne:

- a. drogi stanowiące ciągi obwodnicowe dużych aglomeracji miejskich
- b. drogi ekspresowe
- c. drogi alternatywne dla autostrad płatnych
- d. drogi międzynarodowe

Pytanie **39**

Punkty: 1,00

Do gruntów zabudowanych i zurbanizowanych nie należą:

Wybierz wszystkie poprawne:

- a. nieużytki, oznaczone symbolem - N
- b. tereny mieszkaniowe, oznaczone symbolem - B
- c. użytki kopalne, oznaczone symbolem - K
- d. grunty przeznaczone pod budowę linii kolejowych, oznaczone symbolem - Tp

Pytanie **40**

Punkty: 1,00

Z państwowego zasobu geodezyjnego i kartograficznego udostępnia się:

Wybierz wszystkie poprawne:

- a. kopie materiałów zasobu
- b. oryginał materiału zasobu, w miejscu jego przechowywania w obecności pracownika wyznaczonego przez organ prowadzący zasób, w przypadku materiałów zasobu w postaci niefizycznej
- c. wyłącznie kopie materiałów zasobu
- d. oryginały materiału zasobu poza miejsce jego przechowywania, jeżeli jest to niezbędne do wykonania zadań publicznych określonych przez ustawy

Pytanie **41**

Punkty: 1,00

Od orzeczeń wojewódzkiej komisji dyscyplinarnej orzekającej w sprawach odpowiedzialności zawodowej w dziedzinie geodezji i kartografii stronom służy odwołanie do:

Wybierz wszystkie poprawne:

- a. ministra właściwego w sprawach budownictwa, planowania i zagospodarowania przestrzennego oraz mieszkalnictwa
- b. Głównego Geodety Kraju za pośrednictwem wojewódzkiej komisji dyscyplinarnej, która wydała zaskarżoną decyzję
- c. Odwoławczej Komisji Dyscyplinarnej za pośrednictwem wojewódzkiej komisji dyscyplinarnej, która wydała zaskarżoną decyzję
- d. właściwego miejscowo wojewody za pośrednictwem wojewódzkiej komisji dyscyplinarnej, która wydała zaskarżoną decyzję

Pytanie **42**

Punkty: 1,00

Materiały przyjęte do zasobu w postaci niefizycznej przetwarzają się do dokumentu elektronicznego zapisanego w formacie PDF:

Wybierz wszystkie poprawne:

- a. niezwłocznie
- b. w terminie 30 dni od uzyskania pozytywnego protokołu weryfikacji
- c. w terminie 7 dni od uzyskania pozytywnego protokołu weryfikacji
- d. w terminie 14 dni od uzyskania pozytywnego protokołu weryfikacji

Pytanie **43**

Punkty: 1,00

Rozgraniczenie nieruchomości prowadzone w trybie administracyjnym ma na celu między innymi:

Wybierz wszystkie poprawne:

- a. wyeliminowanie sporu granicznego, co do przebiegu ich granic
- b. utrwalenie ustalonych punktów granicznych na gruncie
- c. sporządzenie odpowiednich dokumentów

- d. ustalenie przebiegu ich granic przez określenie położenia punktów i linii granicznych

Pytanie **44**

Punkty: 1,00

Organ prowadzący państwowy zasób geodezyjny i kartograficzny nie pobiera opłat za udostępnianie zbiorów danych:

Wybierz wszystkie poprawne:

- a. państwowego rejestru granic i powierzchni jednostek podziałów terytorialnych krajów
- b. ortofotomapy
- c. zawartych w bazie danych obiektów ogólnogeograficznych
- d. zawartych w bazie danych GESUT

Pytanie **45**

Punkty: 1,00

Do pomiaru kontrolnego z wykorzystaniem technik satelitarnych GNSS można wykorzystać:

Wybierz wszystkie poprawne:

- a. punkty opisujące zapory wodne
- b. punkt osnowy geodezyjnej
- c. punkt osnowy pomiarowej
- d. punkty opisujące użytki gruntowe

Pytanie **46**

Punkty: 1,00

W przypadku udostępniania materiałów zasobu w związku ze zgłoszeniem prac geodezyjnych klauzula urzędowa jest równoważna z:

Wybierz wszystkie poprawne:

- a. kwalifikowaną pieczęcią elektroniczną organu prowadzącego zasób
- b. podpisem odręcznym osoby reprezentującej organ prowadzący zasób
- c. kwalifikowanym podpisem elektronicznym osoby reprezentującej organ prowadzącym zasób
- d. decyzją administracyjną o przyjęciu materiału do zasobu

Pytanie **47**

Punkty: 1,00

Kierownicy jednostek organizacyjnych przeprowadzają przegląd materiałów w celu ustalenia, czy spełniają one ustawowe przesłanki ochrony :

Wybierz wszystkie poprawne:

- a. nie rzadziej niż raz na 5 lat
- b. nie rzadziej niż raz na kwartał
- c. codziennie
- d. nie rzadziej niż raz na rok

Pytanie **48**

Punkty: 1,00

Mapę porównania z terenem należy obligatoryjnie wykonać w przypadku:

Wybierz wszystkie poprawne:

- a. wykonywania geodezyjnych pomiarów sytuacyjnych i wysokościowych, których celem jest sporządzenie mapy do celów projektowych
- b. badania treści wpisów w księdze wieczystej
- c. wykonywania geodezyjnych pomiarów sytuacyjnych i wysokościowych, których celem jest geodezyjna inwentaryzacja budynku
- d. zakładania osnowy pomiarowej

Pytanie **49**

Punkty: 1,00

Podstawą oznaczenia nieruchomości w księdze wieczystej są:

Wybierz wszystkie poprawne:

- a. informacje zawarte w dokumentach archiwalnych
- b. żadne z wymienionych
- c. dane katastru nieruchomości
- d. dane pozyskane od dotychczasowych właścicieli

Pytanie **50**

Punkty: 1,00

Ze względu na wymaganą dokładność określenia położenia punktów szczegółów terenowych wyróżnia się I, II i III grupę szczegółów terenowych, do grupy I nie są zaliczone szczegóły:

Wybierz wszystkie poprawne:

- a. naziemne obiekty budowlane i urządzenia budowlane, w tym elementy sieci uzbrojenia terenu
- b. znaki geodezyjne
- c. znaki i punkty graniczne
- d. kontury użytków gruntowych oraz odkrywki glebowe na potrzeby gleboznawczej klasyfikacji gruntów

Pytanie **51**

Punkty: 1,00

Inwestycję celu publicznego lokalizuje się:

Wybierz wszystkie poprawne:

- a. na podstawie miejscowego planu zagospodarowania przestrzennego
- b. na podstawie uchwały rady gminy w uzgodnieniu z marszałkiem województwa
- c. na podstawie uchwały rady gminy w uzgodnieniu z wojewodą
- d. na podstawie uchwały rady gminy

Pytanie **52**

Punkty: 1,00

Kto jest organem wyższego stopnia w rozumieniu KPA w stosunku do Starosty w postępowaniu scaleniowym?

Wybierz wszystkie poprawne:

- a. Wojewoda
- b. Główny Geodeta Kraju
- c. Marszałek województwa
- d. SKO

Pytanie **53**

Punkty: 1,00

Do podstawowych obowiązków kierownika budowy należy:

Wybierz wszystkie poprawne:

- a. potwierdzanie faktycznie wykonanych robót budowlanych
- b. zapewnienie geodezyjnego wytyczenia obiektu
- c. kontrolowanie rozliczeń budowy na żądanie inwestora
- d. prowadzenie dokumentacji budowy

Pytanie **54**

Punkty: 1,00

Znak kartograficzny "teren zalesiony" stosuje się na mapie zasadniczej do obszaru porośniętego roślinnością leśną o powierzchni:

Wybierz wszystkie poprawne:

- a. co najmniej 0,10 ha
- b. co najmniej 0,10 a
- c. co najmniej 0,01 ha
- d. co najmniej 1 ha

Pytanie **55**

Punkty: 1,00

Dane dotyczące punktów podstawowych osnów geodezyjnych, grawimetrycznych i magnetycznych, gromadzone w bazie danych państwowego rejestru podstawowych osnów geodezyjnych, grawimetrycznych i magnetycznych, obejmują co najmniej:

Wybierz wszystkie poprawne:

- a. typ stabilizacji
- b. opisy topograficzne
- c. numer
- d. stan znaku

Pytanie **56**

Punkty: 1,00

Mapa zasadnicza może być prowadzona w postaci wektorowej lub w postaci rastrowej uzupełnianej systematycznie danymi wektorowymi, na zasadach stosowanych przed dniem 1 stycznia 2014 r. w terminie:

Wybierz wszystkie poprawne:

- a. do dnia 1 stycznia 2022 r.

- b. do dnia 1 stycznia 2023 r.
- c. do dnia 31 grudnia 2023 r.
- d. do dnia 31 grudnia 2022 r.

Pytanie **57**

Punkty: 1,00

Zaliczenie do kategorii dróg gminnych następuje :

Wybierz wszystkie poprawne:

- a. w drodze uchwały rady gminy, po zasięgnięciu opinii właściwego zarządu powiatu
- b. w drodze uchwały rady gminy, po zasięgnięciu opinii właściwego wojewody
- c. w drodze uchwały zarządu gminy, po zasięgnięciu opinii właściwego starosty
- d. w drodze uchwały zarządu gminy

Pytanie **58**

Punkty: 1,00

Wydanie przez Radę Ministrów rozporządzenia o podziale gminy poprzedza:

Wybierz wszystkie poprawne:

- a. przeprowadzenie przez zainteresowane rady gmin konsultacji z mieszkańcami
- b. uzyskanie opinii wojewody
- c. zasięgnięcie przez właściwego ministra do spraw administracji publicznej opinii zainteresowanych rad gmin
- d. uzyskanie opinii marszałka województwa

Pytanie **59**

Punkty: 1,00

Numery działek ewidencyjnych, które w wyniku zmiany granic obrębów znalazły się w granicach innego obrębu ewidencyjnego oznacza się:

Wybierz wszystkie poprawne:

- a. w postaci ułamków zwykłych, utworzonych w wyniku dodania do mianowników ułamków zwykłych, którymi dotychczas były oznaczone te działki, stałej wartości, stanowiącej krotność liczby 1000, niewykorzystanej dotychczas do numeracji działek ewidencyjnych w tym obrębie
- b. kolejnymi liczbami naturalnymi po najwyższym wykorzystanym numerze działki ewidencyjnej w obrębie ewidencyjnym
- c. ułamków zwykłych, utworzonych w wyniku dodania do liczników ułamków zwykłych, którymi dotychczas były oznaczone te działki, stałej wartości, stanowiącej krotność liczby 1000
- d. kolejnymi liczbami naturalnymi po dowolnym wykorzystanym numerze działki ewidencyjnej w obrębie ewidencyjnym

Pytanie **60**

Punkty: 1,00

Organy Służby Geodezyjnej i Kartograficznej prowadzą między innymi następujące rejestry publiczne:

Wybierz wszystkie poprawne:

- a. ewidencja miejscowości, ulic i adresów
- b. krajowy rejestr urzędowy podziału terytorialnego kraju
- c. państwowy rejestr granic i powierzchni jednostek podziałów terytorialnych kraju
- d. rejestr cen i wartości nieruchomości