



Wydział Test

Pytanie 1

Punkty maks.:
1,00

Właściciel nieruchomości, na której znajdują się znaki geodezyjne jest obowiązany:

Wybierz wszystkie poprawne:

- a. niezwłocznie zawiadomić właściwego starostę o zagrożeniu przez nie bezpieczeństwem życia
- b. nie dokonywać czynności powodujących zniszczenie tych znaków
- c. niezwłocznie zawiadomić właściwego marszałka o przemieszczeniu tych znaków
- d. niezwłocznie zawiadomić właściwego marszałka o uszkodzeniu tych znaków

Pytanie 2

Punkty maks.:
1,00

W przypadku, gdy dla danego obiektu bazy BDOT500 dopuszcza się reprezentację geometryczną obiektu za pomocą punktu albo poligonu, reprezentację punktową stosuje się:

Wybierz wszystkie poprawne:

- a. jeżeli średnica obiektu lub jego wymiary są mniejsze niż 0,25 m lub równe 0,25 m
- b. jeżeli średnica obiektu lub jego wymiary są mniejsze niż 0,75 m lub równe 0,75 m
- c. jeżeli średnica obiektu lub jego wymiary są mniejsze niż 0,65 m lub równe 0,65 m
- d. jeżeli średnica obiektu lub jego wymiary są mniejsze niż 0,50 m lub równe 0,50 m

Pytanie 3

Punkty maks.:
1,00

Drogowy obiekt inżynierski oznacza:

Wybierz wszystkie poprawne:

- a. obiekt mostowy
- b. konstrukcję oporową
- c. przepust
- d. tunel

Pytanie 4

Punkty maks.:
1,00

Materiały przyjęte do zasobu w postaci elektronicznej przetwarzają się niezwłocznie do dokumentu elektronicznego zapisanego w formacie:

Wybierz wszystkie poprawne:

- a. uzgodnionym z wykonawcą prac geodezyjnych
- b. gml
- c. pdf
- d. shp

Pytanie 5

Punkty maks.:
1,00

Nie można wszczynać postępowania dyscyplinarnego w sprawie odpowiedzialności zawodowej w dziedzinie geodezji i kartografii, jeżeli od popełnienia czynu upłynęły:

Wybierz wszystkie poprawne:

- a. cztery lata
- b. pięć lat
- c. trzy lata
- d. dwa lata

Pytanie 6

Punkty maks.:
1,00

Władzę wykonawczą w Rzeczypospolitej Polskiej sprawują:

Wybierz wszystkie poprawne:

- a. sądy
- b. Prezydent Rzeczypospolitej Polskiej
- c. Sejm
- d. Rada Ministrów

Źródłami powszechnie obowiązującego prawa są:

Pytanie **7**Punkty maks.:
1,00

Wybierz wszystkie poprawne:

- a. zarządzenia
- b. ustawy
- c. udzielane przez organy pełnomocnictwa
- d. rozporządzenia

Pytanie **8**Punkty maks.:
1,00

Jakie obiekt przedstawia poniższy znak kartograficzny:



Wybierz wszystkie poprawne:

- a. punkt graniczny stabilizowany
- b. punkt graniczny niestabilizowany
- c. punkt graniczny pośredni niestabilizowany
- d. punkt pośredni granicy państwa stabilizowany trwale

Pytanie **9**Punkty maks.:
1,00

W przypadku wzajemnego przecinania się gruntów zajętych pod linie kolejowe, drogi publiczne lub kanały przy ustalaniu granic działek ewidencyjnych stosuje się następujące zasady:

Wybierz wszystkie poprawne:

- a. linie kolejowe wybudowane nad powierzchnią gruntu dzielą drogi publiczne wybudowane nad powierzchnią gruntu na odrębne działki ewidencyjne
- b. kryte kanały i rurociągi dzielą linie kolejowe oraz drogi publiczne na odrębne działki ewidencyjne
- c. drogi wewnętrzne dzielą drogi publiczne na odrębne działki ewidencyjne
- d. drogi wyższej kategorii wybudowane na powierzchni gruntu dzielą drogi niższej kategorii wybudowane na powierzchni gruntu na odrębne działki ewidencyjne

Pytanie **10**Punkty maks.:
1,00

Faktyczne granice pasów południkowych w układzie PL-2000 wyznacza się:

Wybierz wszystkie poprawne:

- a. wzdłuż granic jednostek administracyjnych szczebla powiatowego
- b. żadne z powyższych
- c. wzdłuż granic jednostek administracyjnych szczebla wojewódzkiego
- d. wzdłuż trzech pasów południkowych o rozciągłości równej 4° długości geodezyjnej każdy

Pytanie **11**Punkty maks.:
1,00

Przedmiotem geodezyjnego pomiaru wysokościowego w przypadku podziemnych szczegółów terenowych są dostępne do pomiaru:

Wybierz wszystkie poprawne:

- a. przekroje poprzeczne ulic urządzonych
- b. dolne krawędzie rur ochronnych kabli
- c. dna studzienek kanalizacyjnych
- d. załamania poziome osi przewodów sieci uzbrojenia terenu

Pytanie **12**Punkty maks.:
1,00

Organy Służby Geodezyjnej i Kartograficznej prowadzą między innymi następujące rejestry publiczne:

Wybierz wszystkie poprawne:

- a. państwowy rejestr granic i powierzchni jednostek podziałów terytorialnych kraju
- b. ewidencja miejscowości, ulic i adresów
- c. krajowy rejestr urzędowy podziału terytorialnego kraju
- d. rejestr cen i wartości nieruchomości

Wynikiem części wstępnej postępowania kwalifikacyjnego dotyczącego nabycia uprawnień zawodowych w dziedzinie geodezji i kartografii, z pominięciem osób zainteresowanych, o których mowa w art. 44 ust. 3 oraz art. 44a ust. 1 i 3 ustawy Prawo geodezyjne i kartograficzne, jest rozstrzygnięcie o:

Pytanie **13**Punkty maks.:
1,00

Wybierz wszystkie poprawne:

- a. odroczonym dopuszczeniu osoby zainteresowanej do części sprawdzającej postępowania kwalifikacyjnego
- b. dopuszczeniu osoby zainteresowanej do części sprawdzającej postępowania kwalifikacyjnego
- c. dopuszczeniu warunkowym osoby zainteresowanej do części sprawdzającej postępowania kwalifikacyjnego
- d. niedopuszczeniu osoby zainteresowanej do części sprawdzającej postępowania kwalifikacyjnego

Pytanie **14**Punkty maks.:
1,00

Ewidencja materiałów zasobu zawiera:

Wybierz wszystkie poprawne:

- a. położenie przestrzenne obszaru, którego dotyczy materiał zasobu
- b. datę przyjęcia materiału do zasobu
- c. informację o dostępie do materiału zasobu
- d. określenie formatu danych materiału zasobu

Pytanie **15**Punkty maks.:
1,00

Osoba, której odebrano uprawnienia zawodowe w dziedzinie geodezji i kartografii może ubiegać się o ponowne ich uzyskanie po upływie:

Wybierz wszystkie poprawne:

- a. 2 lat od dnia ich odebrania
- b. 1 roku od dnia ich odebrania
- c. 3 lat od dnia ich odebrania
- d. 5 lat od dnia ich odebrania

Pytanie **16**Punkty maks.:
1,00

W toku postępowania administracyjnego organ wydaje:

Wybierz wszystkie poprawne:

- a. orzeczenia
- b. zaświadczenia
- c. decyzje
- d. postanowienia

Pytanie **17**Punkty maks.:
1,00

Treść mapy ewidencyjnej stanowią:

Wybierz wszystkie poprawne:

- a. punkty graniczne
- b. nazwy ulic i placów
- c. kontury budynków
- d. punkty osnowy geodezyjnej

Pytanie **18**Punkty maks.:
1,00

Zakres treści protokołu sporządzanego przez organ nadzoru geodezyjnego i kartograficznego w wyniku kontroli działalności przedsiębiorcy (wykonawcy prac geodezyjnych i kartograficznych), określa następujący akt prawny:

Wybierz wszystkie poprawne:

- a. ustawa o swobodzie działalności gospodarczej
- b. ustawa – Prawo przedsiębiorców
- c. ustawa o kontroli w administracji rządowej
- d. ustawa – Prawo geodezyjne i kartograficzne

Pytanie **19**Punkty maks.:
1,00

Do wykonywania geodezyjnych pomiarów sytuacyjnych i wysokościowych z wykorzystaniem technik satelitarnych GNSS wykorzystuje się:

Wybierz wszystkie poprawne:

- a. tylko system stacji referencyjnych ASG-EUPOS

- b. dowolny system stacji referencyjnych
- c. systemy stacji referencyjnych, jeżeli dane określające położenie tych stacji włączone zostały do zasobu, a serwisy tych systemów zapewniają osiągnięcie określonych przepisami dokładności określenia położenia szczegółów terenowych
- d. system stacji referencyjnych ASG-EUPOS

Pytanie **20**

Punkty maks.:
1,00

Zawieszenie postępowania administracyjnego następuje w formie:

Wybierz wszystkie poprawne:

- a. postanowienia
- b. decyzji
- c. zarządzenia
- d. uchwały

Pytanie **21**

Punkty maks.:
1,00

Mapa do celów projektowych jest:

Wybierz wszystkie poprawne:

- a. wykonana z wykorzystaniem wyników pomiarów geodezyjnych
- b. wykonana z wykorzystaniem materiałów archiwalnych
- c. podstawą do sporządzenia projektu zagospodarowania działki lub terenu
- d. opracowaniem kartograficznym

Pytanie **22**

Punkty maks.:
1,00

Ewidencja miejscowości, ulic i adresów zawiera informacje o:

Wybierz wszystkie poprawne:

- a. ulicach
- b. punktach adresowych
- c. placach
- d. miejscowościach

Pytanie **23**

Punkty maks.:
1,00

Czy treść ugody zawartej między stronami w trakcie postępowania rozgraniczeniowego zawiera się w protokole granicznym?

Wybierz wszystkie poprawne:

- a. tak
- b. nie, chyba że ugoda zawarta została w terminie późniejszym niż spisanie protokołu
- c. tak, ale tylko w przypadku rozgraniczania nieruchomości stanowiących własność Skarbu Państwa
- d. nie

Pytanie **24**

Punkty maks.:
1,00

Organ przeprowadza rozgraniczenie nieruchomości:

Wybierz wszystkie poprawne:

- a. z urzędu
- b. z urzędu przy scalaniu gruntów
- c. na wniosek strony
- d. wyłącznie na wniosek strony

Pytanie **25**

Punkty maks.:
1,00

Identyfikator 'zbioru danych przestrzennych':

Wybierz wszystkie poprawne:

- a. nadawany jest w momencie ujawniania tego zbioru w ewidencji zbiorów i usług danych przestrzennych objętych infrastrukturą informacji przestrzennej
- b. odpowiada numerowi porządkowemu pod którym ujawniony został ten zbiór w ewidencji zbiorów i danych przestrzennych

- c. składa się z przestrzeni nazw oraz numeru porządkowego, pod którym ujawniony został ten zbiór w ewidencji zbiorów i danych przestrzennych
- d. odpowiada kodowi przestrzeni nazw

Pytanie **26**Punkty maks.:
1,00

Pola powierzchni użytków gruntowych i konturów klasyfikacyjnych obliczone na podstawie wyników geodezyjnych pomiarów sytuacyjnych w granicach działki działki ewidencyjnej:

Wybierz wszystkie poprawne:

- a. wykazuje się z taką samą precyzją zapisu jak pole powierzchni działki ewidencyjnej
- b. wyrównuje się do pola powierzchni konturu klasyfikacyjnego
- c. wykazuje się z precyzją zapisu większą niż pole powierzchni działki ewidencyjnej
- d. wyrównuje się do pola powierzchni tej działki

Pytanie **27**Punkty maks.:
1,00

Notariusze przekazują właściwemu staroście odpisy aktów notarialnych, które zawierają przeniesienie, zmianę, zrzeczenie się albo ustanowienie praw do nieruchomości w terminie :


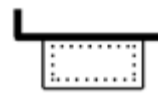

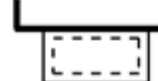
Wybierz wszystkie poprawne:

- a. 14 dni od dnia, w którym dokumenty te wywołują skutki prawne
- b. niezwłocznie, jednak nie później niż 30 dni od dnia, w którym dokumenty te wywołują skutki prawne
- c. 30 dni od dnia, w którym dokumenty te wywołują skutki prawne
- d. 21 dni od dnia, w którym dokumenty te wywołują skutki prawne

Pytanie **28**Punkty maks.:
1,00

Który znak kartograficzny przedstawia taras na mapie zasadniczej:

Wybierz wszystkie poprawne:

- a. 
- b. 
- c. 
- d. 

Pytanie **29**Punkty maks.:
1,00

W skład komisji kwalifikacyjnej do spraw uprawnień zawodowych w dziedzinie geodezji i kartografii wchodzi:

Wybierz wszystkie poprawne:

- a. przedstawiciel organizacji zawodowej
- b. Główny Geodeta Kraju
- c. dwaj sekretarze komisji kwalifikacyjnej
- d. wiceprzewodniczący

Pytanie **30**Punkty maks.:
1,00

Informacjom niejawnym nadaje się klauzulę „ściśle tajne” jeżeli ich nieuprawnione ujawnienie:

Wybierz wszystkie poprawne:

- a. w istotny sposób zakłóci funkcjonowanie organów ścigania
- b. zagrazi lub może zagrazić życiu pracownikom, którzy wykonują czynności operacyjno-rozpoznawcze
- c. zagrazi lub może zagrazić życiu lub zdrowiu świadków koronnych
- d. osłabi gotowość obronną Rzeczypospolitej Polskiej

Pytanie **31**Punkty maks.:
1,00

Do jakiej kategorii obiektów topograficznych (BDOT500) należy obiekt "fontanna":

Wybierz wszystkie poprawne:

- a. sport i rekreacja
- b. budowle

- c. wody
- d. zagospodarowanie terenu

Pytanie **32**Punkty maks.:
1,00

Budowle i urządzenia ziemne oraz pojedyncze drzewa należą do:

Wybierz wszystkie poprawne:

- a. III grupy szczegółów terenowych
- b. I lub II grupy szczegółów terenowych
- c. I grupy szczegółów terenowych
- d. II grupy szczegółów terenowych

Pytanie **33**Punkty maks.:
1,00Danymi ewidencyjnymi dotyczącymi budynku nie są:

Wybierz wszystkie poprawne:

- a. numer rejestru zabytków
- b. informacja o materiale, z którego zbudowane są zewnętrzne ściany budynku
- c. łączne pole powierzchni użytkowej lokali niewyodrębnionych
- d. rok zakończenia budowy

Pytanie **34**Punkty maks.:
1,00

Geoportal infrastruktury informacji przestrzennej tworzy i utrzymuje:

Wybierz wszystkie poprawne:

- a. Minister właściwy do spraw budownictwa, planowania i zagospodarowania przestrzennego oraz mieszkalnictwa
- b. Główny Geodeta Kraju w porozumieniu z ministrem właściwym do spraw budownictwa, planowania i zagospodarowania przestrzennego oraz mieszkalnictwa
- c. właściwy miejscowo starosta
- d. Główny Geodeta Kraju

Pytanie **35**Punkty maks.:
1,00

Geodezyjny pomiar sytuacyjny wykonuje się w sposób zapewniający określenie położenia szczegółu terenowego względem punktów poziomej osnowy geodezyjnej lub pomiarowej, z dokładnością nie mniejszą niż:

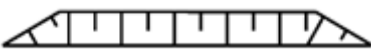
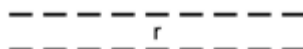


Wybierz wszystkie poprawne:

- a. 0,30 m – w przypadku szczegółów terenowych III grupy
- b. 0,10 m – w przypadku szczegółów terenowych I grupy
- c. 0,15 m – w przypadku szczegółów terenowych II grupy
- d. 0,20 m – w przypadku szczegółów terenowych II grupy

Pytanie **36**Punkty maks.:
1,00

Który znak kartograficzny przedstawia skarpe umocnioną:

Wybierz wszystkie poprawne:

- a. 
- b. 
- c. 
- d. 

Pytanie **37**Punkty maks.:
1,00

Organ prowadzący zasób:

Wybierz wszystkie poprawne:

- a. przechowuje materiały zasobu w sposób chroniący je przed zniszczeniem
- b. wykonuje na nośnikach zewnętrznych, nie rzadziej niż raz na rok, kopie bezpieczeństwa materiałów zasobu w postaci elektronicznej
- c. przechowuje materiały zasobu w sposób chroniący je przed pożarem

- d. przechowuje co najmniej dwie ostatnie kopie bezpieczeństwa materiałów zasobu

Pytanie **38**Punkty maks.:
1,00

Materiały zasobu pozyskuje się do państwowego zasobu geodezyjnego i kartograficznego w wyniku:

Wybierz wszystkie poprawne:

- a. archiwizacji materiałów zasobu
- b. realizacji prac geodezyjnych lub prac kartograficznych
- c. przyjęcia darowizny
- d. działań organu prowadzącego zasób

Pytanie **39**Punkty maks.:
1,00

Kto niszczy, uszkadza, czyni beużytecznym, ukrywa lub usuwa dokument, którym nie ma prawa wyłącznie rozporządzać:

Wybierz wszystkie poprawne:

- a. podlega grzywnie, karze ograniczenia wolności albo pozbawienia wolności do lat 2
- b. podlega grzywnie
- c. podlega grzywnie, karze ograniczenia wolności albo pozbawienia wolności do lat 5
- d. podlega karze pozbawienia wolności do lat 2

Pytanie **40**Punkty maks.:
1,00

Na treść opisu mapy do celów projektowych składają się w szczególności:

Wybierz wszystkie poprawne:

- a. położenie obszaru opracowania
- b. data oraz imię i nazwisko osoby, która opracowała mapę
- c. nazwa zleceniodawcy prac geodezyjnych
- d. skala

Pytanie **41**Punkty maks.:
1,00

W przypadku negatywnego wyniku weryfikacji przekazanych przez wykonawcę prac geodezyjnych wyników zgłoszonych prac, właściwy organ Służby Geodezyjnej i Kartograficznej:

Wybierz wszystkie poprawne:

- a. zwraca wykonawcy prac geodezyjnych przekazane przez niego wyniki zgłoszonych prac wraz z protokołem zawierającym opis stwierdzonych uchybień i nieprawidłowości
- b. nie zwraca wykonawcy prac geodezyjnych wyników zgłoszonych prac i wydaje decyzję o odmowie przyjęcia do państwowego zasobu geodezyjnego i kartograficznego
- c. nie podejmuje żadnych czynności, dopóki wykonawca prac geodezyjnych nie wystąpi o informację dotyczącą wyniku weryfikacji
- d. nie zwraca wykonawcy prac geodezyjnych wyników zgłoszonych prac i wydaje postanowienie o odmowie przyjęcia do państwowego zasobu geodezyjnego i kartograficznego

Pytanie **42**Punkty maks.:
1,00

Geodezyjny pomiar wysokościowy wykonuje się z dokładnością nie mniejszą niż:

Wybierz wszystkie poprawne:

- a. 0,05m - dla pikiet markowanych w terenie
- b. 0,1m - dla urządzeń budowlanych
- c. 0,1m - dla mierzonych elektromagnetycznie podziemnych obiektów sieci uzbrojenia terenu
- d. 0,05m - dla obiektów budowlanych

Pytanie **43**Punkty maks.:
1,00

Jaki obiekt przedstawia poniższy znak kartograficzny:



Wybierz wszystkie poprawne:

- a. przewód elektroenergetyczny wysokiego napięcia
- b. przewód elektroenergetyczny średniego napięcia
- c. przewód elektroenergetyczny najwyższego napięcia

- d. przewód elektroenergetyczny niskiego napięcia

Pytanie **44**

Punkty maks.:
1,00

O dokonanych zmianach w danych ewidencyjnych starosta, w terminie 14 dni od dokonania zmiany w ewidencji, zawiadamia:

Wybierz wszystkie poprawne:

- a. wydział ksiąg wieczystych właściwego miejscowo sądu rejonowego - w przypadku zmian danych objętych działem IV ksiąg wieczystych
- b. wydział ksiąg wieczystych właściwego miejscowo sądu rejonowego - w przypadku zmian danych objętych działem I ksiąg wieczystych
- c. organy podatkowe
- d. organy ścigania

Pytanie **45**

Punkty maks.:
1,00

Kopie materiałów zasobu udostępniane w formie dokumentów elektronicznych opatruje się klauzulą urzędową zawierającą:

Wybierz wszystkie poprawne:

- a. datę wykonania kopii materiału zasobu
- b. identyfikator ewidencyjny materiału zasobu
- c. nazwę wykonawcy prac, któremu udostępniane są kopie materiałów
- d. nazwę materiału zasobu

Pytanie **46**

Punkty maks.:
1,00

Kontrola działalności jednostki organizacyjnej, w zakresie wykonywania prac geodezyjnych, może dotyczyć:

Wybierz wszystkie poprawne:

- a. rzetelności wykonywania prac geodezyjnych
- b. zgłaszania prac geodezyjnych
- c. przekazywania do państwowego zasobu geodezyjnego i kartograficznego wyników prac geodezyjnych
- d. przestrzegania przepisów dotyczących wykonywania samodzielnych funkcji w zakresie geodezji i kartografii

Pytanie **47**

Punkty maks.:
1,00

Od orzeczeń Odwoławczej Komisji Dyscyplinarnej stronom służy odwołanie do:

Wybierz wszystkie poprawne:

- a. Głównego Geodety Kraju
- b. właściwego ze względu na miejsce zamieszkania obwinionego sądu apelacyjnego – sądu pracy i ubezpieczeń społecznych
- c. wojewódzkiego inspektora nadzoru geodezyjnego i kartograficznego
- d. właściwego ze względu na miejsce zamieszkania obwinionego wojewódzkiego sądu administracyjnego

Pytanie **48**

Punkty maks.:
1,00

Dział II-O księgi wieczystej zawiera:

Wybierz wszystkie poprawne:

- a. oznaczenie nieruchomości
- b. wpisy dotyczące własności i użytkowania wieczystego
- c. wpisy ograniczeń w rozporządzaniu prawem
- d. oznaczenie numerów działek ewidencyjnych

Pytanie **49**

Punkty maks.:
1,00

Zaliczenie do kategorii dróg wojewódzkich następuje :

Wybierz wszystkie poprawne:

- a. w drodze postanowienia Prezesa Rady Ministrów, po zasięgnięciu opinii właściwego wojewody
- b. w drodze uchwały sejmiku województwa
- c. w drodze uchwały zarządu województwa
- d. w drodze uchwały zarządu województwa, po zasięgnięciu opinii zarządu powiatu

Pytanie **50**Punkty maks.:
1,00

Wydanie przez Radę Ministrów rozporządzenia o podziale gminy poprzedza:

Wybierz wszystkie poprawne:

- a. zasięgnięcie przez właściwego ministra do spraw administracji publicznej opinii zainteresowanych rad gmin
- b. uzyskanie opinii marszałka województwa
- c. uzyskanie opinii wojewody
- d. przeprowadzenie przez zainteresowane rady gmin konsultacji z mieszkańcami

Pytanie **51**Punkty maks.:
1,00

Projekt założenia ewidencji gruntów i budynków określa w szczególności:

Wybierz wszystkie poprawne:

- a. wykaz budynków
- b. charakterystykę obiektu
- c. system, w którym prowadzona będzie ewidencja
- d. przewidywane terminy wykonania poszczególnych etapów prac

Pytanie **52**Punkty maks.:
1,00

Do gruntów rolnych zalicza się:

Wybierz wszystkie poprawne:

- a. grunty pod wodami powierzchniowymi stojącymi
- b. nieużytki
- c. grunty utrzymywane w postaci ugoru lub odłogowane
- d. grunty pod rowami

Pytanie **53**Punkty maks.:
1,00

Wypisy i wyrisy:

Wybierz wszystkie poprawne:

- a. udostępnia się wyłącznie w postaci papierowej
- b. nie podlegają udostępnieniu
- c. udostępnia się w postaci dokumentu elektronicznego lub w postaci papierowej
- d. udostępnia się wyłącznie w postaci dokumentu elektronicznego

Pytanie **54**Punkty maks.:
1,00

Operat techniczny zaewidencjonowany w roku 1982 pod numerem 113 w powiatowym zasobie geodezyjnym i kartograficznym (lubartowskim-kod TERYT 0608) ma nadany numer ewidencyjny:

Wybierz wszystkie poprawne:

- a. P.LUBART.1982.113
- b. P.0608.1982.113
- c. P.0608.113.1982
- d. 1982.P.0608.113

Pytanie **55**Punkty maks.:
1,00

Pierwszy człon identyfikatora ewidencyjnego materiału zasobu jest:

Wybierz wszystkie poprawne:

- a. identyfikatorem TERYT
- b. skrótem PL
- c. literą C, W lub P
- d. czterocyfrową liczbą

Pytanie **56**Punkty maks.:
1,00

Danymi ewidencyjnymi dotyczącymi działki ewidencyjnej są między innymi:

Wybierz wszystkie poprawne:

- a. oznaczenie dokumentów potwierdzających własność
- b. oznaczenie jednostki rejestrowej gruntów, do której należy działka ewidencyjna





- c. pole powierzchni części działki oddanej w dzierżawę
- d. numer księgi wieczystej

Pytanie **57**

Punkty maks.:
1,00

Który znak kartograficzny przedstawia szczegółową osnowę geodezyjną poziomą:

Wybierz wszystkie poprawne:

- a.  M34001Aa1-SH10010
- b.  M34001A-GF0010
- c.  M34001Aa1-SP10010
- d.  M34001A-GB0010

Pytanie **58**

Punkty maks.:
1,00

Nie mają zdolności do czynności prawnych osoby, które między innymi:

Wybierz wszystkie poprawne:

- a. nie ukończyły lat dwunastu
- b. nie ukończyły lat trzynastu
- c. są ubezwłasnowolnione częściowo
- d. są ubezwłasnowolnione całkowicie

Pytanie **59**

Punkty maks.:
1,00

Właściwość miejscową organu administracji publicznej w sprawach dotyczących nieruchomości ustala się według:

Wybierz wszystkie poprawne:

- a. zgodnego ustalenia stron
- b. miejsca pobytu strony zainteresowanej
- c. miejsca położenia nieruchomości
- d. miejsca zamieszkania właściciela nieruchomości

Pytanie **60**

Punkty maks.:
1,00

Do podstawowych obowiązków kierownika budowy należy:

Wybierz wszystkie poprawne:

- a. prowadzenie dokumentacji budowy
- b. kontrolowanie rozliczeń budowy na żądanie inwestora
- c. zapewnienie geodezyjnego wytyczenia obiektu
- d. potwierdzanie faktycznie wykonanych robót budowlanych