



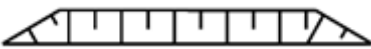


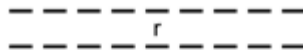
## Wydział Test

Pytanie 1

Punkty maks.:  
1,00

Który znak kartograficzny przedstawia skarpę umocnioną:

Wybierz wszystkie poprawne:

- a. 
- b. 
- c. 
- d. 

Pytanie 2

Punkty maks.:  
1,00

Szkiec tyczenia zawiera m.in.

Wybierz wszystkie poprawne:

- a. wyniki pomiaru kontrolnego wytyczonych elementów obiektów
- b. rysunek obiektów podlegających wytyczeniu
- c. podpis kierownika budowy
- d. podpis inwestora

Pytanie 3

Punkty maks.:  
1,00

Do podstawowych obowiązków kierownika budowy należy:

Wybierz wszystkie poprawne:

- a. kontrolowanie rozliczeń budowy na żądanie inwestora
- b. potwierdzanie faktycznie wykonanych robót budowlanych
- c. prowadzenie dokumentacji budowy
- d. zapewnienie geodezyjnego wytyczenia obiektu

Pytanie 4

Punkty maks.:  
1,00

Na kim spoczywa odpowiedzialność m.in. za wybór stosowanych w pomiarach metod i zapewnienie wymaganej dokładności:

Wybierz wszystkie poprawne:

- a. na kierowniku prac geodezyjnych
- b. na geodecie uprawnionym
- c. na osobie wykonującej pomiary geodezyjne
- d. na wykonawcy prac geodezyjnych

Pytanie 5

Punkty maks.:  
1,00

Z państwowego zasobu geodezyjnego i kartograficznego udostępnia się:

Wybierz wszystkie poprawne:

- a. kopie materiałów zasobu
- b. wyłącznie kopie materiałów zasobu
- c. oryginały materiału zasobu poza miejsce jego przechowywania, jeżeli jest to niezbędne do wykonania zadań publicznych określonych przez ustawy
- d. oryginał materiału zasobu, w miejscu jego przechowywania w obecności pracownika wyznaczonego przez organ prowadzący zasób, w przypadku materiałów zasobu w postaci niefizycznej

Pytanie 6

Punkty maks.:  
1,00

Wznowienie znaków granicznych to:

Wybierz wszystkie poprawne:

- a. to samo co wyznaczenie punktów granicznych ujawnionych uprzednio w EGiB
- b. to samo co rozgraniczenie
- c. to odrębna procedura, służąca przywróceniu na gruncie znaków uprzednio ustalonych, które zostały przesunięte, uszkodzone lub zniszczone

- d. to samo co podział nieruchomości

Pytanie **7**

Punkty maks.:  
1,00

Działki ewidencyjne położone w granicach jednego obrębu ewidencyjnego i będące przedmiotem identycznych praw i odpowiadających im udziałów tworzą:

Wybierz wszystkie poprawne:

- a. jednostkę rejestrową gruntów
- b. jednostkę ewidencyjną
- c. obręb ewidencyjny
- d. jedno gospodarstwo rolne

Pytanie **8**

Punkty maks.:  
1,00

Materiałom gromadzonym w państwowym zasobie geodezyjnym i kartograficznym nadawany jest identyfikator składający się z:

Wybierz wszystkie poprawne:

- a. trzech członów oddzielonych kropkami
- b. dwóch członów oddzielonych kropkami
- c. czterech członów oddzielonych kropkami
- d. pięciu członów oddzielonych kropkami

Pytanie **9**

Punkty maks.:  
1,00

Na dokumentacji projektowej będącej przedmiotem narady koordynacyjnej zamieszcza się :

Wybierz wszystkie poprawne:

- a. określenie sposobu przeprowadzenia narady koordynacyjnej
- b. informację, iż dokumentacja ta była przedmiotem narady koordynacyjnej
- c. znak sprawy zgodny z instrukcją kancelaryjną
- d. termin i miejsce narady koordynacyjnej

Pytanie **10**

Punkty maks.:  
1,00

Przez umowę o dzieło strony zobowiązują się do:

Wybierz wszystkie poprawne:

- a. terminowego wykonania dzieła
- b. przyjmujący zamówienie zobowiązuje się do wykonania oznaczonego dzieła, a zamawiający do zapłaty wynagrodzenia
- c. oszczędnego gospodarowania materiałami zakupionymi do realizacji dzieła
- d. zapewnienia odpowiedniej jakości dzieła

Pytanie **11**

Punkty maks.:  
1,00

Pracami przygotowawczymi na terenie budowy są:

Wybierz wszystkie poprawne:

- a. wykonanie niwelacji terenu
- b. wykonanie przyłączy do sieci infrastruktury technicznej na potrzeby budowy
- c. wytyczenie geodezyjne obiektów w terenie
- d. zagospodarowanie terenu budowy wraz z budową tymczasowych obiektów

Pytanie **12**

Punkty maks.:  
1,00

Zgodnie z art. 107 § 1 Kodeksu postępowania administracyjnego do elementów decyzji zaliczamy:

Wybierz wszystkie poprawne:

- a. rozstrzygnięcie
- b. oznaczenie organu administracji publicznej
- c. datę wydania
- d. podpisy stron

Przy zakładaniu poziomych osnów pomiarowych z wykorzystaniem pomiarów kąto-liniowych należy zapewnić :

Wybierz wszystkie poprawne:

Pytanie **13**Punkty maks.:  
1,00

- a. wyrównanie danych obserwacyjnych metodą najmniejszych kwadratów w układzie sieci wielorzędowej przy założeniu bezbłędności zakładanych punktów
- b. wyrównanie danych obserwacyjnych metodą najmniejszych kwadratów w układzie sieci jednorzędowej przy założeniu bezbłędności punktów nawiązania
- c. wielopunktowe nawiązanie do punktów poziomej osnowy geodezyjnej
- d. jednopunktowe nawiązanie do punktów poziomej osnowy geodezyjnej

Pytanie **14**Punkty maks.:  
1,00

Organ, który otrzymał zgłoszenie prac geodezyjnych, udostępnia kopie zbiorów danych lub innych materiałów państwowego zasobu geodezyjnego i kartograficznego:

Wybierz wszystkie poprawne:

- a. niezwłocznie, nie później niż w terminie 3 dni roboczych od dnia otrzymania opłaty
- b. niezwłocznie, nie później niż w terminie 7 dni roboczych od dnia otrzymania opłaty
- c. niezwłocznie, nie później niż w terminie 5 dni roboczych od dnia otrzymania opłaty
- d. niezwłocznie, nie później niż w terminie 10 dni roboczych od dnia otrzymania opłaty

Pytanie **15**Punkty maks.:  
1,00

Zasady i tryb wydawania aktów prawa miejscowego określa:

Wybierz wszystkie poprawne:

- a. postanowienie
- b. ustawa
- c. rozporządzenie
- d. zarządzenie

Pytanie **16**Punkty maks.:  
1,00

Aktualizacji danych ewidencji miejscowości, ulic i adresów, ich uzupełnienia lub zmiany dokonuje się z urzędu w trybie czynności materialno-technicznej, w przypadku gdy:

Wybierz wszystkie poprawne:

- a. nadano nazwę ulicy w drodze decyzji wójta
- b. został nadany nowy numer porządkowy
- c. obiekty przestrzenne ujawniane w ewidencji zakończyły swój cykl istnienia
- d. istniejąca numeracja porządkowa zawiera wady utrudniające jej wykorzystywanie

Pytanie **17**Punkty maks.:  
1,00

Operat techniczny zaewidencjonowany w roku 2018 pod numerem 2 w wojewódzkim zasobie geodezyjnym i kartograficznym (lubelskim-kod TERYT 06) ma nadany numer ewidencyjny:

Wybierz wszystkie poprawne:

- a. 2018.W.LUB.2
- b. W.06.2018.2
- c. W.LUB.2018.2
- d. LUB.W.2018.2

Pytanie **18**Punkty maks.:  
1,00

Wójt prowadzi sprawy z zakresu geodezji i kartografii - powierzone mu przez starostę na wniosek gminy - przy pomocy:

Wybierz wszystkie poprawne:

- a. geodety gminnego wchodzącego w skład urzędu gminy
- b. geodety powiatowego
- c. naczelnika referatu geodezji i kartografii
- d. naczelnika wydziału geodezji i kartografii

Pytanie **19**Punkty maks.:  
1,00

W obecnym stanie prawnym postępowanie rozgraniczeniowe w trakcie trwania postępowania scaleniowego z ustawy O scalaniu i wymianie gruntów prowadzi:

Wybierz wszystkie poprawne:

- a. żaden z nich

- b. organ prowadzący postępowanie rozgraniczeniowe z ustawy Prawo geodezyjne i kartograficzne w porozumieniu z organem prowadzącym postępowanie scaleniowe z ustawy O scalaniu i wymianie gruntów
- c. organ prowadzący postępowanie scaleniowe z ustawy O scalaniu i wymianie gruntów
- d. organ prowadzący postępowanie rozgraniczeniowe z ustawy Prawo geodezyjne i kartograficzne

Pytanie **20**

Punkty maks.:  
1,00

Do zadań gminy należy:

Wybierz wszystkie poprawne:

- a. umieszczanie i utrzymywanie w należyтым stanie tabliczek z nazwami ulic i palaców w miastach oraz innych miejscowościach na obszarze gminy
- b. ustalanie numerów porządkowych
- c. prowadzenie ewidencji nazw geograficznych
- d. prowadzenie rejestru podziału terytorialnego kraju

Pytanie **21**

Punkty maks.:  
1,00

Ostateczna decyzja o podziale nieruchomości stanowi podstawę do:

Wybierz wszystkie poprawne:

- a. ustalenia granic działki ewidencyjnej
- b. ujawnienia podziału w operacie ewidencyjnym
- c. wyznaczenia i utrwalenia na gruncie nowych punktów granicznych znakami granicznymi, według zasad określonych w przepisach dotyczących geodezji i kartografii, na wniosek właściciela lub użytkownika wieczystego nieruchomości
- d. wszystkie powyższe odpowiedzi są poprawne

Pytanie **22**

Punkty maks.:  
1,00

Układ wysokościowy PL-KRON86-NH stosuje się:

Wybierz wszystkie poprawne:

- a. nie dłużej niż do dnia 31 grudnia 2023 r.
- b. do czasu wdrożenia układu wysokościowego PL-EVRF2007-NH na obszarze całego kraju
- c. do czasu wdrożenia układu PL-1992 na obszarze całego kraju
- d. nie dłużej niż do dnia 1 stycznia 2023 r.

Pytanie **23**

Punkty maks.:  
1,00

Modyfikacji współrzędnych punktów granicznych dokonuje się, jeżeli odchyłka wyrażona przez pierwiastek z sumy kwadratów różnic między dotychczasowymi współrzędnymi punktu granicznego i współrzędnymi tego punktu jest:

Wybierz wszystkie poprawne:

- a. mniejsza niż 0,15 m
- b. większa niż 0,10 m
- c. równa 0,15 m
- d. większa niż 0,15 m

Pytanie **24**

Punkty maks.:  
1,00

Numery drogom wojewódzkim, po zaliczeniu ich do kategorii dróg publicznych, nadają:

Wybierz wszystkie poprawne:

- a. zarządy województw
- b. wojewoda w uzgodnieniu z marszałkiem województwa
- c. minister właściwy do spraw transportu
- d. Generalny Dyrektor Dróg Krajowych i Autostrad

Pytanie **25**

Punkty maks.:  
1,00

Jeżeli organ Służby Geodezyjnej i Kartograficznej nie uwzględni stanowiska wykonawcy prac geodezyjnych:

Wybierz wszystkie poprawne:

- a. wzywa wykonawcę prac geodezyjnych do usunięcia nieprawidłowości i uchybień
- b. wydaje decyzję o przyjęciu wyników zgłoszonych prac do państwowego zasobu geodezyjnego i kartograficznego

- c. wydaje decyzję administracyjną o odmowie przyjęcia do państwowego zasobu geodezyjnego i kartograficznego wyników zgłoszonych prac
- d. wydaje postanowienie o odmowie przyjęcia do państwowego zasobu geodezyjnego i kartograficznego wyników zgłoszonych prac

Pytanie **26**Punkty maks.:  
1,00

Ocenę przydatności użytkowej materiałów zasobu przeprowadza:

Wybierz wszystkie poprawne:

- a. starosta
- b. powołana przez organ prowadzący zasób komisja
- c. powiatowy ośrodek dokumentacji geodezyjnej i kartograficznej w uzgodnieniu z wojewódzkim inspektorem nadzoru geodezyjnego i kartograficznego
- d. geodeta powiatowy

Pytanie **27**Punkty maks.:  
1,00

Projekt statutu gminy powyżej 300 000 mieszkańców podlega uzgodnieniu:

Wybierz wszystkie poprawne:

- a. z Prezydentem Rzeczypospolitej Polskiej na wniosek Prezesa Rady Ministrów
- b. z Wojewodą
- c. z Prezydentem Rzeczypospolitej Polskiej
- d. z Prezesem Rady Ministrów na wniosek ministra właściwego do spraw administracji publicznej

Pytanie **28**Punkty maks.:  
1,00

Wymiary przekrojów obiektów geodezyjnej ewidencji sieci uzbrojenia terenu (średnica, wymiar poziomy i pionowy) podaje się w:

Wybierz wszystkie poprawne:

- a. mm
- b. w mm lub w cm w zależności od obiektu
- c. cm
- d.  $\mu\text{m}$

Pytanie **29**Punkty maks.:  
1,00Do gruntów zabudowanych i zurbanizowanych nie należą:

Wybierz wszystkie poprawne:

- a. nieużytki, oznaczone symbolem - N
- b. tereny mieszkaniowe, oznaczone symbolem - B
- c. użytki kopalne, oznaczone symbolem - K
- d. grunty przeznaczone pod budowę linii kolejowych, oznaczone symbolem - Tp

Pytanie **30**Punkty maks.:  
1,00

Znak kartograficzny "teren zalesiony" stosuje się na mapie zasadniczej do obszaru porośniętego roślinnością leśną o powierzchni:

Wybierz wszystkie poprawne:

- a. co najmniej 1 ha
- b. co najmniej 0,10 ha
- c. co najmniej 0,10 a
- d. co najmniej 0,01 ha

Pytanie **31**Punkty maks.:  
1,00

Danymi ewidencyjnymi dotyczącymi działki ewidencyjnej są między innymi:

Wybierz wszystkie poprawne:

- a. numer księgi wieczystej
- b. pole powierzchni części działki oddanej w dzierżawę
- c. oznaczenie dokumentów potwierdzających własność
- d. oznaczenie jednostki rejestrowej gruntów, do której należy działka ewidencyjna

Pytanie **32**

Punkty maks.:  
1,00

Dla przewodów sieci niezidentyfikowanej GESUT wyróżnia się następujące typy przewodów:

Wybierz wszystkie poprawne:

- a. wysokiego parametru
- b. niskiego parametru
- c. nie wyróżnia się typów przewodów
- d. inne

Pytanie **33**

Punkty maks.:  
1,00

Która z kar dyscyplinarnych przewidziana dla osoby wykonującej samodzielne funkcje w dziedzinie geodezji i kartografii, która wykonuje swoje zadania z naruszeniem przepisów prawa, wymieniona poniżej, nie została uwzględniona w przepisach ustawy Prawo geodezyjne i kartograficzne:

Wybierz wszystkie poprawne:

- a. upomnienie
- b. odebranie uprawnień zawodowych
- c. nagana
- d. zawieszenie możliwości wykonywania uprawnień zawodowych na okres od miesiąca do 5 lat

Pytanie **34**

Punkty maks.:  
1,00

Rozgraniczenia nieruchomości dokonują:

Wybierz wszystkie poprawne:

- a. starostowie
- b. wójtowie (burmistrzowie, prezydenci miast)
- c. geodeci posiadający odpowiednie uprawnienia
- d. sądy

Pytanie **35**

Punkty maks.:  
1,00

Metadane zbiorów stanowiących infrastrukturę informacji przestrzennej obejmują informacje dotyczące między innymi:

Wybierz wszystkie poprawne:

- a. ograniczeń powszechnego dostępu do zbiorów oraz usług danych przestrzennych
- b. warunków uzyskania dostępu do zbiorów i ich wykorzystania
- c. pełnych danych kontaktowych do administratorów zbiorów
- d. organów administracji odpowiedzialnych za tworzenie, aktualizację i udostępnianie zbiorów oraz usług danych przestrzennych

Pytanie **36**

Punkty maks.:  
1,00

Protokół ze wznowienia znaków granicznych lub wyznaczenia punktów granicznych zawiera m.in.:

Wybierz wszystkie poprawne:

- a. numery działek ewidencyjnych
- b. opis sposobu stabilizacji lub markowania punktów osnowy pomiarowej
- c. omówienie skreśleń i poprawek
- d. identyfikator obrębu ewidencyjnego

Pytanie **37**

Punkty maks.:  
1,00

Źródłami powszechnie obowiązującego prawa są:

Wybierz wszystkie poprawne:

- a. rozporządzenia
- b. udzielane przez organy pełnomocnictwa
- c. zarządzenia
- d. ustawy

Jednostki miar inne niż legalne jednostki miar mogą być stosowane na mocy porozumień międzynarodowych:

Wybierz wszystkie poprawne:

Pytanie **38**Punkty maks.:  
1,00

- a. w transporcie kolejowym
- b. w geodezji
- c. w transporcie lotniczym
- d. w transporcie morskim

Pytanie **39**Punkty maks.:  
1,00

Rada Infrastruktury Informacji Przestrzennej działa przy:

Wybierz wszystkie poprawne:

- a. Ministrem właściwym do spraw budownictwa, planowania i zagospodarowania przestrzennego oraz mieszkalnictwa
- b. Prezesie Rady Ministrów
- c. Głównym Geodetą Kraju
- d. Głównym Urzędzie Geodezji i Kartografii

Pytanie **40**Punkty maks.:  
1,00

Mapa zasadnicza udostępniana jest z państwowego zasobu geodezyjnego i kartograficznego w postaci:

Wybierz wszystkie poprawne:

- a. dowolnej
- b. wektorowej
- c. drukowanej
- d. rastrowej

Pytanie **41**Punkty maks.:  
1,00

Kto niszczy, uszkadza, czyni bezużytecznym, ukrywa lub usuwa dokument, którym nie ma prawa wyłącznie rozporządzać:

Wybierz wszystkie poprawne:

- a. podlega grzywnie
- b. podlega karze pozbawienia wolności do lat 2
- c. podlega grzywnie, karze ograniczenia wolności albo pozbawienia wolności do lat 5
- d. podlega grzywnie, karze ograniczenia wolności albo pozbawienia wolności do lat 2

Pytanie **42**Punkty maks.:  
1,00

Właściwość miejscową organu administracji publicznej w sprawach dotyczących nieruchomości ustala się według:

Wybierz wszystkie poprawne:

- a. miejsca zamieszkania właściciela nieruchomości
- b. miejsca pobytu strony zainteresowanej
- c. zgodnego ustalenia stron
- d. miejsca położenia nieruchomości

Pytanie **43**Punkty maks.:  
1,00

Droga gminna (w rozumieniu ustawy o drogach publicznych) powinna spełniać wymagania techniczne i użytkowe określone dla następujących klas:

Wybierz wszystkie poprawne:

- a. G
- b. Z
- c. GP
- d. L

Pytanie **44**Punkty maks.:  
1,00Które z wymienionych obiektów nie należą do kategorii obiektów topograficznych (BDOT500) "rzeźba terenu":

Wybierz wszystkie poprawne:

- a. ostroga
- b. rów melioracyjny
- c. pikieta naturalna

- d. skarpa umocniona

Pytanie **45**

Punkty maks.:  
1,00

Dział II-O księgi wieczystej zawiera:

Wybierz wszystkie poprawne:

- a. wpisy ograniczeń w rozporządzaniu prawem
- b. oznaczenie nieruchomości
- c. oznaczenie numerów działek ewidencyjnych
- d. wpisy dotyczące własności i użytkowania wieczystego

Pytanie **46**

Punkty maks.:  
1,00

W przypadku wzajemnego przecinania się gruntów zajętych pod linie kolejowe, drogi publiczne lub kanały przy ustalaniu granic działek ewidencyjnych stosuje się następujące zasady:

Wybierz wszystkie poprawne:

- a. drogi wewnętrzne dzielą drogi publiczne na odrębne działki ewidencyjne
- b. drogi wyższej kategorii wybudowane na powierzchni gruntu dzielą drogi niższej kategorii wybudowane na powierzchni gruntu na odrębne działki ewidencyjne
- c. kryte kanały i rurociągi dzielą linie kolejowe oraz drogi publiczne na odrębne działki ewidencyjne
- d. linie kolejowe wybudowane nad powierzchnią gruntu dzielą drogi publiczne wybudowane nad powierzchnią gruntu na odrębne działki ewidencyjne

Pytanie **47**

Punkty maks.:  
1,00

Treść mapy ewidencyjnej stanowią:

Wybierz wszystkie poprawne:

- a. punkty graniczne
- b. punkty osnowy geodezyjnej
- c. kontury budynków
- d. nazwy ulic i placów

Pytanie **48**

Punkty maks.:  
1,00

Operat techniczny zawiera:

Wybierz wszystkie poprawne:

- a. zawiadomienie o zakończeniu prac geodezyjnych
- b. dokumentację osnowy pomiarowej, jeżeli taka osnowa była założona
- c. sprawozdanie techniczne
- d. dokument obliczenia opłaty

Pytanie **49**

Punkty maks.:  
1,00

Udostępnienie materiałów zasobu odbywa się na podstawie:

Wybierz wszystkie poprawne:

- a. wniosku
- b. decyzji administracyjnej
- c. zgłoszenia prac geodezyjnych
- d. postanowienia o udostępnieniu materiałów zasobu

Pytanie **50**

Punkty maks.:  
1,00

Trwała stabilizacja punktów granicznych może nastąpić:

Wybierz wszystkie poprawne:

- a. na koszt zainteresowanych podmiotów
- b. z inicjatywy zainteresowanych podmiotów
- c. na wniosek kierownika prac geodezyjnych
- d. w każdym przypadku

Kto nie zgłasza prac geodezyjnych lub prac kartograficznych wbrew obowiązkowi, podlega karze grzywny orzekanej na podstawie przepisów:



Pytanie **51**Punkty maks.:  
1,00

Wybierz wszystkie poprawne:

- a. Kodeksu postępowania administracyjnego
- b. o postępowaniu egzekucyjnym w administracji
- c. Prawa geodezyjnego i kartograficznego
- d. o postępowaniu w sprawach o wykroczenia

Pytanie **52**Punkty maks.:  
1,00

Decyzja wydana na podstawie Kodeksu postępowania administracyjnego powinna zawierać uzasadnienie:

Wybierz wszystkie poprawne:

- a. faktyczne
- b. merytoryczne
- c. prawne
- d. wyjaśniające

Pytanie **53**Punkty maks.:  
1,00

Wrys z mapy ewidencyjnej jest fragmentem mapy ewidencyjnej zawierającym również:

Wybierz wszystkie poprawne:

- a. oznaczenie kierunku północy
- b. informację o skali mapy
- c. projektowane budynki
- d. imię i nazwisko wykonawcy prac geodezyjnych

Pytanie **54**Punkty maks.:  
1,00

Na treść opisu mapy do celów projektowych składają się w szczególności:

Wybierz wszystkie poprawne:

- a. data oraz imię i nazwisko osoby, która opracowała mapę
- b. nazwa zleceniodawcy prac geodezyjnych
- c. skala
- d. położenie obszaru opracowania

Pytanie **55**Punkty maks.:  
1,00

Kod SUKS to kod dla następującego obiektu bazy GESUT:

Wybierz wszystkie poprawne:

- a. studnia głębinowa
- b. studnia kanalizacyjna
- c. studnia zwykła
- d. kratka ściekowa

Pytanie **56**Punkty maks.:  
1,00

Organ prowadzący zasób prowadzi w postaci elektronicznej w systemie teleinformatycznym:

Wybierz wszystkie poprawne:

- a. rejestr prac geodezyjnych
- b. ewidencję materiałów zasobu
- c. ewidencję wykonawców prac geodezyjnych
- d. rejestr zawiadomień o zakończeniu prac geodezyjnych

Pytanie **57**Punkty maks.:  
1,00

Co należy do obowiązków wykonawcy prac geodezyjnych podlegających obowiązkowi zgłoszenia organowi Służby Geodezyjnej i Kartograficznej:

Wybierz wszystkie poprawne:

- a. ustanowienie legitymującego się odpowiednimi uprawnieniami zawodowymi kierownika prac geodezyjnych
- b. zgłoszenie prac geodezyjnych właściwemu organowi Służby Geodezyjnej i Kartograficznej
- c. złożenie zawiadomienia o przekazaniu wyników zgłoszonych prac, dołączając wyniki prac geodezyjnych

- d. poinformowanie wykonawców prac geodezyjnych wykonujących prace na tym samym obszarze o zakończeniu wykonywania prac geodezyjnych

Pytanie **58**

Punkty maks.:  
1,00

Kierownicy jednostek organizacyjnych przeprowadzają przegląd materiałów w celu ustalenia, czy spełniają one ustawowe przesłanki ochrony :

Wybierz wszystkie poprawne:

- a. nie rzadziej niż raz na rok
- b. nie rzadziej niż raz na kwartał
- c. nie rzadziej niż raz na 5 lat
- d. codziennie

Pytanie **59**

Punkty maks.:  
1,00

Przez rejestr publiczny rozumie się między innymi:

Wybierz wszystkie poprawne:

- a. ewidencję służącą do realizacji zadań publicznych, prowadzoną przez podmiot publiczny
- b. spis służący do realizacji zadań publicznych, prowadzony przez podmiot publiczny
- c. rejestr służący do realizacji zadań publicznych, prowadzony przez podmiot publiczny
- d. wykaz służący do realizacji zadań publicznych, prowadzony przez podmiot publiczny

Pytanie **60**

Punkty maks.:  
1,00

Materiały przyjęte do zasobu w postaci nieelektronicznej przetwarzają się do dokumentu elektronicznego zapisanego w formacie PDF:

Wybierz wszystkie poprawne:

- a. w terminie 7 dni od uzyskania pozytywnego protokołu weryfikacji
- b. w terminie 14 dni od uzyskania pozytywnego protokołu weryfikacji
- c. niezwłocznie
- d. w terminie 30 dni od uzyskania pozytywnego protokołu weryfikacji