



Wydział Test

Pytanie 1

Punkty: 1,00

Osnowa realizacyjna na obiektach budowlanych wymagających w trakcie użytkowania okresowego badania przemieszczeń obiektu i podłoża oraz odkształceń obiektu powinna być zaprojektowana:

Wybierz wszystkie poprawne:

- a. w sposób umożliwiający wykonanie pomiarów następných
- b. w sposób określony przez kierownika budowy
- c. w dowolny sposób
- d. w sposób umożliwiający wykonanie pomiaru pierwotnego

Pytanie 2

Punkty: 1,00

Nadzór nad gospodarką leśną w lasach stanowiących własność Skarbu Państwa sprawuje:

Wybierz wszystkie poprawne:

- a. Generalny Dyrektor Ochrony Środowiska
- b. minister właściwy do spraw rolnictwa i rozwoju wsi w porozumieniu z ministrem do spraw budownictwa, zagospodarowania przestrzennego i mieszkalnictwa
- c. minister właściwy do spraw środowiska
- d. minister właściwy do spraw administracji publicznej w porozumieniu z ministrem właściwy do spraw rolnictwa i rozwoju wsi

Pytanie 3

Punkty: 1,00

Źródłami danych wykorzystywanych przy zakładaniu albo modernizacji ewidencji są:

Wybierz wszystkie poprawne:

- a. dane zawarte w innych ewidencjach i rejestrach
- b. dane zawarte w dokumentach udostępnionych przez zainteresowane osoby, organy i jednostki organizacyjne
- c. wyniki pomiarów geodezyjnych lub oględzin
- d. wyniki pomiarów fotogrametrycznych

Pytanie 4

Punkty: 1,00

Mapę do celów prawnych sporządza się w skali:

Wybierz wszystkie poprawne:

- a. nie większej niż 1:5000
- b. zapewniającej czytelność rysunku mapy
- c. dostosowanej do obszaru objętego opracowaniem
- d. wszystkie odpowiedzi są poprawne

Pytanie 5

Punkty: 1,00

Odmowa włączenia do infrastruktury zbiorów i usług danych przestrzennych należących do osób trzecich następuje :

Wybierz wszystkie poprawne:

- a. w drodze decyzji Głównego Geodety Kraju
- b. w drodze decyzji właściwego wojewody
- c. w drodze decyzji właściwego organu wiodącego
- d. w drodze decyzji Prezesa Rady Ministrów

Pytanie 6

Punkty: 1,00

Przy określaniu zasięgu konturów klasyfikacyjnych kontury o powierzchni:

Wybierz wszystkie poprawne:

- a. mniejszej niż 0,10 ha włącza się do konturu przyległego
- b. mniejszej niż 0,10 ha pozostawia się bez zmian
- c. mniejszej niż 0,20 ha włącza się do konturu przyległego
- d. większej niż 0,10 ha włącza się do konturu przyległego

Pytanie **7**

Punkty: 1,00

W przypadku nieobecności adresata pismo doręcza się, za pokwitowaniem:

Wybierz wszystkie poprawne:

- a. sąsiadowi, jeżeli podejmie się oddania adresatowi
- b. dorosłemu domownikowi, jeżeli podejmie się oddania adresatowi
- c. każdej osobie
- d. każdemu domownikowi, bez względu na jego wiek

Pytanie **8**

Punkty: 1,00

Księgi wieczyste :

Wybierz wszystkie poprawne:

- a. prowadzi się w celu ustalenia stanu prawnego nieruchomości
- b. prowadzi się w celu zabezpieczenia hipoteki
- c. są zastrzeżone
- d. prowadzi się w celu ustalenia stanu faktycznego nieruchomości

Pytanie **9**

Punkty: 1,00

Uprawnienia podmiotu dotyczące możliwości wykorzystywania udostępnionych mu materiałów zasobu określa:

Wybierz wszystkie poprawne:

- a. umowa cywilnoprawna
- b. dokument o nazwie opracowanie zgłoszenia
- c. ustawa Prawo geodezyjne i kartograficzne
- d. licencja wydawana przez organ udostępniający te materiały

Pytanie **10**

Punkty: 1,00

Uzgodnieniu usytuowania projektowanych sieci uzbrojenia terenu – na naradzie koordynacyjnej zwoływanej przez starostę – podlegają sieci sytuowane między innymi:

Wybierz wszystkie poprawne:

- a. w pasach drogowych na terenie projektowanej zwartej zabudowy obszarów wiejskich
- b. w pasach drogowych na terenie istniejącej zwartej zabudowy obszarów wiejskich
- c. na obszarze luźnej zabudowy wiejskiej
- d. na obszarach miast

Pytanie **11**

Punkty: 1,00

Organ, który otrzymał zgłoszenie prac geodezyjnych udostępnia kopie zbiorów danych lub innych materiałów państwowego zasobu geodezyjnego i kartograficznego:

Wybierz wszystkie poprawne:

- a. niezwłocznie, nie później niż w terminie 10 dni roboczych od dnia otrzymania opłaty
- b. niezwłocznie, nie później niż w terminie 30 dni od otrzymania opłaty
- c. niezwłocznie, nie później niż w terminie 5 dni roboczych od dnia otrzymania opłaty
- d. niezwłocznie, nie później niż w terminie 5 dni od dnia otrzymania opłaty

Pytanie **12**

Punkty: 1,00

Dotychczasowy atrybut określający błąd położenia punktu granicznego (BPP) staje się:

Wybierz wszystkie poprawne:

- a. atrybutem określającym źródło danych o położeniu punktu granicznego
- b. pozostaje bez zmian
- c. atrybutem określającym spełnienie przez punkt wymaganych standardów dokładnościowych
- d. atrybutem określającym sposób pozyskania danych o punkcie granicznym

Pytanie **13**

Punkty: 1,00

Podanie o wznowienie postępowania wnosi się do organu administracji publicznej, który wydał w sprawie decyzję w I instancji, w terminie:

Wybierz wszystkie poprawne:

- a. dwóch miesięcy od dnia, w którym strona dowiedziała się o okoliczności stanowiącej podstawę wznowienia postępowania
- b. jednego miesiąca od dnia, w którym strona dowiedziała się o okoliczności stanowiącej podstawę wznowienia postępowania
- c. 14 dni od dnia, w którym strona dowiedziała się o okoliczności stanowiącej podstawę wznowienia postępowania
- d. trzydziestu dni od dnia, w którym strona dowiedziała się o okoliczności stanowiącej podstawę wznowienia postępowania

Pytanie **14**

Punkty: 1,00

Powiatową bazę GESUT starosta zakłada i prowadzi w drodze przetworzenia materiałów źródłowych, będących danymi i informacjami:

Wybierz wszystkie poprawne:

- a. pozyskanymi z innych rejestrów publicznych
- b. pozyskanymi od podmiotów władających sieciami uzbrojenia terenu
- c. zgromadzonymi w państwowym zasobie geodezyjnym i kartograficznym, w szczególności będącymi treścią geodezyjnej ewidencji sieci uzbrojenia terenu
- d. zgromadzonymi w państwowym zasobie geodezyjnym i kartograficznym, w szczególności będącymi treścią mapy zasadniczej oraz innych map wielkoskalowych

Pytanie **15**

Punkty: 1,00

Geodetą województwa może być osoba, która spełnia między innymi następujące wymagania:

Wybierz wszystkie poprawne:

- a. posiada uprawnienia zawodowe do wykonywania samodzielnych funkcji w dziedzinie geodezji i kartografii w zakresie 1, 2 i 3
- b. posiada dyplom ukończenia studiów wyższych
- c. legitymuje się 4-letnim pracy w organach jednostek samorządu terytorialnego
- d. korzysta z pełni praw cywilnych i obywatelskich

Pytanie **16**

Punkty: 1,00

Szczegółowe zasady wykonywania specjalistycznych prac geodezyjnych i kartograficznych, przeznaczonych na potrzeby resortów, określają:

Wybierz wszystkie poprawne:

- a. właściwi ministrowie i kierownicy urzędów centralnych w porozumieniu z Głównym Geodetą Kraju
- b. minister właściwy do spraw administracji publicznej w porozumieniu z ministrem właściwym do spraw rolnictwa i rozwoju wsi
- c. minister właściwy do spraw rolnictwa i rozwoju wsi w porozumieniu z ministrem do spraw budownictwa, zagospodarowania przestrzennego i mieszkalnictwa
- d. właściwi ministrowie w porozumieniu z Prezesem Rady Ministrów

Pytanie **17**

Punkty: 1,00

W przypadku obiektów liniowych prezentowanych na mapie zasadniczej za pomocą znaku niesymetrycznego element znaku umieszcza się:

Wybierz wszystkie poprawne:

- a. po prawej stronie linii
- b. na środku linii
- c. po lewej stronie linii
- d. w dowolnym miejscu linii

Pytanie **18**

Punkty: 1,00

Jeżeli osoba prawna nie może prowadzić swoich spraw ze względu na brak organu, sąd ustanawia dla niej:

Wybierz wszystkie poprawne:

- a. opiekuna
- b. pełnomocnika
- c. kuratora
- d. przedstawiciela

Pytanie **19**

Punkty: 1,00

Danymi ewidencyjnymi dotyczącymi punktu granicznego są:

Wybierz wszystkie poprawne:

- a. identyfikator punktu granicznego
- b. oznaczenie punktu granicznego w materiale źródłowym
- c. informacja dotycząca spełnienia standardów dokładnościowych
- d. rodzaj stabilizacji

Pytanie **20**

Punkty: 1,00

Organy władzy publicznej działają:

Wybierz wszystkie poprawne:

- a. na podstawie ugruntowanego orzecznictwa sądowego
- b. na podstawie prawa
- c. bezpośrednio, na podstawie stanowiących uchwał
- d. w granicach prawa

Pytanie **21**

Punkty: 1,00

Znak kartograficzny "zadrzewienie, zakrzewienie" stosuje się na mapie zasadniczej do obszaru porośniętego grupą drzew lub krzewów o powierzchni:

Wybierz wszystkie poprawne:

- a. co najmniej 0,10 ha
- b. co najmniej 10 ha
- c. większej niż 1 ha
- d. mniejszej niż 0,10 ha

Pytanie **22**

Punkty: 1,00

Rejestr prac geodezyjnych i kartograficznych zawiera dane określające:

Wybierz wszystkie poprawne:

- a. identyfikator wykonawcy wskazany w zgłoszeniu prac geodezyjnych
- b. cel zgłoszonych prac geodezyjnych
- c. daty doręczenia wykonawcy prac geodezyjnych protokołów weryfikacji
- d. wysokość opłaty za udostępnione materiały zasobu

Pytanie **23**

Punkty: 1,00

Ewidencja miejscowości, ulic i adresów zawiera informacje o:

Wybierz wszystkie poprawne:

- a. placach
- b. punktach adresowych
- c. ulicach
- d. miejscowościach

Pytanie **24**

Punkty: 1,00

Projektant, w trakcie realizacji budowy, ma prawo:

Wybierz wszystkie poprawne:

- a. żądania wpisem do dziennika budowy wstrzymania robót budowlanych w razie stwierdzenia możliwości powstania zagrożenia
- b. prowadzenia dokumentacji budowy
- c. sporządzić, przed rozpoczęciem budowy plan bezpieczeństwa i ochrony zdrowia
- d. wstępu na teren budowy i dokonywania zapisów w dzienniku budowy dotyczących ich realizacji

Pytanie **25**

Punkty: 1,00

Organ Służby Geodezyjnej i Kartograficznej opatruje klauzulą urzędową:

Wybierz wszystkie poprawne:

- a. materiały i zbiory danych przyjmowane do państwowego zasobu geodezyjnego i kartograficznego

- b. materiały z państwowego zasobu geodezyjnego i kartograficznego, które utraciły przydatność użytkową
- c. dokumenty i materiały przeznaczone dla podmiotu, na rzecz którego wykonawca prac geodezyjnych wykonał prace geodezyjne
- d. materiały zasobu udostępniane na wniosek oraz w związku ze zgłoszeniem prac lub jego uzupełnieniem

Pytanie **26**

Punkty: 1,00

Odmowa przyjęcia do zasobu geodezyjnego kartograficznego materiałów sporządzonych w ramach wykonanej pracy geodezyjnej przyjmuje postać:

Wybierz wszystkie poprawne:

- a. informacji na piśmie o odmowie oraz o możliwości odwołania do wojewódzkiego inspektora nadzoru geodezyjnego i kartograficznego
- b. decyzji administracyjnej o odmowie
- c. zarządzenia o odmowie
- d. informacji o odmowie oraz o przekazaniu dokumentacji do weryfikacji do wojewódzkiego inspektora nadzoru geodezyjnego i kartograficznego

Pytanie **27**

Punkty: 1,00

Wypisy i wyrysy:

Wybierz wszystkie poprawne:

- a. udostępnia się wyłącznie w postaci papierowej
- b. udostępnia się w postaci dokumentu elektronicznego lub w postaci papierowej
- c. nie podlegają udostępnieniu
- d. udostępnia się wyłącznie w postaci dokumentu elektronicznego

Pytanie **28**

Punkty: 1,00

Kto jest organem wyższego stopnia w rozumieniu KPA w stosunku do Starosty w postępowaniu scaleniowym?

Wybierz wszystkie poprawne:

- a. SKO
- b. Wojewoda
- c. Marszałek województwa
- d. Główny Geodeta Kraju

Pytanie **29**

Punkty: 1,00

Czy zaliczenie drogi do kategorii dróg gminnych wymaga podjęcia uchwały?

Wybierz wszystkie poprawne:

- a. Nie, kategoria jest zależna od treści wniosku zarządcy drogi
- b. Tak, wymaga uchwały rady gminy
- c. Tak, wymaga uchwały zarządu gminy
- d. Nie, kategoria jest nadawana w pozwoleniu na użytkowanie

Pytanie **30**

Punkty: 1,00

Trzeci człon identyfikatora ewidencyjnego materiału zasobu jest:

Wybierz wszystkie poprawne:

- a. skrótem PL
- b. kolejną liczbą naturalną w danym roku kalendarzowym
- c. czterocyfrową liczbą
- d. literą C, W lub P

Pytanie **31**

Punkty: 1,00

Identyfikator zbioru danych przestrzennych ujawniony w ewidencji zbioru i usług danych przestrzennych:

Wybierz wszystkie poprawne:

- a. składa się wyłącznie z przestrzenie nazw
- b. składa się wyłącznie z numeru porządkowego, pod którym został ujawniony w ewidencji
- c. jest niezmienny w okresie istnienia tego zbioru danych

- d. składa się z przestrzenie nazw oraz numeru porządkowego, pod którym został ujawniony ten zbiór w ewidencji

Pytanie **32**

Punkty: 1,00

Pierwszy i drugi człon identyfikatora ewidencyjnego materiału przyjętego do centralnego zasobu geodezyjnego i kartograficznego to:

Wybierz wszystkie poprawne:

- a. Litera P i identyfikator TERYT
- b. Litera P i litery PL
- c. Litera C i litery PL
- d. Litera C i identyfikator TERYT

Pytanie **33**

Punkty: 1,00

Wynikiem części wstępnej postępowania kwalifikacyjnego dotyczącego nabycia uprawnień zawodowych w dziedzinie geodezji i kartografii, z pominięciem osób zainteresowanych, o których mowa w art. 44 ust. 3 oraz art. 44a ust. 1 i 3 ustawy Prawo geodezyjne i kartograficzne, jest rozstrzygnięcie o:

Wybierz wszystkie poprawne:

- a. dopuszczeniu warunkowym osoby zainteresowanej do części sprawdzającej postępowania kwalifikacyjnego
- b. odroczonym dopuszczeniu osoby zainteresowanej do części sprawdzającej postępowania kwalifikacyjnego
- c. dopuszczeniu osoby zainteresowanej do części sprawdzającej postępowania kwalifikacyjnego
- d. niedopuszczeniu osoby zainteresowanej do części sprawdzającej postępowania kwalifikacyjnego

Pytanie **34**

Punkty: 1,00

Modyfikacji współrzędnych punktów granicznych dokonuje się, jeżeli odchyłka wyrażona przez pierwiastek z sumy kwadratów różnic między dotychczasowymi współrzędnymi punktu granicznego i współrzędnymi tego punktu jest:

Wybierz wszystkie poprawne:

- a. większa niż 0,15 m
- b. mniejsza niż 0,15 m
- c. równa 0,15 m
- d. większa niż 0,10 m

Pytanie **35**

Punkty: 1,00

Dla przewodów sieci elektroenergetycznej wyróżnia się następujące typy przewodów:

Wybierz wszystkie poprawne:



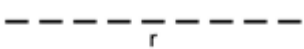

- a. najwyższego napięcia
- b. podwyższonego średniego napięcia
- c. najniższego napięcia
- d. wysokiego napięcia

Pytanie **36**

Punkty: 1,00

Który znak kartograficzny przedstawia skarpe umocnioną:

Wybierz wszystkie poprawne:

- a. 
- b. 
- c. 
- d. 

Pytanie **37**

Punkty: 1,00

Podstawą do wyłączenia materiałów zasobu z zasobu jest:

Wybierz wszystkie poprawne:

- a. wniosek wykonawcy prac geodezyjnych

- b. akceptacja protokołu weryfikacji wyników zgłoszonych prac geodezyjnych przez osobę reprezentującą organ prowadzący zasób
- c. zgoda Głównego Geodety Kraju
- d. akceptacja protokołu, zawierającego wyniki oceny przydatności materiałów zasobu, przez osobę reprezentującą organ prowadzący zasób

Pytanie **38**

Punkty: 1,00

Wywłaszczenie nieruchomości polega na :

Wybierz wszystkie poprawne:

- a. pozbawieniu prawa własności na nieruchomości
- b. pozbawieniu prawa użytkowania wieczystego na nieruchomości
- c. ograniczeniu prawa własności na nieruchomości
- d. ograniczeniu prawa użytkowania wieczystego na nieruchomości

Pytanie **39**

Punkty: 1,00

Informacje publikowane w repozytorium interoperacyjności oznaczone są w szczególności:

Wybierz wszystkie poprawne:

- a. wersją
- b. statusem obowiązywania
- c. opisem
- d. nazwą

Pytanie **40**

Punkty: 1,00

Na treść opisu mapy do celów projektowych składają się w szczególności:

Wybierz wszystkie poprawne:

- a. położenie obszaru opracowania
- b. nazwa zlecniodawcy prac geodezyjnych
- c. data oraz imię i nazwisko osoby, która opracowała mapę
- d. skala

Pytanie **41**

Punkty: 1,00

Dla każdego nowo zakładanego punktu osnowy geodezyjnej sporządza się opis topograficzny zawierający co najmniej:

Wybierz wszystkie poprawne:

- a. numer kancelaryjny
- b. szkic lokalizacyjny
- c. dane dotyczące stabilizacji
- d. współrzędne geodezyjne punktu z dokładnością do 0,001"

Pytanie **42**

Punkty: 1,00

Szkice graniczne, stanowiące integralną część protokołu ustalenia przebiegu granic działek ewidencyjnych, zawierają:

Wybierz wszystkie poprawne:

- a. podpisy osób zawiadomionych o czynnościach ustalenia granic działek ewidencyjnych
- b. informacje o spornych odcinkach granic działek ewidencyjnych
- c. numer księgi wieczystej
- d. podpis geodety uprawnionego, który sporządził szkic graniczny

Pytanie **43**

Punkty: 1,00

Organami nadzoru geodezyjnego i kartograficznego w strukturze Służby Geodezyjnej i Kartograficznej nie są:

Wybierz wszystkie poprawne:

- a. Główny Geodeta Kraju
- b. minister właściwy do spraw administracji publicznej
- c. marszałek województwa

- d. wojewoda wykonujący zadania przy pomocy wojewódzkiego inspektora nadzoru geodezyjnego i kartograficznego

Pytanie **44**

Punkty: 1,00

Jakim symbolem oznaczamy w ewidencji gruntów i budynków grunty zajęte pod cmentarze?:

Wybierz wszystkie poprawne:

- a. Tr
- b. Bz
- c. Cm
- d. Bi

Pytanie **45**

Punkty: 1,00

Główny Geodeta Kraju , tworzy i utrzymuje zintegrowany system informacji o nieruchomościach we współpracy z:

Wybierz wszystkie poprawne:

- a. Prezesem Agencji Restrukturyzacji i Modernizacji Rolnictwa
- b. ministrem właściwym do spraw rozwoju wsi
- c. ministrem właściwym do spraw finansów publicznych
- d. ministrem właściwym do spraw wewnętrznych

Pytanie **46**

Punkty: 1,00

Kiedy zakłada się osnowę realizacyjną:

Wybierz wszystkie poprawne:

- a. istniejąca pozioma osnowa geodezyjna i osnowa pomiarowa podczas realizacji inwestycji może zostać zniszczona
- b. dla potrzeb wykonania prac inwestycyjnych
- c. dokładność istniejącej poziomej osnowy geodezyjnej i osnowy pomiarowej jest zbyt niska do potrzeb inwestycji
- d. bezpośrednio z istniejącej poziomej osnowy geodezyjnej i osnowy pomiarowej nie można przeprowadzić badania osiadania obiektów budowlanych

Pytanie **47**

Punkty: 1,00

Zasady i tryb wydawania aktów prawa miejscowego określa:

Wybierz wszystkie poprawne:

- a. rozporządzenie
- b. zarządzenie
- c. ustawa
- d. postanowienie

Pytanie **48**

Punkty: 1,00

Użytki gruntowe wykazywane w ewidencji dzielą się na następujące grupy:

Wybierz wszystkie poprawne:

- a. nieużytki
- b. grunty rolne
- c. użytki rolne
- d. użytki ekologiczne

Pytanie **49**

Punkty: 1,00

Protokół ze wznowienia znaków granicznych lub wyznaczenia punktów granicznych zawiera m.in.:

Wybierz wszystkie poprawne:

- a. identyfikator obrębu ewidencyjnego
- b. omówienie skreśleń i poprawek
- c. numery działek ewidencyjnych
- d. opis sposobu stabilizacji lub markowania punktów osnowy pomiarowej

Główny Geodeta Kraju wykonuje między innymi następujące zadania:

Pytanie **50**

Punkty: 1,00

Wybierz wszystkie poprawne:

- a. zakłada i prowadzi krajową bazę geodezyjnej ewidencji sieci uzbrojenia terenu
- b. zakłada podstawowe osnowy geodezyjne
- c. przechowuje kopie zabezpieczające bazy danych, w szczególności danych ewidencji gruntów i budynków
- d. prowadzi sprawy związane z ochroną informacji niejawnych w działalności geodezyjnej i kartograficznej

Pytanie **51**

Punkty: 1,00

Materiały przyjęte do zasobu w postaci elektronicznej przetwarza się niezwłocznie do dokumentu elektronicznego zapisanego w formacie:

Wybierz wszystkie poprawne:

- a. pdf
- b. gml
- c. uzgodnionym z wykonawcą prac geodezyjnych
- d. shp

Pytanie **52**

Punkty: 1,00

Podmioty, które władają sieciami uzbrojenia terenu są obowiązane między innymi do:

Wybierz wszystkie poprawne:

- a. wydania opinii o zgodności treści utworzonej przez starostę inicjalnej bazy danych GESUT ze stanem wynikającym z dokumentacji prowadzonej przez te podmioty
- b. współdziałania ze starostami w procesie prowadzenia GESUT
- c. współdziałania ze starostami w procesie zakładania GESUT
- d. delegowania swoich przedstawicieli na narady koordynacyjne

Pytanie **53**

Punkty: 1,00

Zezwolenie zarządcy drogi, wydane w drodze decyzji administracyjnej, wymagane jest w przypadku:

Wybierz wszystkie poprawne:

- a. zajęcia pasa drogowego na cele związane z ochroną dróg
- b. zajęcia pasa drogowego na cele niezwiązane z remontem drogi
- c. zajęcia pasa drogowego na cele niezwiązane z budową drogi
- d. zajęcia pasa drogowego na cele związane z przebudową drogi

Pytanie **54**

Punkty: 1,00

Przez przetwarzanie informacji niejawnych rozumie się operacje wykonywane w odniesieniu do informacji niejawnych, w tym między innymi:

Wybierz wszystkie poprawne:

- a. ich kopiowanie
- b. ich modyfikowanie
- c. ich wytwarzanie
- d. ich przechowywanie

Pytanie **55**

Punkty: 1,00

W jakim trybie następuje aktualizacja danych ewidencji gruntów i budynków?

Wybierz wszystkie poprawne:

- a. w drodze czynności materialno-technicznej
- b. niezwłocznie
- c. w drodze decyzji administracyjnej
- d. w związku z przyjęciem operatu do zasobu

Pytanie **56**

Punkty: 1,00

Podstawową skalą mapy zasadniczej jest skala:

Wybierz wszystkie poprawne:

- a. 1:250
- b. 1:500
- c. 1:1000

- d. 1:10 000

Pytanie **57**

Punkty: 1,00

Materiałom gromadzonym w państwowym zasobie geodezyjnym i kartograficznym nadawany jest identyfikator składający się z:

Wybierz wszystkie poprawne:

- a. trzech członów oddzielonych kropkami
- b. pięciu członów oddzielonych kropkami
- c. czterech członów oddzielonych kropkami
- d. dwóch członów oddzielonych kropkami

Pytanie **58**

Punkty: 1,00

Jeżeli biegły, który bez należytego usprawiedliwienia nie stawiał się na wezwanie organu prowadzącego postępowanie, organ ten może między innymi:

Wybierz wszystkie poprawne:

- a. ponownie wezwać biegłego
- b. wyjątkowo zarządzić zatrzymanie i przymusowe doprowadzenie biegłego
- c. nałożyć karę pieniężną w wysokości 5000 zł
- d. nałożyć karę pieniężną w wysokości do 3000 zł

Pytanie **59**

Punkty: 1,00

Mapa zasadnicza może być prowadzona w postaci wektorowej lub w postaci rastrowej uzupełnianej systematycznie danymi wektorowymi, na zasadach stosowanych przed dniem 1 stycznia 2014 r. w terminie:

Wybierz wszystkie poprawne:

- a. do dnia 1 stycznia 2023 r.
- b. do dnia 31 grudnia 2022 r.
- c. do dnia 31 grudnia 2023 r.
- d. do dnia 1 stycznia 2022 r.

Pytanie **60**

Punkty: 1,00

Droga gminna (w rozumieniu ustawy o drogach publicznych) powinna spełniać wymagania techniczne i użytkowe określone dla następujących klas:

Wybierz wszystkie poprawne:

- a. L
- b. G
- c. Z
- d. GP