



## Wydział Test

Pytanie 1

Punkty maks.:  
1,00

Kto niszczy, uszkadza, czyni bezużytecznym, ukrywa lub usuwa dokument, którym nie ma prawa wyłącznie rozporządzać:

Wybierz wszystkie poprawne:


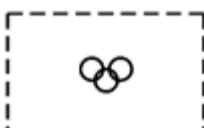

- a. podlega karze pozbawienia wolności do lat 2
- b. podlega grzywnie, karze ograniczenia wolności albo pozbawienia wolności do lat 5
- c. podlega grzywnie, karze ograniczenia wolności albo pozbawienia wolności do lat 2
- d. podlega grzywnie

Pytanie 2

Punkty maks.:  
1,00

Który obiekt przedstawia plac gier i zabaw:

Wybierz wszystkie poprawne:

- a. wszystkie odpowiedzi są poprawne
- b. 
- c. 
- d. 

Pytanie 3

Punkty maks.:  
1,00

Rozgraniczenia nieruchomości dokonują:

Wybierz wszystkie poprawne:

- a. starostowie
- b. wójtowie (burmistrzowie, prezydenci miast)
- c. sądy
- d. geodeci posiadający odpowiednie uprawnienia

Pytanie 4

Punkty maks.:  
1,00

Osoba wykonująca samodzielne funkcje w dziedzinie geodezji i kartografii ponosi odpowiedzialność dyscyplinarną:

Wybierz wszystkie poprawne:

- a. jeżeli wykonuje swoje zadania nie dochowując należytej staranności
- b. jeżeli wykonuje swoje zadania z naruszeniem przepisów prawa
- c. jeżeli od popełnienia czynu nie upłynęło 10 lat
- d. jeżeli w terminie nie przekaze materiałów do państwowego zasobu geodezyjnego i kartograficznego

Pytanie 5

Punkty maks.:  
1,00

Infrastruktura informacji przestrzennej obejmuje zbiory danych przestrzennych:

Wybierz wszystkie poprawne:

- a. utrzymywane przez osobę trzecią, której umożliwiono włączenie się do infrastruktury
- b. utrzymywane przez organ administracji lub w jego imieniu
- c. występujące w postaci analogowej
- d. odnoszące się do terytorium Rzeczypospolitej Polskiej

Pytanie 6

Punkty maks.:  
1,00

Uczestnikami procesu budowlanego są:

Wybierz wszystkie poprawne:

- a. geodeta
- b. kierownik budowy

- c. inwestor
- d. kierownik robót

Pytanie **7**

Punkty maks.:  
1,00

Wyłączenie nieruchomości polega na :

Wybierz wszystkie poprawne:

- a. pozbawieniu prawa użytkowania wieczystego na nieruchomości
- b. ograniczeniu prawa własności na nieruchomości
- c. pozbawieniu prawa własności na nieruchomości
- d. ograniczeniu prawa użytkowania wieczystego na nieruchomości

Pytanie **8**

Punkty maks.:  
1,00

Państwowy zasób geodezyjny i kartograficzny składa się z następujących zasobów:

Wybierz wszystkie poprawne:

- a. powiatowych
- b. gminnych
- c. centralnego
- d. wojewódzkich

Pytanie **9**

Punkty maks.:  
1,00

Spory między wojewodą a centralnym organem administracji rządowej rozstrzyga:

Wybierz wszystkie poprawne:

- a. dyrektor generalny urzędu wojewódzkiego
- b. minister właściwy do spraw administracji publicznej
- c. Prezes Rady Ministrów
- d. sąd administracyjny

Pytanie **10**

Punkty maks.:  
1,00

O usytuowaniu projektowanych sieci uzbrojenia terenu położonych w granicach terenu zamkniętego decyduje:

Wybierz wszystkie poprawne:

- a. podmiot, który włada siecią
- b. projektant w uzgodnieniu z inwestorem
- c. projektant w uzgodnieniu z podmiotem, który zarządza terenem zamkniętym
- d. inwestor

Pytanie **11**

Punkty maks.:  
1,00

Wyniki pomiaru kontrolnego, przy wykonywaniu pomiarów z wykorzystaniem technik satelitarnych GNSS, muszą spełniać warunki:

Wybierz wszystkie poprawne:

- a.  $dx \leq 0,09$  m i  $dy \leq 0,12$  m oraz  $dh \leq 0,09$  m jeżeli punkt kontrolny posiada określoną wysokość
- b.  $dx \leq 0,12$  m i  $dy \leq 0,12$  m oraz  $dh \leq 0,09$  m jeżeli punkt kontrolny posiada określoną wysokość
- c.  $dx \leq 0,09$  m i  $dy \leq 0,09$  m oraz  $dh \leq 0,12$  m jeżeli punkt kontrolny posiada określoną wysokość
- d.  $dx \leq 0,12$  m i  $dy \leq 0,12$  m oraz  $dh \leq 0,12$  m jeżeli punkt kontrolny posiada określoną wysokość

Pytanie **12**

Punkty maks.:  
1,00

Do podstawowych obowiązków kierownika budowy należy:

Wybierz wszystkie poprawne:

- a. potwierdzanie faktycznie wykonanych robót budowlanych
- b. kontrolowanie rozliczeń budowy na żądanie inwestora
- c. zapewnienie geodezyjnego wytyczenia obiektu
- d. prowadzenie dokumentacji budowy

Państwowy system odniesień przestrzennych tworzą:

Wybierz wszystkie poprawne:

Pytanie **13**Punkty maks.:  
1,00

- a. geodezyjny układ odniesienia oznaczony symbolem PL-ETRF89
- b. układ współrzędnych płaskich prostokątnych oznaczony symbolem PL-LAEA
- c. układ współrzędnych płaskich prostokątnych oznaczony symbolem PL-LCC
- d. układ wysokościowy oznaczony symbolem PL-EVRF2007-NH

Pytanie **14**Punkty maks.:  
1,00

Przy wykonywaniu geodezyjnych pomiarów sytuacyjnych pomija się punkty szczegółu terenowego, których odchylenie od linii prostej konturu tego szczegółu sytuacyjnego, ustalonej przez dwa sąsiednie pomierzone punkty:

Wybierz wszystkie poprawne:

- a. nie przekracza 0,30 m w przypadku II grupy szczegółów terenowych,
- b. nie przekracza 1,5 m w przypadku I grupy szczegółów terenowych,
- c. nie przekracza 0,70 m w przypadku III grupy szczegółów terenowych.
- d. nie przekracza 0,10 m w przypadku I grupy szczegółów terenowych,

Pytanie **15**Punkty maks.:  
1,00

Danymi ewidencyjnymi dotyczącymi działki ewidencyjnej są między innymi:

Wybierz wszystkie poprawne:

- a. oznaczenie dokumentów potwierdzających własność
- b. numer księgi wieczystej
- c. pole powierzchni części działki oddanej w dzierżawę
- d. oznaczenie jednostki rejestrowej gruntów, do której należy działka ewidencyjna

Pytanie **16**Punkty maks.:  
1,00

Trzeci człon identyfikatora ewidencyjnego materiału zasobu jest:

Wybierz wszystkie poprawne:

- a. kolejną liczbą naturalną w danym roku kalendarzowym
- b. czterocyfrową liczbą
- c. literą C, W lub P
- d. skrótem PL

Pytanie **17**Punkty maks.:  
1,00

Ewidencja gruntów i budynków obejmuje między innymi informacje:

Wybierz wszystkie poprawne:

- a. dotyczące właścicieli nieruchomości
- b. o wartości katastralnej nieruchomości
- c. o objęcia gruntu formą ochrony przyrody
- d. o położeniu gruntów

Pytanie **18**Punkty maks.:  
1,00

Materiały zasobu w postaci nieelektronicznej przyjęte do państwowego zasobu geodezyjnego i kartograficznego przetwarzają się sukcesywnie do postaci dokumentów elektronicznych nie dłużej niż:

Wybierz wszystkie poprawne:

- a. do dnia 31 grudnia 2022 r.
- b. do dnia 31 grudnia 2023 r.
- c. do dnia 31 grudnia 2024 r.
- d. do dnia 31 grudnia 2021 r.

Pytanie **19**Punkty maks.:  
1,00

Do wykonywania geodezyjnych pomiarów sytuacyjnych i wysokościowych z wykorzystaniem technik satelitarnych GNSS wykorzystuje się:

Wybierz wszystkie poprawne:

- a. system stacji referencyjnych ASG-EUPOS
- b. tylko system stacji referencyjnych ASG-EUPOS

- c. systemy stacji referencyjnych, jeżeli dane określające położenie tych stacji włączone zostały do zasobu, a serwisy tych systemów zapewniają osiągnięcie określonych przepisami dokładności określenia położenia szczegółów terenowych
- d. dowolny system stacji referencyjnych

Pytanie **20**

Punkty maks.:  
1,00

Mapę do celów prawnych sporządza się w skali:

Wybierz wszystkie poprawne:

- a. dostosowanej do obszaru objętego opracowaniem
- b. wszystkie odpowiedzi są poprawne
- c. zapewniającej czytelność rysunku mapy
- d. nie większej niż 1:5000

Pytanie **21**

Punkty maks.:  
1,00

Umieszczanie i utrzymywanie w należyłym stanie tabliczek z nazwami ulic w miejscowościach nie będących miastami należy do zadań:

Wybierz wszystkie poprawne:

- a. Sołtysa
- b. Gminy
- c. Właścicieli posesji bezpośrednio sąsiadujących z ulicą
- d. Powiatu

Pytanie **22**

Punkty maks.:  
1,00

Przeprowadzenie czynności klasyfikacyjnych w terenie obejmuje:

Wybierz wszystkie poprawne:

- a. ustalenie gęstości zadrzewień w lasach
- b. sporządzenie opisu fizjograficznego
- c. ustalenie zasięgów konturów typów gleb oraz klas bonitacyjnych
- d. ustalenie zbiorowisk roślinnych na łąkach trwałych i pastwiskach trwałych

Pytanie **23**

Punkty maks.:  
1,00

Pierwszy i drugi człon identyfikatora ewidencyjnego materiału przyjętego do centralnego zasobu geodezyjnego i kartograficznego to:

Wybierz wszystkie poprawne:

- a. Litera P i identyfikator TERYT
- b. Litera C i identyfikator TERYT
- c. Litera P i litery PL
- d. Litera C i litery PL

Pytanie **24**

Punkty maks.:  
1,00

Prezydent Rzeczypospolitej Polskiej:

Wybierz wszystkie poprawne:

- a. jest wybierany na 4-letnią kadencję
- b. kieruje administracją rządową
- c. jest najwyższym przedstawicielem Rzeczypospolitej Polskiej
- d. jest najwyższym zwierzchnikiem Sił Zbrojnych Rzeczypospolitej Polskiej

Pytanie **25**

Punkty maks.:  
1,00

W bazie BDOT500 gromadzi się informacje dotyczące:

Wybierz wszystkie poprawne:

- a. wód
- b. sieci uzbrojenia terenu
- c. budynków projektowanych
- d. rzeźby terenu

Pytanie **26**Punkty maks.:  
1,00

Co rozumie się pod pojęciem interoperacyjności zbiorów i usług danych przestrzennych?

Wybierz wszystkie poprawne:

- a. możliwość łączenia zbiorów danych przestrzennych
- b. opisane metadanymi zbiory danych przestrzennych
- c. współdzielenie usług danych przestrzennych z jednorazową interwencją manualną
- d. współdzielenie usług danych przestrzennych bez powtarzalnej interwencji manualnej

Pytanie **27**Punkty maks.:  
1,00

Członków wojewódzkiej komisji dyscyplinarnej do spraw odpowiedzialności zawodowej w dziedzinie geodezji i kartografii powołuje w drodze zarządzenia wojewoda na:

Wybierz wszystkie poprawne:

- a. pięcioletnią kadencję
- b. dwuletnią kadencję
- c. trzyletnią kadencję
- d. czteroletnią kadencję

Pytanie **28**Punkty maks.:  
1,00

Wywłaszczenie jest dopuszczalne, gdy jest dokonywane:

Wybierz wszystkie poprawne:

- a. pod budowę sklepów wielkopowierzchniowych
- b. dla powiększenia nieruchomości sąsiedniej, gdy jest to niezbędne, aby stała się działką budowlaną
- c. na cele organizacji pożytku publicznego
- d. na cele publiczne i za słusznym odszkodowaniem

Pytanie **29**Punkty maks.:  
1,00

Osnowa realizacyjna na obiektach budowlanych wymagających w trakcie użytkowania okresowego badania przemieszczeń obiektu i podłoża oraz odkształceń obiektu powinna być zaprojektowana:

Wybierz wszystkie poprawne:

- a. w sposób umożliwiający wykonanie pomiaru pierwotnego
- b. w sposób umożliwiający wykonanie pomiarów następnych
- c. w sposób określony przez kierownika budowy
- d. w dowolny sposób

Pytanie **30**Punkty maks.:  
1,00

Termin uważa się za zachowany, jeżeli przed jego upływem pismo zostało:

Wybierz wszystkie poprawne:

- a. wysłane w formie dokumentu elektronicznego do organu administracji publicznej, a nadawca otrzymał urzędowe poświadczenie odbioru
- b. złożone przez osobę pozbawioną wolności w administracji zakładu karnego
- c. nadane w polskiej placówce pocztowej operatora wyznaczonego w rozumieniu ustawy z dnia 23 listopada 2012 r. – Prawo pocztowe albo placówce pocztowej operatora świadczącego pocztowe usługi powszechne w innym państwie członkowskim Unii Europejskiej, Konfederacji Szwajcarskiej albo państwie członkowskim Europejskiego Porozumienia o Wolnym Handlu (EFTA) – stronie umowy o Europejskim Obszarze Gospodarczym
- d. złożone w polskim urzędzie konsularnym

Pytanie **31**Punkty maks.:  
1,00

Źródłami danych wykorzystywanych przy zakładaniu albo modernizacji ewidencji są:

Wybierz wszystkie poprawne:

- a. dane zawarte w dokumentach udostępnionych przez zainteresowane osoby, organy i jednostki organizacyjne
- b. wyniki pomiarów fotogrametrycznych
- c. dane zawarte w innych ewidencjach i rejestrach
- d. wyniki pomiarów geodezyjnych lub oględzin

Pytanie **32**Punkty maks.:  
1,00

Obiektem trwale związanym z budynkiem jest:

Wybierz wszystkie poprawne:

- a. schody
- b. garaż
- c. podpora
- d. piwnica

Pytanie **33**Punkty maks.:  
1,00

W trybie przepisów ustawy – Prawo geodezyjne i kartograficzne dla obszaru kraju zakłada się i prowadzi w systemie teleinformatycznym bazy danych następujących rejestrów publicznych:

Wybierz wszystkie poprawne:

- a. geodezyjna ewidencje sieci uzbrojenia terenu
- b. krajowy rejestr podziału terytorialnego kraju (TERYT)
- c. ewidencja miejscowości ulic i adresów
- d. państwowy rejestr nazw geograficznych

Pytanie **34**Punkty maks.:  
1,00

Materiałom gromadzonym w państwowym zasobie geodezyjnym i kartograficznym nadawany jest identyfikator składający się z:

Wybierz wszystkie poprawne:

- a. trzech członów oddzielonych kropkami
- b. dwóch członów oddzielonych kropkami
- c. pięciu członów oddzielonych kropkami
- d. czterech członów oddzielonych kropkami

Pytanie **35**Punkty maks.:  
1,00

Wypisy i wyrisy:

Wybierz wszystkie poprawne:

- a. nie podlegają udostępnieniu
- b. udostępnia się w postaci dokumentu elektronicznego lub w postaci papierowej
- c. udostępnia się wyłącznie w postaci papierowej
- d. udostępnia się wyłącznie w postaci dokumentu elektronicznego

Pytanie **36**Punkty maks.:  
1,00

Ewidencja materiałów zasobu zawiera:

Wybierz wszystkie poprawne:

- a. położenie przestrzenne obszaru, którego dotyczy materiał zasobu
- b. informację o dostępie do materiału zasobu
- c. datę przyjęcia materiału do zasobu
- d. określenie formatu danych materiału zasobu

Pytanie **37**Punkty maks.:  
1,00

Legalnymi jednostkami miar są:

Wybierz wszystkie poprawne:

- a. jednostki miar, przyjęte i zalecane przez Prezesa Głównego Urzędu Miar
- b. jednostki nienależące do międzynarodowego Układu jednostek Miar (SI), dopuszczone do stosowania na terytorium Rzeczypospolitej Polskiej
- c. jednostki miar, przyjęte i zalecane przez Parlament Unii Europejskiej
- d. jednostki Międzynarodowego Układu Jednostek Miar (SI)

Pytanie **38**Punkty maks.:  
1,00

Zawiadomienie o czynnościach podjętych w celu ustalenia przebiegu granic działek ewidencyjnych wykonawca prac geodezyjnych doręcza:

Wybierz wszystkie poprawne:

- a. właścicielom

- b. użytkownikom gruntów państwowych
- c. użytkownikom wieczystym
- d. sąsiadom

Pytanie **39**Punkty maks.:  
1,00

Na postanowienie o wszczęciu postępowania o rozgraniczenie nieruchomości:

Wybierz wszystkie poprawne:

- a. nie służy zażalenie
- b. służy odwołanie
- c. służy skarga
- d. służy zażalenie

Pytanie **40**Punkty maks.:  
1,00

W rozumieniu kodeksu postępowania administracyjnego Prezes Rady Ministrów lub właściwi ministrowie są organami naczelnymi w stosunku do:

Wybierz wszystkie poprawne:

- a. organów jednostek samorządu terytorialnego
- b. samorządowych kolegiów odwoławczych
- c. organów administracji rządowej
- d. organów państwowych i samorządowych jednostek organizacyjnych

Pytanie **41**Punkty maks.:  
1,00Ze względu na wymaganą dokładność określenia położenia punktów szczegółów terenowych wyróżnia się I, II i III grupę szczegółów terenowych, do grupy III nie są zaliczone szczegóły:

Wybierz wszystkie poprawne:

- a. sztuczne zbiorniki wodne
- b. odkrywki glebowe dla potrzeb gleboznawczej klasyfikacji gruntów
- c. zieleńce
- d. oddziały leśne na obszarach lasów i parków narodowych

Pytanie **42**Punkty maks.:  
1,00

Do jakiej kategorii obiektów topograficznych (BDOT500) należy obiekt "fontanna":

Wybierz wszystkie poprawne:

- a. wody
- b. sport i rekreacja
- c. budowle
- d. zagospodarowanie terenu

Pytanie **43**Punkty maks.:  
1,00

Projektant, w trakcie realizacji budowy, ma prawo:

Wybierz wszystkie poprawne:

- a. prowadzenia dokumentacji budowy
- b. wstępu na teren budowy i dokonywania zapisów w dzienniku budowy dotyczących ich realizacji
- c. żądania wpisem do dziennika budowy wstrzymania robót budowlanych w razie stwierdzenia możliwości powstania zagrożenia
- d. sporządzić, przed rozpoczęciem budowy plan bezpieczeństwa i ochrony zdrowia

Pytanie **44**Punkty maks.:  
1,00

Od orzeczeń wojewódzkiej komisji dyscyplinarnej orzekającej w sprawach odpowiedzialności zawodowej w dziedzinie geodezji i kartografii stronom służy odwołanie do:

Wybierz wszystkie poprawne:

- a. Odwoławczej Komisji Dyscyplinarnej za pośrednictwem wojewódzkiej komisji dyscyplinarnej, która wydała zaskarżoną decyzję
- b. Głównego Geodety Kraju za pośrednictwem wojewódzkiej komisji dyscyplinarnej, która wydała zaskarżoną decyzję

- c. ministra właściwego w sprawach budownictwa, planowania i zagospodarowania przestrzennego oraz mieszkalnictwa
- d. właściwego miejscowo wojewody za pośrednictwem wojewódzkiej komisji dyscyplinarnej, która wydała zaskarżoną decyzję

Pytanie **45**Punkty maks.:  
1,00

Rejestr prac geodezyjnych i kartograficznych zawiera dane określające:

Wybierz wszystkie poprawne:

- a. daty doręczenia wykonawcy prac geodezyjnych protokołów weryfikacji
- b. wysokość opłaty za udostępnione materiały zasobu
- c. cel zgłoszonych prac geodezyjnych
- d. identyfikator wykonawcy wskazany w zgłoszeniu prac geodezyjnych

Pytanie **46**Punkty maks.:  
1,00

Prawnej kontroli metrologicznej podlegają przyrządy pomiarowe, które mogą być stosowane:

Wybierz wszystkie poprawne:

- a. w ochronie bezpieczeństwa
- b. w ochronie środowiska
- c. w ochronie porządku publicznego
- d. w ochronie praw konsumenta

Pytanie **47**Punkty maks.:  
1,00

Księgi wieczyste :

Wybierz wszystkie poprawne:

- a. prowadzi się w celu ustalenia stanu prawnego nieruchomości
- b. są zastrzeżone
- c. prowadzi się w celu zabezpieczenia hipoteki
- d. prowadzi się w celu ustalenia stanu faktycznego nieruchomości

Pytanie **48**Punkty maks.:  
1,00

Kod SUKS to kod dla następującego obiektu bazy GESUT:

Wybierz wszystkie poprawne:

- a. studnia głębinowa
- b. kratka ściekowa
- c. studnia zwykła
- d. studnia kanalizacyjna

Pytanie **49**Punkty maks.:  
1,00

Uzgodnienie projektu modernizacji ewidencji gruntów i budynków z właściwym miejscowo wojewódzkim inspektorem nadzoru geodezyjnego i kartograficznego następuje w terminie:

Wybierz wszystkie poprawne:

- a. 14 dni od dnia otrzymania wniosku przez wojewódzkiego inspektora nadzoru geodezyjnego i kartograficznego
- b. dwóch miesięcy od dnia otrzymania wniosku przez wojewódzkiego inspektora nadzoru geodezyjnego i kartograficznego
- c. 30 dni od dnia otrzymania wniosku przez wojewódzkiego inspektora nadzoru geodezyjnego i kartograficznego
- d. jednego miesiąca od dnia otrzymania wniosku przez wojewódzkiego inspektora nadzoru geodezyjnego i kartograficznego

Pytanie **50**Punkty maks.:  
1,00Danymi ewidencyjnymi dotyczącymi budynku nie są:

Wybierz wszystkie poprawne:

- a. rok zakończenia budowy
- b. numer rejestru zabytków
- c. informacja o materiale, z którego zbudowane są zewnętrzne ściany budynku



- d. łączne pole powierzchni użytkowej lokali niewyodrębnionych

Pytanie **51**

Punkty maks.:  
1,00

Materiały przyjęte do zasobu w postaci nieelektronicznej przetwarzają się do dokumentu elektronicznego zapisanego w formacie PDF:

Wybierz wszystkie poprawne:

- a. w terminie 30 dni od uzyskania pozytywnego protokołu weryfikacji
- b. w terminie 7 dni od uzyskania pozytywnego protokołu weryfikacji
- c. niezwłocznie
- d. w terminie 14 dni od uzyskania pozytywnego protokołu weryfikacji

Pytanie **52**

Punkty maks.:  
1,00

Szkic tyczenia zawiera m.in.

Wybierz wszystkie poprawne:

- a. wyniki pomiaru kontrolnego wytyczonych elementów obiektów
- b. podpis inwestora
- c. rysunek obiektów podlegających wytyczeniu
- d. podpis kierownika budowy

Pytanie **53**

Punkty maks.:  
1,00

Załatwienie sprawy w postępowaniu uproszczonym powinno nastąpić:

Wybierz wszystkie poprawne:

- a. w ciągu 21 dni od dnia wszczęcia postępowania
- b. w ciągu 14 dni od dnia wszczęcia postępowania
- c. w ciągu 7 dni od dnia wszczęcia postępowania
- d. niezwłocznie, nie później niż w terminie miesiąca od dnia wszczęcia postępowania

Pytanie **54**

Punkty maks.:  
1,00

Identyfikator jednostek podziału terytorialnego kraju jest:

Wybierz wszystkie poprawne:

- a. trzyczłonowy
- b. dwuczłonowy
- c. jednoczłonowy
- d. kombinacją cyfr i liter z alfabetu greckiego

Pytanie **55**

Punkty maks.:  
1,00

Jakie obiekty przedstawia poniższy znak kartograficzny:



Wybierz wszystkie poprawne:

- a. punkt graniczny pośredni niestabilizowany
- b. punkt graniczny stabilizowany
- c. punkt pośredni granicy państwa stabilizowany trwale
- d. punkt graniczny niestabilizowany

Pytanie **56**

Punkty maks.:  
1,00

Klauzulę tajności dokumentu zawierającego informacje niejawne nadaje:

Wybierz wszystkie poprawne:

- a. kierownik kancelarii tajnej
- b. kierownik jednostki organizacyjnej w której są wytwarzane dokumenty niejawne
- c. osoba, która jest uprawniona do podpisania dokumentu lub oznaczenia innego niż dokument materiału
- d. pełnomocnik ochrony

Pytanie **57**

Punkty maks.:  
1,00

Mapa zasadnicza to wielkoskalowe opracowanie kartograficzne, zawierające informacje o przestrzennym usytuowaniu:

Wybierz wszystkie poprawne:

- a. sieci uzbrojenia terenu
- b. punktów osnowy pomiarowej
- c. konturów użytków gruntowych
- d. urządzeń budowlanych

Pytanie **58**

Punkty maks.:  
1,00

Do dóbr osobistych człowieka należą :

Wybierz wszystkie poprawne:

- a. nazwisko lub pseudonim
- b. cześć
- c. zdrowie
- d. swoboda sumienia

Pytanie **59**

Punkty maks.:  
1,00

Droga powiatowa (w rozumieniu ustawy o drogach publicznych) powinna spełniać wymagania techniczne i użytkowe określone dla następujących klas:

Wybierz wszystkie poprawne:

- a. G
- b. Z
- c. L
- d. GP

Pytanie **60**

Punkty maks.:  
1,00

W przypadku obiektów liniowych prezentowanych na mapie zasadniczej za pomocą znaku niesymetrycznego element znaku umieszcza się:

Wybierz wszystkie poprawne:

- a. po lewej stronie linii
- b. na środku linii
- c. po prawej stronie linii
- d. w dowolnym miejscu linii